


MATEMÁTICA

BÁSICA SUPERIOR

8.º, 9.º y 10.º Grado



Ministerio de Educación

Equipo Técnico

Enoc Felipe Quishpe Guano
Duraymi Huete Chávez

ISBN: 978-9942-22-414-9

Equipo Técnico de Editorial Don Bosco
Gerente General de Editorial Don Bosco

Marcelo Mejía Morales

Dirección Editorial

Paúl F. Córdova Guadamud

Editora de área

Angelina Gajardo Valdés

Autores

Valeria Arias Dousdebes
Christian Ronald Armendariz Zambrano

Diseño y diagramación

Pamela Alejandra Cueva Villavicencio
Alexander Castro Cepeda
Israel Ponce Silva
Juan Fernando Bolaños Enríquez

Ilustración

Marco Antonio Ospina Belalcázar
Archivo Editorial Don Bosco

Edición 2023

© Ministerio de Educación
Av. Amazonas N34-451 y Av. Atahualpa
Quito-Ecuador
www.educacion.gob.ec

Ministerio de Educación



La reproducción parcial o total de esta publicación, en cualquier forma y por cualquier medio mecánico o electrónico, está permitida siempre y cuando sea autorizada por el Ministerio de Educación y se cite correctamente la fuente.


DISTRIBUCIÓN GRATUITA
PROHIBIDA SU VENTA

Conozca su libro



Repaso de algunos contenidos básicos que necesitará para abordar los temas del libro.

Presentación del objetivo de la unidad temática e introducción a los contenidos.



Cada tema empieza por su título y la destreza con criterios de desempeño que logrará.

Aplicación para la vida

Como se puede ver por la definición del valor absoluto, este nos permite conocer una distancia a recorrer en un viaje sin importar la dirección; también nos ayuda a identificar el valor de una deuda. Por ejemplo, cuando decimos que alguien debe \$8, se considera como -8 pero la cantidad que se debe es 8 no -8.

Explicación de cómo algún aspecto del tema estudiado se puede relacionar directamente con su vida cotidiana.

Mundo Digital

Si accede a la página <https://goo.gl/zEJUZb>, encontrará distintos ejemplos que ilustran cómo varían el error absoluto y relativo en función de las cifras significativas que se escojan en la aproximación.

Actividades que requieren el uso de tecnologías de la información y la comunicación como herramientas de investigación.



Desde la Contabilidad

En el mundo de los negocios justamente cuando entran en juego los números negativos, que permiten trabajar sobre todo en los campos de la contabilidad y finanzas. Estos últimos se utilizan para poder representar deudas o pasivos, y actuando como una resta o disminución respecto a los naturales.

Conexión del tema con otras áreas de conocimiento para tener un aprendizaje interdisciplinario.

Trabajos individuales que le ayudarán a concretar el desarrollo de la destreza con criterio de desempeño.

Trabajos colaborativos ubicados al final de la unidad o en temas cuyas destrezas requieren desarrollar el aprendizaje grupal.



Actividades de base estructurada, semiestructurada y de desarrollo que le permitirán evaluar el aprendizaje.

Indicadores que le permiten autoevaluar el logro de los criterios propuestos por el Ministerio de Educación.

Contenidos

Unidad 0	6	4. Aplicaciones de los números racionales	52
Unidad 1	12	5. Ecuaciones e inecuaciones de primer grado	53
1. Operaciones básicas con números enteros	13	5.1. Ecuaciones e inecuaciones lineales con una incógnita	53
1.1. Propiedades de los números enteros	13	5.2. Aplicación de la ecuaciones e inecuaciones lineales con una incógnita	55
1.2. Representación en la recta numérica de los números enteros	16	6. Números irracionales	57
1.3. Operaciones combinadas con adición, sustracción y multiplicación	19	6.1. Propiedades de los números irracionales	57
1.4. Aplicaciones de operaciones combinadas	22	6.2. Números irracionales expresados como radicales	60
2. Potenciación y radicación con números enteros	25	7. Introducción a los polinomios	62
2.1. Raíces de números naturales en operaciones combinadas	28	7.1. Propiedades básicas de los polinomios de primero y segundo grado	62
3. Ecuaciones simples	30	Unidad 3	68
3.1. Introducción a las ecuaciones de primer grado con una incógnita	30	1. Los números reales	69
3.2. Aplicaciones de las ecuaciones de primer grado con una incógnita	32	1.1. Propiedades de los números reales	69
3.3. Introducción a los números racionales	35	1.2. Operaciones básicas con números reales	71
Unidad 2	40	1.3. Suma y multiplicación de números reales	74
1. Números racionales	41	1.4. Productos Notables	76
1.1. Representación de fracciones sobre la recta	41	1.5. Radicación con reales	80
1.2. Fracciones a decimales	42	1.6. Potencias de base real y exponente entero	84
1.3. Representación y orden de números decimales	43	1.7. Potenciación de números reales no negativos con exponentes racionales	88
2. Propiedades de los números racionales	46	2. Ecuaciones de primer grado con una incógnita con números reales	90
2.1. Suma y resta	46	2.1. Representación de intervalos de números reales	94
2.2. Multiplicación	46	Unidad 4	98
2.3. División	47	1. Lógica proposicional	99
2.4. Operaciones combinadas	48	1.1. Leyes de la lógica proposicional	99
3. Operaciones con números racionales	49	1.2. Tautología y tablas de verdad	102
3.1. Potencia de una fracción	49	2. Operación entre conjuntos	108

3. Teorema de Tales	111
3.1. Triángulos semejante y posición de Tales	114
3.2. Simetría en figuras geométricas	117
4. Triángulos	118
4.1. Construcción de triángulos	120
4.2. Congruencia de triángulos	123

Unidad 5 126

1. Introducción a la estadística	127
1.1. Organización y representación de datos estadísticos	127
1.2. Representación de datos estadísticos por medio de las TIC	132
1.3. Estadística usando programas informáticos	138
1.4. Metodologías usadas en estadística	144
1.5. Variables estadísticas	148
1.6. Ordinal, intervalo y razón	152

Unidad 6 156

1. Producto cartesiano	157
1.1. Propiedades del producto cartesiano	158
1.2. Diagramas de Venn	160
1.3. Definición intuitiva de función	163
1.4. Dominio y recorrido de funciones	166
2. Funciones lineales	169
2.1. Características de las funciones lineales	173
2.2. Gráfica de una función lineal	174
3. Funciones polinómicas básicas	177
3.1. Características de las funciones de segundo grado	177
3.2. Funciones y problemas de aplicación	180

Unidad 7 184

1. Sistemas con ecuaciones lineales	185
1.1. Características de los sistemas de ecuaciones lineales	185
1.2. Método de Cramer	188
1.3. Problemas de sistemas de ecuaciones	191

1.4. Aplicaciones de los sistemas de inecuaciones lineales	193
2. Funciones cuadráticas	195
2.1. Características de las funciones cuadráticas	195
2.2. Completación de cuadrados	198
2.3. Raíces de la función cuadrática	203
2.4. Aplicaciones de las funciones cuadráticas	210

Unidad 8 214

1. Polígonos	215
1.1. Problemas de perímetros y áreas	216
1.2. Aplicaciones de puntos notables y rectas	219
2. Relaciones trigonométricas	223
2.1. Relaciones trigonométricas básicas	223
2.2. Aplicaciones del Teorema de Pitágoras	227
2.3. Circunferencia goniométrica	229
2.4. Propiedades y relaciones de las razones trigonométricas	230
3. Cuerpos geométricos	232
3.1. Poliedros	232
3.2. Poliedros regulares	233
3.3. Prismas	235
3.4. Pirámides	236
3.5. Cuerpos de revolución	237
3.6. Áreas de cuerpos geométricos	239
3.7. Volúmenes de cuerpos geométricos	242

Unidad 9 248

1. Estadísticas	249
1.1. Medidas de tendencia central	249
1.2. Medidas de dispersión para datos no agrupados	252
1.3. Medidas de dispersión para datos agrupados	254
2. Medidas de posición estadística	255
2.1. Cuartiles, deciles y percentiles	255
3. Probabilidad	257
3.1. Definición de probabilidad	257
3.2. Métodos de conteo	263






Para empezar

- ¿Cuántos pasos cuentas?
- La distancia y los pasos, ¿qué tipo de proporcionalidad son?
- La velocidad con la que caminas y el tiempo que te demoras, ¿qué clase de proporcionalidad son?

Sucesiones

- ¿Qué es una sucesión?
- Encuentra el criterio de formación de estas sucesiones:
 - 1, 4, 7, 10, 13, 16, 19, 22.....
 - 3, 8, 13, 18, 23, 28, 33, 38.....
 - 1, 8, 27, 64, 125, 216.....
 - 1, 1, 2, 3, 5, 8, 13.....
 - 1, 3, 6, 10, 15.....
 - 1, 4, 9, 16, 25.....
- Escribe el término que sigue en las sucesiones mostradas a continuación:
 - 3, 6, 12, 24, 48.....
 - 5, 10, 17, 26, 37, 50.....
 - 4, 9, 16, 25, 36.....
 - 6, 11, 18, 28, 37, 51.....
 - 3, 8, 15, 24, 35, 48.....
- Los números perfectos y los números amigos han creado una gran fascinación desde la época de los pitagóricos. Aun en la actualidad son objeto de estudio matemático. Lee este texto y responde las preguntas.



Los números perfectos son aquellos que son iguales a la suma de sus divisores, excepto él mismo. Los cuatro primeros números perfectos son: 6, 28, 496, 8128. Dos números enteros son amigos cuando la suma de los divisores propios de cada uno de ellos es igual al otro. La pri-

mera pareja de números amigos encontrados fue 220 y 284.

- ¿Existen números perfectos impares?
- ¿Puede un número primo ser perfecto?
- Demuestra que el número 28 es un número perfecto.
- Demuestra que los números 220 y 284 son amigos.



Aplicación para la vida

Las sucesiones pueden ser usadas para calcular los años de censos, revisiones de conteo de agua, luz o gas. También nos pueden ayudar a predecir resultados en campos como la biología, el deporte, la arquitectura, entre otros.

Procesos con números naturales

- Ordena y escribe el número posea: 3 decenas, 4 unidades, 5 centenas, 2 unidades de mil y 4 dcentenas de mil.
- Señala los múltiplos de 9 comprendidos entre 230 y 236.
- Calcule mentalmente las siguientes operaciones:
 - $4\ 000 + 8\ 000$
 - $90 + 30$
 - $500 + 400$
 - 1
 - $6\ 000 + 9\ 000$
 - _____ + 20 = 920
 - $400 + \text{_____} = 500$
 - $5\ 000 - 2\ 000$

8. Señala los divisores de 45.
9. Sin necesidad de hacer la división, señala si 4 536 es divisible para:
- 2
 - 3
 - 5
 - 6
 - 11

10. Escribe:

- Dos múltiplos de 8 mayores que 40 y menores que 100.
- Dos múltiplos de 4 mayores que 10 y menores que 20.

11. Efectúa la descomposición en factores primos de 4 200.
12. Escribe los números primos comprendidos entre 780 y 790.
13. Calcula el MCD de 120 y 252.
14. Calcula el MCM de 25 y 40.
15. El número más pequeño de tres cifras que es múltiplo de 8 y 25 a la vez es:
- 400
 - 220
 - 200


16. Dos atletas corren por una pista de atletismo. El primero tarda 60 s en dar una vuelta y el segundo 75 s. Si los dos atletas salen al mismo tiempo:
- ¿Al cabo de cuántos segundos vuelven a coincidir?
 - Cuando vuelvan a coincidir en la salida, ¿cuántas vueltas habrá dado el primero?
 - ¿Cuántas vueltas habrá dado el segundo cuando vuelvan a coincidir en la salida?

17. Marque la divisibilidad de cada número

Número	2	4	5	10
205				
320				
120				

18. Resuelve estos problemas:

- Una empresa tiene un líquido repartido en cuatro contenedores:



- uno de 18 L
- otro de 36 L
- otro de 24 L
- otro de 30 L

Para transportarlo, necesita repartir el líquido en contenedores más pequeños, todos ellos de igual capacidad, y que contengan la máxima capacidad del líquido.

- ¿Qué capacidad tendrán los contenedores para transportar el líquido?
 - ¿Cuántos contenedores necesitará?
- Una persona podría hacer una peregrinación a El Quinche en treinta días en razón de dieciocho kilómetros cada día, pero por una herida en el pie no puede hacer más de doce kilómetros por día. ¿Cuánto tiempo más tardará en hacer la peregrinación?
 - Sabemos que el número de personas que hay en un local es menor a setenta. No podemos hacer grupos de cinco personas, porque nos faltan dos personas y tampoco grupos de nueve por la misma razón. ¿Qué cantidad de gente hay?

Proporcionalidad

Si dos números son proporcionales, la multiplicación de los extremos es igual a la multiplicación de los medios.

$$2 : 4 :: 12 : 24$$

$$4 \times 12 = 48$$

$$2 \times 24 = 48$$

$$\frac{2}{4} = \frac{12}{24} \quad 2 \times 24 = 48$$

$$4 \times 12 = 48$$

19. Encuentra el término que falta en las proporciones.

a. $\frac{3}{10} = \frac{x}{70}$

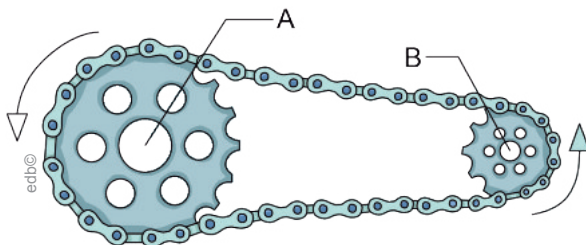
b. $\frac{9}{12} = \frac{4}{x}$

c. $\frac{1}{5} = \frac{3}{x}$

d. $\frac{x}{24} = \frac{2}{4}$

20. Resuelve estos problemas:

a. Dos engranajes se encuentran unidos con una misma cadena. El primero tiene un radio de 30 cm y el segundo de 10 cm. Cuando el primero ha dado 300 vueltas, ¿cuántas vueltas ha dado el segundo?



b. Si se utilizan once bueyes para labrar un campo rectangular de 200 m por 50 m en seis días, ¿cuántos serán necesarios para labrar un campo de 300 m por 100 m en cinco días?



Fracciones

21. Completa:

a. $\frac{1}{10}$ hora = minutos

b. $\frac{1}{12}$ hora = minutos

c. $\frac{1}{3}$ hora = minutos

22. Encierre con un círculo el literal de las fracciones que son equivalentes.

a. $\frac{35}{28}$ y $\frac{60}{48}$

b. $\frac{15}{35}$ y $\frac{21}{49}$

c. $\frac{8}{28}$ y $\frac{34}{119}$

d. $\frac{72}{118}$ y $\frac{42}{98}$

e. $\frac{6}{82}$ y $\frac{8}{109}$

f. $\frac{72}{42}$ y $\frac{102}{63}$

Área y perímetro

23. Escribe una fracción equivalente.

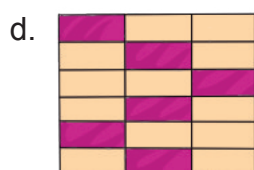
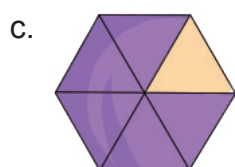
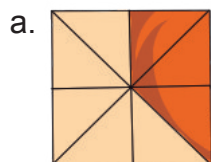
a. $\frac{4}{3} =$

b. $\frac{5}{2} =$

c. $\frac{4}{11} =$

d. $\frac{2}{13} =$

24. Escribe y nombra las siguientes fracciones.




25. Reduce estas fracciones a mínimo común denominador y ordénalas de mayor a menor.


$$\frac{12}{5}, \frac{4}{3}, \frac{7}{15}, \frac{3}{2}, \frac{8}{3}$$

26. Simplifica por el método de máximo común divisor (MCD) la fracción $\frac{44}{912}$.

27. El perímetro de un triángulo equilátero es de 3,6 dm y su altura es de 10,39 cm. ¿Cuál es su área en metros?



28. Un baobab necesita diez metros cuadrados de espacio para desarrollarse; mientras que un pino necesita solamente tres metros cuadrados; y un limonero, un metro cuadrado. Sabiendo que se quiere plantar la mayor cantidad posible de baobabs y rellenar el espacio sobrante con pinos y, finalmente, limoneros, ¿qué cantidad de cada árbol se puede plantar si el terreno es de 61 metros por 73 metros?



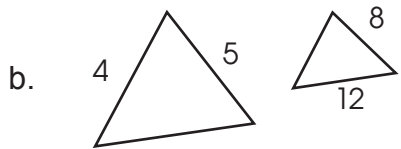
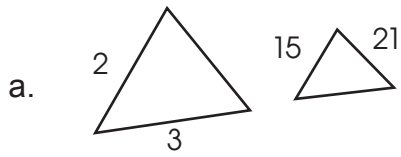
29. Se tiene un campo rectangular de 120 m por 60 m.

- ¿Cuántas hectáreas tiene?
- ¿Cuál es su precio si se vende a \$ 30 por metro cuadrado?

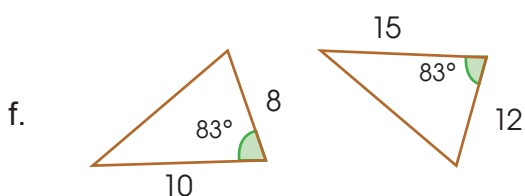
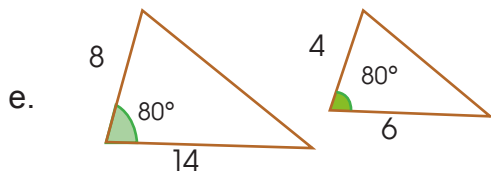
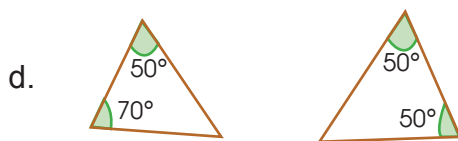
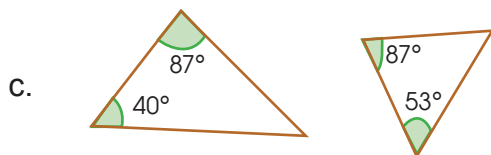
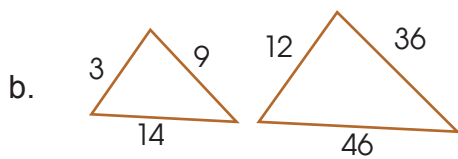
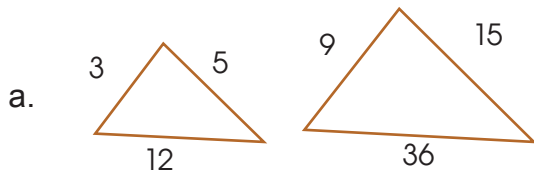
30. ¿Cuál es el área de un paralelogramo cuya altura mide 2 dm y su base mide tres veces su altura?

31. ¿Cuál es el área de la figura que resulta de unir los puntos medios de un rectángulo de lados 10 y 15 cm?

30. Calcula la longitud de los lados desconocidos en los siguientes pares de triángulos semejantes.

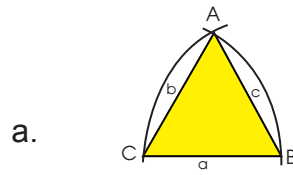


31. ¿Son semejantes los siguientes pares de triángulos?

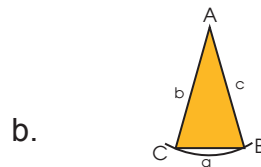


Sol: a. sí; b. no; c. sí; d. no; e. no; f. sí

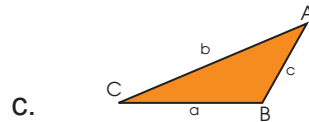
32. ¿Cuáles son las características de los siguientes tipos de triángulos?



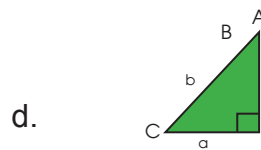
Triángulo equilátero



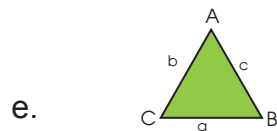
Triángulo isósceles



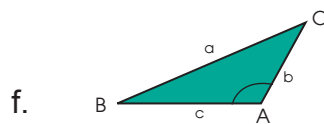
Triángulo escaleno



Triángulo rectángulo



Triángulo acutángulo



Triángulo obtusángulo



Recuperada de goo.gl/LP36dg

Para empezar

- ¿Puede contar los peces en el mar?
- Suponiendo que pesca tres peces por hora y su jornada es de cuatro horas, ¿cuántos peces habrá atrapado?
- Si debe pescar veinte peces en el día, ¿pudo completar la meta diaria?

Objetivo

Reconocer las relaciones que existen entre los conjuntos de números enteros, ordenarlos y operarlos para comprender los procesos matemáticos.

Introducción

En esta unidad se estudiarán los números enteros, sus propiedades y operaciones. Aprenderemos a representarlos en la recta numérica, para luego pasar a operaciones como la potenciación y la radicación.

También aprenderemos acerca de las ecuaciones de primer grado con una incógnita.

Contenidos

1. Operaciones básicas con números enteros

- 1.1. Propiedades de los números enteros
- 1.2. Representación en la recta de los números enteros
- 1.3. Operaciones combinadas con adición, sustracción y multiplicación
- 1.4. Aplicaciones de operaciones combinadas

2. Potenciación y radicación con números enteros

- 2.1. Potencia con números enteros y exponentes naturales
- 2.2. Raíces de números naturales en operaciones combinadas

3. Ecuaciones simples

- 3.1. Introducción a las ecuaciones de primer grado con una incógnita
- 3.2. Aplicaciones de las ecuaciones de primer grado con una incógnita

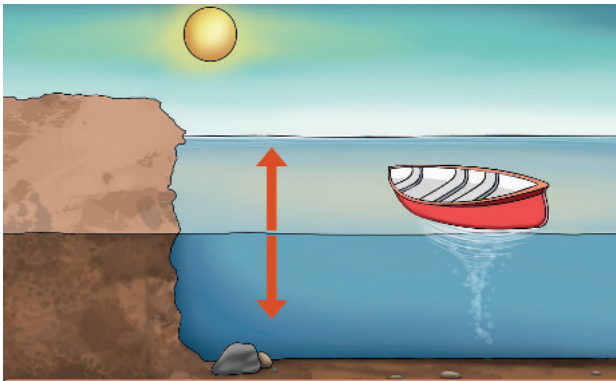
1. Operaciones básicas con números enteros

1.1. Propiedades de los números enteros

D.C.D. M.4.1.1. Reconocer los elementos del conjunto de números enteros \mathbb{Z} , ejemplificando situaciones reales en las que se utilizan los números enteros negativos y mejorando las habilidades en actividades transaccionales.

Con los **números naturales** no era posible realizar restas donde el minuendo era menor que el sustraendo, pero, en la vida real, nos encontramos con operaciones de este tipo donde a un número menor hay que restarle uno mayor.

Algunas de estas situaciones son: la necesidad de representar el dinero adeudado, la temperatura bajo cero, la profundidad del nivel del mar, entre otras.

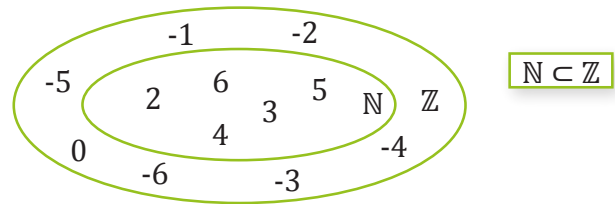


Representación gráfica de números naturales.

En la siguiente figura podemos observar números naturales precedidos por los signos + y -. Todos ellos forman parte del **conjunto** de los **números enteros**.



El **conjunto de números enteros** \mathbb{Z} es aquel que contiene los números naturales, $\{1, 2, 3, \dots\}$, y, adicionalmente, contiene sus contrapartes negativas.



Los enteros son parte de los números reales, cuya clasificación es más amplia que los enteros.

Los números enteros se dividen en tres partes:

1. Enteros positivos o números naturales
2. Enteros negativos
3. Cero



Trabajo individual

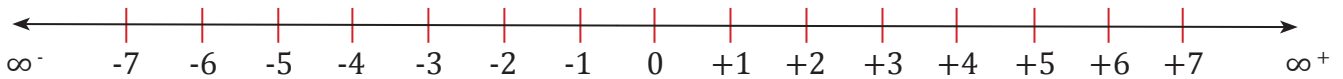
1. Relacione con una línea los números con su clasificación
 - a. -7
 - b. 10
 - c. -4
 - d. -1
 - f. 3
 - g. -99
 1. Entero positivo
 2. Entero negativo

Mundo Digital

Puedes demostrar lo que entendiste ingresando a la página web de *Vitutor*, entrar en *Ejercicios interactivos* y, en *Números enteros* o en el enlace: <https://goo.gl/bzMWVY>, contestar las preguntas.

Responde: ¿Todo número entero es natural?

Los números enteros pueden ser representados sobre una recta de esta manera:



Los números enteros positivos se ubican a la derecha del 0; y los números enteros negativos a la izquierda del 0.

A partir de esta representación, podemos ordenarlos. Dados dos números enteros cualesquiera, es más grande el que se encuentra más a la derecha sobre la recta.



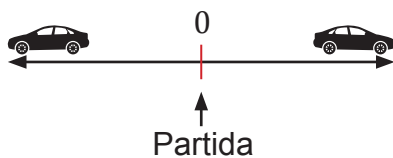
$$-6 < -4 < 0 < +1 < +5$$

Valor absoluto

El *valor absoluto de un número entero positivo o negativo* es el número natural que obtenemos al prescindir de su signo y lo representamos escribiendo el número entero entre dos barras verticales.

$$|-8|=8 \quad |-14|=14 \quad |7|=7$$

Una manera sencilla de entender el valor absoluto de un número es imaginar dos vehículos que parten de un mismo lugar, pero en direcciones opuestas y a la misma velocidad.



¿Habrán recorrido la misma distancia después de un minuto?

Si tomamos el punto de partida como 0 en la recta numérica:



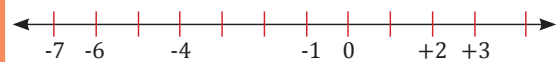
La distancia de cada auto hasta cero será la misma, pero el auto de la izquierda estará ubicado en la parte negativa de la recta; mientras que el de la derecha, en la parte positiva.

La distancia hasta el cero de un número cualquiera es su valor absoluto.

El número opuesto de un número es el que sumado al número original da un valor de cero. Así tenemos que el opuesto de +4 es -4. El opuesto de -8 es +8.

Ejemplo 1

Representemos estos números enteros sobre una recta, ordenémoslos de menor a mayor y determinemos su valor absoluto: 0, -4, +2, -6, +3, -7, -1.



El orden creciente es: $-7 < -6 < -4 < -1 < 0 < +2 < +3$.

Y los valores absolutos de estos números enteros son:

$$\begin{aligned} |-4| &= 4 & |-6| &= 6 & |-7| &= 7 \\ |+2| &= 2 & |+3| &= 3 & |-1| &= 1 \end{aligned}$$

Aplicación para la vida

Como se puede ver por la definición del valor absoluto, este nos permite conocer una distancia a recorrer en un viaje sin importar la dirección; también nos ayuda a identificar el valor de una deuda. Por ejemplo, cuando decimos que alguien debe \$8, se considera como -8 pero la cantidad que se debe es 8 no -8.

El número opuesto

El número opuesto de un número es el que, sumado al número original, da un valor de cero.

Así tenemos que el opuesto de +4 es -4. El opuesto de -8 es +8.

El número opuesto se indica de la siguiente manera:

$$\text{op}(+4) = -4 \qquad \text{op}(-8) = 8$$

Mundo Digital

Visite el siguiente enlace o en libros e internet, sobre algunos juegos de los números enteros como crucigramas, etc.

Puede usar como ayuda el siguiente enlace:

<https://goo.gl/9Wm8qu>

Luego imprima e intercambie las soluciones con tus compañeros de clase.

Trabajo individual

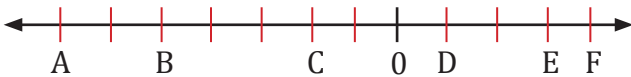
1. Expresa con números enteros estas situaciones:

- He ganado \$ 3. _____
- He retrocedido 5 m. _____
- Dentro de quince años. _____
- Hace treinta años. _____

2. Representa sobre una recta estos números enteros.

+3, -8, -12, 0, +7, -4.

3. Relaciona cada letra con un número entero.



4. Expresa, mediante una frase, el significado de los siguientes números enteros:

- 5, si +5 significa 'cinco grados sobre cero'.
- +2, si -2 significa que bajamos dos pisos.
- +623, si -100 significa que hemos perdido \$ 100.

5. Clasifica estos números enteros en positivos y negativos. Después, represéntalos sobre una recta y ordénalos de menor a mayor.


+9	-6
+12	-4
+5	-9
+10	-14
	-15
	-13
	-8

- ¿Cuál tiene el mayor valor absoluto?
— ¿Cuál tiene el menor?



6. Recuerda que el opuesto de el número entero es el mismo número cambiado de signo.

- Escribe los opuestos de los números de la actividad anterior.

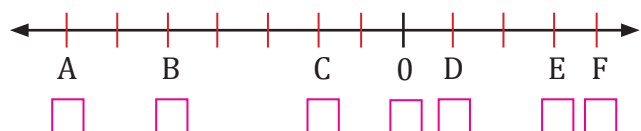


7. Representa sobre una recta los siguientes números.

+3, -8, -12, 0, +7, -4.



8. Relaciona cada letra con un número entero.



1.2. Representación en la recta numérica de los números enteros

D.C.D. M.4.1.2. Establecer relaciones de orden en un conjunto de números enteros utilizando la recta numérica y la simbología matemática ($=$, $<$, \leq , $>$, \geq), útiles al comparar precios, medidas, etc., en varios contextos.

Como se mencionó anteriormente, los números enteros pueden ser representados sobre una recta de esta manera:

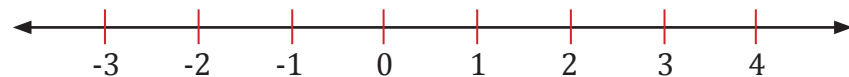
1. En una recta horizontal, se toma un punto cualquiera que se señala como cero.
2. A su derecha y a distancias iguales se van señalando los números positivos: 1, 2, 3...
3. A la izquierda del cero y a distancias iguales que las anteriores, se van señalando los números negativos: -1, -2, -3...




Ordenación de números enteros

Si ordenamos los números que representan las plantas del ascensor de un edificio, desde la inferior hasta la superior, tenemos:

$$-3 < -2 < -1 < 0 < 1 < 2 < 3 < 4$$

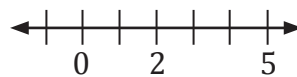
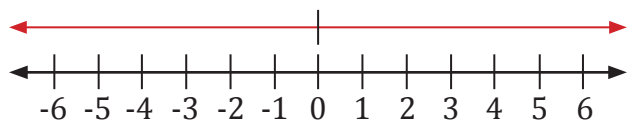


Observa que, al representarlos sobre la recta, el 4 queda a la derecha del 1, por lo que podemos asegurar que $1 < 4$. De la misma manera diremos que $-3 < -1$, ya que el -1 queda a la derecha del -3.

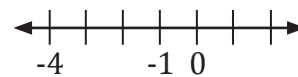


Representación gráfica de la recta numérica.

Dados dos números enteros cualesquiera, es **mayor** el que está **representado más a la derecha** sobre la recta.



$$\begin{array}{l} |5| = 5 \\ |2| = 2 \end{array} \quad \begin{array}{l} \backslash \\ 5 > 2 \Rightarrow 2 < 5 \\ / \end{array}$$



$$\begin{array}{l} |-4| = 4 \\ |-1| = 1 \end{array} \quad \begin{array}{l} \backslash \\ 4 > 1 \Rightarrow -4 < -1 \\ / \end{array}$$

Cualquier número entero **positivo** es **mayor que** cualquier número entero **negativo**.

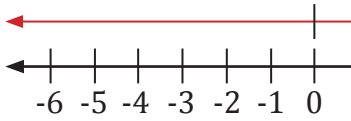
El **0** es **menor que** cualquier número entero **positivo** y **mayor que** cualquier número entero **negativo**.

El **mayor** de dos números enteros **positivos** es el que tiene **mayor valor absoluto**.

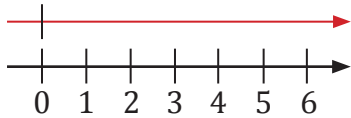
El **mayor** de dos números enteros **negativos** es el que tiene **menor valor absoluto**.

Criterios para ordenar los números enteros

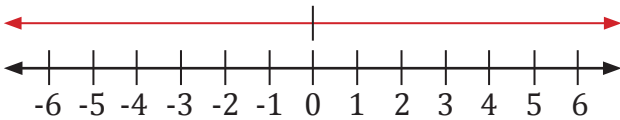
1. Todo número **negativo** es **menor que cero**.



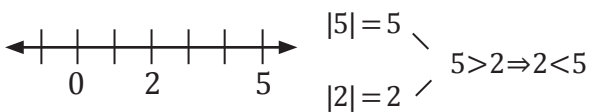
2. Todo número **positivo** es **mayor que cero**.



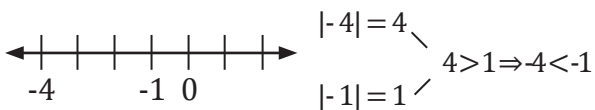
3. Cualquier número entero **positivo** es **mayor que** cualquier número entero **negativo**.



4. El **mayor** de dos números enteros **positivos** es el que tiene **mayor valor absoluto**.



5. El **mayor** de dos números enteros **negativos** es el que tiene **menor valor absoluto**.



Trabajo colaborativo

1. A continuación se presentan algunas situaciones, junto a un compañero

Lee cada enunciado y expresa como número entero:

a. Una ganancia de \$45 _____

b. Una pérdida de \$37 _____

c. 330 m sobre el nivel del mar _____

d. 140 m bajo el nivel del mar _____

e. Hace 10 años _____

f. 4 cuadras hacia atrás _____

2. Escribe cuál es el valor absoluto de:

a. -2

b. +3

c. 0

d. -5

e. -22

f. +14

Ejemplo 2

1. Escribe cuatro números enteros menores que 2 y otros cuatro mayores que -10.

Menores que 2

-4

-5

0

1

Mayores que -10

-5

-4

-7

0

2. Escribe cinco números enteros de manera que el mayor de ellos sea 1 y el menor -8.

1

0

-5

-7

-8

Ejemplo 3

Señalemos en cada uno de los siguientes pares de números enteros el mayor y representémoslos sobre una recta:

a. -11 y 8 b. 0 y -9 c. 0 y 4 d. 8 y 6 e. -7 y -6

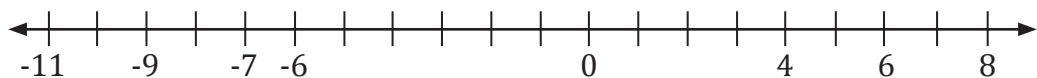
a. Un número entero positivo es mayor que cualquier número entero negativo: $8 > -11$.

b. El 0 es mayor que cualquier número entero negativo: $0 > -9$.

c. El 0 es menor que cualquier número entero positivo: $0 < 4 \Rightarrow 4 > 0$.

d. $|8| = 8 > |6| = 6$. El mayor de dos números enteros positivos es el que se encuentra más a la derecha. $8 > 6$.

e. $|-7| = 7 > |-6| = 6$. El mayor de dos números enteros negativos es el de menor valor absoluto: $-6 > -7$.



Ejemplo 4

Ordena de menor a mayor estos números enteros:



a. Primero comparamos entre los números negativos cuál tiene menor valor absoluto:

$$|-23| = 23 > |-2| = 2, 2 < 23 \Rightarrow -23 < -2$$

b. Todo número negativo es menor que 0: $-2 < 0$.

c. Todo número positivo es mayor que 0; por lo tanto, comparamos entre los números positivos cuál tiene el mayor valor absoluto:

$$|5| = 5 < |7| = 7, 5 < 7 \Rightarrow 7 > 5.$$

$$-23 < -2 < 0 < 5 < 7$$



Desde la Contabilidad

En el mundo de los negocios justamente es cuando entran en juego los números negativos, que permiten trabajar sobre todo en los campos de la contabilidad y finanzas. Estos últimos se utilizan para poder representar deudas o pasivos, y actuando como una resta o disminución respecto a los naturales.

Trabajo individual

2. Copia en tu cuaderno estos pares de números y escribe el signo $>$ o $<$ según corresponda:

-3.....8 -5.....8 0.....13
0.....-2 4.....9 4.....-10

3. Ordena de menor a mayor esta serie de números.

-7 12 -12 0 4 -1002 7 -20

4. Escribe cuatro números enteros menores que 6 y otros cuatro mayores que -15.

1.3. Operaciones combinadas con adición, sustracción y multiplicación

D.C.D. M.4.1.3. Operar en \mathbb{Z} (adición, sustracción, multiplicación) de forma numérica, aplicando el orden de operación, comprendiendo la utilidad de los paréntesis en la sintaxis matemática.

1.3.1. Adición o suma

Observa cómo sumamos los números enteros.

Suma de dos números enteros	
Del mismo signo	De diferente signo
<ul style="list-style-type: none"> Sumamos los valores absolutos de los sumandos y ponemos el mismo signo de los sumandos. $(-4) + (-5) = -9 \qquad (2) + (6) = 8$	<ul style="list-style-type: none"> Restamos los valores absolutos de los sumandos y ponemos el signo del sumando de mayor valor absoluto. $(-2) + (3) = 1 \qquad (5) + (-2) = 3$
Suma de diversos números enteros	
Primer procedimiento	Segundo procedimiento
<ul style="list-style-type: none"> Efectuamos las sumas en el orden en que aparecen. $\begin{aligned} (-4) + (6) + (5) + (-8) &= \\ &= (2) + (5) + (-8) = \\ &= (7) + (-8) = -1 \end{aligned}$	<ul style="list-style-type: none"> Sumamos los números enteros positivos. $(6) + (5) = 11$ Sumamos los números enteros negativos. $(-4) + (-8) = -12$ Sumamos los dos resultados obtenidos. $(11) + (-12) = -1$

Propiedades de la suma de números enteros

- Conmutativa:** Si cambiamos el orden de los sumandos, el resultado no varían $a + b = b + a$. $(-8) + 3 = 3 + (-8)$

- Asociativa:** En una suma de varios sumandos, el resultado no depende de cómo agrupemos los términos: $(a + b) + c = a + (b + c)$.

$$[(+3) + (-4)] + (-2) = (+3) + [(-4) + (-2)]$$

- Elemento neutro:** El 0 es el elemento neutro de la suma, porque, al sumar 0 a cualquier número entero, obtenemos dicho número:

$$a + 0 = 0 + a = a$$

$$(-13) + 0 = 0 + (-13) = -13$$

- Elemento opuesto:** El opuesto de un número entero es el número entero que sumado a él da 0: $a + op(a) = 0$.
 $(-7) + (+7) = 0$

Trabajo individual

- Calcula.
 - $(-7) + (-9) + (-3)$
 - $(-14) + (8) + (5)$
 - $(23) + (-17)$
 - $(-9) + (-16)$
- Calcula estas sumas de dos formas distintas.
 - $3 + (-7) + 12 + (-8) + 4$
 - $-6 + 25 + (-14) + (-7) + 4 + (-3)$
- Agrupar para sumar.

$$-5 + 8 + (-2)$$

1.3.2. Sustracción o resta

Para obtener el opuesto de un número entero basta con cambiarle el signo.

La existencia del elemento opuesto nos permite definir la resta de dos números enteros en una suma.

Fíjate en esta resta de números enteros:

$$(3) - (-7) = 10$$

Por lo tanto, podemos escribir:

$$(3) - (-7) = 3 + \text{op}(-7) = (3) + (7) = 10$$

También podemos obtener opuestos de una expresión cuando existe un signo menos enteramente fuera de un paréntesis:

$$-((12) + (-7)) = -(5) = \text{op}(5) = -5$$

Los paréntesis nos indican, en el caso de signos, a qué términos debemos aplicar la operación del opuesto.

Simplificación de la escritura

Podemos evitar el uso de paréntesis innecesarios en las operaciones de números enteros:

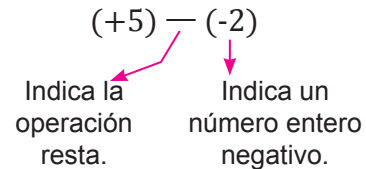
- Identificamos cada número entero positivo con un número natural y lo escribimos prescindiendo del signo y del paréntesis si no es necesario.

$$(4) = +4 = 4$$

- A partir de la definición de la resta, podemos simplificar la escritura de las operaciones con números enteros negativos.

$$(8) + (-2) = (8) - (2) = 8 - 2$$

Al trabajar con números enteros, el signo - puede tener dos significados diferentes:



Simplificación de la escritura en sumas y restas

- $(+6) + (+2) = 6 + 2$
- $(+6) + (-2) = 6 - 2$
- $(-6) + (+2) = -6 + 2$
- $(-6) + (-2) = -6 - 2$
- $(+6) - (+2) = 6 - 2$
- $(+6) - (-2) = 6 + 2$
- $(-6) - (+2) = -6 - 2$
- $(-6) - (-2) = -6 + 2$

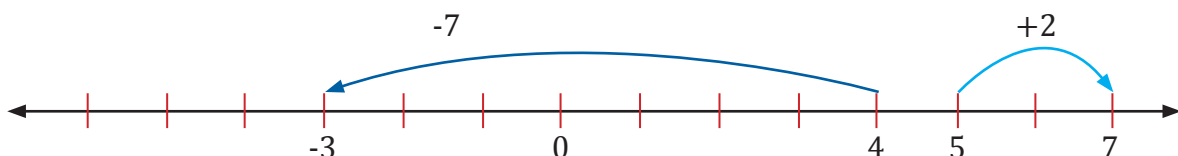
Resta de dos números enteros

- Sumamos al primero el opuesto del segundo.

$$(a) - (b) = (a) + \text{op}(b)$$

$$(4) - (7) = (4) + (-7)$$

$$(5) - (-2) = (5) + (2)$$



1.3.3. Multiplicación y división

Multiplicación

Según el lenguaje matemático, el signo (\times) de la multiplicación puede sustituirse por el signo (\cdot).

Multiplicamos los valores absolutos de los factores y ponemos el signo dado por la regla de los signos que se muestra a continuación.

•	+	-
+	+	-
-	-	+

Observa que, al aplicar la regla de los signos, el signo del producto es **positivo** si los dos factores tienen el **mismo signo**; y **negativo** si tienen **distinto signo**.

Propiedades de la multiplicación de números enteros

Dados cuatro números a , b , c y d

- **Conmutativa:** Si cambiamos el orden de los factores, el resultado no varía:

$$a \cdot b = b \cdot a.$$

$$-4 \cdot 2 = 2 \cdot -4$$

$$-8 = -8$$

- **Asociativa:** En un producto de diversos factores, el resultado no depende de cómo los agrupemos:

$$(a \cdot b) \cdot c = a \cdot (b \cdot c)$$

$$(-6 \cdot 7) \cdot 3 = -6 \cdot (7 \cdot 3)$$

$$-126 = -126$$

- **Elemento unidad:** El 1 es el elemento unidad de la multiplicación, porque, al multiplicar cualquier número entero por 1, obtenemos el mismo número:

$$a \cdot 1 = 1 \cdot a = a$$

$$-9 \cdot 1 = 1 \cdot -9$$

$$-9 = -9$$

- Propiedad distributiva de la multiplicación respecto de la suma: Esta propiedad nos permite sacar **factor común**:

$$a \cdot (b + c) = a \cdot b + a \cdot c$$

$$a \cdot b + a \cdot c + a \cdot d = a \cdot (b + c + d)$$

$$-15 + 20 + 5 = 5 \cdot (-3 + 4 + 1) = 5 \cdot (2) = 10$$

División

Dividimos sus valores absolutos y escribimos el signo dado por la regla de signos mostrada a continuación:

:	+	-
+	+	-
-	-	+

Observa que el cociente es **positivo** si el dividendo y el divisor tienen el **mismo signo**, y **negativo** si el dividendo y el divisor tienen **signos distintos**.

Trabajo individual

- Calcula estas sumas de dos formas distintas.

a. $3 + (-7) + 12 + (-8) + 4$

b. $(-6) + 25 + (-14) + (-7) + 4 + (-3)$

- Simplifica la escritura y calcula estas restas.

a. $(9) - (12)$

c. $(95) - (-22)$

b. $(-25) - (-25)$

d. $(12) - (34)$

- Saca el factor común y calcula.

a. $(-6) \cdot (-4) + (-4) \cdot 5 - 9 \cdot (-4)$

b. $5 \cdot (-7) - 5 \cdot (-3) - 8 \cdot 5$

- Calcula.

a. $(4) \times (2) \times (-9)$

c. $(-3) \times (4) \times (-7)$

b. $(-4) \times (1) \times 0$

d. $(3) \times (-5) \times (2)$

- Calcula.

a. $(-205) : (-5)$

b. $135 : (-9)$

c. $(-63) : (-7)$

1.4. Aplicaciones de operaciones combinadas

D.C.D. M.4.1.4. Aplicar las propiedades algebraicas (adición y multiplicación) de los números enteros en operaciones numéricas en problemas de la vida cotidiana.

Recordemos el orden que debemos seguir para efectuar operaciones combinadas de números enteros y para resolverlas mediante el uso de paréntesis o no.

Paréntesis ortográficos

Son los que tienen un número entero negativo y sirven para evitar dos signos seguidos.

Cuando nos encontremos dos signos + o - separados por un paréntesis ortográfico, lo podemos sustituir por un único signo.

$$\begin{aligned} + (-) &\rightarrow - & - (+) &\rightarrow - \\ - (-) &\rightarrow + & + (+) &\rightarrow + \end{aligned}$$

Paréntesis de prioridad

Son utilizados para establecer la prioridad de las operaciones combinadas.

$$3 \cdot (-5) + 10 - 2 \cdot (30 : 6 - 7)$$

paréntesis ortográficos
paréntesis de prioridad

Operaciones combinadas sin paréntesis

- En primer lugar, efectuamos las divisiones y luego las **multiplicaciones**.
- A continuación, calculamos las **sumas** y las **restas**.

$$\begin{array}{r} 32 + 25 : (-5) \cdot 3 \\ \underline{32 - 5 \cdot 3} \\ \underline{32 - 15} \\ 17 \end{array}$$

$$\begin{array}{r} 80 - 24 : (-3) \cdot 4 \\ \underline{80 + 8 \cdot 4} \\ \underline{80 + 32} \\ 112 \end{array}$$

Ejemplo 5

Efectuemos: $3 + 4 \cdot (-5)$.

Calculamos la multiplicación.

$$= 3 + (-20) = 3 - 20$$

Resolvemos la resta.

$$= -17$$



Mundo Digital

Al entrar a este enlace encontrarás un resumen de los números enteros:

- Definiciones
- Propiedades
- Operaciones

Puedes usarlo para conocer más acerca de este campo de estudio.

<https://goo.gl/zqC1HC>



Trabajo individual

13. Resuelva las siguientes operaciones

- $+6 + +3 + +5 =$
- $16 + -16 =$
- $-1 + -3 + -3 =$
- $-36 + 36 =$
- $8 + 10 + 13 =$
- $-33 + 15 =$
- $2 + -3 + -3 =$
- $+37 + -30 = 6 - (9 - 8) =$
- $5 - (2 - 3) =$
- $17 - (8 + -5) =$
- $(318 - 200) - 27 \cdot (-1) =$
- $10 \cdot (-2) - 7 \cdot (-1) - 5 \cdot 2 + 7 =$
- $3 - (5 \cdot 2) + 12 : (-7) - 4 \cdot (8 - 4) =$

Operaciones combinadas con paréntesis

- Primero, calculamos las operaciones indicadas dentro de los paréntesis.
- A continuación, efectuamos las multiplicaciones y las divisiones en el orden en que aparecen.
- Finalmente, solucionamos las sumas y las restas.

$$\begin{array}{r}
 14 - (9 + 24 : 4) \cdot 3 - 7 \\
 \downarrow \\
 14 - (9 + 6) \cdot 3 - 7 \\
 \downarrow \\
 14 - 15 \cdot 3 - 7 \\
 \downarrow \\
 14 - 45 - 7 \\
 \downarrow \\
 -31 - 7 \\
 -38
 \end{array}
 \qquad
 \begin{array}{r}
 3 \cdot (8 \cdot 4 + 12 : 3) - 20 \\
 \downarrow \quad \downarrow \\
 3 \cdot (32 + 4) - 20 \\
 \downarrow \\
 3 \cdot 36 - 20 \\
 \downarrow \\
 108 - 20 \\
 \downarrow \\
 88
 \end{array}$$

Ejemplo 6

Calculemos:

$$5 \cdot (-7 + 4) + 8 - 3 : (9 - 6) + 4 \cdot (-5 - 1)$$

- En primer lugar, resolvemos las operaciones de los paréntesis.

$$5 \cdot (-3) + 8 - 3 : (3) + 4 \cdot (-6)$$

- A continuación, efectuamos las multiplicaciones y las divisiones.

$$-15 + 8 - 1 - 24$$

- Finalmente, realizamos las sumas y las restas.

$$-15 - 1 - 24 + 8 = -32$$

Ejemplo 7

$$12 - (7 + 4 \cdot 3) - (4 \cdot 2 - 6) + (4 + 6 - 5 \cdot 3) + 3 - (5 - 8 : 2)$$

Primero, operamos los productos y cocientes de los paréntesis.

$$12 - (7 + 12) - (8 - 6) + (4 + 6 - 15) + 3 - (5 - 4)$$

A continuación, realizamos las sumas y restas dentro de los paréntesis, y simplificamos.

$$12 - 19 - 2 + (-5) + 3 - 1$$

Finalmente, realizamos las sumas y las restas.

$$\begin{array}{r}
 12 - 19 - 2 - 5 + 3 - 1 \\
 -12
 \end{array}$$

Además de los paréntesis, existen símbolos con mayor jerarquía: los corchetes.

Operaciones combinadas con paréntesis y corchetes

- Primero, efectuamos las operaciones indicadas dentro de los paréntesis.
- Sustituimos los corchetes por paréntesis y efectuamos las operaciones indicadas **dentro** de dichos paréntesis.
- Efectuamos las multiplicaciones y las divisiones en el orden en que aparecen.
- Finalmente, solucionamos las sumas y las restas.

$$-96 : [7 \cdot (3 - 6 - 2) + 3]$$

$$-96 : (7 \cdot (-5) + 3)$$

$$-96 : (-35 + 3)$$

$$-96 : (-32)$$

$$3$$

$$80 : [6 \cdot (2 + 3 - 9) + 8]$$

$$80 : (6 \cdot (-4) + 8)$$

$$80 : (-24 + 8)$$

$$80 : (-16)$$

$$-5$$

Operaciones combinadas con paréntesis y corchetes

Además de los paréntesis, existen símbolos con mayor jerarquía: los corchetes.

- Primero, se resuelven las operaciones de dentro hacia afuera, generalmente iniciamos con las que están dentro de los **paréntesis**.
- Sustituimos los **corchetes** por paréntesis y efectuamos las operaciones indicadas dentro de dichos **paréntesis**.
- Efectuamos las **multiplicaciones** y las **divisiones** en el orden en que aparecen.
- Finalmente, solucionamos las **sumas** y las **restas**.

$$-96 : [7 \cdot (3 - 6 - 2) + 3]$$

$$-96 : [7 \cdot (-5) + 3]$$

$$-96 : [-35 + 3]$$

$$-96 : (-32)$$

$$3$$

$$80 : [6 \cdot (2 + 3 - 9) + 8]$$

$$80 : [6 \cdot (-4) + 8]$$

$$80 : [-24 + 8]$$

$$80 : (-16)$$

$$-5$$

Ejemplo 8

Calculemos:

$$-2 \cdot [4 - (-7) \cdot (6 - 9)] - 5 : (9 - 4)$$

- Primero, calculamos las operaciones de los paréntesis.

$$-2 \cdot [4 + 7 \cdot (-3)] - 5 : 5$$

- Sustituimos los corchetes por paréntesis.

$$-2 \cdot (4 + 7 \cdot (-3)) - 5 : 5$$

- Resolvemos las operaciones indicadas dentro del paréntesis.

$$-2 \cdot (-17) - 5 : 5$$

- Finalmente, efectuamos las multiplicaciones y las divisiones en el orden en que aparecen.

$$34 - 1 = 33$$

Trabajo colaborativo

1. Formen equipos de trabajo y elaboren tres situaciones que se tengan que resolver con operaciones combinadas con números enteros; luego, compartan las actividades y resuelvan.
2. Calcula las siguientes operaciones combinadas.
 - a. $3 \cdot (-11) + 24 - 4$
 - b. $-16 \cdot 7 : 4 + 4 - 3$
 - c. $-6 \cdot (-12) - 24 - 5 + 1$
 - d. $-72 : 9 + 7 \cdot (-4) - 6$

3. Determina.

- a. $- [3 \cdot (4 - 6) - 2]$
- b. $2 - [-3 \cdot (2 - 3 - 6) + 8]$
- c. $2 \cdot [-9 \cdot (-9 + 3 - 6) + 5]$
- d. $-27 : [-3 \cdot (-9 - 6) - 72 : 2]$
- e. $-7 \cdot [5 \cdot (-2 + 6) - 2 \cdot (-5 + 9)]$
- f. $8 : (15 - 7) - [3 \cdot (4 - 6) - 2]$
- g. $9 : (12 - 3) - [3 \cdot (5 - 8) - 3]$
- h. $-3 \cdot [5 - (-7) \cdot (4 - 6)] : (6 - 3)$

2. Potenciación y radicación con números enteros

2.1. Potencia con números enteros y exponentes naturales

D.C.D. M.4.1.5. Calcular la potencia de números enteros con exponentes naturales en asociación con áreas y volúmenes en el caso de exponente 2 y 3.

Potencias de base entera y exponente natural

En ocasiones, encontramos multiplicaciones cuyos factores se repiten. Estos productos de factores iguales se llaman *potencias*.

$$4 \cdot 4 \cdot 4 = 4^3$$

En esta ocasión trabajaremos con una potencia está formada por la base a (número entero) y un exponente n (número natural). Esta operación consiste en la multiplicación de la base a por ella misma, las veces que indique el exponente n .

base — a ⁿ — exponente $4 \cdot 4 \cdot 4 = 4^3$

Una potencia de exponente 1 es igual a la base de esta potencia.

$$a^1 = a$$

Para obtener el signo de una potencia, seguimos estas reglas:

- Si el exponente es **par**, la potencia es siempre **positiva**.

$$3^2 = 3 \cdot 3 = 9 \quad (-3)^2 = (-3) \cdot (-3) = 9$$

- Si el exponente es **impar**, la potencia tiene el **mismo signo que la base**.

$$3^3 = 3 \cdot 3 \cdot 3 = 27$$

$$(-3)^3 = (-3) \cdot (-3) \cdot (-3) = -27$$

	Exponente		
		Par	Impar
Base	+	+	+
	-	+	-

Las potencias de exponente 2 se leen “elevadas al cuadrado” por su relación con un cuadrado. El área A de un cuadrado se calcula multiplicando lado por lado

$$A = l \cdot l = l^2$$

Por lo tanto se puede decir que el área, A de un cuadrado es igual a una potencia de exponente 2 y de base su lado l




En la primera potencia de exponente 2 se puede interpretar geoméricamente como el área de un cuadrado de lado igual a la base de la potencia.

Las potencias de exponente 3 se leen “elevadas al cubo”. En geometría en un cubo, los lados de cada cuadrado son comunes a dos caras y se llaman aristas (a) y son todas iguales

El volumen (V) de un cubo se obtiene multiplicando la arista de su largo por la de su ancho y por la de su alto, y como todas son iguales, se obtiene que:

$$V = a \cdot a \cdot a = a^3$$



Operaciones con potencias

Para operar con potencias de base entera y exponente natural, procedemos igual que en el caso de potencias de base natural.

- Multiplicación de potencias de la misma base: $a^m \cdot a^n = a^{m+n}$

$$(-4)^2 \cdot (-4)^3 = (-4)^{2+3} = (-4)^5$$

- División de potencias de la misma base:

$$a^m : a^n = a^{m-n}, m > n$$

$$6^5 : 6^3 = 6^{5-3} = 6^2$$

- Potencia de un producto: $(a \cdot b)^n = a^n \cdot b^n$

$$(-3 \cdot 5)^4 = (-3)^4 \cdot 5^4$$

- Potencia de una potencia: $(a^m)^n = a^{m \cdot n}$

$$[(-7)^3]^2 = (-7)^{3 \cdot 2} = (-7)^6$$

- Potencia con exponente negativo: $a^{-m} = \frac{1}{a^m}$

$$(-7)^{-2} = \left(\frac{1}{-7^2}\right) = \frac{1}{49}$$

Potencias de 10

Las potencias de 10 son útiles porque simplifican la escritura.

A cualquier **número entero seguido de ceros** lo podemos expresar como el producto de este número por una **potencia de 10 de exponente positivo**.

$$-90\ 000 = -9 \cdot 10\ 000 = -9 \cdot 10^4$$

A cualquier **número decimal con parte entera nula** lo podemos expresar como el producto de sus cifras decimales diferentes de 0 por una **potencia de 10 de exponente negativo**.

$$\begin{aligned} 0,000\ 000\ 4 &= \frac{4}{10\ 000\ 000} = \frac{4}{10^7} = \\ &= 4 \cdot \frac{1}{10^7} = 4 \cdot 10^{-7} \end{aligned}$$

A las potencias de 10 también las empleamos para expresar las diversas equivalencias de los prefijos del sistema internacional (como se muestra en la tabla).

$$1 \text{ kilómetro (km)} = 10^3 \text{ m}$$

$$1 \text{ decilitro (d } \ell) = 10^{-1} \ell$$

$$1 \text{ nanómetro (nm)} = 10^{-9} \text{ m}$$

Para transformar las unidades, es necesario aplicar los factores de conversión correspondientes.

Prefijo (símbolo)		Equivalencias en unidades
tera-	(T)	10^{12}
giga-	(G)	10^9
mega-	(M)	10^6
kilo-	(k)	10^3
hecto-	(h)	10^2
deca-	(da)	10^1
deci-	(d)	10^{-1}
centi-	(c)	10^{-2}
mili-	(m)	10^{-3}
micro-	(μ)	10^{-6}
nano-	(n)	10^{-9}
pico-	(p)	10^{-12}
femto-	(f)	10^{-15}
atto-	(a)	10^{-18}

Ejemplo 9

a. ¿Cuántos centímetros son quince nanómetros?

Como $1 \text{ nm} = 10^{-9} \text{ m}$ y $1 \text{ cm} = 10^{-2} \text{ m}$, podemos escribir estas equivalencias como factores de conversión para obtener centímetros.

$$15 \text{ nm} = 15 \text{ nm} \cdot \frac{10^{-9} \text{ m}}{1 \text{ nm}} \cdot \frac{1 \text{ cm}}{10^{-2} \text{ m}} = 15 \cdot 10^{-7} \text{ cm}$$

b. ¿Cuántos hectolitros son setenta mililitros?

Como $1 \text{ ml} = 10^{-3} \ell$ y $1 \text{ hl} = 10^2 \ell$, podemos escribir estas equivalencias como factores de conversión para obtener hectolitros.

$$70 \text{ ml} \cdot \frac{10^{-3} \ell}{1 \text{ ml}} \cdot \frac{1 \text{ hl}}{10^2 \ell} = 70 \cdot 10^{-5} \text{ hl} = 7 \cdot 10^{-4} \text{ hl}$$

Así, 15 nm son $15 \cdot 10^{-7} \text{ cm}$ y 70 ml son $7 \cdot 10^{-4} \text{ hl}$.

Trabajo individual

14. Escribe, en forma de potencias, estas multiplicaciones e indica la base y el exponente de cada una.

a. $-2 \cdot (-2) \cdot (-2)$

b. $-5 \cdot (-5) \cdot (-5) \cdot (-5) \cdot (-5)$

15. Indica el signo de estos ejercicios.

a. $(-4)^7$

d. $(-7)^{21}$

b. $(-2)^{12}$

e. $(-4)^{32}$

c. $(6)^5$

Aplicaciones de las potencias

Aparte de sus aplicaciones en el álgebra y en la notación científica en general, las potencias son muy usadas en aplicaciones informáticas.

Las potencias de dos se utilizan para definir magnitudes basadas en el *byte*. Esto se debe a que las computadoras trabajan con un sistema binario (1 y 0) y, por esto, su capacidad incrementa con potencias de base dos.

Nombre	Símbolo	Potencia y valor
bit	b	$2^0 = 1$ bit
byte	B	$2^3 = 8$ bits
kibibyte	Ki	$2^{10} = 1\ 024$ bytes
mebibyte	Mi	$2^{20} = 1\ 048\ 576$ bytes
gibibyte	Gi	$2^{30} = 1\ 073\ 741\ 824$ bytes
tebibyte	TiB	$2^{40} = 1\ 099\ 511\ 627\ 776$ bytes

Las potencias de base diez fueron utilizadas más tarde para el mismo propósito, a pesar de no ser la cantidad exacta, son una buena aproximación a la cantidad de bytes contenidos en distintas memorias.

Nombre	Símbolo	Potencia y valor
byte	B	$10^0 = 1$ byte
kilobyte	KB	$10^3 = 1\ 000$ bytes
megabyte	MB	$10^6 = 1\ 000\ 000$ bytes
gigabyte	GB	$10^9 = 1\ 000\ 000\ 000$ bytes
terabyte	TB	$10^{12} = 1\ 000\ 000\ 000\ 000$ bytes

La capacidad de almacenamiento de distintos dispositivos también crece en potencias de base dos.

$2^0 = 1$ MB	$2^7 = 128$ MB
$2^3 = 8$ MB	$2^8 = 256$ MB
$2^4 = 16$ MB	$2^9 = 512$ MB
$2^5 = 32$ MB	$2^{10} = 1024$ MB
$2^6 = 64$ MB	$2^{11} = 2048$ MB

Trabajo individual

16. Expresa en forma de una sola potencia:

- $2^3 \cdot 2^4$
- $(-2)^3 \cdot (-2)^5$
- $[(-3)^2]^5$
- $(-7)^4 : (-7)^2$
- $[(-4)^5]^4$

17. Escribe como potencia de base positiva:

$$(-5)^9, (-7)^{14}, (-15)^7, (-9)^{12}, (-3)^{21}$$

18. Expresa en forma de una sola potencia:

- $2^3 \cdot 2^4$
- $(-2)^3 \cdot (-2)^5$
- $[(-4)^5]^4$
- $(-3)^8 : (-3)^5$
- $(-7)^4 : (-7)^2$
- $[(-3)^2]^5$

19. Expresa, en forma de una sola potencia, las siguientes operaciones. Transforma previamente, si es preciso, las potencias de base negativa a potencias de base positiva.

- $(-2) \cdot (-2) \cdot (-2)$
- $7^2 \cdot (-7)^4 \cdot (-7)^2$
- $(-4)^5 \cdot 4^3 \cdot 4^1 \cdot (-4)^3$
- $(-6)^{12} : (-6)^8$
- $7^{21} : (-7)^4$
- $(-4)^{15} : 4^9$

2.1. Raíces de números naturales en operaciones combinadas

D.C.D. M4.1. (6, 7) Calcular raíces de números N que intervienen en expresiones matemáticas combinadas con Z aplicando el orden de operación y verificar resultados utilizando la tecnología.

Raíces cuadradas

Si un número natural es el cuadrado de otro número natural, lo llamamos *cuadrado perfecto*. En la siguiente tabla mostramos los cuadrados perfectos de los diez primeros números naturales. Así, por ejemplo, el número natural 9 es cuadrado perfecto, pues es el cuadrado de 3:

$$3^2 = 9$$

Decimos que 3 es una raíz cuadrada de 9.

símbolo de la raíz cuadrada

$$\sqrt{9} = \pm 3 \quad \begin{array}{l} \text{raíces} \\ \text{cuadradas} \end{array}$$

radicando

Pero sabemos que $(-3)^2 = 9$; por lo tanto, diremos que 9 tiene dos raíces cuadradas: +3 y -3.

Número	Cuadrado
1	1
2	4
3	9
4	16
5	25
6	36
7	49
8	64
9	81
10	100

La **raíz cuadrada** de un número A es otro número a que, elevado al cuadrado, es igual al primero.

$$\sqrt{A} = a \Rightarrow a^2 = A$$

Para los **cuadrados perfectos** existen dos números que elevados al cuadrado dan como

resultado el número original, uno positivo y otro negativo, que son dos números enteros opuestos.

Recuerda que una potencia de exponente par es siempre positiva; por lo tanto, no existe ningún número tal que su cuadrado sea negativo. Los números **enteros negativos no tienen raíz cuadrada**.

Tomemos en consideración que cualquier número elevado al cuadrado es un número positivo, independientemente del signo que tenga.

$$-3^2 = 9 \quad \text{ó} \quad 3^2 = 9$$

Y la raíz cuadrada de cualquier número representa la raíz cuadrada positiva, tenemos la siguiente expresión algebraica para definir el valor absoluto.

Ejemplo 10

Calculemos las raíces cuadradas de los siguientes cuadrados perfectos: 144 y 625.

- Sabemos que $12^2 = 144$ y $(-12)^2 = 144$; $25^2 = 625$ y $(-25)^2 = 625$
- Por lo tanto:

$$\sqrt{144} = |\pm 12| \quad \text{y} \quad \sqrt{625} = |\pm 25|$$



Mundo Digital

Visite el siguiente link <https://goo.gl/4twzKB> o cualquier página web que presente ejercicios interactivos de raíz cuadrada



Trabajo individual

20. Calcule mentalmente las siguientes raíces cuadradas y posteriormente compruebe el resultado con el empleo de una calculadora.

a. $\sqrt{400}$

d. $\sqrt{625}$

b. $\sqrt{49}$

e. $\sqrt{100}$

c. $\sqrt{36}$

f. $\sqrt{144}$

Raíz cuadrada entera

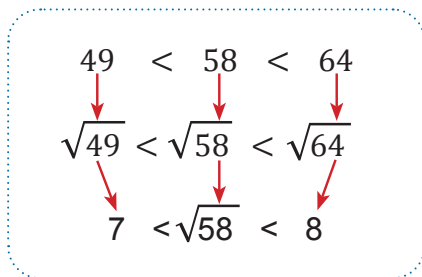
En matemática, solo consideraremos el resultado positivo de la raíz.

Tomemos un número que no sea el cuadrado perfecto de otro número entero; por ejemplo, el 58.

Los cuadrados perfectos más próximos a 58 son 49 y 64.

Así, la raíz cuadrada de 58 estará comprendida entre 49 y 64.

Como podemos observar en el recuadro superior de la derecha, 7 es el número entero más alto que está por debajo de la raíz cuadrada de 58.



Decimos que 7 es la raíz cuadrada entera de 58.

La raíz cuadrada de un número que no sea cuadrado perfecto tiene un resto diferente de 0. Observa cómo podemos obtener este resto r :

$$58 - 7^2 = 58 - 49 = 9$$

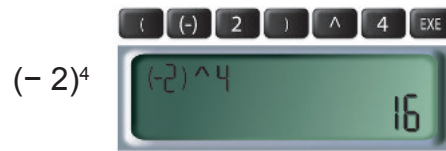
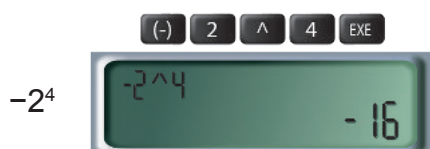
cuadrado de la raíz entera

Potencias y raíces con calculadora

En las calculadoras científicas existe una tecla específica para obtener el resultado de una potencia o raíz directamente. Existe una tecla para calcular el cuadrado y otra para el cubo. Tienen una pantalla de dos líneas. En la primera visualizamos la operación; en la segunda, el resultado.

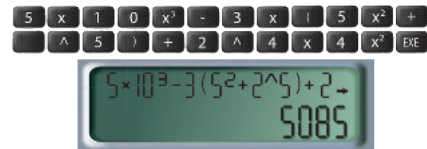
Veamos ejemplos de estos usos en las operaciones.

- Cálculo de potencias de números enteros:



- Operaciones combinadas:

$$5 \times 10^3 - 3 \times (52 + 25) + 24 \times 42$$



Radicación superior

Así como existen las raíces para potencias de dos, llamadas *raíces cuadradas*, también existen raíces para potencias mayores.

A la raíz la podemos entender como la operación inversa de las potencias.

Si tenemos $3 \cdot 3 \cdot 3 = 27$, podemos utilizar la raíz cúbica.

$$\sqrt[3]{27} = \sqrt[3]{3^3} = 3$$

Potencia	Raíz
$a=b^2$	$b=\sqrt{a}$
$a=b^3$	$b=\sqrt[3]{a}$
$a=b^4$	$b=\sqrt[4]{a}$
...	...
$a=b^n$	$b=\sqrt[n]{a}$

Trabajo colaborativo

- Formen equipos de trabajo con las personas de su localidad y discutan: ¿Las siguientes raíces son cuadradas perfectas?

$$\sqrt{147} \quad \sqrt{102} \quad \sqrt{67}$$

- Después completen estos ejercicios en sus cuadernos.

a. $2^2 \cdot 3^4 - 2^3 + 2^2 =$

b. $2^2 \cdot \sqrt{36} - \sqrt{169} + 3 =$

c. $4^2 + \sqrt{4} + 8^3 - 2^3 =$

3. Ecuaciones simples

3.1. Introducción a las ecuaciones de primer grado con una incógnita.

D.C.D. M.4.1. (8, 9) Expresar enunciados simples, inmersos en problemas cotidianos en los que se desconoce uno o más valores, en lenguaje matemático y aplicar las propiedades algebraicas (adición y multiplicación) de los números enteros en la suma de monomios homogéneos y la multiplicación de términos algebraicos para resolver problemas cotidianos.

Lenguaje algebraico

Los diferentes tipos de números sirven para expresar cantidades; pero hay situaciones que no pueden expresarse únicamente con números. En estos casos, también empleamos letras.

Reglas de escritura del lenguaje algebraico

- Al signo \times de la multiplicación lo podemos sustituir por el signo (\cdot) .

$$3 \times a \Rightarrow 3 \cdot a$$

- Cuando el signo de la multiplicación aparece entre letras o entre un número y una letra, acostumbramos a suprimir.

$$3 \cdot a \Rightarrow 3a$$

$$a \cdot b \cdot c \Rightarrow abc$$

- No escribimos el factor 1.

$$1a^2b \Rightarrow a^2b$$

- No escribimos el exponente 1.

$$a^2b^1 \Rightarrow a^2b$$

Expresiones algebraicas

Para expresar que la base de un rectángulo es el doble de su altura podemos escribir:

$$b = 2h$$

Donde b representa la base y h la altura del rectángulo.

Para expresar en lenguaje algebraico cualquier frase, debemos escoger la letra o las letras que vamos a usar y tener en cuenta las reglas de escritura.

Una **expresión algebraica** es una serie de números y letras relacionados por los signos de las operaciones aritméticas.

En el ejemplo anterior, si queremos conocer la base de un rectángulo de tres unidades de altura, basta con sustituir h por 3 en la expresión algebraica y efectuar el cálculo.

$$b = 2h \xrightarrow{h=3} b = 2 \cdot 3 = 6$$

El **valor numérico** de la expresión algebraica $b = 2h$, para $h = 3$, es 6.

El valor numérico de una expresión algebraica es el número obtenido al sustituir las letras por números y efectuar las operaciones indicadas.

Por ejemplo, la expresión algebraica $3h - 7$, tiene distintos valores numéricos para distintos valores de h .

Valor de h	Valor numérico
1	$3(1) - 7 = 3 - 7 = -4$
5	$3(5) - 7 = 15 - 7 = 8$
-2	$3(-2) - 7 = -6 - 7 = -13$

Trabajo individual

21. Escribe en lenguaje algebraico estas expresiones.

- La mitad de un número.
- Al doble de un número añadirle cinco unidades.
- La suma de un número y su opuesto.
- La diferencia de un número y el triple del mismo.

Monomios

Un *monomio* es una expresión en la cual las únicas operaciones entre los factores son multiplicaciones o potencias de exponente con número entero positivo. Siguiendo estas reglas, los monomios pueden ser tan pequeños o tan grandes como deseemos.

$$x, ha^{234412}, abcd^2, efghi^3, jklmno^4, pqrstuv^4, wxyz$$

Todos son ejemplos de monomios.

Coeficiente

Llamamos *coeficiente* al número o los números que aparecen en un monomio y multiplican a todos los demás términos.

$$3x \quad 7abc^2 \quad 9n6m$$

Parte literal

La parte literal de un monomio es aquella que contiene todas las letras que representan las variables.

Grado

El grado de un monomio está dado por la suma de todos los exponentes de sus variables. Es importante recordar que, si una variable no tiene su exponente, su exponente es 1.

No es usual escribir un monomio con números en el medio; por esta razón, al último término lo escribiremos de esta manera:

$$9n6m = 9 \cdot 6nm = 54nm$$

Monomio	Grado
$x^2 y^2 z$	$2+2+1=5$
$x^7 yzw^3$	$7+1+1+3=12$
x	1

Como ya hemos visto, dos monomios son semejantes si es que tienen la misma parte literal (variables), además los podemos agrupar y, de esta manera, resolver operaciones más complejas.

Algunas operaciones con monomios semejantes:

$ax^n + bx^n$	$(a+b)x^n$
$ax^n - bx^n$	$(a-b)x^n$

Multiplicación de monomios por números

Para multiplicar un monomio por un número, multiplicamos el coeficiente del monomio por el número.

Es importante recordar que, entre las variables y números de un monomio, existe una multiplicación imaginaria y, por este motivo, no aplicamos la regla de distribución para la multiplicación.

$$5(2ab) = 10ab \neq 5 \cdot 2a \cdot 5 \cdot b$$

Si un monomio no tiene un coeficiente, entonces el coeficiente del monomio es 1.

Trabajo colaborativo

6. Junto con un compañero resuelva los siguientes ejercicios
 - a. Determinen las partes de las siguientes expresiones.
$$x - 4y + 2x - 3$$
$$5m + 3n - 2$$
 - b. Escriban dos monomios de grado 1, dos de grado 2 y dos de grado 3 utilizando x, y, z

3.2. Aplicaciones de las ecuaciones de primer grado con una incógnita.

D.C.D. Plantear y resolver ecuaciones de primer grado con una incógnita de manera analítica, comprendiendo que se puede expresar en lenguaje matemático situaciones cotidianas Ref (D.C.D. M.4.1. (10, 11 ,12))

3.2.1. Suma y resta

Simplificar una expresión algebraica

Simplificar una expresión algebraica consiste en agrupar los términos semejantes y operar con ellos.

En las expresiones algebraicas, solo podemos sumar y restar los términos semejantes. Observa el procedimiento.

- Si todos los términos son semejantes.

$$3x + 2x$$

Sumamos o restamos los coeficientes y dejamos la misma parte literal.

$$3x + 2x = (3 + 2)x = 5x$$

$$3x + 2x = 5x$$

- Si no son semejantes todos los términos.

$$\begin{aligned} 2xy + 3x^2 + 3xy - x^2 + 4y &= \\ = (2xy + 3xy) + (3x^2 - x^2) + 4y &= \\ = 5xy + 2x^2 + 4y & \end{aligned}$$

Reducir términos semejantes

Es cuando en una expresión algebraica sumamos o restamos los términos semejantes, obtenemos una expresión algebraica más sencilla.

$$2a + 3b + 3a - b = 5a + 2b$$

Es importante recordar que:

$$3xy^2 \neq 3(xy)^2$$

En la primera expresión el exponente afecta únicamente al literal sobre el que se encuentra, cuando sumamos paréntesis el exponente afecta a todo lo que se encuentra dentro del mismo tal como se observa en la segunda expresión.

3.2.2. Multiplicación

Siempre podemos efectuar la multiplicación de los términos de dos expresiones algebraicas, aunque dichos términos no sean semejantes.

Observa este ejemplo:

$$3a \cdot 5a^2b$$

Multiplicamos por un lado los coeficientes y, por el otro lado, las partes literales, teniendo en cuenta las propiedades de la multiplicación de potencias.

$$\boxed{3}a \cdot \boxed{5}a^2b = \boxed{15}a^3b$$

$$3a \cdot 5a^2b = 15a^3b$$

Las operaciones algebraicas cumplen con la **propiedad distributiva** de la **multiplicación** respecto de la **suma** y la **resta**.

Podemos reordenar la parte literal de un término, dado a que entre cada letra o número existe una multiplicación.

$$3xy^2 = 3 \cdot x \cdot y^2 = 3y^2x$$

También es importante recordar que:

$$3xy^2 \neq 3(xy)^2$$

El cuadrado afecta únicamente al literal sobre el que se encuentre, a menos de que esté afuera de un paréntesis; en cuyo caso afecta a todo el término que se encuentra dentro del paréntesis.

Esto es importante al agrupar términos semejantes.

$$3xy^2 \quad -5y^2x \quad -3x^2y \quad 5yx^2$$

Aunque se vean similares, no a todos los términos anteriores los podemos agrupar entre sí. Observa lo que pasa cuando reordenamos los términos:

$$-5y^2x = -5xy^2$$

$$5x^2y = 5yx^2$$

Una vez hecho esto vemos que los siguientes términos son semejantes, debido a que las expresiones del mismo color son **equivalentes**.

$$3xy^2 \qquad -5y^2 x$$

$$-3x^2 y \qquad 5yx^2$$

Pero no es lo mismo decir $y^2 x$ que $x^2 y$, así que a los términos **azules** y los **magenta** no los podemos agrupar.

Esto sucede de la misma manera con tres o más términos.

$$x^3 y^2 z = zx^3 y^2 = y^2 zx^3 = zy^2 x^3 = x^3 zy^2 = y^2 x^3 z$$

Pero ninguno de los siguientes términos es equivalente a los anteriores ni entre sí:

$$x^3 zy \quad xy^3 z \quad y^3 zx^2 \quad x^3 yz^2 \quad z^3 yx^2 \\ z^3 xy^2$$

Dicha propiedad permite transformar multiplicaciones en sumas o restas de multiplicaciones.

Observa estos ejemplos:

$$5a(b + 1) = 5ab + 5a$$

$$4a(a - 3b) = 4a^2 - 12ab$$

Esta propiedad también nos permite realizar el proceso inverso; es decir, sacar el factor común. Esto lo hacemos de esta manera:

$$7a - 3ab = a(7 - 3b)$$

$$2a + 5a^2b = 2a + 5a \cdot ab = a(2 + 5ab)$$

Recuerda que resolver expresiones algebraicas con incógnitas (x , y , etc.) es lo mismo que resolverlas con números, la única diferencia es que la respuesta no es un número sino una expresión.

a. $5(3 + 5) = 5 \cdot 3 + 5 \cdot 5 = 15 + 25 = 40$

b. $5(3 + x) = 5 \cdot 3 + 5 \cdot x = 15 + 5x$

c. $5(y + x) = 5 \cdot y + 5 \cdot x = 5y + 5x$

Nota: En la expresión c, obtenemos lo mismo que en la a, sacando el valor numérico con valores de $y=3$ y $x=5$.

Una expresión con incógnitas puede verse como una generalización de una operación con números.

Decir la primera expresión en palabras sería de esta manera: «Tomamos los números tres y cinco, los sumamos y, luego, multiplicamos la respuesta por cinco». Por otro lado, la tercera expresión en palabras sería: «Tomamos cualquier par de números x e y , los sumamos y luego multiplicamos la respuesta por cinco».

Podríamos generalizar esta operación aún más:

$$z(x + y) = z \cdot y + z \cdot x = zy + zx$$

Del mismo modo, si tenemos la parte derecha de la expresión anterior, podemos tomar z como **factor común** y llegar a la expresión de la izquierda.

$$zy + zx = z(y + x)$$

Recuerda que las expresiones que se detallan a continuación son equivalentes, por las reglas de los exponentes:

$$x^2 \cdot y^3 \cdot z^{-1} + w^{-3} = x \cdot x \cdot y \cdot y \cdot y \cdot \frac{1}{z} + \frac{1}{w^3}$$

Ejemplo 11

Apliquemos la propiedad distributiva y calculemos el valor numérico del siguiente producto: $3a(4a - 5b)$, si $a = -1$ y $b = 3$.

a. Aplicamos la propiedad distributiva.

$$3a(4a - 5b) = 12a^2 - 15ab$$

b. Sustituimos la letra a por -1 y la letra b por 3 .

$$12a^2 - 15ab = 12(-1)^2 - 15(-1)(3) \\ = 12 + 45 = 57$$

Trabajo individual

22. Obtén el factor común de las siguientes expresiones.

a. $43x - 3xy + x^2$ b. $7ab + 33by + b$

23. Completa la siguiente ecuación para que tenga solución si $x = -7$:

$$8 + x = \dots + 4$$

Casos de la multiplicación

Factores con potencias negativas

De la misma manera que a^2 significa $a \cdot a$, a^{-1} , significa $1 \div (a^1)$ o, utilizando fracciones,

$$\frac{1}{a^1} = \frac{1}{a}; a \neq 0$$

Las potencias negativas son equivalentes a uno sobre su contraparte positiva.

$$x^{-3} = \frac{1}{x^3}; x \neq 0$$

Si el término está multiplicado por un número, este se mantiene y multiplica a toda la fracción:

$$3x^{-3} = 3 \cdot \frac{1}{x^3} = \frac{3}{x^3}$$
$$\frac{1}{3}x^{-3} = \frac{1}{3} \cdot \frac{1}{x^3} = \frac{1}{3x^3}$$

Un error común es llevar al término con potencia negativa a la parte inferior de la fracción junto con el número que lo multiplica:

$$3x^{-3} \neq \frac{1}{3x^3}$$

Esto es un error del que debemos tener cuidado, pues cambia completamente la expresión.

De la misma manera que podemos sacar potencias positivas de factor común, podemos utilizar potencias negativas.

$$z^2y + z^3x = z \cdot z \cdot y + z \cdot x = z^2y + z^2zx = z^2(y + zx)$$

$$z^{-2}y + z^{-3}x = z^{-2}y + z^{-2}z^{-1}x = z^{-2}(y + z^{-1}x)$$

Trabajo individual

1. Generaliza numéricamente y con palabras la expresión $5 + 4(3) = 17$.

2. Sacar el factor común en la siguiente expresión algebraica:

$$2xy - 4x + 2x2y = ,$$

3. Escribe tres operaciones de suma, resta y multiplicación de monomios, de tal manera que se obtenga el resultado propuesto (la operación debe tener tres términos).

a. $7xy^3 =$

b. $5mn^2 =$

c. $-8ab^3c^2 =$

4. Resuelve estos ejercicios:

a. $3x + x$, si $x = 4$

b. $4m + 3m - 8$, si $m = -2$

c. $5x + 4y - 5$, si $x = 7, y = 6$

5. Obtén el factor común con potencia negativa.

a. $\frac{1}{x} + \frac{1}{x^2} - 5x^{-3}; x \neq 0$

b. $\frac{12}{b} + \frac{a}{b^5} - 2b^{-2}; b \neq 0$

6. Completa:

a) $49x^2 + 7x^3 = 7x^2 \cdot (7 + \dots)$

b) $a^2b - 6a^2b^2 = a^2b \cdot (\dots - \dots)$

c) $27a^3b^3 + 9a^4b - 81a^4b^2 + 21a^3b^7 =$
 $= 3a^3b \cdot (\dots + \dots - \dots + \dots)$

Trabajo colaborativo

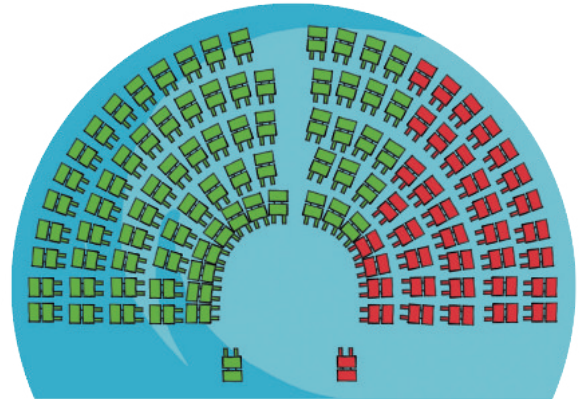
Formen parejas y planteen tres ecuaciones con paréntesis. Resuelvan y expongan la Respuesta paso a paso.

3.3. Introducción a los números racionales.

D.C.D. M.4.1. (13, 14) Reconocer el conjunto de los números racionales Q , identificar sus elementos y representarlos como un número decimal y/o como fracción en relación con expresiones cotidianas que requieren el uso de estos números.

Fraciones

Las fracciones se utilizan habitualmente para representar partes de una unidad. Así, cuando decimos que las dos terceras partes de los asambleístas han votado a favor de una ley, y los dividimos en tres grupos iguales, dos de estos grupos habrían votado a favor de la ley y, matemáticamente, lo representaríamos con la expresión $\frac{2}{3}$.



Un **número fraccionario**, o **fracción**, es el cociente de dos números enteros (a y b) que se representa de la siguiente forma:


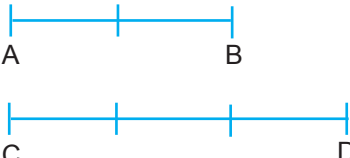
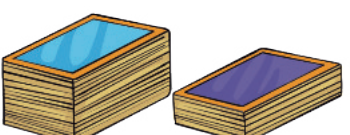
$$\frac{a}{b} \begin{array}{l} \longrightarrow \text{numerador} \\ \longrightarrow \text{denominador} \end{array}$$

- El **denominador** indica el número de partes iguales en que se ha dividido la unidad.
- El **numerador** expresa las partes que hemos tomado.

Una fracción puede expresarse como el cociente de los dos números que la conforman. Si dividimos los números, usualmente obtenemos un número decimal.

$$\frac{1}{5} = 0,2 \quad \frac{7}{8} = 0,875$$

Una fracción puede interpretarse de varias formas:

Fracción como división entre dos enteros	Fracción como razón de medida	Fracción como operador
 <p>Para envasar 3 kg de arroz en 5 costales efectuamos la división $3 : 5$.</p> $3 : 5 = \frac{3}{5} = 0,6 \text{ kg}$	 <p>La longitud del segmento de AB es $\frac{2}{3}$ de la longitud del segmento CD.</p>	 <p>Para calcular las $\frac{2}{5}$ partes de 125 cromos, multiplicamos la fracción por 125.</p> $\frac{2}{5} \cdot 125 = 50 \text{ cromos}$

Puesto que una fracción puede interpretarse como la expresión de una división entre dos números enteros, es evidente que podemos encontrar fracciones positivas y fracciones negativas.

Como en el caso de los números enteros, escribimos las fracciones positivas sin indicar su signo.

$$+\frac{3}{4} = \frac{3}{4}$$

Y, teniendo en cuenta la regla de los signos para la división, podemos escribir:

$$\frac{3}{4} = \frac{-3}{-4}$$

Vemos, pues, que toda fracción positiva puede expresarse como el cociente de dos números enteros, ambos positivos o ambos negativos.

Y, del mismo modo, toda fracción negativa puede expresarse como el cociente de dos números enteros, uno de ellos positivo y el otro negativo.

$$\frac{-5}{4} = \frac{5}{-8} = -\frac{5}{8}$$

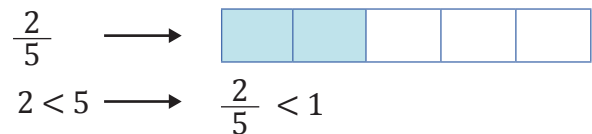
Clasificación

Fíjate cómo clasificamos las fracciones al compararlas con la unidad.

$$\frac{a}{b}$$

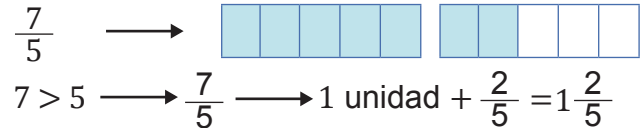
Fracciones propias

Tienen el numerador menor que el denominador ($a < b$). Son fracciones menores que la unidad.



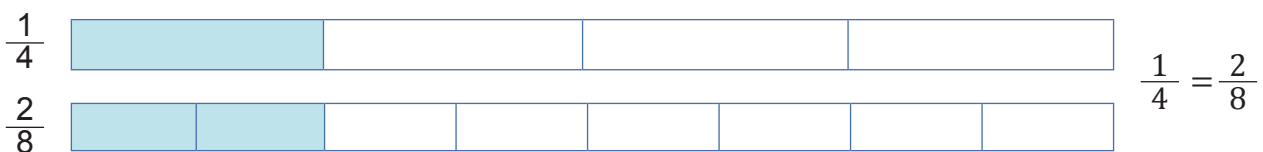
Fracciones impropias

Tienen el numerador mayor que el denominador ($a > b$). Son fracciones mayores que la unidad.



Fracciones equivalentes

Para saber si dos fracciones distintas, por ejemplo $\frac{1}{4}$ y $\frac{2}{8}$, representan la misma parte de la unidad, podemos compararlas gráficamente.



A las fracciones que representan la misma parte de la unidad, las denominamos *fracciones equivalentes*.

Si dos fracciones positivas son equivalentes, se cumple que el producto del numerador de la primera por el denominador de la segunda, es igual al producto del denominador de la primera por el numerador de la segunda.

$$\frac{1}{4} = \frac{2}{8} \longrightarrow 1 \cdot 8 = 4 \cdot 2$$

A esta propiedad la conocemos como *propiedad fundamental de las fracciones equivalentes*, y nos permite definir la equivalencia de fracciones con signo.

Las fracciones $\frac{a}{b}$ y $\frac{c}{d}$ ($b \neq 0$ y $d \neq 0$) son **equivalentes** si se cumple que $a \cdot d = b \cdot c$.

Simplificación de fracciones

Hemos visto que, si dividimos el numerador y el denominador de una fracción para un mismo divisor entero distinto de 0, obtenemos una fracción equivalente. En este caso, decimos que hemos **simplificado** la fracción.

Una fracción con signos es **irreducible** cuando su **numerador** y su **denominador**, sin tener en cuenta el signo, son **números primos relativos entre sí**.

Cálculo de la fracción irreducible

Veamos ahora tres métodos distintos para hallar la fracción irreducible equivalente a la fracción $\frac{2\ 100}{5\ 400}$.

1. Realización de divisiones sucesivas

Efectuamos divisiones sucesivas del numerador y del denominador de la fracción entre divisores comunes de ambos hasta obtener la fracción irreducible.

$$\frac{2\ 100}{5\ 400} \xrightarrow{\div 10} \frac{210}{540} \xrightarrow{\div 10} \frac{21}{54} \xrightarrow{\div 3} \frac{7}{18}$$

2. Descomposición en factores primos

Descomponemos el numerador y el denominador en factores primos.

Simplificamos el numerador y el denominador en los factores primos comunes para eliminarlos.

$$\frac{2\ 100}{5\ 400} = \frac{2 \cdot 2 \cdot 3 \cdot 5 \cdot 5 \cdot 7}{2 \cdot 2 \cdot 2 \cdot 3 \cdot 3 \cdot 5 \cdot 5} = \frac{7}{18}$$

3. División del numerador y el denominador por su mcd

Calculamos el MCD de los términos de la fracción.

Dividimos el numerador y el denominador por su MCD.

$$2\ 100 = 2^2 \cdot 3 \cdot 5^2 \cdot 7 \text{ y } 5\ 400 = 2^3 \cdot 3^3 \cdot 5^3$$

$$\text{M.C.D. } (2\ 100, 5\ 400) = 2^2 \cdot 3 \cdot 5^2 = 300$$

$$\frac{2\ 100}{5\ 400} = \frac{2\ 100 : 300}{5\ 400 : 300} = \frac{7}{18}$$

Reducción de fracciones a común denominador

Al proceso por el cual transformamos dos o más fracciones en otras equivalentes con el mismo denominador lo llamamos **reducción a común denominador**.

A simple vista, no es fácil decidir cuál de estas dos fracciones, $\frac{3}{4}$ y $\frac{5}{6}$, es mayor.

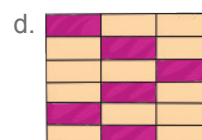
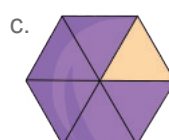
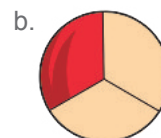
Ahora bien, si obtenemos las fracciones equivalentes a cada una de ellas con el mismo denominador, la comparación será más sencilla.

$$\frac{3}{4} = \frac{18}{24} \quad \frac{5}{6} = \frac{20}{24}$$

Por lo tanto, $\frac{5}{6}$ es mayor que $\frac{3}{4}$.

Trabajo individual

- Expresa 11 cm como fracción de metro, decímetro, kilómetro y milímetro.
- Indica un ejemplo de una fracción.
 - Como división entre dos enteros
 - Como operador.
- Escribe y nombra las siguientes fracciones.



Orden de fracciones

Tal como podemos comparar fracciones positivas para obtener la mayor y la menor, podemos hacer lo mismo con fracciones negativas y fracciones de diferente signo.

Orden de fracciones con el mismo denominador

Dadas dos fracciones con el mismo denominador positivo, es mayor la que tiene el numerador más grande.

Ejemplo 11

Comparamos las fracciones $\frac{11}{7}$, $\frac{-5}{7}$ y $\frac{15}{7}$.

- Como el denominador es el mismo y positivo, podemos comparar los numeradores.

$$-5 < 11 < 15$$

- Por lo tanto,

$$\frac{-5}{7} < \frac{11}{7} < \frac{15}{7}$$



Trabajo individual

4. Cada uno de los cuatro libros de una colección están divididos en doce capítulos. Si consideramos cada libro como una unidad, ¿qué fracción de la unidad representan cuatro capítulos de un libro?
- a. Determina la fracción que representan veinticuatro capítulos, ocho capítulos, doce capítulos, dieciocho capítulos y veintisiete capítulos.
- b. Di si las fracciones que has obtenido son propias o impropias. Si alguna de ellas puede expresarse mediante un número entero, transfórmala.
5. Reduce a común denominador los siguientes pares de fracciones e indica cuál es mayor en cada caso.

a. $\frac{5}{8}$ $\frac{7}{12}$

b. $\frac{12}{50}$ $\frac{7}{4}$

c. $\frac{7}{9}$ $\frac{20}{36}$

Orden de fracciones con distinto denominador

Para comparar dos o más fracciones con distinto denominador, tomamos las fracciones equivalentes de forma que todos los denominadores sean positivos. A continuación, las reducimos a mínimo común denominador y comparamos las fracciones obtenidas.

Ejemplo 12

Comparamos las fracciones $\frac{12}{-15}$ y $\frac{-3}{4}$.

- Escribimos $\frac{12}{-15}$ como $-\frac{12}{15}$ para que su denominador sea positivo.

- Reducimos las fracciones a mínimo común denominador.

$$\text{m.c.m. } (15, 4) = 60$$

$$60 \div 15 = 4$$

$$60 \div 4 = 15$$

$$\frac{-12 \cdot 4}{15 \cdot 4} = \frac{-48}{60}$$

$$\frac{-3 \cdot 15}{4 \cdot 15} = \frac{-45}{60}$$

- La fracciones obtenidas tienen el mismo denominador positivo. Por lo tanto, será mayor la que tenga el numerador más grande.

$$-48 < -45 \Rightarrow \frac{-48}{60} < \frac{-45}{60} \Rightarrow \frac{-12}{15} < \frac{-3}{4}$$

$$\Rightarrow \frac{12}{-15} < \frac{-3}{4}$$



Trabajo colaborativo

7. Formen parejas de trabajo con una persona de su localidad y busquen información acerca de las octavas utilizadas en música, indiquen su origen e identifiquen cómo se relacionan cada fracción con las notas musicales.

Pueden usar estos enlaces:

a. <https://goo.gl/TJoJf0>

b. <https://goo.gl/r6ab3l>

Evaluación

1 Lee el enunciado y escoge la respuesta correcta:

¿Qué número falta en la igualdad?

$$(-5) - (-6) + 4 - 3 + ? = -8$$

- a. 4
- b. -5
- c. 6
- d. -8

2 Lorena tenía ayer en su libreta de ahorros \$-234 y hoy tiene \$72. Desde ayer, ¿ha ingresado o ha gastado dinero? ¿Qué cantidad?

- a. Gastado \$162
- b. Gastado \$306
- c. Ingresado \$162
- d. Ingresado \$306

3 Relaciona la columna de la izquierda con la de la derecha aquellos ejercicios que tienen operaciones equivalentes.

1. $-3 + (-8)$	a. $4 + 10 - (+6)$
2. $-3 - 5(-5) + (6)$	b. $4 - 3 - 1$
3. $(-3 + 2) + (-5)$	c. $(-3 + 8) + (-16)$
4. $7 + 8 - 15$	d. $-10 + (3 + 1)$

- a. Ib, IId, IIIc, IVa
- b. Ic, IIa, IIIId, IVb
- c. Ia, IIb, IIIc, IVd
- d. Ib, IId, IIIa, IVc

4 Escoge la operación correcta para obtener como resultado 10.

- a. $-3(22 + 2) - 2(-5 - 15)(-1 - 3 - 2) =$
- b. $\{-288 + 28 - 2(-14 - 20 + 14)\} =$
- c. $64 - 308 - 20(4 - 3 + 9) + 2 =$
- d. $-(8 + 3 - 10)(5 - 7) + (13 - 15) =$

5 Lee el problema y escoge la respuesta correcta:

El número de plantas de un invernadero es un cuadrado perfecto más once, y si se le adiciona 16, se obtiene el cuadrado perfecto siguiente. ¿Cuántas plantas hay en el invernadero?

- a. 111 plantas.
- b. 132 plantas.
- c. 180 plantas.
- d. 92 plantas.

6 Escribe verdadero o falso a estas definiciones:

- a. El numerador indica el número de partes iguales en que se ha dividido la unidad. ()
- b. El denominador indica el número de partes iguales que hemos tomado. ()
- c. Una fracción es propia cuando el numerador es menor que el denominador. ()
- d. Las fracciones a/b y c/d son equivalentes. ()
- e. Una fracción es irreducible cuando su numerador y denominador son números primos relativos entere sí. ()

7 Di si son equivalentes los siguientes pares de fracciones.

a. $\frac{24}{35}$ y $\frac{120}{175}$

b. $\frac{17}{64}$ y $\frac{85}{192}$

c. $\frac{37}{50}$ y $\frac{185}{250}$

Autoevaluación

- I.M.4.1.2. Resuelvo problemas aplicando las propiedades algebraicas de los números enteros; establezco relaciones de orden usando la recta numérica.
- I.M.4.1.2. Resuelvo ecuaciones de primer grado con una incógnita.



Para empezar

- ¿Qué clase de números se observan en una partitura musical?
- ¿Qué simbolizan estos números?
- ¿Sabía que los signos musicales, en particular las figuras y silencios, se traducen en números? ¿Qué clase de números son estos?

Objetivo

Aplicar las operaciones de los conjuntos numéricos y usar modelos funcionales, algoritmos apropiados y métodos de razonamiento matemático.

Introducción

En esta unidad se estudiarán los números racionales, sus propiedades y operaciones. Aprenderemos a representarlos en la recta numérica y a realizar operaciones combinadas con adición, sustracción, multiplicación, potenciación y la radicación; también aprenderemos sobre sus aplicaciones.

Contenidos

1. **Números racionales**
 - 1.1. Representación de fracciones sobre la recta
 - 1.2. Fracciones a decimales
2. **Propiedades de los números racionales**
 - 2.1. Suma y resta
 - 2.2. Multiplicación
 - 2.3. División
 - 2.4. Operaciones combinadas
3. **Operaciones con números racionales**
 - 3.1. Potencia de una fracción
4. **Aplicaciones de los números racionales**
5. **Ecuaciones e inecuaciones de primer grado**
 - 5.1. Ecuaciones e inecuaciones lineales con una incógnita
 - 5.2. Aplicación de la ecuaciones e inecuaciones lineales con una incógnita
6. **Números irracionales**
 - 6.1. Propiedades de los números irracionales
 - 6.2. Números irracionales expresados como radicales
7. **Introducción a los polinomios**
 - 7.1. Propiedades básicas de los polinomios de primero y segundo grado

1. Números racionales

1.1 Representación de fracciones sobre la recta

D.C.D.: M.4.1.15. Establecer relaciones de orden en un conjunto de números racionales utilizando la recta numérica y la simbología matemática en relación con expresiones usadas en la cotidianidad que permiten comparar precios, medidas, etc.

El método para ordenar fracciones de menor a mayor sobre una recta numérica es muy parecido al que usamos para hacerlo con los números enteros.

Si la fracción es **positiva**, su representación se situará a la **derecha del 0**, y si es **negativa**, a la **izquierda del 0**.

Observa el procedimiento para representar las fracciones positivas y negativas sobre la recta.

Tomemos como ejemplo las fracciones $\frac{14}{8}$ y $\frac{-17}{6}$

1. Consideramos la fracción irreducible equivalente.

$$\frac{14}{8} = \frac{7}{4} \quad \frac{-17}{6}$$

2. Efectuamos la división entera del numerador entre el denominador. El cociente de esta división determina los dos números enteros que son los extremos del segmento donde se situará la fracción.

$$7 \overline{) 4}$$

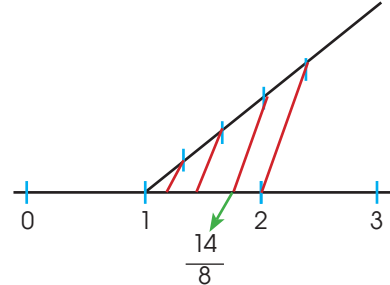
$$17 \overline{) 6}$$

La fracción se sitúa entre 1 y 2.

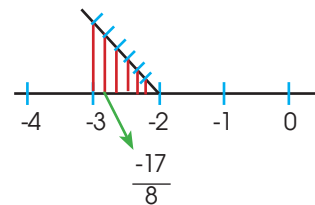
La fracción se sitúa entre -2 y -3.

3. Dividimos el segmento determinado por estos dos números enteros en tantas partes como indique el denominador de la fracción y tomamos las que señale el resto de la división.

Para el primer caso, tenemos que dividir el segmento determinado por 1 y 2 en cuatro partes iguales y tomar tres.



Para el segundo caso, tenemos que dividir el segmento determinado por -2 y -3 en seis partes iguales y tomar cinco.



Cambiar un $\frac{-17}{8}$ por $\frac{-17}{6}$

Como podemos ver, si tomamos cualquier par de fracciones, la menor siempre está a la izquierda de la mayor.

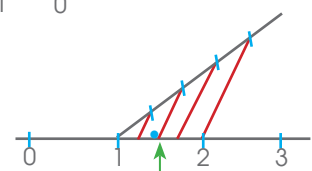
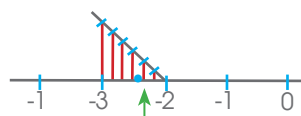
Trabajo individual

1. Representa sobre la recta las siguientes fracciones.

$$\frac{3}{5}, \frac{-3}{-4}, \frac{-2}{-14}, \frac{15}{-6}$$



2. Escribe las fracciones que corresponden a los puntos indicados en las rectas.



1.2. Fracciones a decimales

Al dividir el numerador de cualquier fracción entre su denominador, podemos encontrar tres casos distintos:

- Después de extraer una o más cifras decimales, obtenemos **resto 0**.

$$\begin{array}{r} 15 \quad | \quad 4 \\ 30 \quad 3,75 \\ 20 \\ 0 \end{array}$$

A la fracción $\frac{15}{4}$ le corresponde el **número decimal limitado** 3,75.

- El **resto nunca es 0** y en el cociente aparece una cifra o grupo de cifras que se van repitiendo y que llamamos **período**.

Obtendremos así un **número decimal ilimitado periódico**.

- El período comienza inmediatamente después de la coma.

$$\begin{array}{r} 14 \quad | \quad 3 \\ 20 \quad 4,666... \\ 20 \\ 20 \\ 2 \end{array}$$

A la fracción $\frac{14}{3}$ le corresponde el **número decimal ilimitado periódico puro** 4,666...

- Hay cifras decimales entre la coma y el período.

$$\begin{array}{r} 23 \quad | \quad 6 \\ 50 \quad 3,833... \\ 20 \\ 20 \\ 2 \end{array}$$

A la fracción $\frac{23}{6}$ le corresponde el **número decimal ilimitado periódico mixto** 3,833...

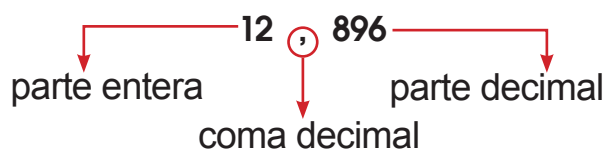
Así, cualquier fracción es un número decimal limitado o ilimitado periódico.

Para simbolizar el período, utilizamos una pequeña línea sobre las cifras que lo comprenden.

Al efectuar el cociente que representa una fracción, a menudo obtenemos un número decimal.

$$\frac{1\ 612}{125} = 12,896$$

Los números decimales constan de dos partes separadas por una coma, la coma decimal.



Las fracciones decimales $\frac{12\ 896}{1\ 000}$ y $\frac{1\ 612}{125}$ son fracciones equivalentes, pues representan el mismo número decimal.

Desde la Historia

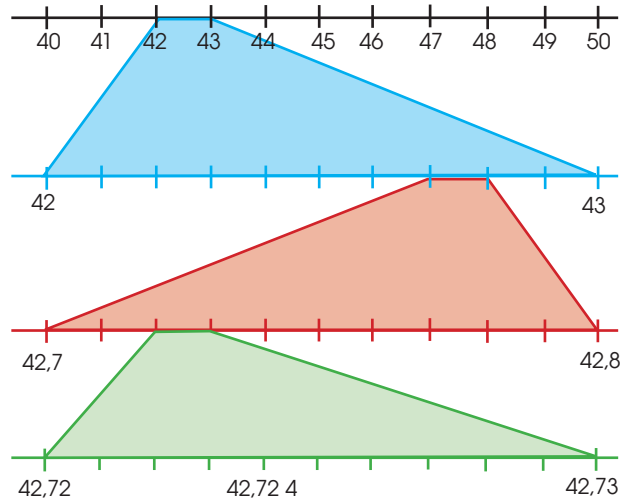
Todos los días encontramos cantidades con números decimales como por ejemplo: porcentajes 10,34% o cuando cancelamos una compra \$ 34,99, pero no siempre fue así, el científico y matemático belga Simon Stevin, realizó la introducción con los decimales en sus obras.

Pero existieron otros científicos que aportaron a este tema, indaga sobre el aporte de Christoff Rudolff y John Napier, comparte tu consulta con el resto de compañeros.

1.3. Representación y orden de números decimales

Observa el procedimiento que utilizamos para representar sobre una recta el número 42,724.

- Localizamos sobre la recta los dos números enteros entre los que se encuentra el número decimal que queremos representar, y dividimos el segmento determinado por estos números en diez partes iguales para representar las décimas.
- Dividimos cada décima en diez partes iguales para representar las centésimas; cada centésima en diez partes iguales para representar las milésimas; y así sucesivamente.
- Situamos el número.

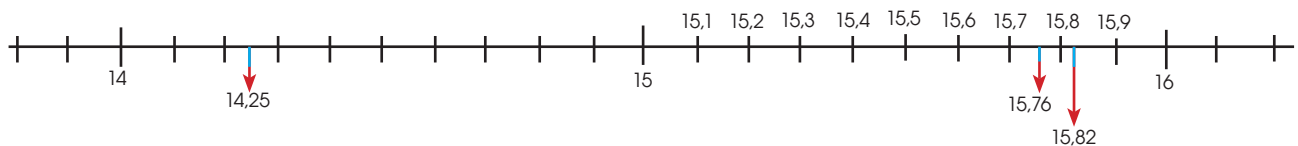


Veamos el procedimiento general para comparar números decimales que nos permitirá ordenarlos.

1. En primer lugar, nos fijamos en su parte entera.
15,82 y 14,25 15 > 14 por tanto, 15,82 > 14,25
2. Si tienen las partes enteras iguales, nos fijamos en la cifra de las décimas.
15,76 y 15,82 8 > 7, por tanto, 15,82 > 15,76.
3. Si tienen la cifra de las décimas iguales, nos fijamos en la cifra de las centésimas.
15,80 y 15,82 2 > 0, por tanto, 15,82 > 15,80.
4. Si tienen la cifra de las centésimas iguales, nos fijamos en la cifra de las milésimas y así sucesivamente, hasta encontrar dos cifras diferentes que nos permitan determinar cuál es la mayor.
1,254 y 1,255 5 > 4, por tanto, 1,255 > 1,254.

En efecto, si comparamos, por ejemplo, los números 15,8; 14,25; 15,76 y 15,82, podemos establecer su ordenación: 15,82 > 15,8 > 15,76 > 14,25.

También podemos ordenarlos a partir de su representación sobre la recta.

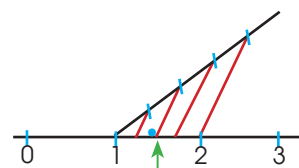
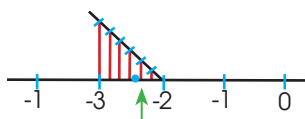


Trabajo individual

1. Representa sobre la recta estas fracciones.

$$\frac{3}{5}, \frac{-3}{-4}, \frac{-2}{-14}, -\frac{15}{6}$$

2. Escribe las fracciones que corresponden a los puntos indicados en las rectas.

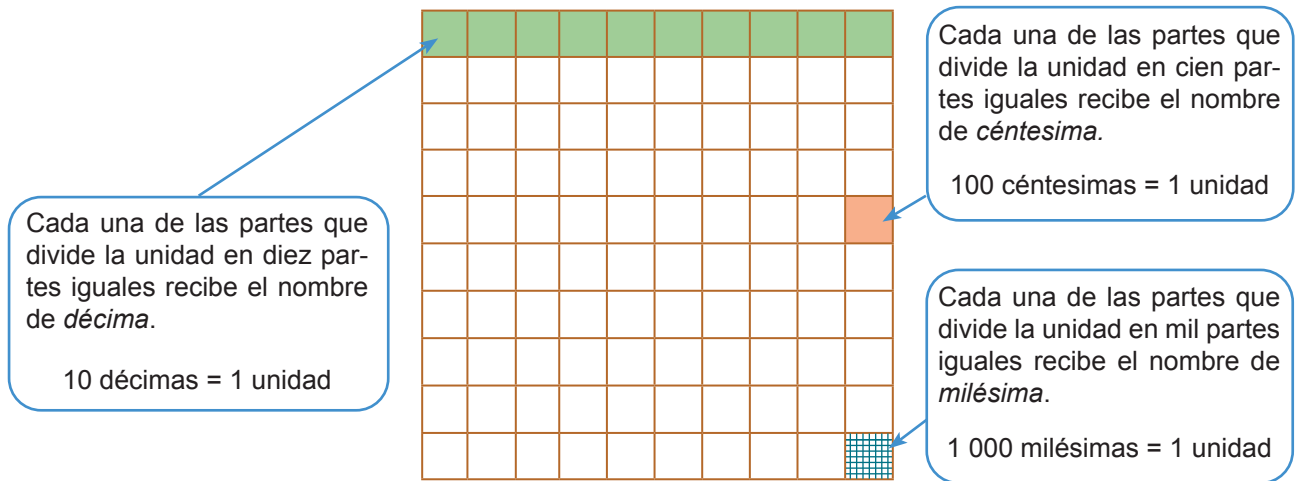


3. Representa aproximadamente, sobre una recta, estos números decimales: 75 centésimas; 1 unidad 4 décimas; 2 unidades 5 décimas; 3 unidades 2 décimas.

Lectura de números decimales

Observa los órdenes de las unidades del número 12,896.

	Parte entera					Parte decimal		
Número	C	D	U	,	décima (d)	centésima (c)	milésima (m)	
12,896		1	2	,	8	9	6	



El procedimiento para leer un número decimal es el que sigue:

1. Nombramos las unidades enteras.
2. A continuación, leemos la cifra que va detrás de la coma, y le damos el nombre del último decimal que aparece.

Así a 12,896 lo leemos 12 unidades 896 milésimas.

De la misma manera, a 3,5 lo leemos 3 unidades 5 décimas; y a 87,02 lo leemos 87 unidades 2 centésimas.

Para órdenes de unidades inferiores a la milésima, recuerda que las posiciones toman el nombre de potencias de 10, seguido del sufijo *-ésima*. Así:

$$1 \text{ diezmilésima} = 0,000 1$$

$$1 \text{ cienmilésima} = 0,000 01$$

$$1 \text{ millonésima} = 0,000 001$$



Trabajo individual

1. Resuelva las siguientes actividades

- a. Diga cuántas unidades hay en 100 décimas, cuántas milésimas hay en 30 décimas y cuántas centésimas hay en 500 milésimas.
- b. Escriba en forma de fracción y en forma de número decimal: 5 décimas; 47 centésimas; 21 milésimas; 64 décimas.
- c. Lea los siguientes números decimales e indique en cada caso el orden de unidades de la cifra 6:
- d. Escriba estos números decimales: 25 centésimas; 4 unidades 124 milésimas; 78 unidades 2 décimas; 1 025 unidades 25 milésimas.

Aproximación de números decimales

A veces, cuando operamos con números decimales, encontramos un resultado con muchas cifras decimales, y resulta necesario aproximarlos por redondeo o truncamiento.

Aproximación por redondeo

En algunos casos, por ejemplo, una cantidad de \$ 29,362 8 en el precio de un producto no tiene sentido, por el elevado número de decimales. Por ello, debemos realizar una aproximación por redondeo.

Así, consideraremos \$ 29,36 en lugar de \$ 29,362 8.

El procedimiento para redondear un número hasta una determinada cifra decimal que se conserva es el siguiente:

- Si la primera cifra que debemos suprimir es menor que 5, dejamos igual la última cifra que se conserva.
- Si la primera cifra que suprimimos es mayor o igual que 5, aumentamos en una unidad la última cifra que se conserva.

Así, la aproximación por redondeo hasta las centésimas de los números 13,687 2 y 26,863 2 es:

13,687 2	13,69
26,863 2	26,86

Aproximación por truncamiento

Otro método para realizar aproximaciones es el **truncamiento**.

Truncar un número decimal consiste en reducir las cifras decimales hasta un determinado orden.

Así, la aproximación por truncamiento hasta las centésimas de los números 13,687 2 y 26,863 2 es:

13, 687 2	13,68
26,863 2	26,86

Las aproximaciones por truncamiento son siempre **aproximaciones por defecto**.

Trabajo colaborativo

1. Formen parejas y resuelvan los siguientes problemas.
 - a. El padre de María ha comprado dos tablas de madera cortas y una larga. Ha pagado \$ 12,6 por todas ellas. Si la tabla larga cuesta \$ 1,8 más que cada una de las cortas, calcula el precio de cada tabla.
 - b. Di cuántas unidades hay en 100 décimas, cuántas milésimas hay en 30 décimas y cuántas centésimas hay en 500 milésimas.
 - c. Escribe en forma de fracción y en forma de número decimal: 5 décimas; 47 centésimas; 21 milésimas; 64 décimas.

2. Propiedades de los números racionales

D.C.D. M.4.1. 16, 17. Operar en Q (adición y multiplicación) y aplicar sus propiedades en la solución de ejercicios numéricos y problemas que requieran el uso de números fraccionarios.

En este apartado estudiaremos la suma y la resta de fracciones con igual o distinto denominador, la multiplicación y la división con fracciones.

2.1. Suma y resta

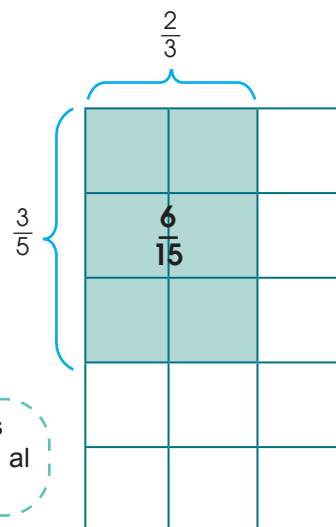
Fracciones con el mismo denominador	Fracciones con distinto denominador						
<ul style="list-style-type: none"> • Dejamos el mismo denominador. • Sumamos o restamos los numeradores. <p>Ejemplo:</p> $\frac{4}{9} + \frac{1}{9} = \frac{4+1}{9} = \frac{5}{9}$ $\frac{7}{6} - \frac{3}{6} = \frac{7-3}{6} = \frac{4}{6} = \frac{2}{3}$	<ul style="list-style-type: none"> • Reducimos las fracciones a común denominador. • Sumamos o restamos las fracciones obtenidas. <p>Ejemplo:</p> $\frac{1}{6} + \frac{3}{4} - \frac{5}{8} = \frac{4 + 18 - 15}{24} = \frac{7}{24}$ <div style="border: 1px dashed red; padding: 5px; margin-top: 10px;"> <p style="text-align: center;">m.c.m. (6, 4, 8) = 24</p> <table style="width: 100%; text-align: center;"> <tr> <td>$24 : 6 = 4$</td> <td>$24 : 4 = 6$</td> <td>$24 : 8 = 3$</td> </tr> <tr> <td>$\frac{1}{6} = \frac{4}{24}$</td> <td>$\frac{3}{4} = \frac{18}{24}$</td> <td>$\frac{5}{8} = \frac{15}{24}$</td> </tr> </table> </div>	$24 : 6 = 4$	$24 : 4 = 6$	$24 : 8 = 3$	$\frac{1}{6} = \frac{4}{24}$	$\frac{3}{4} = \frac{18}{24}$	$\frac{5}{8} = \frac{15}{24}$
$24 : 6 = 4$	$24 : 4 = 6$	$24 : 8 = 3$					
$\frac{1}{6} = \frac{4}{24}$	$\frac{3}{4} = \frac{18}{24}$	$\frac{5}{8} = \frac{15}{24}$					

2.2. Multiplicación

Multiplicación de fracciones

Veamos cómo multiplican fracciones a partir del cálculo del área del rectángulo coloreado cuyas longitudes están expresadas como fracciones de una unidad de medida.

$$\text{Área} = \text{base} \times \text{altura}: \frac{3}{5} \times \frac{2}{3} = \frac{3 \times 2}{5 \times 3} = \frac{6}{15}$$



El **producto** de **dos fracciones** es otra fracción cuyo numerador es igual al producto de los numeradores y cuyo denominador es igual al producto de los denominadores.

Multiplicación de un número entero por una fracción

Para multiplicar un número entero por una fracción hay que tener en cuenta que los números enteros son fracciones de denominador 1.

$$-3 \cdot \frac{5}{8} = \frac{-3}{1} \cdot \frac{5}{8} = \frac{5 \cdot (-3)}{8 \cdot 1} = \frac{-15}{8}$$

$$4 \cdot \frac{2}{3} = \frac{4}{1} \cdot \frac{2}{3} = \frac{4 \cdot 2}{3 \cdot 1} = \frac{8}{3}$$

Para **multiplicar** un **número** por una **fracción**, multiplicamos ese número por el numerador de la fracción y dejamos el mismo denominador.

Fracción inversa

Al multiplicar dos fracciones puede ocurrir que el resultado sea 1.

$$\frac{4}{5} \times \frac{5}{4} = \frac{20}{20} = 1$$

En este caso, diremos que una fracción es la inversa de la otra.

Fijémonos en que, para obtener la fracción inversa de una fracción dada, basta intercambiar el numerador y el denominador.

Así, la fracción inversa de $\frac{2}{5}$ es $\frac{5}{2}$, la de $\frac{1}{6}$ es $\frac{6}{1} = 6$, la de 4 es $\frac{1}{4}$.

2.3. División

Fijémonos en esta división de números naturales.

$$\begin{array}{ccccccc} 48 & \div & 8 & = & 6 \\ \text{dividendo} & & \text{divisor} & & \text{cociente} \end{array}$$

Y comparémosla con esta multiplicación de fracciones.

$$48 \times \frac{1}{8} = \frac{48}{8} = 6$$

Observemos que dividir dos números es lo mismo que multiplicar el dividendo por la fracción inversa del divisor.

Así, por ejemplo, para dividir $\frac{1}{9}$ entre $\frac{2}{3}$, multiplicamos $\frac{1}{9}$ por $\frac{3}{2}$.

$$\frac{1}{9} \div \frac{2}{3} = \frac{1}{9} \times \frac{3}{2} = \frac{1 \times 3}{9 \times 2} = \frac{3}{18} = \frac{1}{6}$$

Si queremos calcular una cantidad conociendo el valor de una fracción de la misma, multiplicamos ese valor por la inversa de la fracción.

$$\frac{3}{7} \text{ de } x = 12 \qquad x = 12 \cdot \frac{7}{3} = 28$$

Trabajo individual

1. Efectúe las siguientes operaciones y, si es posible, simplifique su resultado.

a. $\frac{2}{6} + \frac{1}{6}$

d. $\frac{4}{7} - \frac{1}{7}$

g. $\frac{-1}{5} + \frac{3}{10}$

j. $\frac{3}{2} - \frac{4}{5}$

b. $\frac{1}{5} + \frac{5}{12} + \frac{1}{3}$

e. $\frac{3}{4} - \frac{1}{5} + \frac{7}{10}$

h. $\frac{5}{3} \cdot \frac{-6}{4}$

k. $\frac{-5}{12} \cdot \frac{3}{4}$

c. $\frac{11}{5} \cdot \frac{5}{11}$

f. $\frac{8}{3} \div \frac{5}{6}$

i. $\frac{3}{2} \div \frac{-4}{-9}$

l. $\frac{-4}{15} \div \frac{-6}{7}$

2.4. Operaciones combinadas

Para efectuar operaciones combinadas con fracciones positivas y negativas, aplicamos los mismos criterios de prioridad establecidos para los números enteros:

- Primero, resolvemos las expresiones dentro de paréntesis y corchetes.
- A continuación, realizamos las multiplicaciones y las divisiones en el orden en que aparecen.
- Y, finalmente, resolvemos las sumas y las restas.

Fíjate en este ejemplo.

Ejemplo 1

Calculemos $\frac{2}{3} \cdot \frac{5}{4} + \left(\frac{-2}{5} - \frac{2}{35}\right) \div \frac{4}{21}$.

- En primer lugar, efectuamos la resta del interior del paréntesis.

$$\frac{2}{3} \cdot \frac{5}{4} + \frac{-14 - 2}{35} \div \frac{4}{21} = \frac{2}{3} \cdot \frac{5}{4} + \frac{-16}{35} \div \frac{4}{21}$$

- A continuación, resolvemos las multiplicaciones y las divisiones en el orden en que aparecen.

$$\frac{2}{3} \cdot \frac{5}{4} + \frac{-16}{35} \div \frac{4}{21} = \frac{10}{12} + \frac{-16}{35} \cdot \frac{21}{4} = \frac{10}{12} + \frac{-336}{140}$$

- Por último, calculamos las sumas y las restas, y simplificamos el resultado.

$$\frac{10}{12} + \frac{-336}{140} = \frac{350 + (-1008)}{420} = \frac{-658}{420} = \frac{-47}{30}$$

Estas expresiones son equivalentes para la división de fracciones.

$$\frac{\frac{a}{b}}{\frac{c}{d}} = \frac{a}{b} \div \frac{c}{d} = \frac{a \cdot d}{b \cdot c}$$

Trabajo individual

1. Efectúe las siguientes operaciones combinadas.

a. $\frac{-3}{7} - \frac{4}{9} \cdot \frac{5}{6}$ b. $\frac{1}{7} \div \left(\frac{3}{-2}\right) + \frac{7}{8}$ c. $\frac{5}{3} \cdot \left(\frac{-6}{4}\right) + \frac{3}{2} \div \frac{2}{3} - \left(\frac{-4}{9}\right)$

2. Calcule.

a. $\left(1 - \frac{1}{3}\right) \div \left(2 - \frac{3}{5}\right)$ b. $1 - 2 \cdot \frac{\frac{1}{4} - 1}{2 + \frac{1}{5}}$

3. Resuelva los siguientes problemas

- Raquel leyó en una semana la tercera parte de un libro de 180 páginas, y la semana siguiente, la cuarta parte. Si tarda tres minutos en leer una página, ¿cuánto tardará en acabar de leerlo? Expresa el resultado como una operación combinada y calcúlala.
- Adrián sale de su casa con 32 dólares. En diversas compras, se gasta tres octavas partes de esta cantidad. ¿Cuántos dólares se ha gastado? ¿Cuántos dólares le quedan?

3. Operaciones con números racionales

D.C.D.: M.4.1.18. Calcular potencias de números racionales con exponentes enteros.

Cuando operamos con fracciones, podemos encontrarnos, como sucede con los otros tipos de números, con multiplicaciones de factores repetidos. También pueden aparecer fracciones cuyos términos sean cuadrados perfectos.

3.1. Potencia de una fracción

En ocasiones, podemos encontrarnos con multiplicaciones de fracciones iguales. Son potencias cuya base es una fracción, y su exponente, un número natural.

En general:

Para elevar una fracción a una potencia, elevamos el numerador y el denominador a dicha potencia.

$$\left(\frac{a}{b}\right)^n = \frac{a^n}{b^n}$$

$$\left(\frac{a}{b}\right)^n = \overbrace{\frac{a}{b} \times \frac{a}{b} \times \dots \times \frac{a}{b}}^{n \text{ veces}} = \frac{\overbrace{a \times a \times \dots \times a}^{n \text{ veces}}}{b \times b \times \dots \times b}$$

A continuación, podemos observar que las operaciones con potencias de base una fracción y exponente entero cumplen las mismas reglas que las potencias de base y exponente enteros.

Multiplicación de potencias de la misma base	Potencia de una potencia
$\left(\frac{a}{b}\right)^m \cdot \left(\frac{a}{b}\right)^n = \left(\frac{a}{b}\right)^{m+n} \quad (b \neq 0)$	$\left[\left(\frac{a}{b}\right)^m\right]^n = \left(\frac{a}{b}\right)^{m \cdot n} \quad (b \neq 0)$
División de potencias de la misma base	Potencia de exponente 1
$\left(\frac{a}{b}\right)^m : \left(\frac{a}{b}\right)^n = \left(\frac{a}{b}\right)^{m-n} \quad (a \neq 0, b \neq 0)$	$\left(\frac{a}{b}\right)^1 = \frac{a}{b} \quad (b \neq 0)$
Potencia de un producto	Potencia de exponente 0
$\left(\frac{a}{b} \cdot \frac{c}{d}\right)^n = \left(\frac{a}{b}\right)^n \cdot \left(\frac{c}{d}\right)^n \quad (b \neq 0, d \neq 0)$	$\left(\frac{a}{b}\right)^0 = 1 \quad (a \neq 0, b \neq 0)$

Podemos transformar una potencia de una fracción de exponente negativo en otra de exponente positivo.

$$\left(\frac{a}{b}\right)^{-n} = \left(\frac{b}{a}\right)^n \quad (a \neq 0, b \neq 0)$$

Fracción generatriz de un número decimal

A toda fracción le corresponde un número decimal limitado o ilimitado periódico. La afirmación recíproca también es cierta, es decir, todo número decimal limitado o ilimitado periódico es una fracción.

La **fracción generatriz** de un número decimal limitado o ilimitado periódico es la fracción irreducible equivalente a dicho número decimal.

Fracción generatriz de un número decimal limitado

- Llamamos x a la fracción generatriz y la igualamos al número decimal.

$$x = 4,65$$

- Multiplicamos la expresión de x por la potencia de 10 necesaria para eliminar la coma.

$$100x = 465$$

- Despejamos x y simplificamos la fracción.

$$x = \frac{465}{100} = \frac{93}{20}$$

Multiplicación por la unidad seguida de ceros

Para multiplicar un número decimal por una unidad seguida de ceros (10, 100, 1 000...) basta con desplazar la coma hacia la derecha tantos lugares como ceros acompañan la unidad añadiendo ceros si es necesario.

$$8,15 \times 10 = 81,5$$

Desplazamos la coma un lugar.

$$8,15 \times 1\,000 = 8\,150$$

Desplazamos la coma tres lugares.

Ejemplo 2

Hallemos la fracción generatriz del número decimal 2 027.

- Llamamos x a la fracción generatriz y la igualamos al número decimal.

$$x = 2\,027$$

- Multiplicamos la expresión de x por la potencia de 10 necesaria para eliminar la coma, en este caso, por 10^3 .

$$1\,000x = 2\,027$$

- Despejamos x y simplificamos la fracción.

$$x = \frac{2\,027}{1\,000}$$

- Entonces, $2,027 = \frac{2\,027}{1\,000}$.

Trabajo individual

- calcule la fracción generatriz de cada uno de estos números decimales.
 - 7,4
 - 0,07
 - 4,562
 - 0,4431
 - 2,89
 - 0,47
- Escriba el número decimal correspondiente
 - 32 centésimas
 - 6 décimas
 - 43 enteros y 96 centésimas
 - 961 milésimas
 - 3 entero y 01 centésimas

Ahora, veamos cómo calculamos la fracción generatriz correspondiente a los números decimales ilimitados periódicos puros o mixtos.

Fracción generatriz de un número decimal ilimitado periódico puro

- Llamamos x a la fracción generatriz y la igualamos al número decimal.

$$x = 12,\overline{6}$$

- Multiplicamos la expresión de x por la potencia de 10 necesaria para que la coma quede justo después del primer período.

$$10x = 126,666\dots$$

- A la expresión obtenida le restamos la expresión inicial.

$$\begin{array}{r} 10x = 126,666\dots \\ - \quad x = 12,666\dots \\ \hline 9x = 114 \end{array}$$

- Despejamos x y simplificamos la fracción.

$$x = \frac{114}{9} = \frac{38}{3}$$

Fracción generatriz de un número decimal ilimitado periódico mixto

- Llamamos x a la fracción generatriz y la igualamos al número decimal.

$$x = 1,2\overline{54}$$

- Multiplicamos la expresión de x por la potencia de 10 necesaria para que la coma quede justo después del primer período.

$$1\,000x = 1\,254,545\,4\dots$$

- A continuación, multiplicamos la expresión x por la potencia de 10 necesaria para que la coma quede justo antes del primer período.

$$10x = 12,5454\dots$$

- Restamos las dos expresiones obtenidas.

$$\begin{array}{r} 1\,000x = 1\,254,545\,4\dots \\ - \quad 10x = 12,545\,4\dots \\ \hline 990x = 1242 \end{array}$$

- Despejamos x y simplificamos la fracción.

$$x = \frac{1\,242}{990} = \frac{69}{55}$$

Desde la música

El ritmo de la matemática

En la composición de música, la matemática influye de gran manera. Podemos ver esto claramente mediante el uso de fracciones para describir la duración de las figuras rítmicas o notas.

El ritmo, en la música, es el paso controlado de un pulso. Para que lo entiendas mejor, intenta aplaudir una vez por cada vez que un reloj marque un segundo. Eso es un ritmo. Las figuras rítmicas nos dicen cuántos ritmos dura una nota musical.

Las siguientes son las notas más importantes:

					
Redonda	Blanca: Equivale a media redonda.	Negra: Equivale a media blanca.	Corchea: Equivale a media negra.	Semicorchea: Equivale a media corchea.	Fusa: Equivale a media semicorchea.
4/4 compás completo.	2/4 compás completo. 4/4 mitad de un compás.	4/4 cuarta parte de un compás.	4/4 octava parte de un compás.	4/4 dieciseisava parte de un compás.	4/4 treintaidosava parte de un compás.

Trabajo individual

- Calcula la fracción generatriz de $2,\overline{14}$ y $-0,00\overline{5}$
- Efectúa $\frac{5^2}{7}$
- Transforma en potencias de exponente positivo y resuelve: $\frac{3^2}{5}$

4. Aplicaciones de los números racionales

D.C.D. M.4.1.19. Calcular raíces de números racionales no negativos en la solución de ejercicios numéricos (con operaciones combinadas) y algebraicos, atendiendo la jerarquía de la operación.

Raíz cuadrada de una fracción

Sabemos que calcular la raíz cuadrada de un número positivo es hallar los números que elevados al cuadrado sean iguales al primero.

De forma análoga, la raíz cuadrada de una fracción serán las fracciones que elevadas al cuadrado sean iguales a la primera.

Decimos que una fracción es cuadrado perfecto si lo son el numerador y el denominador de su fracción equivalente irreducible.

Tal y como sucede con los números enteros, la raíz cuadrada de una fracción que es cuadrado perfecto corresponde a dos fracciones: una positiva y la otra negativa.

Así, por ejemplo, tomemos $\sqrt{\frac{4}{9}}$

$$\sqrt{\frac{4}{9}} = \pm \frac{2}{3}$$

ya que, $\left(\frac{2}{3}\right)^2 = \frac{4}{9}$ y $\left(-\frac{2}{3}\right)^2 = \frac{4}{9}$

Las raíces cuadradas de $\frac{4}{9}$ son $\frac{2}{3}$ y $\frac{2}{3}$.

Teniendo en cuenta la regla de los signos para la multiplicación, resulta evidente que tanto el cuadrado de una fracción positiva como el de una negativa son positivos.

Por ello, y del mismo modo que ocurre con los números enteros, la raíz cuadrada de una fracción negativa no existe.

Las **fracciones positivas** que son **cuadrados perfectos** tienen **dos raíces cuadradas** que son dos fracciones: una positiva y una negativa

Las **fracciones negativas** no tienen raíz cuadrada.

Mundo Digital

Visite este enlace en el que podrá encontrar ejercicios y ejemplos de raíces cuadradas de una fracción <https://goo.gl/tz8qN2>

Trabajo individual

1. Efectúe

a. $\left(\frac{5}{7}\right)^2 =$ _____

b. $\left(\frac{3}{4}\right)^{-2} =$ _____

c. $\left(\frac{3}{2}\right)^2 + \left(\frac{2}{4}\right)^3 =$ _____

2. Transforma en potencias de exponente positivo y resuelve.

a. $\left(\frac{3}{5}\right)^{-2} =$ _____

b. $\left(\frac{2}{6}\right)^{-5} =$ _____

c. $\left(\frac{1}{4}\right)^{-3} =$ _____

3. Calcula.

$$\sqrt{\frac{100}{169}} \cdot \sqrt{\frac{529}{81}} \cdot \sqrt{\frac{49}{225}} \cdot \sqrt{\frac{144}{324}} \cdot \sqrt{\frac{729}{1296}} =$$

5. Ecuaciones e inecuaciones de primer grado

5.1 Ecuaciones e inecuaciones lineales con una incógnita

D.C.D.: M.4.1. 20, 21, 22. Plantear y resolver problemas de aplicación de ecuaciones o inecuaciones de primer grado con una incógnita en Q, e interpretar la validez de las soluciones obtenidas dentro del contexto del problema.

A continuación, vamos a estudiar las ecuaciones en las que las incógnitas aparecen únicamente con exponente 1, y dentro de estas, las que tienen una o dos incógnitas.

Son las llamadas ecuaciones de primer grado con una incógnita y ecuaciones de primer grado con dos incógnitas.

Observa cómo traducimos al lenguaje algebraico esta frase:

«El triple de un número menos 4 es igual a este mismo número más 2».

Observa estos símbolos matemáticos:

⇒ Símbolo de implicación

⇔ Símbolo de doble implicación

Si entre dos expresiones aparece el símbolo ⇒, indica que si la primera es cierta, también lo es la segunda.

Si entre dos expresiones aparece el símbolo ⇔, indica que la primera se cumple solo si se cumple la segunda.

Así, para indicar que dos ecuaciones son equivalentes, es frecuente utilizar el símbolo de doble implicación ⇔:

$$3x - 4 = x + 2 \Leftrightarrow 2x - 6 = 0$$

Escogemos la letra que representará la incógnita.	x representa el número que buscamos.
Traducimos al lenguaje algebraico la primera parte del enunciado.	El triple del número menos 4: $3x - 4$
Traducimos al lenguaje algebraico la segunda parte del enunciado.	El número más 2: $x + 2$
Escribimos la ecuación correspondiente al enunciado completo.	$3x - 4 = x + 2$

Si sumamos $-x - 2$ a los dos miembros de la ecuación obtenida y reducimos los términos semejantes, resulta:

$$3x - 4 - x - 2 = \cancel{x + 2} - \cancel{x - 2} \Leftrightarrow 2x - 6 = 0$$

En esta ecuación, equivalente a la primera, solo aparece una incógnita, x, con exponente 1. Es una ecuación de primer grado con una incógnita.

Una ecuación es de **primer grado con una incógnita** si una vez efectuadas las operaciones y reducidos sus términos semejantes, el término de mayor grado es de grado 1.

Las ecuaciones de primer grado con una incógnita pueden expresarse:

$$ax + b = 0 \quad \text{donde } a \text{ y } b \text{ son números reales, con } a \neq 0.$$

Así, ejemplos de ecuaciones de primer grado con una incógnita son:

$$2x + 5 = 0; 7y - 1 = 0; -z + 1 = 0$$

Veamos ahora sí, dada la ecuación $3x - 4 = x + 2$, se cumple la igualdad al dar diferentes valores a x .

x	Primer miembro ($3x - 4$)	Segundo miembro ($x + 2$)	¿Se cumple la igualdad?
3	$3 \cdot 3 - 4 = 5$	$3 + 2 = 5$	Sí
4	$3 \cdot 4 - 4 = 8$	$4 + 2 = 6$	No

Observamos que la igualdad solo se verifica para algunos valores de x .

Cada valor de x que verifica la ecuación de primer grado con una incógnita es una solución de la ecuación. Así, $x = 3$ es una solución o raíz de la ecuación $3x - 4 = x + 2$.

Resolución

El *método general de resolución* consiste en aplicar las propiedades de las ecuaciones para transformar la ecuación inicial en otra equivalente más sencilla.

Número de soluciones de una ecuación de primer grado

Una ecuación de primer grado con una incógnita puede expresarse de la forma $ax + b = 0$, con $a \neq 0$.

Como $a \neq 0$, podemos despejar x :

$$ax + b = 0 \Leftrightarrow ax = -b \Leftrightarrow x = \frac{-b}{a}$$

Observamos que la ecuación tiene una **única solución**.

No obstante, al transformar igualdades algebraicas, podemos llegar a expresiones de la forma $ax + b = 0$ con $a = 0$, es decir, $ax = -b$ con $a = 0$. Estas expresiones suelen tratarse también como ecuaciones de primer grado con una incógnita. Dichas ecuaciones tendrán solución o no según cuál sea el valor de b .

- Si $b \neq 0$, la ecuación **no tiene solución**, pues no existe ningún número que multiplicado por 0 dé diferente de 0.
- Si $b = 0$, la ecuación tiene **infinitas soluciones**, pues cualquier número multiplicado por 0 da 0.

Mundo Digital

Busque en Internet videos documentales sobre Lenguaje algebraico. Como sugerencia puede revisar el siguiente enlace: <https://goo.gl/vG20vO>

Con base en la búsqueda, responda. ¿Qué palabras se pueden utilizar para expresar una suma en lenguaje algebraico?

Trabajo individual

1. Resuelve estas ecuaciones:

- $3x = 6x + 10$
- $12 = -4x - 3 + 6x$
- $5x + 2 = -10$
- $4x - 2 = 5 + 3x - 6$
- $3 - 2x = 1$

Trabajo colaborativo

1. Junto con un compañero escriba los siguientes enunciados en expresiones matemáticas:

- La mamá de Ana tiene 47 años de edad, mientras que Ana tiene 11 años. ¿Cuántos años deben pasar para que la edad de la mamá de Ana sea el triple que la de ella?
- La madre de una familia tiene 42 años, ella tiene 8 años más que el doble de la edad de su hijo mayor. ¿Qué edad tiene su hijo mayor? ¿A qué edad lo tuvo?
- Un rectángulo tiene un perímetro de 38 cm y su base es 3 cm más larga que su altura. ¿Cuánto mide la base?
- Si cuatro pantalones y tres camisetas cuestan \$ 87 y un pantalón cuesta \$ 6 más que una camiseta, ¿cuánto cuesta cada camiseta?

5.2 Aplicación de la ecuaciones e inecuaciones lineales con una incógnita

El método general de resolución consiste en aplicar las propiedades de las ecuaciones para transformar la ecuación inicial en otra equivalente más sencilla.

Veamos su aplicación en tres casos distintos.

a. En la ecuación no aparecen paréntesis ni denominadores.

Ejemplo 3	Resolvamos la siguiente ecuación: $3x - 4 = x + 2$.	
	<p>Transposición de términos:</p> <p>Agrupamos en un miembro los términos que contienen la incógnita y, en el otro miembro, los términos que no la contienen.</p>	<p>Aplicamos la primera propiedad sumando $4 - x$ a los dos miembros.</p> $3x - 4 + 4 - x = x + 2 + 4 - x$ <p>Operamos ordenadamente:</p> $3x - x = 2 + 4$
	<p>Reducción de términos semejantes:</p> <p>Efectuamos las operaciones en cada miembro.</p>	$2x = 6$
<p>Despeje de la incógnita:</p> <p>Eliminamos el coeficiente de la incógnita.</p> <p>Comprobamos la solución $x = 3$:</p> <p>$3(3) - 4 = 3 + 2$; $9 - 4 = 3 + 2$; $5 = 5$</p>	<p>Aplicamos la segunda propiedad multiplicando por $\frac{1}{2}$ los dos miembros:</p> $2x \cdot \frac{1}{2} = 6 \cdot \frac{1}{2}$ $\frac{2x}{2} = \frac{6}{2} \Leftrightarrow x = 3$	

b. En la ecuación aparecen paréntesis, mas no denominadores.

Eliminamos paréntesis utilizando la propiedad distributiva, y luego, utilizamos el método general.

Ejemplo 4	Resolvamos la siguiente ecuación: $2x - (6 - 2(5x - 4)) = 6x - 2$.	
	Eliminación de los paréntesis	$2x - (6 - 10x + 8) = 6x - 2$ $2x - 6 + 10x - 8 = 6x - 2$
	Transposición de términos:	$2x - 6 + 10x - 8 + 6 + 8 - 6x =$ $= 6x - 2 + 6 + 8 - 6x$
	Reducción de términos semejantes:	$6x = 12$
<p>Despeje de la incógnita:</p> <p>Comprobamos la solución $x = 2$:</p> <p>$2(2) - [6 - 2(5(2) - 4)] = 6(2) - 2$; $4 + 6 = 12 - 2$; $10 = 10$</p>	$\frac{6x}{6} = \frac{12}{6} \Leftrightarrow x = 2$	

c. En la ecuación aparecen paréntesis y denominadores.

Los primeros pasos de la resolución deben ir encaminados a la eliminación de los denominadores.

Observa, a continuación, los pasos que han de seguirse.

Ejemplo 5

Resolvamos la ecuación: $\frac{2(x-1)}{3} - \frac{x+4}{15} + 1 = x \frac{3(x-2)}{5}$

Si hay paréntesis, los eliminamos de forma habitual. ¡Atención al signo menos delante de un paréntesis!

$$\frac{2x-2}{3} - \frac{x+4}{15} + 1 = x \frac{3x-6}{5}$$

Si hay denominadores, los suprimimos multiplicando los dos miembros por su m.c.m.

m.c.m. (3, 15, 5) = 15

$$15 \left(\frac{2x-2}{3} - \frac{x+4}{15} + 1 \right) = 15 \left(x - \frac{3x-6}{5} \right)$$

$$5(2x-2) - (x+4) + 15 = 15x - 3(3x-6)$$

Al suprimir denominadores, suelen aparecer nuevos paréntesis. En este caso, los eliminaremos.

$$10x - 10 - x - 4 + 15 = 15x - 9x + 18$$

Transposición de términos

$$10x - x - 15x + 9x = 18 + 10 + 4 - 15$$

Reducción de términos semejantes

$$3x = 17$$

Despeje de la incógnita

$$x = \frac{17}{3}$$

Comprobamos la solución : $x = \frac{17}{3}$:

$$\frac{28}{9} - \frac{29}{45} + 1 = \frac{17}{3} - \frac{11}{5} ; \frac{156}{45} = \frac{52}{15} ; \frac{52}{15} = \frac{52}{15}$$

Trabajo colaborativo

1. Formen parejas y resuelvan el siguiente problema.

Un examen tipo test consta de treinta preguntas. Cada respuesta correcta vale tres puntos, mientras que por cada respuesta en blanco o incorrecta se resta un punto. Si un alumno ha obtenido setenta puntos, ¿cuántas preguntas ha contestado correctamente?

Para aprobar, hay que obtener un mínimo de 42 puntos. ¿A cuántas preguntas correctas equivalen?

La quinta parte de los objetos de mi tesoro son monedas de oro y un tercio de ellas lleva engastado un diamante cada una; y además, cuatro monedas del total de las treinta de oro que poseo tienen dos diamantes engastados. Del resto del tesoro que no son monedas, la mitad son gemas y ninguna tiene diamantes. La mitad restante son joyas y dos quintas partes de estas tienen un diamante. ¿Cuántos diamantes tengo?

6. Números irracionales

6.1 Propiedades de los números irracionales

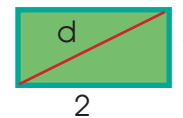
D.C.D.: M.4.1.26. Reconocer el conjunto de los números irracionales e identificar sus elementos en contraste con los números estudiados con anterioridad.

Las raíces de los números primos son ejemplos de los **números irracionales**.

Como sabemos, los números primos solo tienen un factor primo, ellos mismos. En otras palabras, no son divisibles para otro número entero. Es lógico pensar entonces que los números primos no posean raíces racionales.

Esto lo podemos ver claramente cuando aplicamos el teorema de Pitágoras.

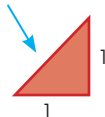
Para descubrir el primer número irracional en la historia, se usó precisamente el teorema de Pitágoras, ($a^2 + b^2 = \text{hipotenusa}^2$) con catetos de una unidad como valor.



Así:

$$1^2 + 1^2 = \text{hipotenusa}^2$$

$$\text{Hipotenusa} = \sqrt{2} \approx 1,414\ 213\ 562\dots$$



$$d^2 = 1^2 + 2^2$$

$$d^2 = 1 + 4$$

$$d^2 = 5$$

$$d = \sqrt{5}$$

Un número es irracional si su expresión decimal es ilimitada y no periódica.

El carácter irracional de 2

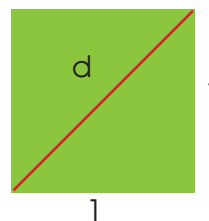
Observa cómo calculamos la longitud de la diagonal de un cuadrado de lado igual a la unidad.

Aplicamos el teorema de Pitágoras:

$$d^2 = 1^2 + 1^2 = 2$$

$$d^2 = 2$$

$$d = \sqrt{2}$$



Ahora, utilizamos la calculadora para hallar el valor de $\sqrt{2}$.

$$\sqrt{2} = 1,414\ 213\ 562$$

Por limitaciones de carácter físico, la calculadora nos ofrece solo un número limitado de cifras decimales; pero, en realidad, detrás de la última cifra hay un número ilimitado de cifras que en ningún momento forman período.

De hecho, si calculamos con una computadora o calculadora el valor de $\sqrt{2}$, obtenemos:

$$\sqrt{2}=1,414\ 213\ 562\ 373\ 095\ 048\ 801\ 688\ 724\ 209\ 698\ 07\dots$$

Vemos entonces que las cifras decimales no parecen terminar nunca ni se identifica una regularidad en ellas. Es decir, parece que $\sqrt{2}$ no es un número decimal limitado ni periódico, y, por tanto, debe ser irracional.

Nos hemos basado en un cálculo de la computadora para afirmar que $\sqrt{2}$ tiene infinitas cifras decimales que no se repiten de forma periódica; pero el no poder obtenerlas todas da lugar a que nos quede la duda de que, en un momento dado, estas empiecen a repetirse.

Los antiguos griegos no disponían de calculadoras ni de computadoras y, sin embargo, demostraron que $\sqrt{2}$ no es un número racional utilizando un método especial para ello.

Representación gráfica de números irracionales

Sabemos que todo número racional puede representarse sobre la recta; pero ¿todos

los puntos de la recta corresponden a números racionales? Podemos comprobar que no es así. Los números irracionales también tienen su lugar en la recta.

Vamos a ver cómo los representamos.

Irracionales que podemos obtener como suma de dos cuadrados

A los números irracionales de la forma a , siendo a un número natural, los podemos representar sobre la recta descomponiendo previamente el número a en una suma de cuadrados.

Observa algunos ejemplos.

Representación de $\sqrt{2}$

- Trazamos una recta y marcamos en ella los puntos 0, 1 y 2. De esta manera, tenemos el origen y los dos números enteros entre los que se sitúa $\sqrt{2}$.

$$1 < 1,4\dots < 2$$

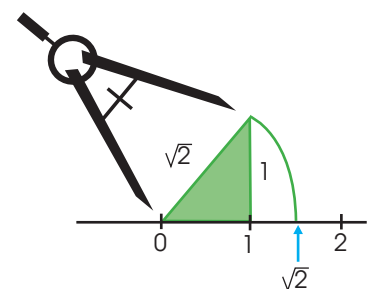
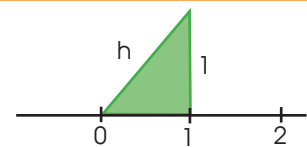
- Levantamos sobre el punto 1 un segmento perpendicular de una unidad de longitud.
- Unimos el extremo superior de este segmento con el origen.

Así, formamos un triángulo rectángulo cuyos catetos miden una unidad cada uno y cuya hipotenusa mide:

$$h^2 = 1^2 + 1^2 = 2 \longrightarrow h = \sqrt{2}$$

- Trasladamos el segmento h sobre la recta con un compás.

Hemos representado exactamente sobre la recta el número $\sqrt{2}$.

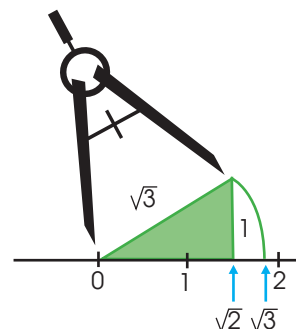


Representación de $\sqrt{3}$

- Descomponemos 3 en suma de cuadrados.

$$3 = 1^2 + (\sqrt{2})^2$$

- Representamos el punto $\sqrt{2}$ como hemos visto anteriormente.
- Levantamos sobre el punto $\sqrt{2}$ un segmento perpendicular de una unidad de longitud.
- Unimos el extremo superior de este segmento con el origen, formando un triángulo rectángulo cuya hipotenusa mide $\sqrt{3}$.
- Trasladamos dicho segmento sobre la recta con un compás.



Irracionales que no podemos obtener como suma de dos cuadrados

Hay otros números irracionales, como π , que no podemos obtener por un método geométrico; en estos casos, solo podemos representarlos de forma aproximada.

Representación de π

$$\pi = 3,141\ 5\dots$$

- Marcamos sobre la recta los dos números enteros entre los que se sitúa π , los puntos 3 y 4.
- Dividimos este intervalo en diez partes y marcamos la que contiene a π .

π está entre los puntos 3,1 y 3,2.

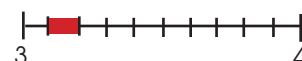
- Si quisiéramos afinar más, deberíamos volver a dividir este intervalo en diez partes y marcar la que contiene a π .

π está entre los puntos 3,14 y 3,15.

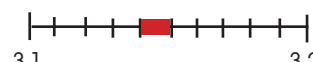
Y así sucesivamente, hasta obtener la aproximación deseada.



$$3 < \pi < 4$$



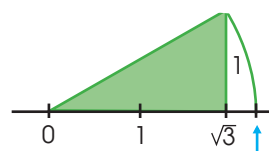
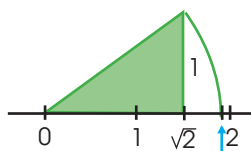
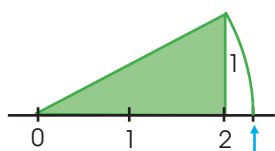
$$3,1 < \pi < 3,2$$



$$3,14 < \pi < 3,15$$

Trabajo individual

1. Elige, de entre las siguientes, la representación correcta del número $\sqrt{5}$.



2. Propón un procedimiento para representar sobre la recta $\frac{\sqrt{2}}{2}$.

— ¿Cómo representarías el número $5 + \sqrt{2}$?

3. Representa sobre la recta los números $\sqrt{2}$, $-\sqrt{5}$ y $\sqrt{8}$.

6.2 Números irracionales expresados como radicales

D.C.D.: M.4.1.27. Simplificar expresiones numéricas aplicando las reglas de los radicales.

A las operaciones con números reales irracionales expresados mediante un radical las solemos efectuar sin utilizar sus aproximaciones decimales. Ello nos lleva al estudio de los radicales y sus operaciones.

Si a y b son números reales, decimos que b es la **raíz enésima** de a , y la representamos por $b = \sqrt[n]{a}$, si $b^n = a$.



Radicales equivalentes

Observa estas igualdades:

$$3 = \sqrt{3^2} = \sqrt[4]{3^4} = \sqrt[5]{3^5} = \dots \Rightarrow$$

Los radicales $\sqrt{3^2}$, $\sqrt[4]{3^4}$, $\sqrt[5]{3^5}$ representan el mismo número. Decimos que son radicales equivalentes.

Veamos una propiedad que nos permite obtener radicales equivalentes:

Si el radicando es positivo, al multiplicar o dividir el índice del radical y el exponente del radicando por un mismo número natural, obtenemos dos radicales equivalentes.

$$\sqrt[n]{a} = \sqrt[n \cdot m]{a^m}$$

Para demostrarla, aplicamos la definición de raíz:

$$x = \sqrt[n]{a} \Leftrightarrow x^n = a \Leftrightarrow (x^0)^n = a^m \Leftrightarrow x^{n \cdot m} = a^m \Leftrightarrow \sqrt[n \cdot m]{a^m} = x$$

En el caso $a < 0$, si n y m son impares, también se cumple la igualdad anterior, mientras que si n es impar y m es par, verificamos:

$$\sqrt[n]{a} = \sqrt[n \cdot m]{a^m}$$

Esta propiedad es de gran utilidad para simplificar radicales y para reducir dos o más radicales a un índice común.

Signo de la raíz		
Índice	Radicando	Raíz
Par	+	±
	-	No tiene
Impar	+	+
	-	-

Racionalización de radicales

La **racionalización de radicales** consiste en quitar los radicales del denominador, lo que permite facilitar el cálculo de operaciones como la suma de fracciones.

Podemos distinguir tres casos, de los que veremos solo dos en este nivel.

Ejemplo 6

Racionalización del tipo $\frac{a}{b\sqrt{c}}$; multiplicamos el numerador y el denominador por \sqrt{c} .

$$\frac{a}{b\sqrt{c}} = \frac{a \cdot \sqrt{c}}{b\sqrt{c} \cdot \sqrt{c}} = \frac{a \cdot \sqrt{c}}{b(\sqrt{c})^2} = \frac{a \cdot \sqrt{c}}{b \cdot c}$$

Ejemplos:

$$\text{a. } \frac{2}{3\sqrt{2}} = \frac{2 \cdot \sqrt{2}}{3\sqrt{2} \cdot \sqrt{2}} = \frac{2 \cdot \sqrt{2}}{3(\sqrt{2})^2} = \frac{2 \cdot \sqrt{2}}{3 \cdot 2} = \frac{\sqrt{2}}{3}$$

$$\text{b. } \sqrt{2} + \frac{1}{\sqrt{2}} = \sqrt{2} + \frac{\sqrt{2}}{\sqrt{2} \cdot \sqrt{2}} = \sqrt{2} + \frac{\sqrt{2}}{(\sqrt{2})^2} = \sqrt{2} + \frac{\sqrt{2}}{2} = \left(1 + \frac{1}{2}\right) \sqrt{2} = \frac{3}{2} \sqrt{2}$$

Ejemplo 7

Racionalización del tipo $\frac{a}{b\sqrt[n]{c}}$

- Si m es mayor o igual que n , primero sacamos factores fuera del radical.
- Si m es menor que n , multiplicamos numerador y denominador por $\sqrt[n]{c^{m-n}}$.

$$\frac{a}{b\sqrt[n]{c^m}} = \frac{a \cdot \sqrt[n]{c^{m-n}}}{b\sqrt[n]{c^m} \cdot \sqrt[n]{c^{m-n}}} = \frac{a \cdot \sqrt[n]{c^{m-n}}}{b\sqrt[n]{c^m \cdot c^{m-n}}} = \frac{a \cdot \sqrt[n]{c^{m-n}}}{b\sqrt[n]{c^m}} = \frac{a \cdot \sqrt[n]{c^{m-n}}}{b \cdot c}$$

$$\frac{2}{3\sqrt[5]{4}} = \frac{2}{3\sqrt[5]{2^2}} = \frac{2 \sqrt[5]{2^3}}{3\sqrt[5]{2^2} \sqrt[5]{2^3}} = \frac{2 \sqrt[5]{8}}{3\sqrt[5]{2^5}} = \frac{\sqrt[5]{8}}{3}$$

Trabajo colaborativo

1. Formen parejas y racionalicen.

$$\text{a. } \frac{4\sqrt{2} + 2\sqrt{3}}{3\sqrt{2} + 2\sqrt{3}}$$

$$\text{b. } \frac{2}{5 + \sqrt{3}}$$

$$\text{c. } \frac{\sqrt{3}}{\sqrt{3} + 1}$$

2. Discutan: ¿Qué tipo de racionalización se debe usar en cada ejercicio? Para aprobar, hay que obtener un mínimo de 42 puntos. ¿A cuántas preguntas correctas equivalen?

7. Introducción a los polinomios

7.1 Propiedades básicas de los polinomios de primero y segundo grado.

D.C.D.: M.4.1. 23, 24. Definir, reconocer y operar con polinomios de grado ≤ 2 (adición y producto por escalar) en ejercicios numéricos y algebraicos.

M.4.1.25. Reescribir polinomios de grado 2 con la multiplicación de polinomios de grado 1.

Un polinomio es una expresión algebraica de la forma:

$$P(x) = a_n x^n + a_{n-1} x^{n-1} + a_{n-2} x^{n-2} + \dots + a_1 x^1 + a_0$$

Siendo $a_n, a_{n-1}, \dots, a_1, a_0$ números, llamados **coeficientes**.

n un número natural.

x la variable o indeterminada.

a_0 es el término independiente.

A una expresión algebraica que contenga dos términos la denominamos **binomio**.

$$3a + b^2 \quad 4a^2 - 12ab \quad (a + b)^2$$

Un **binomio** es una expresión algebraica que consta de una suma o una resta de dos términos.

Grado de un polinomio

El grado de un polinomio $P(x)$ es el mayor exponente al que se encuentra elevada la variable x .

Polinomio completo

Es aquel que tiene todos los términos desde el término independiente hasta el término de mayor grado.

Polinomio ordenado

Un polinomio está ordenado si los monomios que lo forman están escritos de mayor a menor grado.

Polinomios iguales

- Dos polinomios son iguales si verifican:
- Los dos polinomios tienen el mismo grado.
- Los **coeficientes** de los términos del mismo grado son **iguales**.

Valor numérico de un polinomio

Es el resultado que obtenemos al sustituir la variable x por un número cualquiera.

Ejemplo 8

Observa y analiza los términos del siguiente polinomio

$$P(x) = 5 + 7x - 2x^2 + 23x^4$$

Término principal: $23x^4$

Término independiente: 5

Coefficientes: 5, 7, -2 y 23

Grado del polinomio: 4

Trabajo individual

1. De los siguientes polinomios identifique los términos

a. $P(x) = 21 + 2^3 - 12x^2 + 3x$

Término principal: _____

Término independiente: _____

Coefficientes: _____

Grado del polinomio: _____

b. $P(x) = 7x - 5x^2 + 3x^3$

Término principal: _____

Término independiente: _____

Coefficientes: _____

Grado del polinomio: _____

c. $P(x) = x^2 - 3x + 4x^2 + 2x^3$

Término principal: _____

Término independiente: _____

Coefficientes: _____

Grado del polinomio: _____

Operaciones con polinomios

Veamos cómo efectuar operaciones con polinomios.

Suma y resta de polinomios

Para sumar y restar dos polinomios, operamos los términos semejantes.

Ejemplo 9

Dados $P(x) = 3x^4 - 2x^2 + x + 8$ y $Q(x) = x^4 + 2x^3 - x^2 + x$, calculemos $P(x) + Q(x)$.

Comprensión

Para facilitar el cálculo, colocaremos los polinomios de forma adecuada.

Resolución

$$\begin{array}{r} P(x) = 3x^4 \quad - 2x^2 + x + 8 \\ + Q(x) = x^4 + 2x^3 - x^2 + x \\ \hline P(x) + Q(x) = 4x^4 + 2x^3 - 3x^2 + 2x + 8 \end{array}$$

y $P(x) - Q(x)$:

$$\begin{array}{r} P(x) = 3x^4 \quad - 2x^2 + x + 8 \\ + Q(x) = -x^4 - 2x^3 + x^2 - x \quad \leftarrow \text{(Cambiamos los signos).} \\ \hline P(x) - Q(x) = 2x^4 + 2x^3 - x^2 + 8 \end{array}$$

La suma de polinomios tiene estas propiedades:

Asociativa:

$$[P(x) + Q(x)] + R(x) = P(x) + [Q(x) + R(x)]$$

Conmutativa:

$$P(x) + 0 = P(x)$$

Elemento neutro:

$$P(x) + Q(x) = Q(x) + P(x)$$

Elemento opuesto:

$$P(x) + [-P(x)] = 0$$

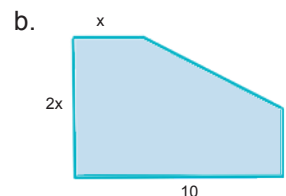
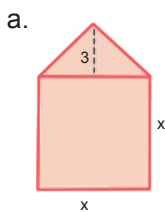
La multiplicación también cumple las propiedades asociativa y conmutativa, y tiene elemento neutro 1. Además, es distributiva respecto de la suma:

$$P(x) \cdot [Q(x) + R(x)] = P(x) \cdot Q(x) + P(x) \cdot R(x)$$



Trabajo individual

1. Exprese el perímetro de estas figuras con polinomios



Multiplicación y división de polinomios

Para multiplicar dos polinomios, multiplicamos todos los términos del primero por los del segundo.

El método de la división es parecido a la división numérica. Observa esta división:

$$(6x^3 - 2x^2 + x + 3) : (x^2 - x + 1)$$

- Colocamos los polinomios y dividimos los términos de mayor grado; multiplicamos el cociente por los términos del divisor, restamos el resultado del dividendo y obtenemos el primer resto parcial.

$$\begin{array}{r} 6x^3 - 2x^2 + x + 3 \quad \left| \begin{array}{l} x^2 - x + 1 \\ 6x \end{array} \right. \\ \underline{-6x^3 + 6x^2 - 6x} \\ 4x^2 - 5x + 3 \end{array}$$

- Repetimos el proceso con el polinomio resultante hasta obtener un resto parcial de grado menor que el grado del divisor.

$$\begin{array}{r} 6x^3 - 2x^2 + x + 3 \quad \left| \begin{array}{l} x^2 - x + 1 \\ 6x + 4 \end{array} \right. \\ \underline{-6x^3 + 6x^2 - 6x} \\ 4x^2 - 5x + 3 \\ \underline{-4x^2 + 4x - 4} \\ -x - 1 \end{array}$$

El resultado da $6x + 4$ y el resto, $R(x) = -x - 1$. La prueba de la división permitirá verificar que el resultado es correcto: cociente \times divisor + resto = dividendo.

Ejemplo 10

Sean $P(x) = x^5 + 2x^3 - x - 8$ y $Q(x) = x^2 + 1$, Calculemos: a. $P(x) \cdot Q(x)$; b. $P(x) : Q(x)$.

Comprensión

Para realizar la multiplicación y la división, debemos colocar correctamente los polinomios, dejando espacios en la posición correspondiente a los términos nulos.

Resolución

$$\begin{array}{r} x^5 + 0x^4 + 2x^3 + 0x^2 - x - 8 \\ \quad \quad \quad \quad \quad \quad \quad x^2 + 1 \\ \hline x^5 + 2x^3 - x - 8 \\ x^7 + 2x^5 - x^3 - 8x^2 \\ \hline x^7 + 3x^5 + x^3 - 8x^2 - x - 8 \end{array}$$

$$\begin{array}{r} x^5 + 2x^3 - x - 8 \quad \left| \begin{array}{l} x^2 + 1 \\ x^3 + x \end{array} \right. \\ \underline{-x^5 - x^3} \\ x^3 - x - 8 \\ \underline{-x^3 - x} \\ -2x - 8 \end{array}$$

Trabajo individual

1. Resuelva las siguientes multiplicaciones

a. $(5x^2 + 4x + 1) \cdot (6x + 1)$

b. $(8x^3 - 7x^2 + 2x + 1) \cdot (x^2 + 2x + 1)$

c. $\left[\frac{1}{2}x - \frac{3}{2} \right]^2$

d. $\left[x^4 + 4x^2 - \frac{1}{2} \right] \cdot \left[x^3 + \frac{1}{2}x \right]$

2. Realice las divisiones e indique el cociente y el residuo de cada una:

a. $(x^3 + 2x + 70) : (x + 4)$

c. $(x^6 + x) : (x + 3)$

e. $(4x^3 - 5x) : (x - 2)$

b. $(x^5 - 2x^2 - 3) : (x + 1)$

d. $(x^3 + 2x^2 - 4x - 8) : (x - 3)$

f. $(x^7 - x) : (x + 2)$

Productos notables

Recordemos que, al trabajar con expresiones algebraicas, es frecuente encontrarnos con estos productos de binomios, denominados *productos notables*:

$$(a + b)^2$$



El **cuadrado** de una **suma** es igual al cuadrado del primer término más el doble del primero por el segundo más el cuadrado del segundo.

$$(a + b)^2 = a^2 + 2ab + b^2$$

$$(a - b)^2$$



El **cuadrado** de una **diferencia** es igual al cuadrado del primero menos el doble del primero por el segundo más el cuadrado del segundo.

$$(a - b)^2 = a^2 - 2ab + b^2$$

$$(a + b) \cdot (a - b)$$



El **producto** de una suma por una diferencia de los mismos términos es igual al cuadrado del primero menos el cuadrado del segundo.

$$(a + b) \cdot (a - b) = a^2 - b^2$$

Ejemplo 11

Encontremos el área del cuadrado cuyo lado mide $m + 9$:

$$A = \text{lado}^2 = (m + 9)^2 = m^2 + 2(9m) + 9^2 = m^2 + 18m + 81$$



$m + 9$

Trabajo individual

- Resuelve.
 - $(1 + 4x)^2$
 - $(7x - 10)^2$
 - $(4a + 5b^2)(4a - 5b^2)$
- Calcula el área del cuadrado en estos ejercicios:
 - Lado mide: $-a^2 - b^3$
 - Lado mide: $0,5 mn^2 + 0,15 m^2n$

$$(a + b)^3$$



El **cubo** de una **suma** es igual al cubo del primer término más el triple del primero al cuadrado por el segundo más el triple del segundo al cuadrado por el primero más el segundo término al cubo.

$$(a + b)^3 = a^3 + 3a^2b + 3ab^2 + b^3$$

$$(a - b)^3$$



El **cubo** de una **diferencia** es igual al cubo del primer término menos el triple del primero al cuadrado por el segundo más el triple del segundo al cuadrado por el primero menos el segundo término al cubo.

$$(a - b)^3 = a^3 - 3a^2b + 3ab^2 - b^3$$

$$a^3 + b^3$$



La **suma de cubos** es igual a la multiplicación de la suma del primer y segundo término por el cuadrado del primero menos el primero por el segundo más el cuadrado del segundo.

$$a^3 + b^3 = (a + b)(a^2 + ab + b^2)$$

$$a^3 - b^3$$



La **diferencia de cubos** es igual a la multiplicación de la diferencia del primer y segundo término por el cuadrado del primero más el primero por el segundo más el cuadrado del segundo.

$$a^3 - b^3 = (a - b)(a^2 + ab + b^2)$$

Trabajo colaborativo

1. Junto con un compañero completen los términos faltantes para obtener igualdades en los siguientes ejercicios

a. $(5 + x)^2 = \underline{\hspace{2cm}} + 10x + \underline{\hspace{2cm}}$

b. $(m - 3)^2 = m^2 - \underline{\hspace{2cm}} + 9$

c. $(\underline{\hspace{2cm}} - 5x^3)^2 = 9a^4 - \underline{\hspace{2cm}} + 25x^6$

d. $(4x + \underline{\hspace{2cm}})^2 = 16a^2 + \underline{\hspace{2cm}} + 25b^4$

e. $(7ax^4 + 9y^5)^2 = \underline{\hspace{2cm}} + \underline{\hspace{2cm}} + \underline{\hspace{2cm}}$

f. $(6 - 2h)^2 = \underline{\hspace{2cm}} - 24h + \underline{\hspace{2cm}}$

Indicadores de evaluación

- Emplea operaciones con polinomios de grado ≤ 2 . (I.4.)
- Expresa polinomios de grado 2 como la multiplicación de polinomios de grado 1. (I.4.)
- Expresa raíces como potencias con exponentes racionales. (I.3., I.4.)

1 Une el número con su escritura.

- | | |
|--------------------|----------------------------------|
| a. $\frac{173}{6}$ | 1. ciento setenta y tres medios |
| b. $\frac{173}{5}$ | 2. ciento setenta y tres octavos |
| c. $\frac{173}{2}$ | 3. ciento setenta y tres tercios |
| d. $\frac{173}{8}$ | 4. ciento setenta y tres quintos |

Opciones de respuesta

- A1, B3, C2, D4
- A2, B1, C4, D3
- A3, B4, C1, D2
- A4, B2, C3, D1

2 Indica cuáles de las siguientes aseveraciones son correctas, corrige las otras para que sean correctas.

- Los números racionales pueden ser representados por números decimales finitos o por números periódicos.
- Los números racionales son aquellos que pueden ser escritos de números enteros.
- Un número es irracional si su expresión decimal es limitada y no periódica.

3 Completa con los valores que faltan para obtener igualdades en los siguientes ejercicios.

a. $(8 + 2y)^2 = \underline{\quad} + \underline{\quad}y + 4$

b. $(\underline{\quad} + 3a^2)(x^2 + \underline{\quad}) = x^4 + 9a^4$

c. $(7a^2b - \underline{\quad})^2 = \underline{\quad}a^4b^2 - 84\underline{\quad} + 36c^2d^8$

4 Completa el cuadro con el valor numérico.

Valores de x:	1	2	0	-1
$x^2 - 3x + 2$				
$3x - 2$				
$(x + 1)^2$				

5 Escriba una frase que defina cada una de estas expresiones algebraicas

a. $3a - b$

b. $3a^2 + b$

c. $\frac{a}{3} - 4$

d. $a^2 - b^2$

e. $\frac{a+b}{2}$


f. $(a + b)^2$

Autoevaluación

Empleo operaciones con polinomios de grado ≤ 2 . (I.4.)

Expreso raíces como potencias con exponentes racionales. (I.3., I.4.)

Expreso polinomios de grado 2 como la multiplicación de polinomios de grado 1. (I.4.)



Recuperada de goo.gl/9VxK1S

Para empezar

- ¿Qué estructura forman los panales de abeja?
- ¿Cuál es la relación de las longitudes del centro del panal con una pared del panal?
- ¿Cuál sería la longitud sumada de cada figura de los panales?

Objetivo

Reconocer las relaciones entre los números enteros, racionales, irracionales y reales; ordenarlos y operar con ellos; fomentar el pensamiento lógico y creativo.

Introducción

En esta unidad se estudiarán los números reales, sus propiedades y operaciones. Aprenderemos a realizar operaciones combinadas con adición, sustracción, multiplicación, potenciación y la radicación; también aprenderemos sobre sus aplicaciones.

Contenidos

1. Los números reales

- 1.1. Propiedades de los números reales
- 1.2. Operaciones básicas con números reales
- 1.3. Suma y multiplicación de números reales
- 1.4. Productos notables
- 1.5. Radicación con reales

1.6. Potencias de base real y exponente entero

1.7. Potenciación de números reales no negativos con exponentes racionales

2. Ecuaciones de primer grado con una incógnita con números reales

2.1. Representación de intervalos de números reales

1. Los números reales

1.1 Propiedades de los números reales

D.C.D.: M.4.1.29. Aproximar números reales a números decimales para resolver problemas.

Aproximación decimal de un número irracional

Acabamos de ver que las expresiones decimales de los números irracionales constan de una parte entera y un decimal ilimitado no periódico.

$$\sqrt{2} = 1,414\ 213\ 562\ 37\dots$$

$$\pi = 3,141\ 592\ 653\ 5\dots$$

A la hora de operar con estos números o dar el resultado de un ejercicio, no podemos utilizar una cantidad infinita de cifras decimales, por lo que debemos tomar una **aproximación**, es decir, un número próximo al valor exacto.

Las aproximaciones pueden ser por defecto o por exceso. Así:

$$1,54 \xrightarrow{\text{Redondeo}} 1,5$$

Observemos que:

$$1,54 > 1,5$$

En este caso decimos que hemos efectuado una **aproximación por defecto**.

$$23,67 \xrightarrow{\text{Redondeo}} 23,7$$

Por otro lado, tenemos que:

$$23,67 < 23,7$$

En este caso decimos que la **aproximación es por exceso**.

Truncamiento y redondeo

Conozcamos dos formas de tomar aproximaciones de números reales, el truncamiento y el redondeo.

- **Aproximación por truncamiento**

Suprimimos las cifras decimales, sin más, a partir de un orden dado.

- **Aproximación por redondeo**

Observamos la primera cifra que debe suprimirse de acuerdo con el orden deseado y procedemos de este modo:

Número real	Orden de aproximación	Primera cifra suprimida	Aprox. por truncamiento	Aprox. por redondeo
2,241 53...	décimas	4	2,2	2,2
11,648 231...	centésimas	8	11,64	11,65
0,003 74	milésimas	7	0,003	0,004

- Si es menor que 5, la cifra inmediatamente anterior se deja igual.
- Si es mayor o igual que 5, añadimos una unidad a la cifra inmediatamente anterior.

Calculadora:

La calculadora ofrece un resultado aproximado debido a que trabaja con un número limitado de decimales. Observa estos cálculos.

- $\frac{53}{45}$

Tecllea:



En la pantalla aparece:

Sin embargo, este es un resultado. El valor exacto de $\frac{53}{45}$ es 1,17, como puedes comprobar de este número decimal.

1,177777778

Cifras significativas

Para expresar una cantidad o una medida, ya sea exacta o una aproximación, utilizaremos más o menos cifras según el grado de precisión que nos interese y el número de cifras que conozcamos con certeza. Así diremos que la cantidad tiene más o menos cifras significativas.

Así 12,5 tiene tres cifras significativas (1, 2 y 5).

12,50 tiene cuatro cifras significativas (1, 2, 5 y 0).

Observamos que 12,50 tiene un grado de precisión mayor que 12,5, pues sabemos que la cifra de las centésimas es 0, mientras que en 12,5 desconocemos cuál es.

Errores

Siempre que efectuamos una aproximación, estamos cometiendo un error. Así, al aproximar $\sqrt{2}$ por 1,41 cometemos un error de:

$$|1,414\ 213\ 562\ 37\dots - 1,41| = 0,004\ 213\ 562\ 37\dots$$

En el cálculo del error hay que distinguir entre el *error absoluto* y el *error relativo*.

Error absoluto

Es el valor absoluto de la diferencia entre el valor aproximado y el valor exacto.

$$\text{Error absoluto} = |\text{Valor aproximado} - \text{Valor exacto}|$$

Error relativo

Es el cociente entre el error absoluto y el valor exacto.

$$\text{Error relativo} = \frac{\text{Error absoluto}}{\text{Valor exacto}}$$

Al llevar a cabo medidas de cualquier magnitud también cometemos un error. Generalmente, admitimos como cota del error absoluto la resolución del instrumento de medida.

Así, si medimos una longitud de 15,7 cm con una regla cuya resolución es de 1 mm, daremos como resultado de la medida (15,7 \pm 0,1) cm.

Asimismo, la cota de error absoluto determinará el número de cifras significativas que podemos tomar en la medida.

Al aproximar $\sqrt{2}$ por 1,41 no es posible cuantificar exactamente el error absoluto, pero sí podemos afirmar que este es menor que 0,005. Decimos que 0,004 es una cota del error absoluto.

Acostumbramos a expresar una aproximación mediante el valor aproximado seguido de una cota del error absoluto.

$$\sqrt{2} = \pm 1,41 + 0,005$$

Esta expresión indica que el valor exacto de $\sqrt{2}$ se encuentra en el intervalo cuyos extremos son $\pm 1,41 - 0,005$ y $\pm 1,41 + 0,005$.



Mundo Digital

Si accede a la página <https://goo.gl/zEjUZb>, encontrará distintos ejemplos que ilustran cómo varían el error absoluto y relativo en función de las cifras significativas que se escojan en la aproximación.



Trabajo individual

1. Aproxime por redondeo a las milésimas $\frac{621}{63}$ e indique una cota del error absoluto.

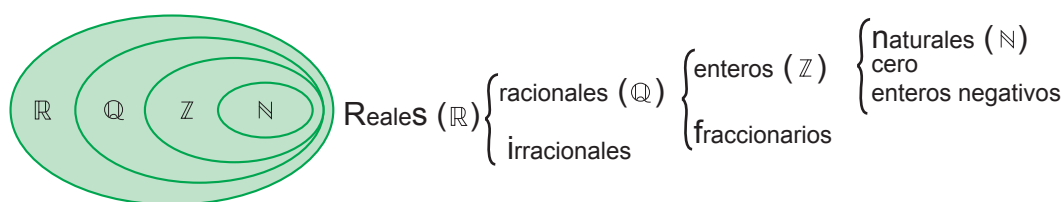
1.2 Operaciones básicas con números reales

D.C.D.: M.4.1. Q, 30 Reconocer el conjunto de los números reales y establecer relaciones de orden utilizando la recta numérica y la simbología matemática en comparaciones con datos obtenidos del entorno como medidas, precios, poblaciones, etc.

El conjunto de los números reales

La necesidad de resolver numerosos problemas aritméticos, geométricos y de la vida nos ha llevado a ampliar los conjuntos numéricos. Hemos avanzado de los números naturales a los enteros por la necesidad de la resta, de los enteros a los racionales por la necesidad de la división. Hemos encontrado a los números irracionales, al descubrir que existen decimales ilimitados no periódicos y que algunos de ellos son las raíces no exactas o ciertos números particulares como π .

Este conjunto recibe el nombre de *conjunto de los números reales* y lo representamos con el signo \mathbb{R} .



Los números reales engloban tanto a los números racionales \mathbb{Q} como los irracionales. Dentro de \mathbb{Q} se encuentran los números enteros \mathbb{Z} y fraccionarios. Dentro de los números enteros se hallan los números naturales $\mathbb{N} = \{1, 2, 3, \dots\}$, cero y los enteros negativos.

Una vez representados los números racionales y los irracionales sobre una recta, ya no quedan puntos vacíos en ella. Los números reales la llenan por completo; de ahí el nombre de *recta real*.

Como vimos con los números racionales, los números reales también pueden ser escritos de forma ordenada en una recta.

Ordenación de los números reales

Puesto que a los números reales los podemos representar sobre una recta, es posible ordenar el conjunto de los números reales siguiendo el mismo criterio que el establecido en el conjunto de los números racionales.

Para saber si un número está después de otro o no en la recta real, debemos observar la expresión decimal de los números irracionales. Un ejemplo de esto es ubicar 3, y π .

Número real	Expresión decimal
3	3,000
$\frac{22}{7}$	3,142 857 6
π	3,141 592 653 589 793 2...

Mundo Digital

Busca en Internet información sobre los números reales. Por ejemplo:

<https://goo.gl/zDo3e7>

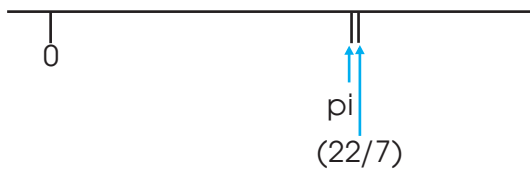
¿Hay otro conjunto de números que no estén dentro de los reales?

Trabajo individual

- Pon verdadero (V) o falso (F) a las siguientes proposiciones.
 - El número $\overline{7,125}$ es un número irracional. ()
 - La longitud de la circunferencia es un número irracional, ya que es el resultado de $2\pi r$. ()
 - Las raíces de los números primos son números irracionales. ()
 - Los números decimales infinitos son irracionales. ()

La expresión decimal de esos números es esta:

Fijándonos en los dígitos, podemos observar que 3 es el número más pequeño de los tres, lo que hace que vaya más hacia la izquierda en la recta, el número del medio es π y el mayor es $\frac{22}{7}$, aunque sea muy cercano a π . De hecho, este valor se utilizaba como aproximación de π en culturas antiguas.



Así como con los números cercanos a π , cualquier número real tiene su lugar en la recta. Si un número a es menor que un número b , escribimos $a < b$ y representamos a más a la izquierda de la recta real que b .

Observemos la representación sobre una recta de los números reales $\sqrt{2}$ y 1,5.

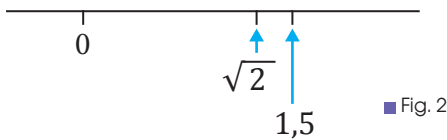



Fig. 2

Como 1,5 queda situado a la derecha de $\sqrt{2}$, concluimos que:

$$\sqrt{2} < 1,5$$

Dados dos números reales a y b , diremos que b es mayor que a si al efectuar su representación gráfica sobre la recta real, b queda situado a la derecha de a .



Intervalos de números reales

La ordenación de los números reales permite hablar del conjunto de estos números comprendidos entre dos de ellos, a y b .

A este conjunto lo denominamos *intervalo de extremos a y b* . Según si incluyen los extremos o no, los intervalos se clasifican en:

Características de los instrumentos de medida

Sensibilidad: Mínima medida que el aparato puede realizar. Un instrumento es tanto más sensible cuanto más pequeña sea la cantidad que puede medir. Así, una balanza que aprecia miligramos es más sensible que otra que aprecia gramos.

Exactitud: Grado de coincidencia entre el valor medido y el real. Existen balanzas analíticas cuyos valores de exactitud en la lectura son de 0,1 mg.

Precisión: Grado de coincidencia de un conjunto de medidas efectuadas. Suele expresarse como tanto por ciento de la lectura efectuada. Por ejemplo, un termómetro con una precisión de $\pm 1\%$ de $150\text{ }^\circ\text{C}$; es decir, $\pm 1,5\text{ }^\circ\text{C}$.

Cifras significativas: En la expresión de una medida, las cifras significativas son las que se consideran ciertas y una más, que se considera aproximada.

Intervalo cerrado
$[a, b]$
Conjunto de números reales comprendidos entre a y b , incluidos los extremos.
Intervalo abierto
(a, b)
Conjunto de números reales comprendidos entre a y b , sin incluir los extremos.

Intervalo semiabierto



$$[a, b)$$

Conjunto de números reales comprendidos entre a y b , incluido solo el extremo a .



$$(a, b]$$

Conjunto de números reales comprendidos entre a y b , incluido solo el extremo b .

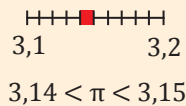
El espacio entre dos números en la recta se llama un *segmento de recta*.

Los segmentos de recta se clasifican en intervalos cerrados, abiertos y semiabiertos.

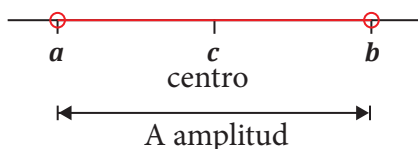
Un **intervalo cerrado** incluye ambos puntos que se encuentran en sus bordes, es decir, comprende todos los números mayores que a y menores que b , incluyendo a a y a b .

Los **intervalos abiertos** no incluyen ningún valor de la frontera, es decir, un intervalo abierto entre a y b es aquel que contiene números mayores a a , menores a b , pero no incluye a a ni b . Finalmente, un **intervalo semiabierto** contiene a o b , pero no a ambos.

Los intervalos son muy útiles para representar gráficamente los números irracionales.



Observemos que, si el extremo está incluido en el intervalo, lo representamos mediante un pequeño círculo (●); si no está incluido, lo representamos mediante una pequeña circunferencia (○).



La distancia entre los dos extremos del intervalo se llama *amplitud del intervalo*. La calculamos como el valor absoluto de la diferencia entre los extremos.

$$A = d(a, b) = |a - b|$$

El punto que equidista de los dos extremos de un intervalo recibe el nombre de *centro del intervalo* y lo calculamos como la media aritmética de los valores de los extremos.

Trabajo individual

1. Escribe un intervalo abierto de centro -2 y amplitud igual a 8 .
2. Representa los intervalos:
 $[-2, -1]$, $(-2, -1)$, $[-2, -1)$, $(-2, -1]$ y $|x| < |2|$.
3. Explica qué tipos de intervalos existen según incluyan a los extremos o no.
4. Responde: ¿Qué diferencia hay entre un intervalo abierto y uno semiabierto?
5. Representa los intervalos $[-3, 4)$ y $(1, 3]$. Colorea el trozo de recta común a ambos intervalos.
 — ¿Qué intervalo representa el trozo de recta coloreado?
6. Completa la tabla.

Representación	Intervalo
	$[-1, 3]$
	$(2, 5)$
	$[2, 5]$

7. Representa los intervalos:
 $[-2, -1]$, $(-2, -1)$, $[-2, -1)$, $(-2, -1]$ y $|x| < |2|$.
8. Representa los intervalos $[-1, 3]$ y $(2, 5)$. Colorea el trozo de recta común a ambos intervalos.
 — ¿Qué intervalo representa el trozo de recta coloreado?

1.3. Suma y multiplicación de números reales

D.C.D.: M.4.1. 31, 32 Calcular adiciones y multiplicaciones con números reales y con términos algebraicos aplicando propiedades en R (propiedad distributiva de la suma con respecto al producto).

El valor absoluto de un número real positivo o negativo es el número real que obtenemos al prescindir de su signo; lo representamos escribiendo el número real entre dos barras verticales.

$$8,432 = 8,432 \quad 14 = 14$$

La principal novedad que presentan los números reales, desde el punto de vista de las operaciones, son las expresiones decimales infinitas de los números periódicos y de los irracionales, con las que no podemos trabajar.

Para sumar, restar, multiplicar y dividir con este tipo de números, es necesario escoger aproximaciones con expresión finita.

Adición de números reales

Para sumar dos números reales, sumamos las sucesivas aproximaciones decimales del mismo orden.

$$\begin{array}{r} \sqrt{3} = 1,732\ 050\ 80\dots; \quad \sqrt{8} = 2,828\ 427\ 12\dots \\ +1,732\ 0 < \sqrt{3} < 1,732\ 1 \\ +2,828\ 5 < \sqrt{8} < 2,828\ 5 \\ \hline +4,560\ 4 < \sqrt{3} + \sqrt{8} < 4,560\ 6 \end{array}$$

Por tanto, el número real suma es:

$$3 + 8 < 4,560.$$

Observemos que solo son correctas tres de las cuatro cifras decimales obtenidas al sumar las aproximaciones. Si queremos obtener la suma con un determinado orden de aproximación, debemos tomar algún orden más en los sumandos.

Propiedades de la suma de números reales

- **Conmutativa:** Si cambiamos el orden de los sumandos, el resultado no varía:

- **Asociativa:** En una suma de varios sumandos, el resultado no depende de cómo agrupemos los términos: .
- **Elemento neutro:** El 0 es el elemento neutro de la suma, porque, al sumar 0 a cualquier número entero, obtenemos dicho número: .
- **Elemento opuesto:** El opuesto de un número real es el número real que sumado a él da 0: .

Suma de radicales

Solamente pueden sumarse (o restarse) dos radicales cuando son radicales semejantes, es decir, si son radicales con el mismo índice e igual radicando.

$$a \sqrt[n]{k} + b \sqrt[n]{k} + c \sqrt[n]{k} = (a + b + c) \sqrt[n]{k}$$



Desde la Historia

Richard Dedekind

Matemático alemán (1831 - 1916)

Entre sus contribuciones destacan la definición de número real y su análisis de la naturaleza de los números. Dedekind definió número real como un corte en el conjunto de los números racionales. Es decir, que todo número real es el límite de una sucesión de números racionales.



<http://goo.gl/My9M3l>

Multiplicación de números reales

Propiedades de la multiplicación de números reales

- **Conmutativa:** Si cambiamos el orden de los factores, el resultado no varía:

$$a \cdot b = b \cdot a$$

- **Asociativa:** En un producto de diversos factores, el resultado no depende de cómo los agrupemos:

$$(a \cdot b) \cdot c = a (b \cdot c)$$

- **Elemento unidad:** El 1 es el elemento unidad de la multiplicación porque, al multiplicar cualquier número entero por 1, obtenemos el mismo número:

$$a \cdot 1 = 1 \cdot a = a$$

- **Propiedad distributiva de la multiplicación respecto de la suma:**

$$a \cdot (b + c) = a \cdot b + a \cdot c$$

Esta propiedad nos permite sacar **factor común**:

$$a \cdot b + a \cdot c \quad a \cdot d = a \cdot (b + c \cdot d)$$

Al multiplicar un número racional por un número irracional, obtenemos un número irracional.

$$\frac{5}{3} = \frac{5}{3}$$

Si multiplicamos un número irracional por otro número irracional, podemos obtener números irracionales o racionales.

$$\begin{aligned} \sqrt{a} \sqrt{b} &= \sqrt{a b} \\ \sqrt{2} \sqrt{6} &= \sqrt{12} = \sqrt{2^2 \cdot 3} = \sqrt{3} \end{aligned}$$

Multiplicación de radicales

Para multiplicar dos números reales, multiplicamos las sucesivas aproximaciones decimales del mismo orden:

$$\sqrt{6} = 2,449\ 489\ 74\dots; \pi = 3,141\ 592\ 65\dots$$

$$6 = 2,449\ 4 < \sqrt{6} < 2,449\ 5$$

$$x \quad 3,141\ 5 < \pi < 3,141\ 6$$

$$7,694\ 701 < x\pi < 7,695\ 346\ 2$$

Por tanto, el número real producto es:

$$6 \cdot \pi = 7,69.$$

Como en la adición, si queremos obtener el producto con un determinado orden de aproximación, debemos tomar algún orden más en los factores.

Producto de radicales. Radicales del mismo índice

Para multiplicar radicales con el mismo índice, multiplicamos los radicandos y dejamos el mismo índice.

$$\sqrt{a} \cdot \sqrt{b} = \sqrt{a \cdot b}$$

$$\sqrt{2} \cdot \sqrt{6} = \sqrt{12} = \sqrt{2^2 \cdot 3} = 2\sqrt{3}$$

Cuando terminemos de realizar una operación, extraeremos factores del radical si es posible.

Radicales de distinto índice

Primero reducimos a índice común y, luego, multiplicamos.

Ejemplo 1

$$\bullet \quad \sqrt{3} \cdot \sqrt[3]{9} \cdot \sqrt[4]{27} \rightarrow \text{m.c.m.}(2, 3, 4) = 12$$

$$\begin{aligned} & \sqrt[12]{3^6} \cdot \sqrt[12]{(3^2)^4} \cdot \sqrt[12]{(3^3)^3} = \sqrt[12]{3^6 \cdot 3^8 \cdot 3^9} \\ & = \sqrt[12]{3^{23}} = 3 \sqrt[12]{3^{11}} \end{aligned}$$

$$\bullet \quad \sqrt{12} \cdot \sqrt[3]{36} \rightarrow \text{m.c.m.}(2 \cdot 3) = 6$$

$$\begin{aligned} & \sqrt[6]{12^3} \cdot \sqrt[6]{36^2} = \sqrt[6]{(2^2 \cdot 3)^3 \cdot (2^2 \cdot 3)^2} \\ & = \sqrt[6]{2^6 \cdot 3^3 \cdot 2^4 \cdot 3^4} = \sqrt[6]{2^{10} \cdot 3^7} = 6 \sqrt[6]{2^4 \cdot 3} \end{aligned}$$

Trabajo individual

1. Realice estas sumas.

a. $2\sqrt{5} + \sqrt{45} + \sqrt{180} - \sqrt{80}$

b. $\sqrt{108} + \sqrt{27} - \sqrt{75}$

c. $\sqrt[3]{54} - \sqrt[3]{16} + \sqrt[3]{250}$

2. Realice los productos.

a. $5\sqrt{3}$

b. $2\pi\sqrt{2}$

c. $\sqrt{5} \cdot \pi$

d. $2\sqrt{\frac{3}{8}} \cdot 5\sqrt{96}$

1.4. Productos Notables

D.C.D.: M.4.1.33 Reconocer y calcular productos notables e identificar factores de expresiones algebraicas.

Recordemos que, al trabajar con expresiones algebraicas, es frecuente encontrarnos con estos productos de binomios, denominados *productos notables*

Binomio al cuadrado

$(a + b)^2 \rightarrow$ El **cuadrado** de una **suma** es igual al cuadrado del primer término más el doble del primero por el segundo más el cuadrado del segundo.

$$(a + b)^2 = a^2 + 2ab + b^2$$

Ejemplo 2

$$\begin{aligned}(x + 3)^2 &= x^2 + 2 \cdot x \cdot 3 + 3^2 \\ &= x^2 + 6x + 9\end{aligned}$$

Diferencia de cuadrados

$(a - b)^2 \rightarrow$ El **cuadrado** de una **diferencia** es igual al cuadrado del primero menos el doble del primero por el segundo más el cuadrado del segundo.

$$(a - b)^2 = a^2 - 2ab + b^2$$

Ejemplo 3

$$\begin{aligned}(2x - 3)^2 &= (2x)^2 - 2 \cdot x \cdot 3 + 3^2 \\ &= 4x^2 - 12x + 9\end{aligned}$$

Suma por diferencia

$(a + b) \cdot (a - b) \rightarrow$ El **producto** de una suma por una diferencia de los mismos términos es igual al cuadrado del primero menos el cuadrado del segundo.

$$(a + b) \cdot (a - b) = a^2 - b^2$$

Ejemplo 4

$$\begin{aligned}(2x + 5) \cdot (2x - 5) &= (2x)^2 - 5^2 \\ &= 4x^2 - 25\end{aligned}$$

A una expresión algebraica que contenga dos términos la denominamos binomio.

$$3a + b^2 \qquad 4a^2 - 12ab \qquad (a + b)^2$$

Un **binomio** es una expresión algebraica que consta de una suma o una resta de dos términos.

Como se explicó en *Mientras tanto en el mundo* a los productos notables también los podemos deducir a partir del triángulo de Pascal. El **triángulo de Pascal** es una construcción matemática ideada por el antiguo matemático francés Blaise Pascal. Para construirlo, empezamos con un número «1» en su cumbre. En el siguiente nivel, se colocan dos «1» de la siguiente manera:

$$\begin{array}{c} 1 \\ 1 \quad 1 \end{array}$$

En la tercera columna en adelante, colocamos un «1» al principio, luego la suma de los términos a la derecha e izquierda en la fila superior y cerramos con otro «1».

$$\begin{array}{c} 1 \\ 1 + 1 \\ 1 + 2 + 1 \\ 1 + 3 + 3 + 1 \\ 1 + 4 + 6 + 4 + 1 \end{array}$$

Y así sucesivamente.

Este triángulo nos indica los coeficientes de cada término del producto notable:

$$(a + b)^2 = 1a^2 + 2ab + 1b^2$$

$$(a + b)^3 = 1a^3 + 3a^2b + 3ab^2 + 1b^3$$

Los coeficientes coinciden con los números del triángulo de Pascal que corresponden al nivel del binomio.

Binomio al cubo

$(a + b)^3 \rightarrow$ El **cubo** de una **suma** es igual al cubo del primer término, más el triple del primero al cuadrado por el segundo, más el triple del segundo al cuadrado por el primero, más el segundo término al cubo.

$$(a + b)^3 = a^3 + 3a^2b + 3ab^2 + b^3$$

Ejemplo 5

$$\begin{aligned}(x + 3)^3 &= x^3 + 3(x^2)(3) + 3(x)(3)^2 + 3^3 \\ &= x^3 + 9x^2 + 27x + 27\end{aligned}$$

$(a - b)^3 \rightarrow$ El **cubo** de una **diferencia** es igual al cubo del primer término menos el triple del primero al cuadrado por el segundo, más el triple del segundo al cuadrado por el primero, menos el segundo término al cubo.

$$(a - b)^3 = a^3 - 3a^2b + 3ab^2 - b^3$$

Ejemplo 6

$$\begin{aligned}(x + 3)^3 &= x^3 + 3(x^2)(3) + 3(x)(3)^2 + 3^3 \\ &= x^3 + 9x^2 + 27x + 27\end{aligned}$$

Trinomio al cuadrado

$(a + b + c)^2 \rightarrow$ El **trinomio al cuadrado** es igual a al cuadrado del primero, más el cuadrado del segundo, más el cuadrado del tercero, más el doble producto del primero por el segundo, más el doble producto del primero por el tercero, y más el doble producto del segundo por el tercero.

$$(a + b + c)^2 = a^2 + b^2 + c^2 + 2 \cdot a \cdot b + 2 \cdot a \cdot c + 2 \cdot b \cdot c$$

Ejemplo 7

$$\begin{aligned}(x^2 - x + 1)^2 &= (x^2)^2 + (-x)^2 + 1^2 + 2 \cdot x^2 \cdot (-x) + 2 \cdot x^2 \cdot 1 \\ &\quad + 2 \cdot (-x) \cdot 1 \\ &= x^4 + x^2 + 1 - 2x^3 + 2x^2 - 2x \\ &= x^4 - 2x^3 + 3x^2 - 2x + 1\end{aligned}$$

Trabajo individual

1. Resuelva cada suma por diferencia.

a. $(x - 2)(x + 2) =$

b. $(a + 3)(a - 3) =$

c. $(2x - 5)(2x + 5) =$

d. $(3x + 10y)(3x - 10y) =$

e. $(5x^2 - 3)(5x^2 + 3) =$

3. Resuelva los cuadrados de una suma y diferencia.

a. $(p + 5q)^2 =$

b. $(a - 2b)^2 =$

c. $(x + 5)^2 =$

d. $(5x + 3y)^2 =$

e. $(a - 3b)^2 =$

4. Determine si las igualdades son verdaderas o falsas.

a. $(a + b)^2 = a^2 + b^2$

b. $(x - y)^2 = x^2 - 2xy + y^2$

c. $(m + n)^2 = m^2 + 2mn + n^2$

d. $(p - q)^2 = p^2 - q^2$

Suma de cubos

$a^3 + b^3 \rightarrow$ La **suma de cubos** es igual a la multiplicación de la suma del primer y segundo término por el cuadrado del primero, menos el primero por el segundo, más el cuadrado del segundo.

$$a^3 + b^3 = (a + b)(a^2 - ab + b^2)$$

Ejemplo 8

$$\begin{aligned} 8x^3 + 27 \\ = (2x + 3)(4x^2 - 6x + 9) \end{aligned}$$

Diferencia de cubos

$a^3 - b^3 \rightarrow$ La **diferencia de cubos** es igual a la multiplicación de la diferencia del primer y segundo término por el cuadrado del primero, más el primero por el segundo, más el cuadrado del segundo.

$$a^3 - b^3 = (a - b)(a^2 + ab + b^2)$$

Ejemplo 9

$$\begin{aligned} 8x^3 - 27 \\ = (2x - 3)(4x^2 + 6x + 9) \end{aligned}$$

Producto de dos binomios que tienen un término común

$(x + a)(x + b) \rightarrow$ El **producto de dos binomios que tienen un término en común** es igual al cuadrado del término común, más la suma de los términos no comunes por el término común, más la multiplicación de los términos no comunes.

$$(x + a)(x + b) = x^2 + (a + b)x + ab$$

Ejemplo 10

$$\begin{aligned} (x + 2)(x + 3) \\ = x^2 + (2 + 3) \cdot x + 2 \cdot 3 \\ = x^2 + 5x + 6 \end{aligned}$$

Encontremos el área del cuadrado cuyo lado mide $m + 3$:

$$\begin{aligned} A &= \text{Lado}^2 \\ &= (m + 3)^2 \\ &= m^2 + 2(3m) + 3^2 \\ &= m^2 + 6m + 9 \end{aligned}$$

$m + 3$



Trabajo individual

1. En cada producto notable encuentre el error o los errores, enciérrelos y escriba el resultado correcto.

a. $(x - 7)(x + 7) = x^2 + 49$

b. $(x - 8)^2 = x^2 + 16x - 64$

c. $(x + 6)^2 = x^2 + 6x + 36$

d. $(4x + 2)(4x - 2) = 4x^2 - 4$

e. $(a - 9)^2 = a^2 - 18a + 18$

f. $(5x + 2)(5x - 2) = 25x^2 + 4$

g. $(2x + 12)^2 = 4x^2 + 24x + 144$

h. $(2x + 3y)(2x - 3y) = 4x^2 + 6y^2$

i. $\left(\frac{1}{2}x + 4\right)^2 = \frac{1}{4}x^2 + 8x + 16$

Ejemplo 11Resolvamos $(1 + 4x)^2$.

$$\begin{aligned} (1 + 4x)^2 &= 1^2 + 2(1)(4x) + (4x)^2 \\ &= 1 + 8x + 16x^2 \end{aligned}$$

Ejemplo 12Resolvamos $(7x - 10)^2$.

$$\begin{aligned} (7x - 10)^2 &= (7x)^2 + 2(7x)(-10) + (-10)^2 \\ &= 49x^2 - 140x + 100 \end{aligned}$$

Ejemplo 13Resolvamos $(4a + 5b^2)(4a - 5b^2)$.

$$\begin{aligned} (4a + 5b^2)(4a - 5b^2) &= (4a)(4a) + (4a)(-5b^2) + (5b^2)(4a) + (5b^2)(-5b^2) \\ &= 16a^2 - 20ab^2 + 20ab^2 - 25b^4 \\ &= 16a^2 - 25b^4 \end{aligned}$$

Ejemplo 14Encontremos el área del cuadrado cuyo lado mide $\frac{1}{3}a^2 - \frac{2}{3}b^3$:

$$\begin{aligned} A = \text{lado}^2 &= \left(\frac{1}{3}a^2 - \frac{2}{3}b^3\right)^2 \\ &= \left(\frac{1}{3}a^2\right)^2 + 2\frac{1}{3}a^2\left(-\frac{2}{3}b^3 + -\frac{2}{3}b^3\right) \\ &= \frac{1}{9}a^4 - \frac{4}{9}a^2b^3 + \frac{4}{9}b^6 \\ &= \frac{1}{9}a^4 - \frac{4}{9}a^2b^3 + \frac{4}{9}b^6 \end{aligned}$$



$$\frac{1}{3}a^2 - \frac{2}{3}b^3$$

Trabajo individual

- Resuelve.
 - $(1 + 4x)^2$
 - $(7x - 10)^2$
 - $(4a + 5b^2)(4a - 5b^2)$
- Complete los términos faltantes para obtener igualdades en estos ejercicios:
 - $(5 + x)^2 = \underline{\hspace{2cm}} + 10x + \underline{\hspace{2cm}}$
 - $(m - 3)^2 = m^2 - \underline{\hspace{2cm}} + 9$
 - $(\underline{\hspace{2cm}} - 5x^3)^2 = 9a^4 - \underline{\hspace{2cm}} + 25x^6$
 - $(4x + \underline{\hspace{2cm}})^2 = 16a^2 + \underline{\hspace{2cm}} + 25b^4$
 - $(7ax^4 + 9y^5)^2 = \underline{\hspace{2cm}} + \underline{\hspace{2cm}} + \underline{\hspace{2cm}}$
 - $(6 - 2h)^2 = \underline{\hspace{2cm}} - 24h + \underline{\hspace{2cm}}$

1.5. Radicación con reales

D.C.D.: M.4.1. 34, 35 Calcular raíces cuadradas de números reales no negativos y raíces cúbicas de números reales aplicando las propiedades en R y reescribir expresiones numéricas o algebraicas con raíces en el denominador utilizando la racionalización.

Los radicales están estrechamente relacionados con las potencias. En este apartado veremos cómo se relacionan y aprenderemos a trabajar con expresiones en las que aparecen radicales o potencias de exponente racional.

Raíz enésima de un número real

Antes de iniciar el estudio de cualquier raíz de un número real, recordemos las características de las raíces cuadradas.

Sabemos que 5 elevado al cuadrado es $25, 5^2 = 25$, entonces la raíz cuadrada de 25 es igual a 5, $\sqrt{25} = 5$. Pero, como el cuadrado de -5 también es 25, $(-5)^2 = 25$, entonces la raíz cuadrada de 25 también es $-5, \sqrt{25} = 5$.

Las raíces cuadradas de un número real b son los números reales $+a$ y $-a$, si: $(+a)^2 = b$ y $(-a)^2 = b$.
Expresamos: $\sqrt{b} = \pm a$.

Observemos que b debe ser un número real mayor o igual que 0, ya que es una potencia par de $+a$ y de $-a$. De este modo:

Si el radicando es positivo

Existen dos raíces cuadradas que son dos números reales opuestos.

$$\sqrt{25} = \pm 5$$

Si el radicando es negativo

No existe ninguna raíz cuadrada real.

$$\sqrt{-3} = ?$$

También conviene observar que si b es un número racional, su raíz cuadrada puede ser un número racional o irracional.

Si el radicando es un racional cuadrado perfecto

La raíz cuadrada son dos números racionales opuestos.

$$\sqrt{\frac{9}{16}} = \pm \frac{3}{4}$$

Si el radicando no es un racional cuadrado perfecto

La raíz cuadrada es un número irracional.

$$\sqrt{\frac{2}{3}} = \pm 0,816\dots$$



Mundo Digital

Busca en Internet las raíces de números negativos e intenta justificar por qué no existe, en números reales, la raíz cuadrada de ellos. Puedes ingresar a este enlace web:

<https://goo.gl/lpG3Hw>

Raíz de un radical

La raíz de un radical es otro radical de igual radicando y cuyo índice es el producto de los dos índices.

$$\sqrt[n]{\sqrt[m]{a}} = \sqrt[n \cdot m]{a}$$

Ejemplo:

$$\sqrt[3]{\sqrt[4]{2}} = \sqrt[24]{2}$$

Las **raíces de índice diferente de 2** se definen de forma parecida a las raíces cuadradas.

Por ejemplo, el número 125 es el resultado de elevar al cubo el número 5. Así, el número 5 es la raíz cúbica de 125. Y el número -125 es el resultado de elevar al cubo el número -5. Así, el número -5 es la raíz cúbica de -125.

Radicales equivalentes, simplificación de radicales y reducción a índice común

Utilizando la notación de exponente fraccionario y la propiedad de las fracciones que dice que, si multiplicamos el numerador y el denominador por un mismo número, la fracción es equivalente, obtenemos que:

$$a^{\frac{m}{n}} = a^{\frac{k \cdot m}{k \cdot n}} \quad \sqrt[n]{a^m} = \sqrt[n \cdot k]{a^{m \cdot k}}$$

Si multiplicamos o dividimos el índice y el exponente de un radical por un mismo número natural, obtenemos otro radical equivalente.

$$\sqrt[6]{256} = \sqrt{2^8} = \sqrt[3]{2^4}$$

$$\sqrt[4]{36} = \sqrt[4]{2^2 \cdot 3^2} = \sqrt{2 \cdot 3} = \sqrt{6}$$

Simplificación de radicales

Si existe un número natural que divida al índice y al exponente (o los exponentes) del radicando, obtenemos un radical equivalente.

$$\sqrt[n \cdot k]{a^{m \cdot k}} = \sqrt[n]{a^m}$$

Ejemplo 15

Simplificamos:

a. $\sqrt[3]{216}$

$$\sqrt[3]{216} = \sqrt[3]{2^3 \cdot 3^3} = 2 \cdot 3 = 6$$

b. $\sqrt[5]{1\,024}$

$$\sqrt[5]{1\,024} = \sqrt[5]{2^{10}} = 2^2 = 4$$

Reducción de radicales a índice común

Reduzcamos estos radicales a índice común.

$$\sqrt{2} \quad \sqrt[3]{2^2 \cdot 3^2} \quad \sqrt[4]{2^2 \cdot 3^2}$$

1. Hallamos el mínimo común múltiplo de los índices, que será el común índice.

$$\text{m.c.m.}(2, 3, 4) = 12$$

2. Dividimos el común índice por cada uno de los índices y cada resultado obtenido se multiplica por sus exponentes correspondientes.

$$\begin{aligned} & \sqrt[12]{2^6} \quad \sqrt[12]{2^6} \\ & \sqrt[12]{(2^2)^4 \cdot (3^2)^4} \quad \sqrt[12]{2^8 \cdot 3^8} \\ & \sqrt[12]{(2^2)^3 \cdot (3^2)^3} \quad \sqrt[12]{2^6 \cdot 3^6} \end{aligned}$$



Mundo Digital

Prueba tu humor ingresando al enlace:

<https://goo.gl/Tjsjrn>



Trabajo individual

1. Calcula.

a. $\sqrt{64}$

c. $\sqrt[3]{-1728}$

e. $\sqrt[3]{-343}$

b. $\sqrt{-64}$

d. $\sqrt[5]{-243}$

f. $\sqrt[4]{\frac{1296}{256}}$

2. Simplifica.

a. $\sqrt[9]{64}$

c. $\frac{1}{2} \sqrt[9]{128}$

e. $3 \sqrt[12]{64}$

b. $\sqrt[12]{x^9}$

d. $3 \sqrt[4]{48}$

f. $\sqrt[9]{27}$

2. Reduce al mínimo común índice.

a. $\sqrt[4]{3a}, \sqrt[5]{2b^2}, \sqrt[10]{7x^3}$

b. $\sqrt[6]{15m^3n^2}, \sqrt[3]{3m^2a}, \sqrt{2a}$

c. $\sqrt[8]{7}, \sqrt[4]{5}, \sqrt[3]{3}, \sqrt{2}$

d. $\sqrt[4]{8a^2x^3}, \sqrt[6]{2b^2}, \sqrt[10]{7x^3}$

e. $2 \sqrt[10]{a^7 b^2}, 3 \sqrt[5]{a^3 b^4}, \sqrt{2a}$

Extracción e introducción de factores en un radical

Para extraer factores fuera del signo radical descomponemos el radicando en factores. Si:

1. Un exponente es menor que el índice, el factor correspondiente se deja en el radicando.

$$\sqrt{6} = \sqrt{2 \cdot 3} \quad \sqrt[3]{9} = \sqrt[3]{3^2}$$

2. Un exponente es igual al índice, el factor correspondiente sale fuera del radicando.

$$\sqrt{12} = \sqrt{2^2 \cdot 3} = 2\sqrt{3}$$

$$\sqrt[3]{8} = \sqrt[3]{2^3} = 2$$

3. Si un exponente es mayor que el índice, dividimos dicho exponente por el índice. El cociente obtenido es el exponente del factor fuera del radicando y el resto es el exponente del factor dentro del radicando.

Para introducir factores en un radical, introducimos los factores elevados al índice correspondiente del radical.

Raíz de un radical

La raíz de un radical es otro radical de igual radicando y cuyo índice es el producto de los dos índices.

$$a^{\sqrt[n]{b}} = \sqrt[n]{a^n \cdot b}$$

Racionalización de radicales

La **racionalización de radicales** consiste en quitar los radicales del denominador, lo que permite facilitar el cálculo de operaciones como la suma de fracciones.

Podemos distinguir tres casos, de los que veremos solo dos en este nivel.

$$\sqrt[n]{\sqrt[m]{a}} = \sqrt[n \cdot m]{a}$$

Ejemplo 16

$$\sqrt{\sqrt[3]{4}\sqrt{2}} = \sqrt[24]{2}$$

1. Racionalización del tipo $\frac{a}{b\sqrt{c}}$; multiplicamos el numerador y el denominador por \sqrt{c}

$$\frac{a}{b\sqrt{c}} = \frac{a\sqrt{c}}{b\sqrt{c} \cdot \sqrt{c}} = \frac{a\sqrt{c}}{b(\sqrt{c})^2} = \frac{a\sqrt{c}}{b \cdot c}$$

Ejemplo 17

$$a. \frac{2}{3\sqrt{2}} = \frac{2\sqrt{2}}{3\sqrt{2} \cdot \sqrt{2}} = \frac{2\sqrt{2}}{3(\sqrt{2})^2} = \frac{2\sqrt{2}}{3 \cdot 2} = \frac{\sqrt{2}}{3}$$

$$b. \sqrt{2} + \frac{1}{\sqrt{2}} = \sqrt{2} + \frac{\sqrt{2}}{\sqrt{2} \cdot \sqrt{2}} = \sqrt{2} + \frac{\sqrt{2}}{(\sqrt{2})^2} = \sqrt{2} + \frac{\sqrt{2}}{2} = \left(1 + \frac{1}{2}\right)\sqrt{2} = \frac{3}{2}\sqrt{2}$$

2. Racionalización del tipo $\frac{a}{b\sqrt[n]{c^m}}$

- Si m es mayor o igual que n , primero sacamos factores fuera del radical.
- Si m es menor que n , multiplicamos numerador y denominador por $\sqrt[n]{c^{n-m}}$

Ejemplo 18

$$a. \frac{a}{b^n\sqrt{c^m}} = \frac{a\sqrt[n]{c^{m \cdot n}}}{b^n\sqrt{c^m} \sqrt[n]{c^{m \cdot n}}} = \frac{a\sqrt[n]{c^{m \cdot n}}}{b^n\sqrt{c^m} c^{m \cdot n}} = \frac{a\sqrt[n]{c^{m \cdot n}}}{b^n\sqrt{c^m}} = \frac{a\sqrt[n]{c^{m \cdot n}}}{b^n c}$$

$$b. \frac{2}{3\sqrt[5]{4}} = \frac{2}{3\sqrt[5]{2^2}} = \frac{2\sqrt[5]{2^3}}{3\sqrt[5]{2^2} \sqrt[5]{2^3}} = \frac{2\sqrt[5]{8}}{3\sqrt[5]{2^5}} = \frac{\sqrt[5]{8}}{3}$$

Trabajo individual

1. Calcule.

a. $\sqrt{64}$

b. $\sqrt{-64}$

c. $\sqrt[3]{-1728}$

d. $\sqrt[5]{-243}$

e. $\sqrt[3]{-343}$

2. Simplifique.

a. $\sqrt[4]{9}$

b. $\sqrt[9]{27}$

c. $\sqrt[8]{81x^4y^8}$

d. $\sqrt[12]{64m^6n^{18}}$

e. $\sqrt[6]{343a^9b^{12}}$

3. Introduzca el coeficiente bajo el radical.

a. $3\sqrt{5}$

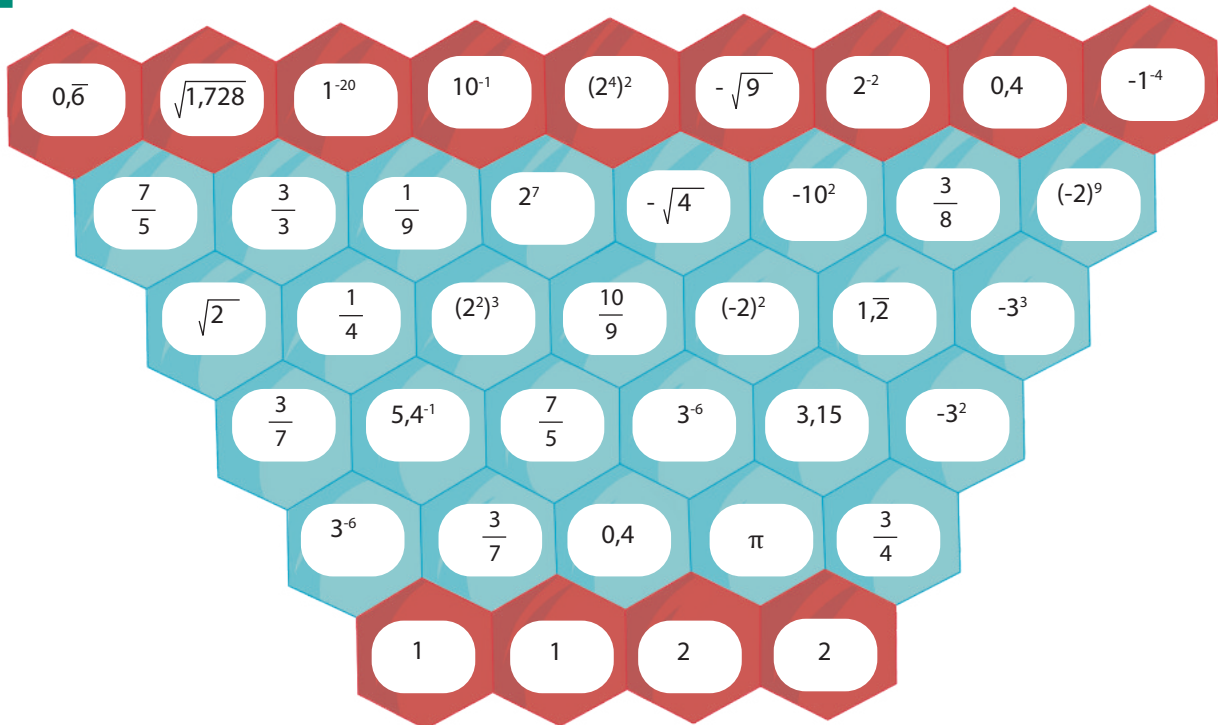
b. $ab^2\sqrt{a^2b}$

c. $5x^2y\sqrt{64m^6n^{18}}$

d. $(b+c)\sqrt[3]{\frac{b}{b+c}}$

e. $(x-1)\sqrt{\frac{x-2}{x-1}}$

Trabajo colaborativo



El siguiente juego probará su habilidad para ordenar los números reales de menor a mayor. Para jugar necesitan:

- 2 fichas por jugador
- una moneda

¿Cómo jugar?

1. Para iniciar, tú y un compañero o compañera coloquen sus fichas en los hexágonos inferiores del tablero.
2. En cada turno, el jugador lanza la moneda. Si esta sale cara, debe mover una ficha hacia una casilla adyacente con un número mayor. Si sale

cruz, debe mover la ficha hacia una casilla adyacente con un número menor.

3. Si al mover la ficha, un jugador llega a la misma casilla ocupada por el contrario, entonces el adversario es «comido» y debe regresar a la casilla inicial.
4. Si el jugador no puede moverse, pierde el turno.
5. Si el jugador comete un error y su adversario se da cuenta, el turno se anula. El jugador debe regresar y pierde el turno.
6. Gana el jugador que logre llevar sus dos fichas a la fila superior.

1.6. Potencias de base real y exponente entero

D.C.D.: M.4.1.34 Aplicar las potencias de números reales con exponentes enteros para la notación científica.

Potencias de base real y exponente entero negativo

Las potencias de base real y exponente entero positivo son justamente las potencias de base real y exponente natural que ya hemos visto. Pero ¿qué ocurre si el exponente es 0 o un número entero negativo?

A las potencias de exponente 0 o un número entero negativo las definimos de manera que las propiedades de las potencias de exponente natural **continúen siendo válidas**, en particular la propiedad de la división de potencias de la misma base.

Potencias de exponente 0

Consideramos la división $\pi^4 : \pi^4$.

$\pi^4 : \pi^4 = \frac{\pi \cdot \pi \cdot \pi \cdot \pi}{\pi \cdot \pi \cdot \pi \cdot \pi} = \pi^0 = 1$

Si aplicásemos la regla para dividir potencias. $\pi^4 : \pi^4 = \pi^{4-4} = \pi^0$

La **potencia** de base número real a , $a \neq 0$, y **exponente** 0 es igual a 1.

$$a^0 = 1, \text{ con } a \neq 0$$

Potencias de exponente negativo

Consideramos la división $\pi^3 : \pi^5$.

$\pi^3 : \pi^5 = \frac{\pi \cdot \pi \cdot \pi \cdot \pi \cdot \pi}{\pi \cdot \pi \cdot \pi \cdot \pi \cdot \pi} = \frac{1}{\pi \cdot \pi} = \frac{1}{\pi^2}$

Si aplicásemos la regla para dividir potencias. $\pi^3 : \pi^5 = \pi^{3-5} = \pi^{-2}$

La **potencia** de base número real a , $a \neq 0$, y **exponente** un número entero **negativo** (-) es igual al inverso de la potencia de base a y exponente positivo.

$$a^{-n} = \frac{1}{a^n}$$

Notación científica

Ya que resulta incómodo escribir números como 0,000 000 000 023 o 12 330 000 000, se inventó la **notación científica**. La notación científica utiliza **potencias de 10** para representar los ceros que contiene un número, ya sea antes o después de la coma.

Los números anteriores quedarían como:

$$0,000\ 000\ 000\ 023 = 2,3 \times 10^{-11}$$

$$12\ 330\ 000\ 000 = 1,2 \times 10^{10}$$

Este tipo de escritura resulta mucho menos confusa y, como se trata de números concisos, no hay un error en el cual la persona olvida la cantidad de ceros que existen antes o después de la coma.

Mundo Digital

El producto y el cociente de números expresados en notación científica son inmediatos, mientras que, para sumar o restar, debemos escribirlos previamente de manera que la potencia de 10 sea la misma.

$$2,7 \cdot 10^5 \cdot 8,2 \cdot 10^4 =$$

$$2,7 \cdot 8,2 \cdot 10^{5+4} =$$

$$22,14 \cdot 10^9 = 2,214 \cdot 10^{10}$$

$$2,7 \cdot 10^5 + 8,2 \cdot 10^4 =$$

$$2,7 \cdot 10^5 \cdot 0,82 \cdot 10^5 = 3,52 \cdot 10^5$$

Si quieres conocer más acerca de las operaciones usando notación científica, puedes ingresar al siguiente enlace:

<https://goo.gl/wpg4Xq>

Las cifras antes de la multiplicación por 10 son las cifras significativas. Esto se da porque, a veces, para ganar espacio, un número se trunca en un determinado momento. También sucede que, al utilizar menos cifras significativas, perdemos la precisión del problema, pero este se simplifica.

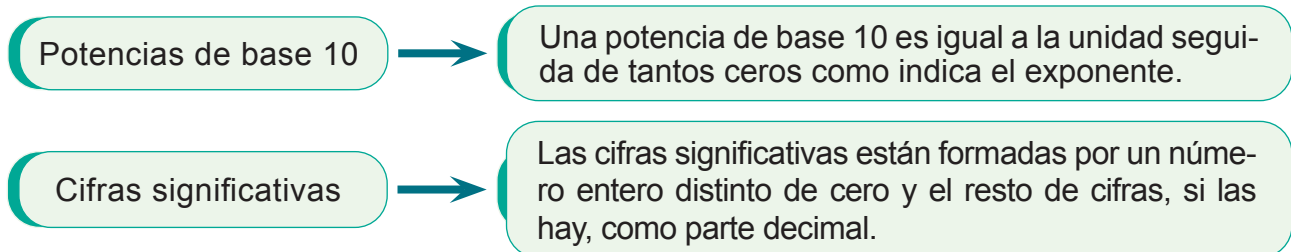
Las cifras significativas cumplen también un propósito en la aproximación mediante computadoras a un resultado cuyo valor es irracional o a un valor que no puede ser enteramente determinado usando los métodos

conocidos. Estos valores se llaman *valores estocásticos*. Utilizando un cierto número de cifras significativas, podemos saber el valor aproximado de π y, más importante, el valor absoluto y relativo aproximado del error en dicha aproximación.

Estocástico

Sistema cuyo valor real no puede ser enteramente determinado debido a su naturaleza no determinista.

En síntesis:



Potencias de base 10: Una potencia de base 10 es igual a la unidad seguida de tantos ceros como indica el exponente.

Cifras significativas: Las cifras significativas están formadas por un número entero distinto de cero y el resto de cifras, si las hay, como parte decimal.

Un número expresado en notación científica consta de una parte que son las **cifras significativas y una potencia de base 10** que da el orden de magnitud del número.

Un número expresado en notación científica consta de un número decimal cuya parte entera tiene una sola cifra no nula, multiplicado por una potencia de 10 de exponente entero.

Así, los números a continuación están expresados en notación científica.

$$8,50 \cdot 10^{40}; 7,25 \cdot 10^{-89}; 3,627 3 \cdot 10^{23}$$

Observemos que un número en notación científica tiene tantas cifras significativas como cifras tiene el número decimal que lo forma.

Al limitar el número de cifras decimales, se pierde precisión pero se gana en simplicidad tanto para expresar el número como para realizar cálculos con él.

Desde la Química

En química y en las ciencias experimentales se manejan con frecuencia números muy pequeños y otros muy grandes. Por ello, resulta conveniente expresarlos en notación científica.

Por ejemplo, la velocidad de la luz es 300000000 m/s, en notación científica esto es:

3×10^8 m/s. La masa de la Tierra 5980000000000000000000000000 kg, en notación científica es $5,98 \times 10^{24}$ kg.

<https://goo.gl/dF6KuX>

Veamos a continuación la forma de efectuar operaciones utilizando la notación científica.

Ejemplo 19

Expresemos los siguientes números en notación científica y escribámoslo de forma aproximada con dos cifras significativas.

a. 0,000 000 026 795 b. 639 246 000 000 000

a. Para escribir este número como un número decimal cuya parte entera conste solo de una cifra, debemos multiplicarlo por la unidad seguida de 8 ceros. Por tanto, para obtener el número inicial, deberemos multiplicar por

$$0,000\ 000\ 026\ 79 = 2,679\ 5 \cdot 10^{-8}$$

Aproximado por redondeo a dos cifras significativas:

$$0,000\ 000\ 026\ 795 = 2,7 \cdot 10^{-8}$$

b. Procedemos del mismo modo que en el apartado anterior:

$$639\ 246\ 000\ 000\ 000 = 6,392\ 46 \cdot 10^{14}$$

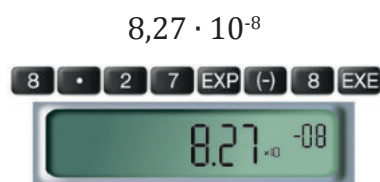
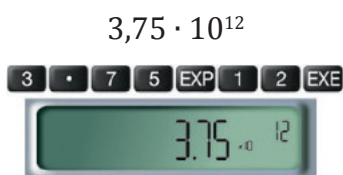
Aproximado por redondeo a dos cifras significativas:

$$639\ 246\ 000\ 000\ 000 = 6,4 \cdot 10^{14}$$

Ejemplo 20

Para introducir números expresados en notación científica, las calculadoras científicas disponen de la tecla **EXP**.

Observa cómo introducir los siguientes números:



Para realizar operaciones se prosigue del mismo modo que si fueran números cualquiera. La calculadora da el resultado en notación científica.

Ejemplo 21

En un análisis de sangre de un paciente, el número de glóbulos rojos por mm³ de sangre ha sido de $4,8 \cdot 10^6$

- Calcula el número de glóbulos rojos de este paciente si su cuerpo contiene aproximadamente 5 L de sangre.

$$5\cancel{\text{L}} \frac{10^3\cancel{\text{mm}^3}}{1\cancel{\text{L}}} \cdot \frac{4,8 \cdot 10^6\text{ glob.roj.}}{\cancel{\text{mm}^3}} = 24 \cdot 10^9\text{ glob.roj.} = 2,4 \cdot 10^{10}\text{ glob.roj.}$$

Efectuemos estas operaciones.

$$\text{a. } 6,12 \cdot 10^8 + 3,12 \cdot 10^9 \qquad \text{b. } 3,75 \cdot 10^{11} \cdot 2,2 \cdot 10^{-6}$$

- a. Para realizar sumas o restas, primero transformamos uno de los números de forma que ambos queden multiplicados por potencias de 10 del mismo orden, y, a continuación, aplicamos la propiedad distributiva:

$$\begin{aligned} 6,12 \cdot 10^8 + 3,12 \cdot 10^9 &= 6,12 \cdot 10^8 + 31,2 \cdot 10^8 \\ &= (6,12 + 31,2) \cdot 10^8 \\ &= 37,32 \cdot 10^8 = 3,732 \cdot 10^9 \end{aligned}$$

- b. Para multiplicar o dividir números expresados en notación científica multiplicamos o dividimos, por separado, los números decimales y las potencias de 10:

$$3,75 \cdot 10^{11} \cdot 2,2 \cdot 10^{-6} = (3,75 \cdot 2,2) \cdot 10^{11+(-6)} = 8,25 \cdot 10^5 = 8,25 \cdot 10^5$$

Trabajo individual

1. Escriba estos números en notación científica. 5. Expresa en forma de una sola potencia:

a. 149 597 871

b. 3 024,53

c. 0,000 000 000 003 246

d. 34 mil dos cientos millones

$$\left(\frac{-3}{4}\right)^5 \cdot \left(\frac{-3}{4}\right)^{-4} \cdot \left(\frac{-3}{4}\right)^3$$

6. Aproxima por redondeo y por truncamiento a las milésimas los siguientes números y, luego, halla el error absoluto y relativo cometido, pon los errores en notación científica.

2. Ordene de menor a mayor estos números.

$$7,863 \cdot 10^{-3}; 1,632 \cdot 10^2; 6,394 \cdot 10^{-4}; 0,0032 \cdot 2,36 \cdot 10^2$$

3. Realice estas operaciones y exprese el resultado en notación científica con tres cifras significativas.

a. $6,530 \cdot 10^{-3} + 56,39 \cdot 10^{-4}$

b. $6,530 \cdot 10^{-3} - 56,39 \cdot 10^{-4}$

c. $6,51 \cdot 10^8 + 6,39 \cdot 10^7 - 4,81 \cdot 10^9$

d. $3,1 \cdot 10^6 \cdot 7,9 \cdot 10^{12}$

e. $2,51 \cdot 10^4 : 3,07 \cdot 10$

f. $(5,05 \cdot 10^5)^2$

4. Transforma las siguientes potencias para que tengan exponente positivo.

a. $(3\pi)^{-2}$ -c. $\left(\frac{4x}{9}\right)^{-3}$

b. $(\pi - 1)^{-5}$ d. $\left(\frac{4x}{x+3}\right)^{-1}$

a. 45,782 673

b. 0,128 654 1

c. 8,965 4

d. 125,386 29

1.7. Potenciación de números reales no negativos con exponentes racionales

D.C.D: M.4.1.37. Identificar las raíces como potencias con exponentes racionales para calcular potencias de números reales no negativos con exponentes racionales en R .

A una potencia de exponente racional o fraccionario la podemos transformar en una raíz cuyo índice es el **denominador** y el radicando es la base elevada al **numerador**.

Entonces, un exponente de $\frac{1}{2}$ se traduce a una raíz cuadrada; un exponente de $\frac{1}{5}$ se traduce en una raíz quinta o $\sqrt[5]{\quad}$; y $\frac{1}{8}$ se traduce en una raíz octava $\sqrt[8]{\quad}$.

Por lo tanto, al resolver una potencia con exponente racional, quedaría: $a^{\frac{m}{n}} = \sqrt[n]{a^m}$

Ejemplo 23

Expresemos estas potencias en forma radical.

a. $5^{\frac{1}{2}} = \sqrt{5}$

b. $\left(\frac{4}{5}\right)^{\frac{6}{7}} = \sqrt[7]{\left(\frac{4}{5}\right)^6}$

c. $3^{-\frac{2}{3}} = \left(\frac{1}{3}\right)^{\frac{2}{3}} = \sqrt[3]{\left(\frac{1}{3}\right)^2}$

d. $(2x)^{\frac{1}{3}} = \sqrt[3]{2x}$

Ejemplo 24

Expresemos $2x^{\frac{1}{3}}$ en forma radical.

1. Escribamos la expresión con el exponente fraccionario como un radical. El denominador de la fracción determina el índice la raíz, en este caso, la raíz cúbica $\sqrt[3]{\quad}$.
2. El exponente solo se refiere a la parte de la expresión inmediatamente a la izquierda del exponente, en este caso x , pero no el 2.

Ejemplo 25

Simplifiquemos $(36x^4)^{\frac{1}{2}}$.

1. Reescribimos la expresión con el exponente fraccionario como un radical $\sqrt{36x^4}$.
2. Encontramos la raíz cuadrada de ambos coeficientes y de la variable.

$$\sqrt{6^2 \cdot x^4} = \sqrt{6^2} \cdot \sqrt{x^4} = \sqrt{6^2} \cdot \sqrt{(x^2)^2} = 6 \cdot x^2$$

Mundo Digital

Busca en Internet las raíces de números negativos e intenta justificar por qué no existe, en números reales, la raíz cuadrada de ellos.

Puedes ingresar a este enlace web:

<https://goo.gl/lpG3Hw>

Aplicación para la vida

La industria financiera usa exponentes racionales para computar intereses, depreciaciones y otros cálculos comunes.



Las expresiones radicales son comunes en geometría y trigonometría, particularmente en triángulos. El radio de los lados de un triángulo rectángulo de $30^\circ - 60^\circ - 90^\circ$ es $1:2:\sqrt{3}$, y el de lados de un triángulo rectángulo de $45^\circ - 45^\circ - 90^\circ$ es $1:1:\sqrt{2}$. Los triángulos son comunes para industria de la construcción, en especial en carpintería y albañilería.

Expresión de exponentes racionales usando radicales

También podemos expresar radicales usando exponentes racionales. Veamos un ejemplo.

Ejemplo 26

Expresemos $9\sqrt{yz}$ con exponentes racionales.

1. Reescribimos el radical usando un exponente racional. El índice de la raíz determina la fracción. En este caso, el índice del radical es 2, por lo que el exponente será $\frac{1}{2}$.
2. Como el 9 está afuera del radical, no lo incluimos en el símbolo de agrupación, es decir, dentro del paréntesis, y el exponente no se refiere a él.

$$\text{Por tanto } 9 \cdot \sqrt{yz} = 9(yz)^{\frac{1}{2}}$$

$$\text{o también } 9 \cdot \sqrt{yz} = (81 yz)^{\frac{1}{2}}$$

Exponentes racionales con numeradores distintos de uno

Todos los numeradores para los exponentes racionales en los ejemplos anteriores han sido 1. Puede usar exponentes fraccionarios que tengan numeradores distintos de 1 para expresar raíces, como mostramos a continuación.

$$\text{a. } \sqrt{9} = 9^{\frac{1}{2}}$$

$$\text{c. } \sqrt[4]{9^3} = 9^{\frac{3}{4}}$$

$$\text{b. } \sqrt[3]{9^2} = 9^{\frac{2}{3}}$$

$$\text{d. } \sqrt[n]{a^x} = 9^{\frac{x}{n}}$$

Cualquier radical en la forma $\sqrt[n]{a^x}$ puede escribirse usando un exponente fraccionario en la forma $a^{\frac{x}{n}}$.

Ejemplo 27

Escribimos $\sqrt[5]{81}$ como una expresión con un exponente racional.

Descomponemos 81 en sus factores primos $81 = 3^4$.

$$\text{Queda: } \sqrt[5]{3^4} = 3^{\frac{4}{5}}$$

Trabajo individual

1. Expresa como radicales estas potencias.

$$\text{a. } 36^{\frac{1}{2}}$$

$$\text{b. } (-32)^{\frac{1}{3}}$$

$$\text{c. } \left(\frac{2}{3}\right)^{\frac{2}{3}}$$

$$\text{d. } \left(\frac{5}{4}\right)^{\frac{5}{9}}$$

2. Simplifica

$$\text{a. } (49x^8y^3)^{\frac{1}{2}}$$

$$\text{b. } \frac{10b^2}{8b^4 \frac{1}{3}}$$

$$\text{c. } 6 \cdot m(np^5)^{\frac{1}{3}} \cdot o^{\frac{4}{3}}$$

3. Expresa como potencia los siguientes radicales:

$$\text{a. } \sqrt[3]{\frac{2}{7}}$$

$$\text{b. } \sqrt[4]{-\frac{5}{3}}$$

$$\text{c. } \sqrt[7]{\left(\frac{6}{5}\right)^3}$$

2. Ecuaciones de primer grado con una incógnita con números reales

D.C.D. M.4.1.38. Resolver ecuaciones de primer grado con una incógnita en R para resolver problemas sencillos.

Una ecuación de primer grado es una ecuación polinómica cuyo grado es 1, es decir, aquella en la que el grado mayor de los monomios es 1 (es decir, la parte literal es x).

Puesto que la ecuación es de grado 1, tenemos, a lo sumo, 1 raíz (solución). Decimos 'a lo sumo' ya que la ecuación puede no tener solución.

Observa cómo traducimos al lenguaje algebraico esta frase:

«El doble de un número menos 14 es igual a este mismo número más raíz de 2».

Escogemos la letra que representará la incógnita.	Representa el número que buscamos.
Traducimos al lenguaje algebraico la primera parte del enunciado.	El doble del número menos 14: $2x - 14$
Traducimos al lenguaje algebraico la segunda parte del enunciado.	El número más raíz de 2: $x + \sqrt{2}$
Escribimos la ecuación correspondiente al enunciado completo.	$2x - 14 = x + \sqrt{2}$

Si sumamos $-x - \sqrt{2}$ a los dos miembros de la ecuación obtenida y reducimos los términos semejantes, resulta:

$$2x - 14 - x - \sqrt{2} = x + \sqrt{2} - x - \sqrt{2} \quad x - 14 - \sqrt{2} = 0$$

En esta ecuación, equivalente a la primera, solo aparece una incógnita, x , con exponente 1. Es una ecuación de primer grado con una incógnita.

Una **ecuación** es de **primer grado con una incógnita** si una vez efectuadas las operaciones y reducidos sus términos semejantes, el término de mayor grado es de grado 1.

Las ecuaciones de primer grado con una incógnita pueden expresarse:

$$ax + b = 0 \quad \text{donde } a \text{ y } b \text{ son números reales, con } a \neq 0.$$

Así, ejemplos de ecuaciones de primer grado con una incógnita en R son:

$$2x + 5^{\dagger} = 0 ; 7\sqrt{y} - 1 = 0 ; z + 1 = 0$$

Veamos que, dada la ecuación $2x - 14 = x + \sqrt{2}$, se cumple la igualdad al dar diferentes valores a x .

x	Primer miembro ($2x - 14$)	Segundo miembro ($x + \sqrt{2}$)	¿Se cumple la igualdad?
3	$2 \cdot 3 - 14 = 8$	$3 + \sqrt{2} = 3 + 1,4142... = 4,4142...$	No
15,414 2...	$2(15,4142...) - 14 = 16,8284...$	$15,4142... + \sqrt{2} = 15,4142... + 1,4142... = 16,8284...$	Si

Observamos que la igualdad solo se verifica para algunos valores de x .

Cada valor de x que verifica la ecuación de primer grado con una incógnita es una solución de la ecuación. Así, $x = 15,4242...$ es una solución o raíz de la ecuación:

$$2x - 14 = x + \sqrt{2}$$

Resolución

El **método general** de resolución consiste en aplicar las propiedades de las ecuaciones para transformar la ecuación inicial en otra equivalente más sencilla.

Número de soluciones de una ecuación de primer grado

Una ecuación de primer grado con una incógnita puede expresarse de la forma $ax + b = 0$, con $a \neq 0$.

Como $a \neq 0$, podemos despejar x :

$$ax + b = 0 \quad ax = -b \quad x = \frac{-b}{a}$$

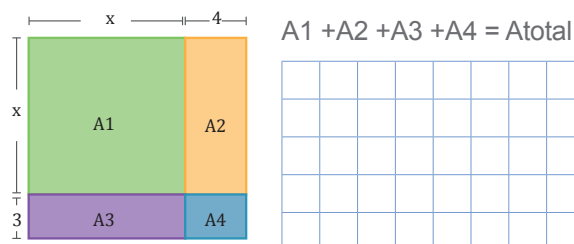
Observamos que la ecuación tiene una única solución.

No obstante, al transformar igualdades algebraicas, podemos llegar a expresiones de la forma $ax + b = 0$ con $a = 0$, es decir, $ax = -b$ con $a = 0$. Estas expresiones suelen tratarse también como ecuaciones de primer grado con una incógnita. Dichas ecuaciones tendrán solución o no según cuál sea el valor de b .

- Si $b \neq 0$, la ecuación **no tiene solución**, pues no existe ningún número que multiplicado por 0 dé diferente de 0.

Trabajo colaborativo

1. Observen el gráfico y obtengan la medida del área de la figura mediante productos notables.



2. Escriban la expresión que representa el área de cada cuadrado. Observen el ejemplo.

El lado del cuadrado mide:

$$2x + 2. \quad (2x + 2)^2 = 4x^2 + 8x + 4$$

a. El lado del cuadrado mide $3x - 2$.			
b. El lado del cuadrado mide $2x - 5y$.			
c. El lado del cuadrado mide $3xy - 2x$.			

- Si $b = 0$, la ecuación tiene **infinitas soluciones**, pues cualquier número multiplicado por 0 da 0.

Veamos su aplicación en tres casos distintos.

- a. En la ecuación no aparecen paréntesis ni denominadores.

Ejemplo 28

Resolvamos esta ecuación: $2x - 14 = x + \sqrt{2}$.

Transposición de términos:

Agrupamos en un miembro los términos que contienen la incógnita y, en el otro miembro, los términos que no la contienen.

Aplicamos la primera propiedad sumando a los dos miembros.

$$2x - 14 + 14 = x + \sqrt{2} + 14 + x$$

Operamos ordenadamente:

$$2x - x = \sqrt{2} + 14$$

Reducción de términos semejantes:

Efectuamos las operaciones en cada miembro.

$$x = 14 + \sqrt{2} = 15,4142\dots$$

Despeje de la incógnita:

Eliminamos el coeficiente de la incógnita.

Si es el caso, aplicamos la segunda propiedad multiplicando por $\frac{1}{a}$ los dos miembros, siendo a el coeficiente:

Comprobamos la solución $x = 14,4142\dots$:

$$2(15,4142\dots) - 14 = 15,4142\dots + \sqrt{2}$$

$$30,8284\dots - 14 = 15,4142\dots + 1,4142\dots$$

$$16,8284\dots = 16,8284\dots$$

$$ax \cdot \frac{1}{a} = b \cdot \frac{1}{a}$$

$$\frac{ax}{a} = \frac{b}{a} \quad x = \frac{b}{a}$$

- b. En la ecuación aparecen paréntesis, más no denominadores.

Eliminamos paréntesis utilizando la propiedad distributiva y, luego, utilizamos el método general.

Ejemplo 29

Resolvamos la siguiente ecuación: $2x - (6 - 2(5x - 4)) = 6x - 2$.

Eliminación de los paréntesis

$$2x - (6 - 10x + 8) = 6x - 2$$

$$2x - 6 + 10x - 8 = 6x - 2$$

Transposición de términos:

$$2x - 6 + 10x - 8 + 6 + 8 - 6x = 6x - 2 + 6 + 8 - 6x$$

Reducción de términos semejantes:

$$6x = 12$$

Despeje de la incógnita:

Comprobamos la solución $x = 2$:

$$\frac{6x}{6} = \frac{12}{6} \quad x = 2$$

$$2(2) - [6 - 2(5(2) - 4)] = 6(2) - 2;$$

$$4 + 6 = 12 - 2; 10 = 10$$

c. En la ecuación aparecen paréntesis y denominadores.

Los primeros pasos de la resolución deben ir encaminados a la eliminación de los denominadores.

Observemos, a continuación, los pasos que han de seguirse.

Ejemplo 30

Resolvamos la ecuación: $\frac{2(x-1)}{3} - \frac{x+4}{15} + 1 = x - \frac{3(x-2)}{5}$

Eliminación de los paréntesis:
Si hay paréntesis, los eliminamos de forma habitual. ¡Atención al signo menos delante de un paréntesis!

$$\frac{2x-2}{3} - \frac{x+4}{15} + 1 = x - \frac{3x-6}{5}$$

Si hay denominadores, los suprimimos multiplicando los dos miembros por su mcm.

m.c.m. (3, 15, 5) = 15

$$15 \left(\frac{2x-2}{3} - \frac{x+4}{15} + 1 \right) = 15 \left(x - \frac{3x-6}{5} \right)$$

$$5(2x-2) - (x+4) + 15 = 15x - 3(3x-6)$$

Al suprimir denominadores, suelen aparecer nuevos paréntesis. En este caso, los eliminaremos.

$$10x - 10 - x - 4 + 15 = 15x - 9x + 18$$

Transposición de términos:

$$10x - x - 15x + 9x = 18 + 10 + 4 - 15$$

Reducción de términos semejantes:

Efectuamos las operaciones en cada miembro.

$$3x = 17$$

Despeje de la incógnita:

Eliminamos el coeficiente de la incógnita.

$$x = \frac{17}{3}$$

Comprobamos la solución: $x = \frac{17}{3}$:

$$\frac{28}{9} - \frac{29}{45} + 1 = \frac{17}{3} - \frac{11}{5}; \frac{156}{45} = \frac{52}{15}; \frac{52}{15} = \frac{52}{15}$$

Trabajo individual

1. Indique si los valores propuestos para las incógnitas son solución de cada una de estas ecuaciones.
 - a. $ax = 3$, para $2x + 3 = 7$
 - b. $x = 9$, para $3x + 2(1 - 2x) = 10 - (2x - 1)$
 - c. $x = \sqrt{2}$, para $5x + 3 = 7x$

2.1. Representación de intervalos de números reales

D.C.D. M.4.1.39. Representar un intervalo en \mathbb{R} de manera algebraica y gráfica y reconocer al intervalo como la solución de una inecuación de primer grado con una incógnita en \mathbb{R} .

Intervalos de números reales

La ordenación de los números reales permite hablar del conjunto de estos números comprendidos entre dos de ellos, a y b .

El espacio entre dos números en la recta se llama un *segmento de recta*.

Los segmentos de recta se clasifican en intervalos **cerrados**, **abiertos** y **semiabiertos**.

A este conjunto lo denominamos *intervalo de extremos a y b* . Según si incluyen los extremos o no, los intervalos se clasifican en:

Intervalo cerrado

$[a, b]$

Conjunto de números reales comprendidos entre a y b , incluidos los extremos.

Intervalo abierto

(a, b)

Conjunto de números reales comprendidos entre a y b , sin incluir los extremos.

Un **intervalo cerrado** incluye ambos puntos que se encuentran en sus bordes, es decir, comprende todos los números mayores que a y menores que b , incluyendo a a y a b .

Los **intervalos abiertos** no incluyen ningún valor de la frontera, es decir, un intervalo abierto entre a y b es aquel que contiene números mayores a a , menores a b , pero no incluye a ni b .

Los intervalos son subconjuntos de los números reales que podemos representar gráficamente en la recta numérica por un trazo o una semirrecta.

Para representarlos utilizamos una circunferencia vacía en el extremo si este no se incluye, o rellena si se incluye.

Los extremos de un intervalo a y b pueden estar incluidos o no en el subconjunto definido de la recta real. En función de ello, pueden ser:


	Tipo	Definición	Presentación gráfica
Finitos	Abiertos	$(a, b) = \{x \in \mathbb{R} \mid a < x < b\}$	
	Cerrados	$[a, b] = \{x \in \mathbb{R} \mid a \leq x \leq b\}$	
	Semiabiertos	$(a, b] = \{x \in \mathbb{R} \mid a < x \leq b\}$	
		$[a, b) = \{x \in \mathbb{R} \mid a \leq x < b\}$	
Infinitos	Semirrectas	$(-\infty, b) = \{x \in \mathbb{R} \mid x < b\}$	
		$(-\infty, b] = \{x \in \mathbb{R} \mid x \leq b\}$	
		$(a, +\infty) = \{x \in \mathbb{R} \mid x > a\}$	
		$[a, +\infty) = \{x \in \mathbb{R} \mid x \geq a\}$	

Intervalo semiabierto



$$[a, b)$$

Conjunto de números reales comprendidos entre a y b , incluido solo el extremo a .

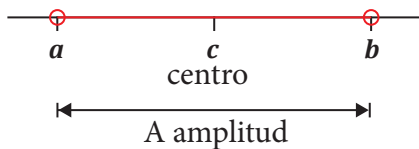


$$(a, b]$$

Conjunto de números reales comprendidos entre a y b , incluido solo el extremo b .

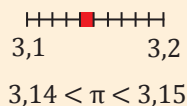
Finalmente, un **intervalo semiabierto** contiene a o b , pero no a ambos.

Observemos que, si el extremo está incluido en el intervalo, lo representamos mediante un pequeño círculo (\bullet); si no está incluido, lo representamos mediante una pequeña circunferencia (\circ).



La distancia entre los dos *extremos del intervalo* se llama *amplitud del intervalo*. La calculamos como el valor absoluto de la diferencia entre los extremos.

Los intervalos son muy útiles para representar gráficamente los números irracionales.



$$A = d(a, b) = |a - b|$$

El punto que equidista de los dos extremos de un intervalo recibe el nombre de *centro del intervalo* y lo calculamos como la media aritmética de los valores de los extremos.

Escribamos en forma de desigualdad y representemos.

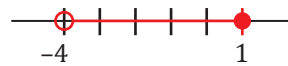
- a. $[\frac{1}{2}, +\infty)$ b. $(-4, 1]$

Solución

a. $\{x \geq \frac{1}{2}\}$



b. $\{-4 < x \leq 1\}$



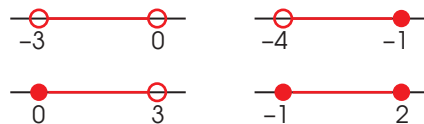
Ejemplo 31

Escribamos, dibujemos y nombremos los siguientes intervalos.

- a. $-3 < x < 0$ c. $0 \leq x < 3$
 b. $-4 < x \leq -1$ d. $-1 \leq x \leq 2$

Solución

- a. Abierto $(-3, 0)$
 b. Abierto por la izquierda $(-4, -1]$
 c. Abierto por la derecha $[0, 3)$
 d. Cerrado $[-1, 2]$




Ejemplo 32

Escribamos en forma de intervalo y representemos en cada caso.

- a. Números comprendidos entre -1 y 4 , ambos incluidos
 b. Números mayores que 0
 c. Números menores que -2 y el propio -2
 d. Números comprendidos entre 3 y 4 , incluido el 4 , pero no el 3

a. $[-1, 4]$

c. $(-\infty, -2]$



b. $(0, \infty)$

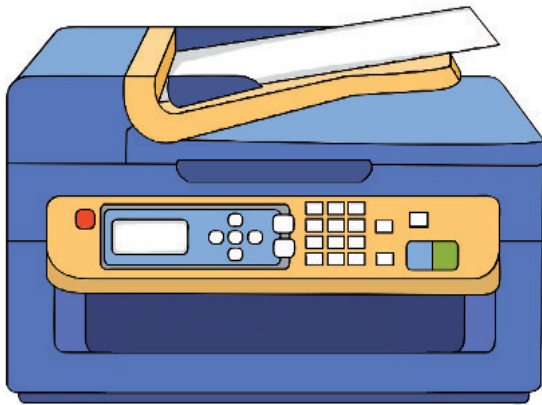
b. $(3, 4]$



Ejemplo 33

Formen parejas y resuelvan estos problemas.

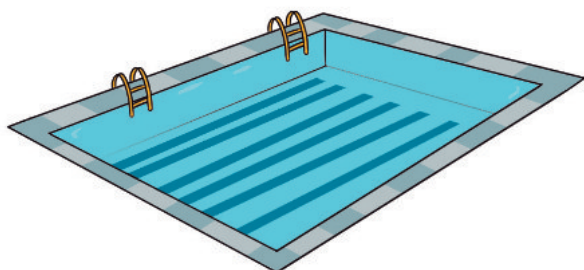
1. Resuelvan: La velocidad de impresión de una impresora es de ocho páginas cada minuto.
 - a. Si hasta este momento había impreso 32 páginas, ¿cuántas habrá impreso transcurridos dos minutos? ¿Y cuántas páginas había impreso hasta hace un minuto?
 - b. ¿Cuál es la expresión algebraica de la función que permite hallar el número de páginas impresas en función del tiempo?



2. En una prueba de natación con dos equipos de cuatro miembros cruzarán una piscina desde un extremo (A) a otro (B) de dos en dos cada equipo.

Deben hacerlo llevando un flotador entre los dos. Al llegar al extremo B, alguno de los miembros del equipo debe regresar al extremo A con el flotador y entregarlo a la siguiente pareja hasta que todos los miembros queden en el extremo B. Un equipo ha cronometrado los tiempos de cada miembro en cruzar la piscina individualmente y son: 2 min, 3 min, 5 min y 8 min.

Cuando nadan de dos en dos con el flotador, siempre tardan el tiempo del nadador más lento. ¿Cómo debe organizar las travesías este equipo para completar la prueba en el menor tiempo posible?



3. En un taller se trabaja a un ritmo constante cosiendo manteles que se colocan en una pila una vez acabados. A las 8 a. m. en la pila hay ocho manteles, y, a las 11 a. m. de la mañana hay veinte. ¿Cuántos manteles habrá en la pila a las 2 p. m. si a las 12 p. m. se ha parado la actividad durante treinta minutos para que la plantilla descanse?



4. La edad de Pablo el próximo año será la mitad de la que tenía Sergio el año pasado, y la edad que tenía Sergio hace cinco años era el triple de la edad de Pablo hace tres años. ¿Cuántos años tienen Pablo y Sergio en este momento?



5. En una excursión, treinta alumnos llevan gorra y veinte llevan un plano. Si en total hay 42 estudiantes, ¿cuántos, como mínimo, llevan tanto gorra como plano?
6. Busquen información acerca de la representación geométrica de los productos notables y realicen dos ejercicios con cada representación. Consulten en <http://goo.gl/SJO0zQ>.

Indicadores de evaluación

- Establece relaciones de orden en el conjunto de los números reales, aproxima a decimales (I.4.).
- Aplica las propiedades algebraicas de los números reales en el cálculo de operaciones y la solución de expresiones numéricas y algebraicas (I.4.).
- Resuelve problemas que requieran de ecuaciones de primer grado con una incógnita en R. (I.4.).

1 Un número racional es aquel que puede ser expresado como:

Opciones de respuesta

- a. una fracción.
- b. un decimal.
- c. un porcentaje.
- d. todas las anteriores

2 ¿Cuál de estos números es un número irracional?

Opciones de respuesta

- a. 2,38.
- b. 4,333.
- c. 5,2171717
- d. 2,35631

3 El resultado de $\frac{1 - \frac{1}{3}}{2 + \frac{2}{6}}$ es:

Opciones de respuesta

- a. $\frac{4}{7}$
- b. $\frac{7}{4}$
- c. $\frac{3}{21}$
- d. $\frac{7}{9}$

4 El resultado de $1 + \frac{3^2}{5} : 1 + \frac{3^1}{2}$ es:

Opciones de respuesta

- a. $\frac{4}{25}$
- b. $\frac{8}{125}$
- c. 1
- d. $\frac{2}{5}$

5 Simplifique y efectúe la expresión $2\sqrt{20} - 3\sqrt{18}$

Opciones de respuesta

- a. $6\sqrt{10}$
- b. $36\sqrt{10}$
- c. $16\sqrt{10}$
- d. $216\sqrt{10}$

6 La masa de un átomo de carbono es 0,000 000 000 000 000 000 0199 g; exprese este número en notación científica.

Opciones de respuesta

- a. $1,99 \cdot 10^{21}$
- b. $1,99 \cdot 10^{22}$
- c. $1,99 \cdot 10^{23}$
- d. $1,99 \cdot 10^{24}$

5 Una ventana cuadrada tiene un área igual a 25 cm²; la longitud de su diagonal es:

Opciones de respuesta

- a. 5cm
- b. $\sqrt{5}$
- c. $5\sqrt{2}$
- d. $4\sqrt{5}$

Autoevaluación

- Establezco relaciones de orden en el conjunto de los números reales, aproximo a decimales. (I.4.)
- Resuelvo problemas que requieran de ecuaciones de primer grado con una incógnita en R. (I.4.)
- Aplico las propiedades algebraicas de los números reales en el cálculo de operaciones y la solución de expresiones numéricas y algebraicas. (I.4.)



Para empezar

- ¿Cómo se calcula la distancia del barco al muelle?
- ¿Qué clase de ángulo forma la luz del faro con respecto al barco de la izquierda? ¿Y con respecto al barco de la derecha?

Objetivo

Aplicar el teorema de Pitágoras para deducir y entender las relaciones trigonométricas y las fórmulas usadas en el cálculo de perímetros, áreas, volúmenes, ángulos de cuerpos y figuras geométricas.

Introducción

En esta unidad estudiaremos la lógica proposicional para la solución de problemas y la elaboración de argumentos lógicos; también aprenderemos sobre la semejanza y congruencia de las figuras geométricas aplicadas a los triángulos.

Contenidos

1. Lógica proposicional

- 1.1. Leyes de la lógica proposicional
- 1.2. Tautología y tablas de verdad

2. Operación entre conjuntos

3. Teorema de Tales

3.1. Triángulos semejante y posición de Tales

3.2. Simetría en figuras geométricas

4. Triángulos

4.1. Construcción de triángulos

4.2. Congruencia de triángulos

1. Lógica proposicional

1.1. Leyes de la lógica proposicional

D.C.D. M.4.2.3. Conocer y aplicar las leyes de la lógica proposicional en la solución de problemas.

Introducción a la lógica proposicional

La **lógica matemática** es una rama más de la matemática, como lo son, por ejemplo, la aritmética, el álgebra, la geometría, etc.; con sus elementos propios de trabajo, con sus operaciones particulares bien definidas, que solo son válidas en su contexto y con sus problemas específicos y que es lo que, en conjunto, caracteriza a cada una de ellas.

La **lógica matemática** es la rama de la matemática que nos permite comprender sobre la validez o no de razonamientos y demostraciones que realizamos.

Enunciado: Es toda frase u oración que utilizamos en nuestro lenguaje.

Proposición: Es un enunciado que puede ser **falso (F)** o **verdadero (V)**, pero no ambas cosas a la vez o ninguna de ellas en forma simultánea.

Notación: Por lo general, a las proposiciones las representamos por las letras del alfabeto desde la letra p, es decir, p, q, r, s, t... etc., y las llamamos **variables proposicionales**.

Expresiones no proposicionales o expresiones que no son lógicas

Son las expresiones que indican orden, advertencia, saludo, exclamación o interrogación.

En otras palabras, estas expresiones solo se quedan como enunciados.

- ¡Levántate temprano!
- ¿Entendiste lo que es una *proposición*?
- ¡Buenos días!
- ¿Cómo te llamas?
- Prohibido pasar.
- Borra el pizarrón.

No son proposiciones por no poder ser evaluadas como verdaderas ni falsas. Ni las exclamaciones, órdenes, preguntas, ni opiniones son proposiciones.

Valor de verdad de las proposiciones

Expresamos simbólicamente el valor veritativo o valor de verdad de una proposición.

Si p es una proposición, denotamos su valor de verdad por $V(p)$.

Escribimos $V(p) = V$ si el valor de verdad de la proposición p es verdadero.

Leemos: El valor de verdad de la proposición p es verdadero.

Escribimos $V(p) = F$ si el valor de verdad de la proposición p es falso.

Leemos: El valor de verdad de la proposición p es falso.

Enunciados abiertos

Son aquellos enunciados que constan de variables. Se convierte en una proposición cuando le asignamos un valor específico a la variable. Ejemplos:

p: x es la capital de Rusia.

q: y viaja hoy a Portugal.

r: Él no quiere estudiar.

Los enunciados abiertos usan las palabras *él*, *ella* o las letras x, y, z..., etc. No tienen la propiedad de ser verdaderos o falsos, es decir, no son proposiciones.

Como ya hemos visto, el valor de verdad en un determinado enunciado lógico tiene un carácter universal. La verdad, sin embargo, también es entendida de otra manera, como uno de los valores morales más importantes del ser humano.

Pero, si a estas palabras o letras les asignamos un determinado objeto o valor, llamado *constante*, el resultado es una proposición.

Tipos de proposiciones

Observamos estas proposiciones.

- A. El cielo está nublado.
- B. El cielo está nublado y hace frío.
- C. Los estudiantes de décimo sonríen, pero no están alegres.
- D. Aprobé el examen.
- E. Si mañana vienes, entonces vamos al cine.

A estas proposiciones las podemos clasificar en dos tipos:

- **Simple y compuestas**

Las proposiciones simples, también las denominadas *proposiciones atómicas*, son aquellas proposiciones que no podemos dividir.

Ejemplos: La proposición A y la D.

Las proposiciones compuestas, también denominadas *moleculares*, son aquellas que están formadas por dos o más proposiciones simples.

Ejemplos de proposiciones compuestas: las proposiciones B, C y E.

- A partir de proposiciones simples, es posible generar otras, simples o compuestas.
- La proposición compuesta más sencilla que existe es aquella que se forma a partir de la negación de una proposición simple: un número impar no es divisible para 2.
- En una proposición compuesta que contenga dos o más conectores lógicos, a la jerarquía de estos la determinamos en función de la interpretación de la redacción y los signos de puntuación.

Conectores lógicos

Leemos atentamente las proposiciones y observamos las palabras resaltadas.

- a. El consumo excesivo de sal no es bueno para tu salud.
- b. El número 3 es divisor de 12 y de 15.
- c. O estudias toda la materia o no aprobarás el examen.
- d. Existen números pares y existen números primos.
- e. Si un número termina en 0 o 5, entonces este número es múltiplo de 5.
- f. La igualdad $2x + 7 = 25$ y solo si $x = 9$.

Estas palabras constituyen conectores lógicos; es decir, palabras o frases tales como: *no, no es verdad que, además, pero, si, sin embargo, por lo tanto, si, entre otras*, mediante las cuales podemos crear nuevas proposiciones a partir de proposiciones ya existentes.

Los *conectivos* o *conectores lógicos* son símbolos usados para enlazar proposiciones simples.

Símbolo	Operación
\neg	Negación
\wedge	Conjunción
\vee	Disyunción inclusiva
Δ	Disyunción exclusiva
\Rightarrow	Condicional
\Leftrightarrow	Bicondicional

Ejemplos:

- a. **Negación:** La proposición inicial era «El consumo excesivo de sal es bueno para tu salud», se modificó para formar una nueva proposición.
- b. **Conjunción:** Las proposiciones que tomamos fueron: el número 3 es divisor de 12 y el número 3 es divisor de 15.
- c. **Disyunción exclusiva:** Se tomaron las proposiciones: «Estudias toda la materia o no aprobarás el examen».
- d. **Disyunción inclusiva:** Está formada por las proposiciones: «Existen números pares» y «Existen números primos».

- e. **Condicional:** Las proposiciones tomadas fueron «Un número termina en 0 o 5», y «Este número es múltiplo de 5».
- f. **Bicondicional:** Las proposiciones base fueron: «La igualdad $2x + 7 = 25$ » y solo si « $x = 9$ ».

Conectivos o conectores lógicos

Expliquemos con ejemplos, de forma más detallada, cada uno de estos conectores lógicos.

1. **Negación $\neg p$ (leemos no p):** Este conector modifica proposiciones de cualquier tipo; para negar una proposición, colocamos el símbolo antes de ella.

Ejemplo: $p: x^2 - 5x$ es una función lineal.

No $p: x^2 - 5x$ no es una función lineal.

2. **Conjunción $(p \wedge q)$ (leemos p y q):** «Valeria le comenta a su amiga Eli, que se compró un vestido de color verde y blanco».

¿Qué quiso decir Valeria cuando le comenta a su amiga que se compró un vestido de color verde y blanco? ¿Qué conclusiones podemos sacar de esta situación?

3. **La disyunción inclusiva $(p \vee q)$:** Raúl le pregunta a su madre:

— ¿Qué me vas a preparar hoy para el *lunch* mamá?

— Sándwich y jugo o ensalada de frutas con yogur.

¿Qué quiso decir la mamá de Raúl cuando le contestó: «Sándwich y jugo o ensalada de frutas con yogur»?

4. **La disyunción exclusiva $(p \Delta q)$:** Eli llega al grupo y muy feliz le dice a su grupo de 10.º: «¡Chicos, adivinen qué noticias les traigo!». Uno de sus amigos le contesta: «Por tu alegría, o se suspendió la presentación del proyecto de Ciencias o no tenemos examen de Mate».

¿Qué quiso decir su amigo cuando le contestó a Eli: «o se suspendió la presentación del proyecto de Ciencias o no tenemos examen de Mate»?

5. **El condicional $(p \Rightarrow q)$:** Con la intención de motivar a sus estudiantes para una prueba, el profe de Matemática decide hacerles este ofrecimiento: «Si alguno de ustedes obtiene más de ocho en la prueba, entonces le invitaré un sándwich».

Como podemos observar, el docente de Matemática estructuró su ofrecimiento a partir de un condicional, donde el antecedente (condición) es obtener más de ocho puntos en la prueba, y el consecuente (consecuencia) es invitar un sándwich.

6. **El bicondicional $(p \Leftrightarrow q)$:** Te explico el deber de Física si, y solo si, vas a mi casa hoy.

¿Qué significa esa proposición?

Trabajo colaborativo

1. En este párrafo subraye los conectores que encuentre, clasifíquelos y separe las proposiciones.

Otra forma de clasificar los números reales es en algebraicos y trascendentes. Si un número es algebraico, entonces existe un polinomio de coeficientes racionales que lo tiene por raíz y es trascendente en caso contrario.

2. Identifique los conectores lógicos y cuáles son las proposiciones simples utilizadas para formar cada una de estas proposiciones compuestas.
 - a. Saturno no es el planeta más grande del Sistema Solar.
 - b. Si una figura tiene cinco lados, entonces es un pentágono.
 - c. No es cierto que la Tierra es redonda y no gira alrededor del Sol.
 - d. Una inequación puede ser lineal o puede ser cuadrática.
3. Determine la fórmula lógica de cada una de estas proposiciones compuestas.
 - a. Si Juan no es hermano de Laura, entonces Sebastián es primo de Luis.
 - b. No es cierto que Santiago es hijo de Andrea y Laura no es hermana de Verónica.
 - c. Sebastián es primo de Luis si y solo si Juan no es hermano de Laura o Sebastián es hijo de Andrea.

1.2. Tautología y tablas de verdad

D.C.D. M.4.2.2. Definir y reconocer una tautología para la construcción de tablas de verdad.

Tablas de verdad

Un **valor de verdad** es lo que indica la veracidad de una proposición. Este valor puede ser verdadero o falso, y lo podemos representar con V y F, con 1 y 0, con «True» y «False».

Una tabla de verdad nos permite visualizar bajo qué condiciones de las variables proposicionales una fórmula lógica toma un valor verdadero y bajo qué condiciones toma un valor falso. Es decir, en una tabla, analizamos el comportamiento de los valores de verdad de una fórmula lógica en relación con los valores de verdad de sus variables proposicionales.

Por otro lado, sabemos que la estructura de cualquiera de los conectores lógicos es una proposición compuesta, y que toda proposición compuesta puede ser representada mediante una combinación de variables proposicionales y símbolos lógicos organizados jerárquicamente en una fórmula lógica.

Tabla de negación

Observamos que si p es verdadero, entonces $\neg p$ es falso; si p es falso, entonces $\neg p$ es verdadero. Es decir, el valor de la negación de un enunciado es siempre opuesto al valor de verdad del enunciado inicial. La negación de una negación es siempre la proposición original.

p	$\neg p$
V	F
F	V

Tabla de la conjunción

La disyunción exclusiva es únicamente verdadera cuando los valores de las proposiciones que la componen son ambas verdaderas, y resulta falso en cualquier otro caso.

p	q	$p \wedge q$
V	V	V
V	F	F
F	V	F
F	F	F

Ejemplo 1

¿Cuál es el valor de verdad de esta proposición compuesta?

«Asia es el continente más extenso y América es el continente más poblado del planeta».

p : «Asia es el continente más extenso». q : «América es el continente más poblado».

Dado que el valor de verdad de la primera proposición es V y el valor de verdad de la segunda proposición es F, el valor de la proposición compuesta es falso.

Tabla de la disyunción

La disyunción inclusiva es verdadera si al menos una de las proposiciones componentes es verdadera. Resulta falsa únicamente cuando las dos proposiciones son falsas.

p	q	$p \vee q$
V	V	V
V	F	V
F	V	V
F	F	F

Mundo Digital

Revise diferentes sitios web donde muestre ejemplos de Tautología, o puede visitar este enlace:

<https://goo.gl/xutjQR>

Ejemplo 2

¿Cuál es el valor de verdad de la siguiente proposición compuesta?

«El 15 es un número par o es divisible para 5».

Es una disyunción inclusiva formada por dos proposiciones simples.

p: «El 15 es un número par»

q: «es divisible para 5»

Dado que el valor de verdad de la **primera** proposición es F y el valor de verdad de la **segunda** proposición es V, el valor de la proposición **compuesta** es **verdadero**.

Tabla de la disyunción exclusiva

La disyunción exclusiva es verdadera cuando solo una de las proposiciones que la compone es verdadera, y resulta falso en cualquier otro caso.

p	q	$p \Delta q$
V	V	F
V	F	V
F	V	V
F	F	F

Ejemplo 3

¿Cuál es el valor de verdad de esta proposición compuesta?

«O todos los triángulos son figuras geométricas o los triángulos tienen tres lados».

Esta proposición compuesta es una **disyunción exclusiva** formada por dos proposiciones simples:

p: «Todos los triángulos son figuras geométricas» q: «Los triángulos tienen tres lados».

- Dado que el valor de verdad de cada proposición es verdadero, el valor de la disyunción

Tabla de la condicional

Del análisis de la tabla, deducimos que un condicional solo será falso si es que el antecedente es verdadero y el consecuente es falso (segunda fila de la tabla).

Si analizamos las otras tres posibilidades de combinación de las variables proposicionales, podemos inferir que «en un condicional basta que la proposición que es representada por el antecedente sea falsa para que el condicional sea verdadero».

p	q	$p \Rightarrow q$
V	V	V
V	F	F
F	V	V
F	F	V

Ejemplo 4

Determinemos el valor de verdad de la siguiente proposición compuesta.

«Si $x^2 - 8x + 16$ es un trinomio cuadrado perfecto, entonces se descompone en $(x - 4)(x - 4)$ ».

Esta proposición compuesta es una **condicional** formada por dos proposiciones simples:

« $x^2 - 8x + 16$ es un trinomio cuadrado perfecto». (antecedente)

« $x^2 - 8x + 16$ se descompone en $(x - 4)(x - 4)$ ». (consecuente)

- Dado que el valor de verdad del antecedente es V (puesto que $x^2 - 8x + 16$ es un trinomio cuadrado perfecto), el valor del condicional (proposición compuesta) es verdadero.

Tabla de la bicondicional

Del análisis de la tabla, deducimos que un bicondicional solo será falso si es que una de las proposiciones que la constituyen es verdadera y la otra es falsa (segunda y tercera fila de la tabla).

Si analizamos las otras dos posibilidades de combinación de las variables proposicionales, podemos inferir que «en un bicondicional basta que las proposiciones que la componen tengan el mismo valor de verdad para que el bicondicional sea verdadero».

p	q	$p \Leftrightarrow q$
V	V	V
V	F	F
F	V	F
F	F	V

Ejemplo 5

¿Cuál es el valor de verdad de la siguiente proposición compuesta?:

«12 es un número compuesto si, y solo si, tiene cuatro divisores».

- La proposición **compuesta** es un **bicondicional** formado por dos proposiciones simples: «12 es un número compuesto» y «12 tiene cuatro divisores».
- Dado que el valor de verdad de una de las proposiciones es V y el valor de verdad de la otra proposición es F, el valor de verdad del **bicondicional** es falso.

El valor de verdad de un enunciado compuesto depende del valor de verdad de los enunciados simples que lo conforman y de la relevancia de los conectivos que intervienen, según estén agrupados.

La tabla de verdad está compuesta por una o más variables (por lo general dos) y los operadores lógicos con los que queramos combinar.

¿Cómo hacer una tabla de verdad?

Para construir la tabla de verdad de una fórmula cualquiera, hay que tener en cuenta:

1. El número de variables de la proposición da el valor de n , el 2 es porque hay dos opciones, falso y verdadero; 2^n da el número de filas.

2. Encabezar cada columna con las variables.

3. Dar valores de verdad o falsedad (V-F) sistemáticamente: la primera columna tendrá la mitad de valores V y la otra mitad de valores F; la segunda columna $\frac{1}{4}$; la tercera $\frac{1}{8}$, y así sucesivamente.

4. Desglosar la fórmula en sus componentes y operar en orden hasta llegar a la columna final.

Los signos de agrupación (paréntesis, corchetes, llaves) son usados para indicar la jerarquía y evitar ambigüedades en esquemas lógicos más complejos.

Ejemplo 6

Determinemos el valor de verdad de la siguiente proposición compuesta.

«Si $x^2 - 8x + 16$ es un trinomio cuadrado perfecto, entonces se descompone en $(x - 4)(x - 4)$ ».

Esta proposición compuesta es una condicional formada por dos proposiciones simples:

« $x^2 - 8x + 16$ es un trinomio cuadrado perfecto». (antecedente)

« $x^2 - 8x + 16$ se descompone en $(x - 4)(x - 4)$ ». (consecuente)

- Dado que el valor de verdad del antecedente es V (puesto que $x^2 - 8x + 16$ es un trinomio cuadrado perfecto), el valor del condicional (proposición compuesta) es verdadero.

Trabajo individual

1. Confecciona la tabla de verdad de las siguientes proposiciones compuestas.

- | | |
|--|--|
| a. $(p \wedge q) \rightarrow q$ | e. $(p \vee q) \rightarrow q$ |
| b. $(p \wedge q) \leftrightarrow \neg q$ | f. $(p \leftrightarrow q) \wedge \neg p$ |
| c. $(p \rightarrow q) \wedge p$ | g. $(\neg p \vee q) \leftrightarrow (p \rightarrow q)$ |
| d. $(p \wedge \neg p) \rightarrow q$ | h. $(\neg p \wedge q) \vee (\neg p \rightarrow q)$ |

Ejemplo 7

Construyamos la tabla de verdad para la proposición $\neg (p \wedge q)$.

Paso 1: Hacemos un recorrido de izquierda a derecha teniendo en cuenta los paréntesis.

Paso 2: Identificamos el conectivo que aparece dentro del paréntesis; en este ejemplo, la conjunción.

Paso 3: Precisamos el término de enlace que precede al paréntesis; en el ejemplo, la negación.

Paso 4: Elaboramos la tabla con el número de columnas determinado por:

- Proposiciones que intervienen: p y q .
- Conectivos utilizados dentro del paréntesis: $p \wedge q$.
- Conectivo utilizado fuera del paréntesis: $\neg (p \wedge q)$.
- Proposiciones que intervienen: p y q filas $2^2 = 4$.

Paso 5: Fijamos los valores de verdad en las columnas de las proposiciones p y q .

Paso 6: Completamos la tabla por columnas, teniendo en cuenta el conectivo y el valor de verdad de cada proposición simple. La finalización de la elaboración de la tabla de verdad es:

p	q	$(p \wedge q)$	$\neg(p \wedge q)$
V	V	V	F
V	F	F	V
F	V	F	V
F	F	F	V

Ejemplo 8

Desarrollamos la tabla de verdad de la siguiente fórmula lógica:

$$[\neg p \rightarrow (q \wedge p)] \rightarrow \neg q$$

p	q	$\neg p$	$[\neg p \rightarrow (q \wedge p)]$	$\rightarrow \neg q$
V	F	F	F	V
V	V	F	V	F
F	F	V	F	V
F	V	V	F	V

Tautologías, contradicciones y contingencias

Según el resultado obtenido al evaluar una fórmula lógica por medio del análisis de tablas de verdad, podremos clasificarla como una tautología, una contradicción o una contingencia.

I. Tautología

Proposición compuesta verdadera en todos los casos.

Esto significa que no importa cuáles sean los valores de verdad que tomen las variables.

Ejemplo: $(p \rightarrow q) \leftrightarrow (\neg p \vee q)$ es una tautología.

II. Contradicción

Son aquellas fórmulas lógicas que se caracterizan porque, al desarrollar su tabla de verdad, todos los valores obtenidos para el conector lógico de mayor jerarquía son falsos; es decir, en una contradicción, el valor de verdad que tome la fórmula lógica no depende de los valores de verdad que tomen sus variables proposicionales.

Esto significa que no importa cuáles sean los valores de verdad que tomen las variables proposicionales, el valor de verdad de la fórmula lógica **siempre será falso**.

Ejemplo: $(q \wedge \neg p) \leftrightarrow (q \rightarrow p)$ es una contradicción.

III. Contingencia

Son aquellas fórmulas lógicas que se caracterizan porque, al desarrollar su tabla de verdad, los valores que obtenemos para el conector lógico de mayor jerarquía son algunos verdaderos y otros falsos. En otras palabras, en una contingencia, el valor de verdad que tome la fórmula lógica sí dependerá de los valores de verdad que tomen sus variables proposicionales.

Esto significa que **sí** importa cuales son los valores de verdad que tomen las variables proposicionales, ya que, **para ciertas combinaciones de estos, la fórmula lógica proposicionales, el valor de verdad de la fórmula lógica siempre será verdadero.**

Por esta razón, las tautologías son consideradas como **verdades absolutas.**

será verdadera y para otras combinaciones será falsa.

Ejemplo: $(p \Delta \neg q) \vee \neg (\neg p \leftrightarrow q)$ es una contingencia.



Aplicación para la vida

La lógica proposicional nos ayuda a tomar decisiones basadas en la argumentación lógica y la valoración por verdades.

En resumen:

- A una expresión proposicional le llamamos *tautología* si los valores de verdad de su operador principal son verdaderos.
- Llamamos *contradicción* o *antitautología* si los valores de verdad de su operador principal son todos falsos.
- Llamamos *contingencia* cuando en los valores de verdad hay valores verdaderos y falsos.

Fórmulas lógicas

Denominamos así a la adecuada combinación de variables proposicionales, conectores lógicos y signos de agrupación.

$$\neg p \wedge (q \neg r)$$

$$(r \vee \neg s) \neg (q \Delta \neg p)$$

$$[\neg (p \neg q) \vee q] \wedge \neg (q \neg p)$$

Para desarrollar correctamente una fórmula lógica, te recomendamos:

1. Asegúrate que el enunciado sea una **proposición compuesta.**
2. Identifica cuáles son los conectores **lógicos** que forman la estructura de la proposición compuesta.
3. Reconoce las **proposiciones simples** que conforman la proposición compuesta que estás analizando.
4. Asigna una **variable proposicional** a cada una de las proposiciones simples que identificaste.

En caso de que la proposición compuesta contenga a dos o más conectores lógicos, determina cual es la jerarquía de estos.



Trabajo colaborativo

1. Con la ayuda de las tablas de verdad analicen y determinen el valor de verdad de las siguientes proposiciones compuestas.

a. El cuadrado es un cuadrilátero y los cuadriláteros tienen tres lados.

Respuesta: ()

b. Los números reales son también racionales y $\sqrt{5}$ es un número real.

Respuesta: ()

c. El intervalo $\left(-\infty, \frac{3}{4}\right)$ es cerrado o es un intervalo abierto.

Respuesta: ()

d. Una igualdad $8x - \frac{2}{5} = 5$ es una ecuación o es una identidad.

Ejemplo 9

Demostramos, mediante tablas de verdad, cuáles de las siguientes proposiciones son tautologías, contradicciones o contingencias.

- $(p \wedge q) \rightarrow (\neg p \vee \neg q)$
- $\neg(p \rightarrow \neg q) \leftrightarrow (q \rightarrow \neg p)$
- $[\neg(p \leftrightarrow \neg q) \vee q] \wedge \neg(q \rightarrow \neg p)$

Solución:

a. $(p \wedge q) \rightarrow (\neg p \vee \neg q)$

p	q	(p	∧	q)	→	(¬p	∨	¬q)
V	V	V	F	F	V	F	F	F	F
V	F	V	V	V	V	F	V	V	V
F	V	F	F	F	V	V	V	V	F
F	F	F	F	V	V	V	V	V	V

La proposición es una **tautología**.

b. $\neg(p \rightarrow \neg q) \leftrightarrow (q \rightarrow \neg p)$

p	q	¬	(p	→	¬q)	↔	(q	→	¬p)
V	V	V	V	F	F	F	V	F	F
V	F	F	V	V	V	F	F	V	F
F	V	F	F	V	F	F	V	V	V
F	F	F	F	V	V	F	F	V	V

Es una **contradicción**.

c. $[\neg(p \leftrightarrow \neg q) \vee q] \wedge \neg(q \rightarrow \neg p)$

p	q	[¬	(p	↔	¬q)	∨	q]	∧	¬	(q	→	¬p)
V	V	V	V	F	F	V	V	V	V	V	F	F	F
V	F	F	V	V	V	V	F	F	F	F	V	F	F
F	V	F	F	V	F	V	V	F	F	V	V	V	V
F	F	V	F	F	V	V	F	F	F	F	V	V	V

Es una **contingencia**.

Trabajo individual

1. Demuestra, mediante tablas de verdad, cuáles de las siguientes proposiciones son tautologías, contradicciones o contingencias.

- $[(p \wedge q) \rightarrow q] \vee p$
- $(p \rightarrow q) \vee p$
- $p \rightarrow (p \wedge q)$
- $\neg(p \vee q) \wedge p$
- $[(p \rightarrow \neg q) \wedge p] \rightarrow \neg q$

2. Operación entre conjuntos

D.C.D. M.4.2.4. Definir y reconocer conjuntos y sus características para operar con ellos (unión, intersección, diferencia, complemento) de forma gráfica y algebraica.

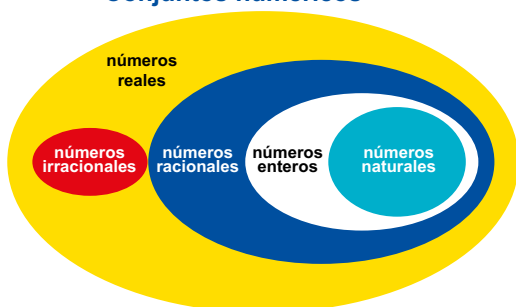
Representación y determinación de conjuntos

Teoría de conjuntos

Un **conjunto** es una colección de elementos diferentes. A los objetos que integran un conjunto los llamamos **elementos** de ese conjunto.

A los conjuntos los representamos por las

Conjuntos numéricos



primeras letras del abecedario expresadas en mayúsculas (A, B, C, D,...), y los elementos del conjunto, por letras minúsculas.

Estos son ejemplos de conjuntos:

- El conjunto de los números reales.
- El conjunto de los múltiplos de cuatro.
- El conjunto formado por los estudiantes de décimo de Básica.
- El conjunto formado por un punto P en el plano y las rectas que pasan por él.

Ejemplo 10


$A = \{a, b, c, d, e\}$ donde $c \in A$ expresa que c pertenece al conjunto A; $f \notin A$ expresa que f no pertenece al conjunto A.

Representación de conjuntos:

Hay dos formas de representar los conjuntos en forma gráfica mediante diagramas de Venn y también entre llaves.

$$A = \{1, 2, 3\} \quad B = \{a, b, c, d\}$$

– Hay tres maneras de determinar los elementos de un conjunto:



$$A = \{ \text{figura roja}, \text{figura negra}, \text{figura púrpura}, \text{figura azul}, \text{figura verde}, \text{figura amarilla}, \text{figura naranja} \}$$

Por extensión: Cuando indicamos cada uno de los elementos del conjunto, es decir, escribimos dentro de una llave los elementos del conjunto.

A: {enero, febrero, marzo, abril, mayo, junio, julio, agosto, septiembre, octubre, noviembre, diciembre}

Por comprensión: Cuando indicamos la ley de formación del conjunto escribiendo dentro de una llave una propiedad característica de los elementos del conjunto y solamente de ellos.

A: {meses del año}

Por fórmula o simbólicamente: Cuando utilizamos símbolos matemáticos para expresar los elementos del conjunto; x/x se lee x tal que x; \wedge en lugar de y, \vee en lugar de o.

A: $\{ x/x \in \text{meses del año} \}$

Operaciones entre conjuntos

Así como pueden definirse diversas operaciones entre números, también existen operaciones entre conjuntos. El resultado de una operación entre conjuntos es, a su vez, un conjunto.

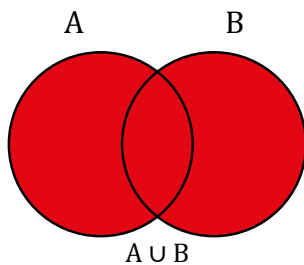
Fijemos un conjunto universal U y consideremos todos los subconjuntos de U . Entre estos conjuntos están definidas las operaciones de unión, intersección y diferencia. Además, para cada conjunto, definimos el complemento. El resultado de cada una de estas operaciones es un subconjunto de U .

Unión de conjuntos

La **unión** de los conjuntos A y B es el conjunto formado por todos los elementos que pertenecen a A y B . Denotamos: $A \cup B$.

A la unión de conjuntos la definimos como:

$$A \cup B = \{x / x \in A \vee x \in B\}$$



La unión de un conjunto A con el conjunto vacío es el mismo conjunto A , puesto que no tiene elementos:

$$A \cup \emptyset = A$$

La unión de un conjunto A con A es el mismo conjunto A : $A \cup A = A$.

Intersección

La **intersección** es el conjunto formado por los elementos que son comunes entre dos o más conjuntos dados. La denotamos por $A \cap B$, que leemos: « A la intersección B ». A la intersección de A y B también la podemos definir:

$$A \cap B = \{x / x \in A \wedge x \in B\}$$

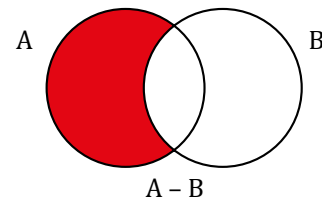
Diferencia y diferencia simétrica

Denominamos diferencia de dos conjuntos A y B al conjunto formado por todos los elementos de A pero que no pertenecen a B .

A la diferencia la denotamos por: $A - B$, que leemos: « A diferencia B » o « A menos B ». Definimos la diferencia de dos conjuntos también como:

$$A - B = \{x / x \in A \wedge x \notin B\}$$

Diferencia simétrica



El conjunto **diferencia simétrica** de A y B está formado por los elementos del universo que pertenecen a uno y solamente a uno de ellos, es decir, que pertenecen a A , o a B , pero no a ambos:

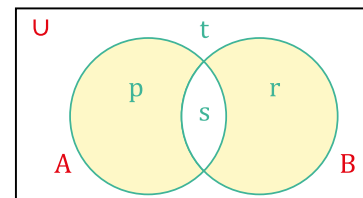
$$A \Delta B = \{x / x \in A \cup B \wedge x \notin A \cap B\}$$

Se cumple que: $A \Delta B = (A - B) \cup (B - A)$.

Ejemplo 11

Sean: $U = \{p, r, s, t\}$, $A = \{p, s\}$ y $B = \{r, s\}$

Entonces: $A \Delta B = \{p, r\}$, y se representamos:

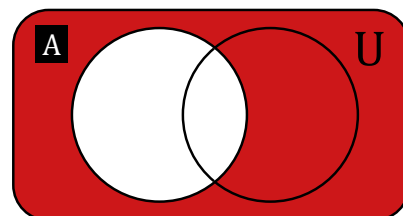


Complemento

Si un conjunto A es subconjunto de otro conjunto universal U , al conjunto A' formado por todos los elementos de U pero no de A , lo llamamos **complemento** de A con respecto a U .

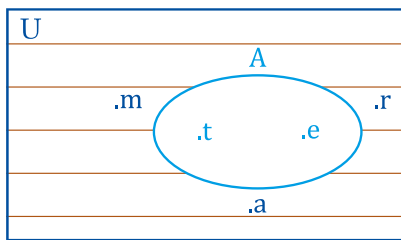
Simbólicamente lo expresamos:

$$A^c = \{x / x \in U \wedge x \notin A\}$$



Ejemplo 12

Sean $U = \{m, a, r, t, e\}$ y $A = \{t, e\}$. Su complemento de A es: $A^c = \{m, a, r\}$.



Ejemplo 13

a. Si $A = \{x \in U / x \notin A\}$, $U = \{1, 2, 3, 4, 5, 6, 7, 8, 9\}$ y $A = \{1, 2, 3, 4\}$. Hallemos A^c :

$$A^c = \{5, 6, 7, 8, 9\}$$

b. Si $A = (-\infty, 4]$. Hallemos A^c :

$$A^c = (4, +\infty)$$

c. Dados: $M = (-3; 8]$ y $N = [4; 12]$. Hallemos M^c y N^c

$$M^c = (-\infty, -3] \cup (8; +\infty)$$

$$N^c = (-\infty, 4) \cup (12; +\infty)$$

Producto cartesiano

El producto cartesiano de dos conjuntos A y B es el conjunto de todos los posibles pares ordenados que se forman eligiendo como primera componente a un elemento que pertenezca a A , y como segunda componente, a uno que pertenezca a B .

Al producto cartesiano lo denotamos de esta forma: $A \times B$, y leemos «A cruz B».

$$A \times B = \{(x, y) / x \in A \wedge y \in B\}$$

La definición anterior expresa que el producto cartesiano de los conjuntos A y B son las parejas ordenadas (x, y) , tal que x pertenece al conjunto A e y pertenece al conjunto B .

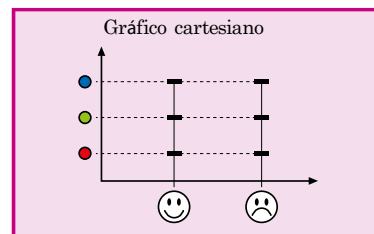
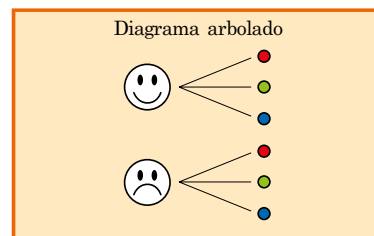
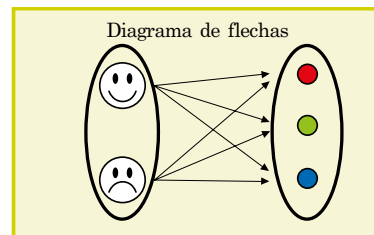
Para entender la idea de producto cartesiano, debemos saber que se trata de una operación entre dos conjuntos, de tal modo que se forma otro conjunto con todos los pares ordenados posibles.

Representación gráfica de un producto cartesiano

Podemos representar el producto cartesiano en forma de: tabla de doble entrada, diagrama de árbol, diagrama de flecha o diagrama sagital y gráficos cartesianos.

Tabla

	●	●	●
😊	(😊, ●)	(😊, ●)	(😊, ●)
☹	(☹, ●)	(☹, ●)	(☹, ●)



Trabajo individual

1. Dados los siguientes conjuntos:

$$U = \{1, 2, 3, 4, 5, 6, 7, 8, 9, 10\},$$

$$A = \{1, 2, 3, 4, 5\},$$

$$B = \{2, 4, 6, 8\},$$

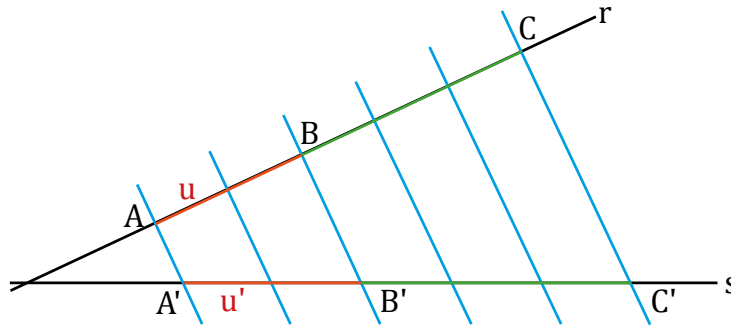
$$C = \{1, 3, 5, 7, 9\}.$$

Determina.

- $A \Delta B$
- $[(B \cap C)]^c$
- $[(A \cup B)]^c \cap C$
- $(A \Delta B)^c - (U \cap C^c)$
- $(A \Delta C) \cap C^c$

3. Teorema de Tales

D.C.D. M.4.2.5. Definir e identificar figuras geométricas semejantes de acuerdo con las medidas de los ángulos y a la relación entre las medidas de los lados, determinando el factor de escala entre figuras semejantes (teorema de Tales), en relación con lo observado en maquetas, mapas, obras de arte, etc.



<p>Las rectas r y s son secantes.</p>	<p>Seis rectas paralelas cortan r y s determinando segmentos iguales. La longitud de los segmentos sobre r es u. La longitud de los segmentos determinados sobre s es u'.</p>	<p>Consideramos los puntos A, B y C sobre r y sus puntos correspondientes sobre s. Estos puntos determinan sobre r segmentos u de distinta longitud que lo segmentos originales u.</p>
---	---	---

Vamos a comprobar que los segmentos $A'B'$ y $B'C'$ determinados sobre s son proporcionales a los segmentos AB y BC determinados sobre r :

$$\frac{AB}{A'B'} = \frac{BC}{B'C'}$$

La longitud de cada segmento es:

$$AB = 2u$$

$$BC = 3u$$

$$A'B' = 2u'$$

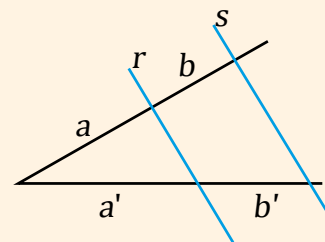
$$B'C' = 3u'$$

Si ahora nos fijamos en la relación entre los segmentos, obtenemos:

$$\frac{AB}{BC} = \frac{2u}{3u} = \frac{2}{3}$$

$$\frac{A'B'}{B'C'} = \frac{2u'}{3u'} = \frac{2}{3}$$

El teorema de Tales puede aplicarse también para determinar si dos rectas son paralelas o no. Observemos la figura.



Verificamos que:

$$\frac{a}{a'} = \frac{b}{b'}$$

Entonces las rectas r y s son paralelas.

Y, por lo tanto, llegamos al resultado:

$$\frac{AB}{BC} = \frac{A'B'}{B'C'} \Rightarrow \frac{AB}{A'B'} = \frac{BC}{B'C'}$$

Si dos **rectas secantes** son cortadas por un conjunto de **rectas paralelas**, los segmentos determinados en una de ellas son **proporcionales** a los segmentos correspondientes determinados en la otra.

$$\frac{AB}{A'B'} = \frac{BC}{B'C'} = \dots$$

A esta conclusión la conocemos como **teorema de Tales**, ya que fue el matemático y filósofo griego Tales de Mileto quien lo enunció por primera vez en el siglo VI a. C.

Los segmentos $A'B'$ y $B'C'$ reciben el nombre de **proyección paralela** de los segmentos AB y BC sobre la recta s .

Además, $A'B'$ y $B'C'$ son los segmentos homólogos de AB y BC , respectivamente.

Veamos cómo aplicar el teorema de Tales para hallar medidas indirectas.

Ejemplo 14

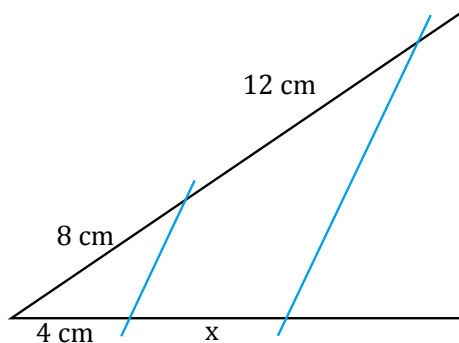
Calculemos la longitud x del segmento de la figura.

Por el teorema de Tales, sabemos que los segmentos determinados sobre dos rectas secantes por un conjunto de rectas paralelas son proporcionales.

Así pues, podemos establecer la proporción siguiente:

$$\frac{8}{4} = \frac{12}{x} \Rightarrow x = \frac{12 \cdot 4}{8} = 6$$

La longitud del segmento es 6 cm.



Ejemplo 15

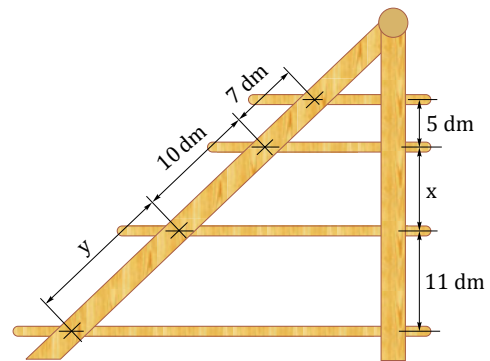
Los peldaños de la grada representada en la figura son paralelos. Calculemos las longitudes de la grada representadas como x e y .

Si aplicamos el teorema de Tales, podemos establecer las siguientes proporciones entre las diversas longitudes de la grada:

$$\frac{7}{5} = \frac{10}{x} \Rightarrow x = \frac{5 \cdot 10}{7} = \frac{50}{7} = 7,14$$

$$\frac{7}{5} = \frac{y}{11} \Rightarrow y = \frac{7 \cdot 11}{5} = \frac{77}{5} = 15,40$$

Las longitudes de x e y son 7,14 dm y 15,40 dm, respectivamente.



Aplicaciones del teorema de Tales


División en n partes iguales.

Al teorema de Tales lo empleamos en gran medida en el dibujo técnico. Un ejemplo claro de esto se presenta cuando una recta debe ser dividida en n partes iguales.

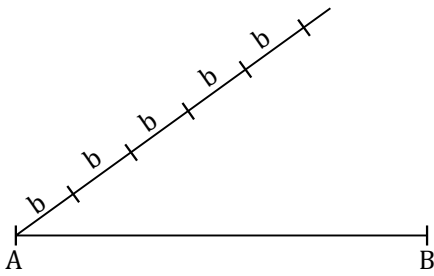
Como ya vimos en la sección anterior, si tenemos una recta cortada en segmentos de un determinado largo, podemos generar segmentos proporcionales en una segunda recta utilizando paralelas.

Mediante este principio realizamos esta construcción utilizando únicamente escuadra y compás:

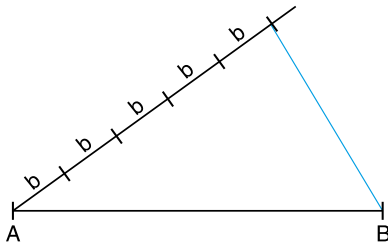
1. Dibujamos el segmento AB .



2. Dibujamos una semirrecta con origen en A. Sobre esta semirrecta situamos consecutivos y alineados cinco segmentos de una misma longitud b .

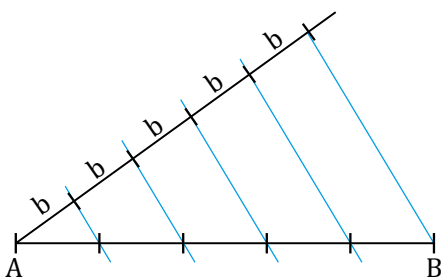


3. Unimos el extremo libre del último segmento b con el punto B.



4. Trazamos rectas paralelas al segmento anterior que pasen por los puntos marcados en la semirrecta.

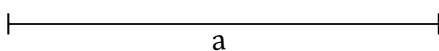
Hemos dividido el segmento AB en cinco segmentos de igual longitud.



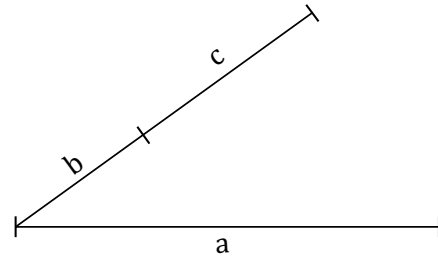
División en partes proporcionales

¿Cómo dividir un segmento de longitud a en dos partes proporcionales a los segmentos de longitudes b y c ?

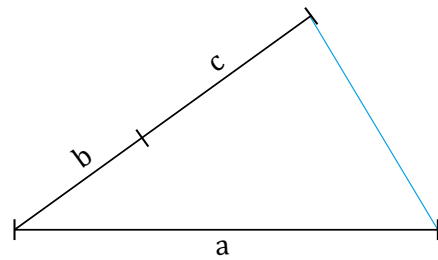
1. Dibujamos el segmento a .



2. Desde uno de sus extremos, dibujamos una semirrecta en la que situamos consecutivamente los segmentos b y c .

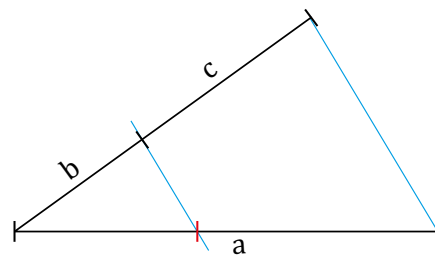


3. Unimos el extremo libre del segmento c con el extremo libre del segmento a .



4. Desde el extremo del segmento b , trazamos una recta paralela al segmento dibujado en el punto anterior.

Sobre el segmento a hemos obtenido dos segmentos proporcionales a los segmentos b y c .



Trabajo individual

1. Corte un segmento en siete partes iguales.
2. Hemos cortado una tira de madera en partes proporcionales a 2, 3 y 5.



— Halle la razón de estos segmentos:

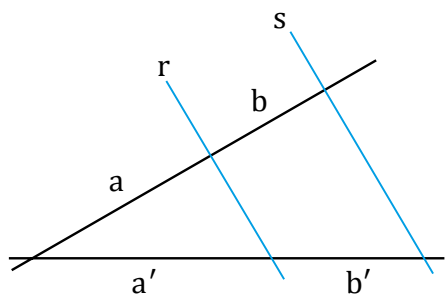
- | | |
|------------|------------|
| a. AB y CD | c. BC y AD |
| b. AC y BD | d. BC y BD |

3.1. Triángulos semejante y posición de Tales

D.C.D. M.4.2.6. Aplicar la semejanza en la construcción de figuras semejantes, el cálculo de longitudes y la solución de problemas cotidianos como el cálculo de alturas.

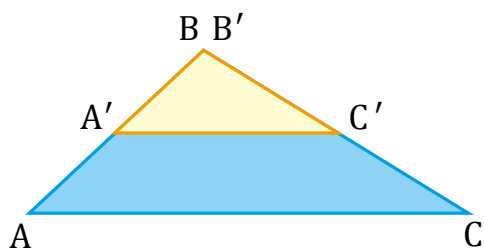
Triángulos semejantes y posición de Tales

El teorema de Tales sirve para determinar si dos rectas que cortan dos rectas secantes son paralelas o no.



Si se cumple $\frac{a}{a'} = \frac{b}{b'}$, entonces r y s son paralelas.

Ahora considera los triángulos semejantes del ejemplo de la izquierda ABC y $A'B'C'$.



Al ser semejantes deben cumplir:

$$\frac{A'B'}{AB} = \frac{B'C'}{BC} = \frac{A'C'}{AC}$$

Por el teorema de Tales podemos afirmar que los segmentos BC y $B'C'$ son paralelos y, por lo tanto, que los triángulos ABC y $A'B'C'$ están en posición de Tales.

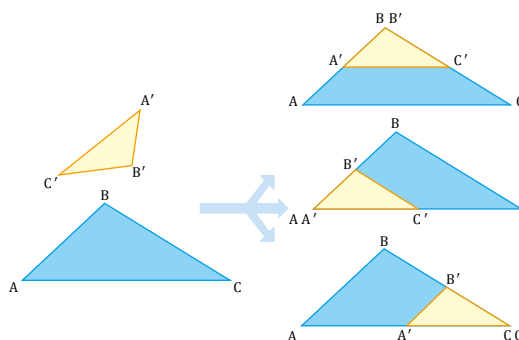
También aprendimos que dos triángulos en posición de Tales tienen los lados proporcionales y los ángulos iguales.

Por lo tanto, dos triángulos en posición de Tales son semejantes.

El recíproco también es cierto; es decir, dos triángulos semejantes siempre pueden situarse en posición de Tales.

Para comprobarlo, basta mover uno de los triángulos hasta hacer coincidir en un mismo vértice dos de los pares de ángulos homólogos.

Observemos que, independientemente del ángulo escogido, los lados opuestos a este

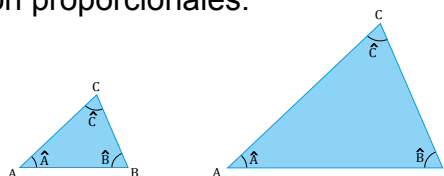


ángulo son paralelos y, por lo tanto, los triángulos siempre quedan situados en posición de Tales.

Dos triángulos en posición de Tales son semejantes, y dos triángulos semejantes pueden situarse en posición de Tales.

Criterios de semejanza de triángulos

Hemos visto que dos triángulos son semejantes si tienen los ángulos iguales y sus lados son proporcionales.



Semejanza de triángulos en posición de Tales

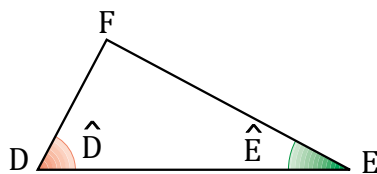
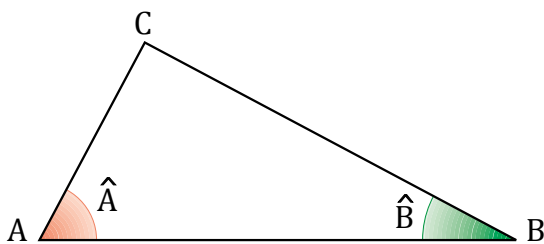
En la unidad anterior vimos que dos triángulos están en posición de Tales si tienen un ángulo común y los lados opuestos a este ángulo son paralelos.

No obstante, no es necesario comparar los tres lados y los tres ángulos de dos triángulos para determinar si son semejantes.

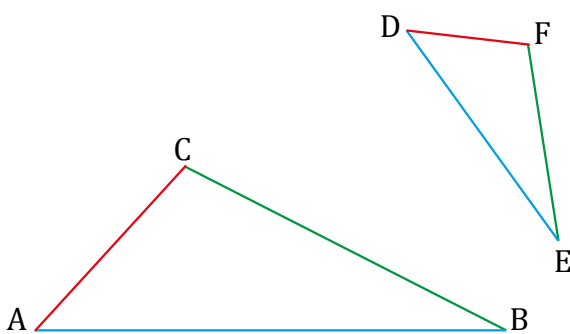
Las condiciones que nos permiten afirmar que dos triángulos son semejantes se llaman *criterios de semejanza*.

Hay diversos criterios de semejanza para triángulos. Tres de estos criterios son:

Dos triángulos que tengan **dos ángulos iguales** son **semejantes**.

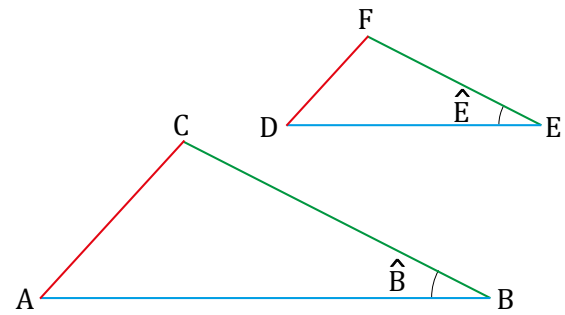


Dos triángulos que tengan sus **tres lados proporcionales** son **semejantes**.



$$\frac{AC}{DF} = \frac{CB}{FE} = \frac{AB}{DE}$$

Dos triángulos que tengan un **ángulo igual** y los **lados que lo forman proporcionales** son semejantes.



$$\hat{B} = \hat{E} \quad \frac{AC}{DF} = \frac{CB}{FE} = \frac{AB}{DE}$$

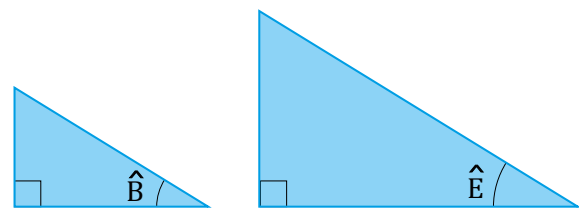
Estos criterios se demuestran comprobando que los triángulos pueden situarse en posición de Tales.

Estos criterios de semejanza se simplifican para algunas clases de triángulos, como es el caso de los triángulos rectángulos y el de los triángulos isósceles.

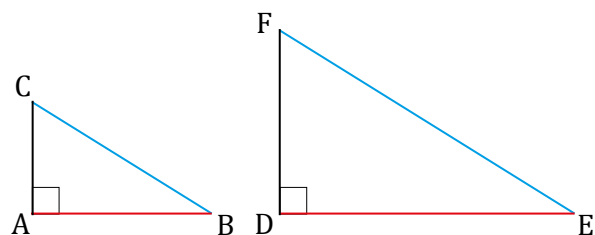
Veamos cuáles son estos criterios.

Criterios de semejanza de triángulos rectángulos

Dos triángulos rectángulos que tengan un ángulo agudo igual son semejantes.



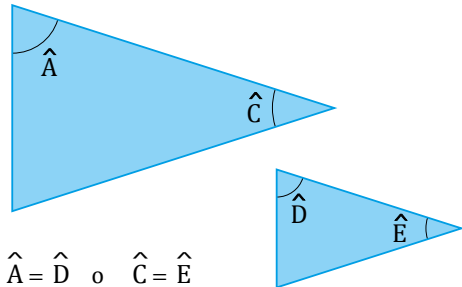
Dos triángulos rectángulos que tengan los catetos proporcionales o que tengan un cateto y la hipotenusa proporcionales son semejantes.



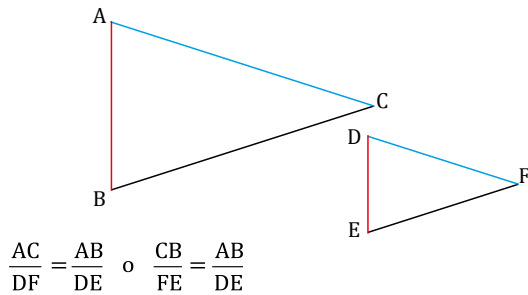
$$\frac{AC}{DF} = \frac{AB}{DE} \quad \text{o} \quad \frac{AC}{DF} = \frac{CB}{FE}$$

Criterios de semejanza de triángulos isósceles

Dos triángulos isósceles que tengan uno de los ángulos correspondientes igual son semejantes.



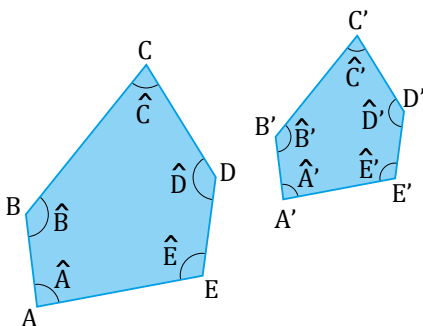
Dos triángulos isósceles que tengan un lado y la base proporcionales son semejantes.



Polígonos semejantes

Observemos los polígonos ABCDE y A'B'C'D'E' de la figura.

Los ángulos de los dos pentágonos son respectivamente iguales.



$$\hat{A} = \hat{A}' \quad \hat{B} = \hat{B}' \quad \hat{C} = \hat{C}' \quad \hat{D} = \hat{D}' \quad \hat{E} = \hat{E}'$$

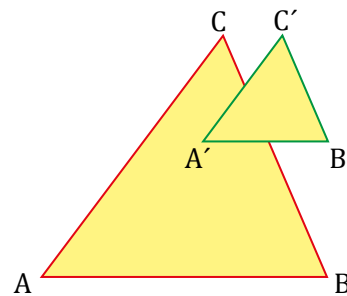
Los lados de los dos pentágonos son proporcionales.

$$\frac{A'B'}{AB} = \frac{B'C'}{BC} = \frac{C'D'}{CD} = \frac{D'E'}{DE} = \frac{E'A'}{EA}$$

Decimos entonces que los pentágonos ABCDE y A'B'C'D'E' son semejantes.

Es decir que dos polígonos semejantes tienen la misma forma aunque tengan distinto tamaño.

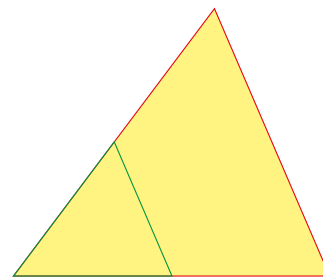
- Dos triángulos ABC y A'B'C' de lados paralelos son semejantes.



- La recta que une los puntos medios de los lados de un triángulo es paralela al tercer lado del triángulo y mide la mitad de este.

Verificamos que la razón de semejanza entre los dos triángulos es:

$$k = \frac{1}{2}$$



Trabajo individual

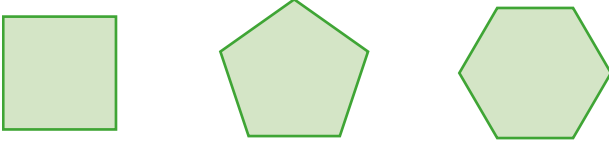
1. Construya un triángulo cuyos lados midan 6 cm, 8 cm y 10 cm.
2. Realice otro triángulo de lados proporcionales a los anteriores; por ejemplo, 3 cm, 4 cm y 5 cm.

3.2. Simetría en figuras geométricas

D.C.D. M.4.2.7. Reconocer y trazar líneas de simetría en figuras geométricas para completarlas y resolverlas.

Polígonos regulares

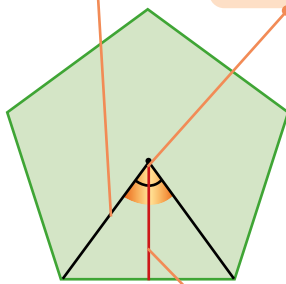
Los polígonos regulares tienen todos sus lados y sus ángulos iguales.



Estos polígonos tienen unos elementos característicos y exclusivos: el centro, las apotemas y los ángulos centrales.

Ángulo central: Ángulo con vértice en el centro del polígono cuyos lados son semirrectas que pasan por dos vértices adyacentes.

Centro: Punto interior del polígono que está a la misma distancia de todos sus vértices.



Apotema: Segmento que une el centro del polígono con el punto medio de cualquier lado.

Fíjese en que todas las apotemas de un polígono regular miden lo mismo y que cada apotema es perpendicular al lado correspondiente.

Sabemos que hay tantos ángulos centrales como lados. Puesto que todos ellos suman 360° y son iguales, tenemos que:

El valor de un **ángulo central** de un polígono regular de n lados es igual a: $360^\circ : n$.

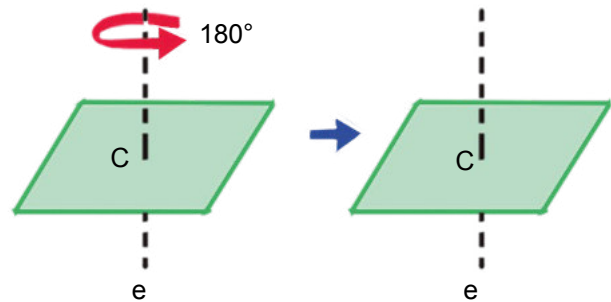
Ejemplo 16

Calculemos el valor del ángulo central de un pentágono regular.

Aplicamos la fórmula para calcular el valor del ángulo central de un polígono regular:

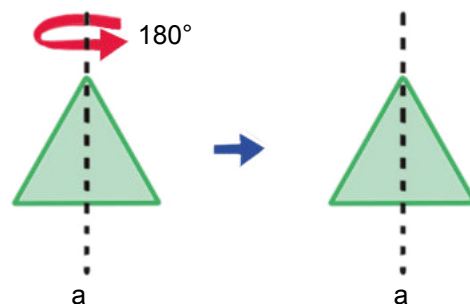
$$360^\circ : 5 = 72^\circ$$

Si un polígono gira menos que 360° respecto a una perpendicular por un punto c tal como indica la figura y se ve idéntico, c es centro de simetría del polígono.



Así, el centro de un polígono regular es centro de simetría del polígono regular.

Si un polígono gira 180° respecto a una recta e tal como indica la figura y se ve idéntico, e es eje de simetría del polígono.



Así, una altura de un triángulo equilátero es eje de simetría del triángulo.

4. Triángulos

M.4.2.8. Clasificar y construir triángulos utilizando regla y compás bajo condiciones de ciertas medidas de lados y/o ángulos, en relación con problemas prácticos de la construcción, medición de terrenos, etc.

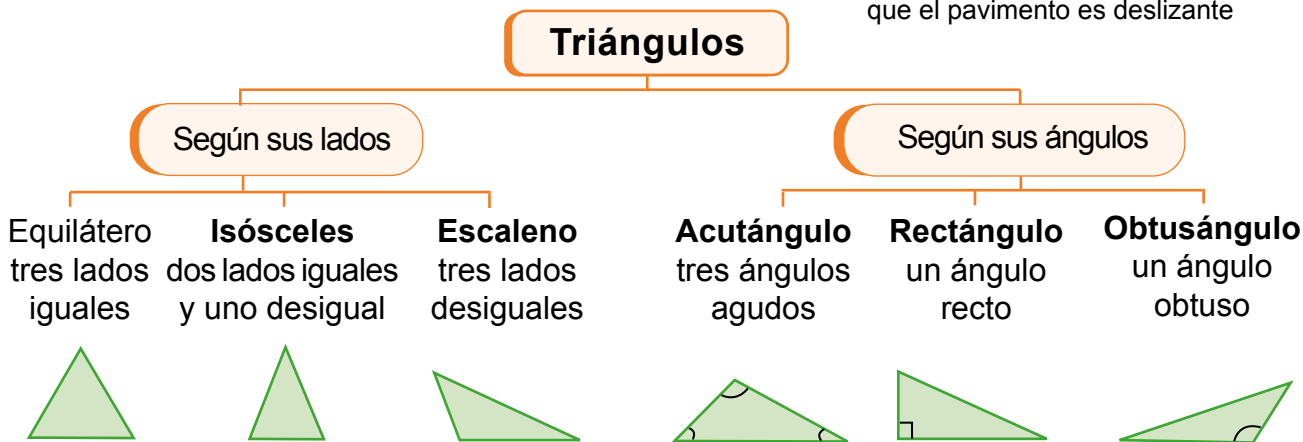
Un triángulo es un polígono de tres lados.

Clasificación

A los triángulos los podemos clasificar según sus lados o según sus ángulos.

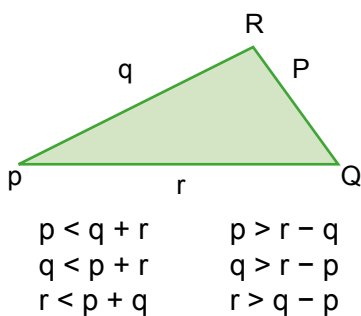


- Señal de tránsito que advierte que el pavimento es deslizante



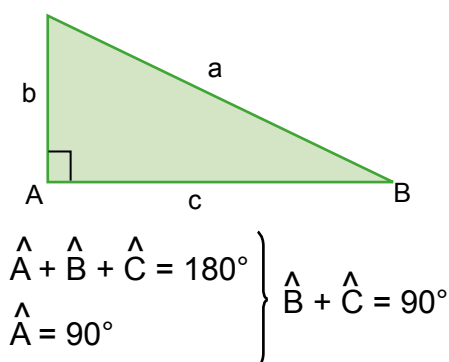
Propiedades

- Un **lado** cualquiera de un triángulo es **menor** que la **suma** de los **otros dos** y **mayor** que su **diferencia**.
- La suma de los ángulos interiores de un triángulo es 180° .



Además, en todo triángulo rectángulo se cumple que:

- La hipotenusa es mayor que cada uno de los catetos.
- Los **ángulos agudos** son complementarios, ya que:



Triángulos rectángulos

Un **triángulo rectángulo** es el que tiene un ángulo recto, es decir, un ángulo de 90° . Sus lados reciben nombres especiales:

- El lado **a**, opuesto al ángulo recto, se denomina **hipotenusa**.
- Los lados **b** y **c** que forman el ángulo recto se llaman **catetos**.

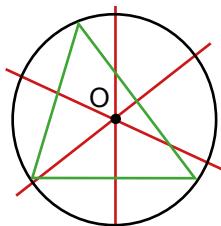
Rectas y puntos notables

Las mediatrices y las bisectrices de un triángulo, junto con las medianas y las alturas, que definiremos a continuación, constituyen las denominadas rectas notables de un triángulo, y sus intersecciones se denominan puntos notables.

Mediatrices

Las **mediatrices** de un triángulo son las mediatrices de sus lados.

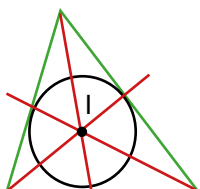
El punto donde se cortan las tres mediatrices de un triángulo es el **circuncentro**, **O**. Está situado a la misma distancia de cada vértice, por lo que es el centro de la circunferencia circunscrita al triángulo.



Bisectrices

Las **bisectrices** de un triángulo son las bisectrices de sus ángulos.

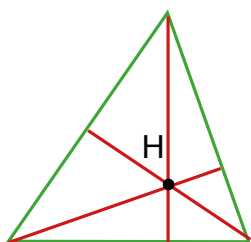
El punto donde se cortan las tres bisectrices de un triángulo es el **incentro**, **I**. Está situado a la misma distancia de cada lado del triángulo, por lo que es el centro de la circunferencia inscrita en el triángulo.



Alturas

Las **alturas** de un triángulo son los segmentos perpendiculares a un lado (o su prolongación) y que pasan por el vértice opuesto.

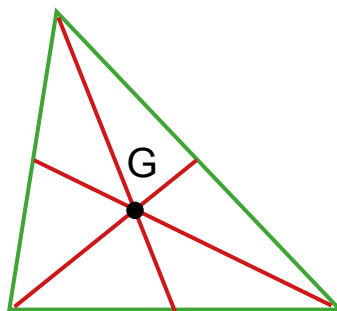
El punto donde se cortan las tres alturas de un triángulo (o sus prolongaciones) es el **ortocentro**, **H**.



Medianas

Las **medianas** de un triángulo son los segmentos que unen un vértice con el punto medio del lado opuesto.

El punto donde se cortan las tres medianas de un triángulo es el **baricentro**, **G**. El baricentro divide cada mediana en dos segmentos, uno con longitud doble a la del otro.



Circuncentro y ortocentro de triángulos:

En un triángulo rectángulo, el **circuncentro** está situado en el punto medio de la hipotenusa. El **ortocentro** coincide con el vértice del ángulo recto.

En un triángulo obtusángulo, el **circuncentro** y el **ortocentro** son exteriores.

Trabajo individual

1. Dibuje un triángulo escaleno y acutángulo como el de la figura, y halle su circuncentro, su baricentro y su ortocentro.
— Compruebe que estos tres puntos se encuentran sobre una línea recta, llamada *recta de Euler*, y que el baricentro se sitúa a doble distancia del ortocentro que del circuncentro.
2. ¿Es posible que un triángulo tenga dos ángulos rectos? Razona tu respuesta.
3. ¿Puede ser equilátero un triángulo rectángulo? ¿E isósceles? ¿Por qué?
4. Dos medianas de un triángulo se cortan y se dividen en dos partes cada una, si las medianas median doce y quince metros, cuáles son los valores de sus partes divididas.

4.1. Construcción de triángulos

D.C.D. M.4.2.8. Clasificar y construir triángulos utilizando regla y compás bajo condiciones de ciertas medidas de lados y/o ángulos, en relación con problemas prácticos de la construcción, medición de terrenos, etc.

Construcción de triángulos

Para determinar un triángulo, es necesario conocer tres de sus elementos, de los cuales al menos uno debe ser un lado.

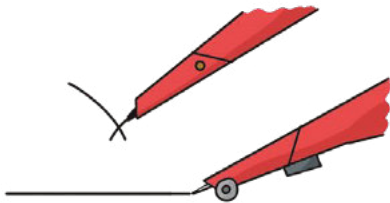
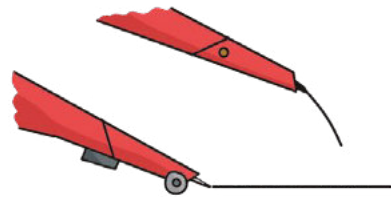
A continuación, mostramos algunos casos.

1

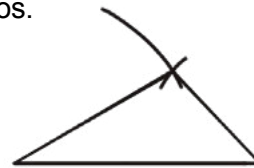
La construcción más sencilla es aquella donde conocemos los tres lados del triángulo (LLL).

Primero trazamos un segmento de largo de uno de los lados.

Posteriormente, abrimos el compás a la distancia del segundo lado y hacemos centro en uno de los extremos del segmento. Trazamos un arco.



Finalmente, trazamos rectas desde los extremos hasta el punto de corte de ambos arcos.



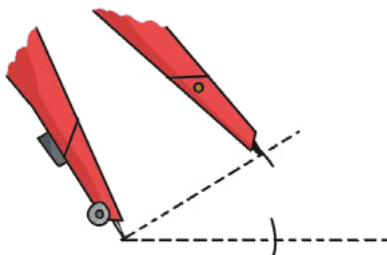
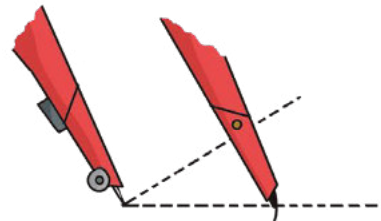
2

Realizamos el mismo procedimiento para el otro lado con la medida del lado restante.

1

Primero trazamos dos líneas separadas por el ángulo dado.

Posteriormente, tomamos el largo del primer lado y trazamos un arco con el compás hacia la primera línea.



Finalmente, unimos los puntos de corte.

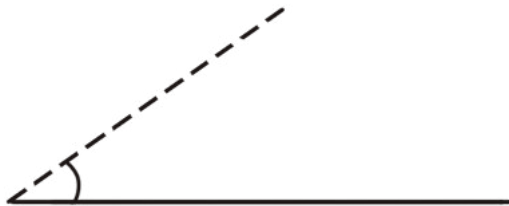
2

Luego, hacemos lo mismo con el segundo largo sobre la segunda línea.

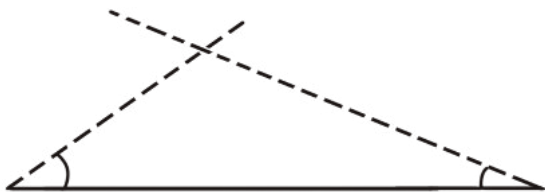
Otro conjunto de datos que dan como resultado un triángulo único es **dos ángulos con un lado en común (ALA)**.



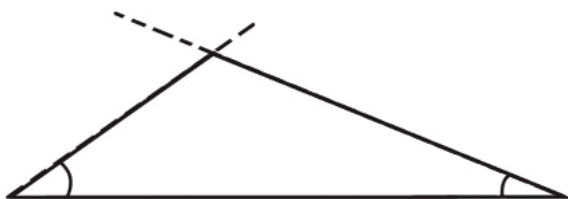
Primero trazamos un segmento del largo del lado dado.



Posteriormente, trazamos una línea que se encuentre separada por el ángulo dado de uno de los dos extremos.



Luego, hacemos el mismo procedimiento con el otro ángulo sobre el otro extremo.



Finalmente, unimos los puntos de corte.

Construcción de triángulos rectángulos

En un triángulo rectángulo, uno de sus ángulos es de 90° por lo que sus dos ángulos agudos son complementarios.

Además, como estudiaremos en el siguiente tema, conocidas las longitudes de dos de sus lados, podemos calcular la otra mediante el teorema de Pitágoras.

$$\hat{B} + \hat{C} = 90^\circ$$

Estas propiedades posibilitan que para construir un triángulo rectángulo sea suficiente con conocer:

- Dos lados.
- Un lado y un ángulo agudo.

Mundo Digital

Puede aprender más acerca de la construcción de triángulos entrando a este enlace:

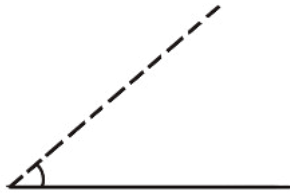
<https://goo.gl/Zn6aLk>.

Trabajo individual

1. Construye un triángulo cuyos lados midan 7 cm, 6 cm y 3 cm.
2. ¿Puedes construir un triángulo cuyos lados midan 10 cm, 6 cm y 4 cm? Razona tu respuesta.
3. Construye un triángulo equilátero de 5 cm de lado.
4. Dibuja un triángulo en el que uno de sus lados mida 5 cm y sus ángulos contiguos midan 35° y 70° .
5. Construye un triángulo rectángulo cuya hipotenusa mida 8 cm y uno de sus ángulos agudos, 23° .
6. Construye un triángulo en el que dos de sus lados midan 6 cm y 4 cm, y el ángulo que forman, 30° .
7. Construye un triángulo en el que dos de sus lados midan 6 cm y 4 cm, y el ángulo opuesto al lado de 6 cm es de 60° .
8. Dos triángulos tienen sus tres ángulos iguales. ¿Son iguales?

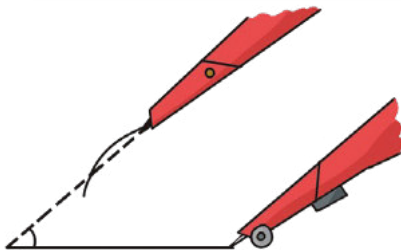
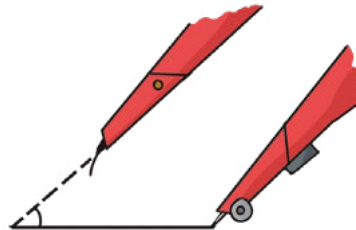
Existe una combinación más, es la de **dos lados consecutivos y un ángulo** que no se encuentra entre ellos. El problema con estos datos es que resultan en dos triángulos posibles (**ALL**).

Primero trazamos el segmento de la mitad, que tendrá a un lado el ángulo y a otro el lado con el largo dado.



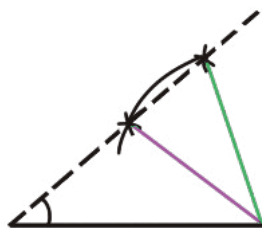
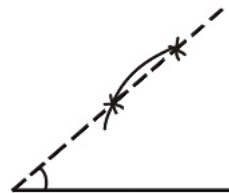
Posteriormente, trazamos una línea separada por el ángulo dado entre los datos de nuestra línea base.

Luego, tomamos de apertura del compás el largo del lado restante.



Con esta apertura, trazamos un arco sobre la línea que hicimos anteriormente.

Podemos ver que el arco cruza la línea en dos posiciones diferentes.



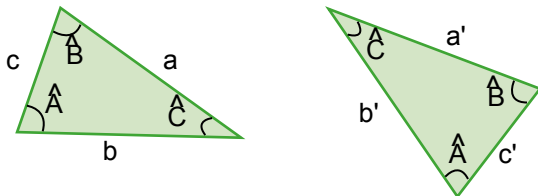
La unión del extremo con cada corte da como resultado dos triángulos distintos a partir de los mismos datos.

4.2. Congruencia de triángulos

D.C.D. M.4.2.9. Definir e identificar la congruencia de dos triángulos de acuerdo con criterios que consideran las medidas de sus lados y/o sus ángulos.

Congruencia

Dos triángulos son congruentes si tienen iguales los lados y los ángulos correspondientes.



$$a = a' ; b = b' ; c = c'$$
$$\hat{A} = \hat{A}' ; \hat{B} = \hat{B}' ; \hat{C} = \hat{C}'$$

Sin embargo, no es necesario comparar siempre los tres lados y los tres ángulos; para saber si dos triángulos son congruentes, basta con que lo sean algunos de sus elementos.

Para saber si dos triángulos son congruentes basta comprobar que se cumple cualquiera de estas cuatro condiciones:

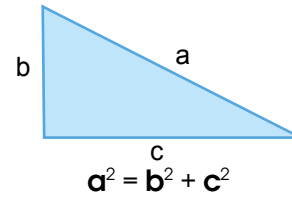
1. Tienen iguales los tres lados.
2. Tienen iguales un lado y sus dos ángulos adyacentes.
3. Tienen iguales dos lados y el ángulo que forman.
4. Tienen iguales dos lados y el ángulo opuesto al mayor de ellos.

Estas condiciones son los denominados *criterios de igualdad* de triángulos.

Teorema de Pitágoras

En un triángulo rectángulo, conocidas las longitudes de dos de sus lados, podemos calcular la otra mediante el teorema de Pitágoras.

En un triángulo rectángulo, el cuadrado de la hipotenusa es igual a la suma de los cuadrados de los catetos.



Conocidas las longitudes de un cateto y de la hipotenusa de un triángulo rectángulo, podemos conocer la longitud del otro cateto despejándolo de la expresión del teorema de Pitágoras:

$$b = \sqrt{a^2 - c^2}$$
$$c = \sqrt{a^2 - b^2}$$

Criterios de congruencia de triángulos rectángulos

Dos triángulos rectángulos son iguales si:

- Tienen dos lados iguales.
- Tienen iguales un lado y un ángulo agudo.

Desde Estudios Sociales

Al observar las construcciones antiguas como las pirámides de Egipto podemos darnos cuenta que usaban cuerdas y nudas para establecer las líneas guías de construcción.

Además en las escrituras védicas de la antigua India en el que se mencionan algunas reglas para colocar sus altares en los cuales empleaban cuerdas marcadas por tríadas que muestran una aplicación del Teorema de Pitágoras que fue escrito más tarde

Actualmente muchos albañiles usan tableros pequeños aplicando este teorema para alinear las esquinas de su construcción.

Mundo Digital

El Teorema de Pitágoras tiene varias aplicaciones, puede buscarlo en diferentes sitios web o visitar el siguiente enlace:

<https://goo.gl/9JGGqP>

Para determinar si es triángulo rectángulo

El teorema de Pitágoras solo se verifica para triángulos rectángulos. Así, si conocemos los tres lados de un triángulo cualquiera, podemos deducir si es rectángulo o no sin necesidad de dibujarlo; basta comprobar si los lados cumplen el teorema de Pitágoras o no.



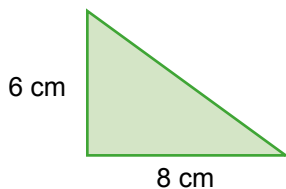
Desde la Arquitectura

Los triángulos son herramientas eficaces para la arquitectura y se utilizan en el diseño de edificios y otras estructuras, ya que proporcionan fuerza y estabilidad.

Los triángulos también se emplean como adornos en la arquitectura. En las iglesias, las ventanas triangulares a menudo se presentan representando la Santísima Trinidad.

Ejemplo 17

Hallemos la longitud de la hipotenusa del triángulo rectángulo de la figura.



Para hallar la longitud de la hipotenusa aplicamos el teorema de Pitágoras:

$$a^2 = b^2 + c^2 = 6^2 + 8^2 = 36 + 64 = 100 \Rightarrow a = \sqrt{100} = 10$$

La hipotenusa tiene una longitud de 10 cm.

Ejemplo 18

En un triángulo rectángulo, un cateto mide 4 cm y la hipotenusa 5 cm. ¿Qué longitud tiene el otro cateto?

Aplicamos el teorema de Pitágoras para encontrar la longitud del cateto.

$$a^2 = b^2 + c^2 \Rightarrow c^2 = a^2 - b^2 = 5^2 - 4^2 = 9 \Rightarrow c = \sqrt{9} = 3$$

El cateto tiene una longitud de 3 cm.

Ejemplo 19

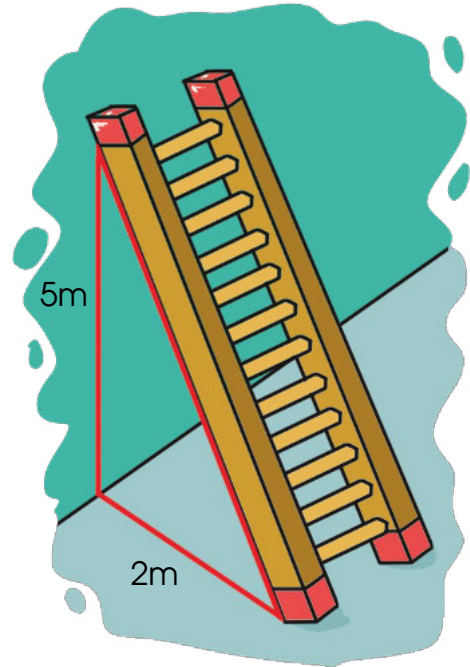
¿Qué longitud deberá tener una escalera para que al situar su base a 2 m de la pared alcance una altura de 5 m?

Al hacer un esquema obtenemos un triángulo rectángulo del que conocemos los catetos.

Para hallar la longitud de la escalera aplicamos el teorema de Pitágoras:

$$a^2 = 5^2 + 2^2 = 25 + 4 = 29 \Rightarrow a = \sqrt{29} \approx 5,4$$

La escalera deberá tener una longitud de 5,4 m.



Trabajo individual

1. Una bandera cuyas dimensiones son 15 dm y 10 dm tiene una línea que la atraviesa diagonalmente. Halle la longitud de dicha línea.
2. Dos triángulos tienen sus tres ángulos iguales. ¿Son iguales?
3. Calcule la altura que se puede alcanzar con una escalera de 4 metros apoyada sobre la pared, si la parte inferior se la coloca a 60 centímetros de ésta.

Evaluación

Indicadores de evaluación

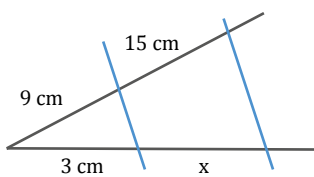
- Construye figuras simétricas; resuelve problemas geométricos que impliquen el cálculo de longitudes con la aplicación de conceptos de semejanza y la aplicación del teorema de Tales (I.1)
- Justifica procesos aplicando los conceptos de congruencia y semejanza. (I.4.)

1 Escriba verdadero (V) o falso (F) estas afirmaciones:

- Los polígonos de cinco lados se llaman *pentágonos*. ()
- Los polígonos que tiene veinte lados se llaman *dodecágonos*. ()
- Los polígonos de doce lados se llaman *icoságonos*. ()
- Un polígono es equilátero si todos sus lados y ángulos son iguales. ()

2 ¿Puede ser equilátero un triángulo rectángulo? ¿E isósceles? ¿Por qué?

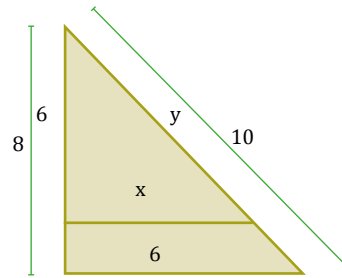
3 Observe esta figura:



— ¿Cuál es la longitud de x ?

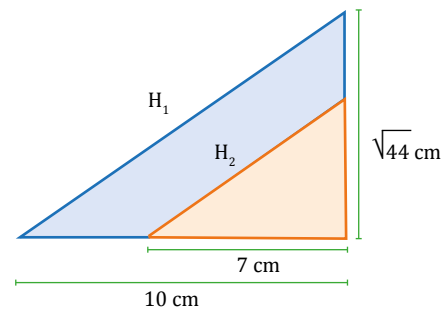
- $x = 4$ cm
- $x = 6$ cm
- $x = 5$ cm
- $x = 4$ cm

4 Encuentre el valor de y :



- $y = 8,5$
- $y = 5$
- $y = 7,5$
- $y = 6$

5 Determine los valores de H_1 y H_2 de la figura:



- $H_1 = 12$ cm $H_2 = 8$ cm
- $H_1 = 12$ cm $H_2 = 8,37$ cm
- $H_1 = 10$ cm $H_2 = 6,5$ cm
- $H_1 = 8,77$ cm $H_2 = 12$ cm

6 ¿Qué enunciado es un criterio de semejanza?

- Son semejantes si son figuras idénticas.
- Son semejantes si sus dos lados miden igual.
- Son semejantes si tienen los lados proporcionales.
- Son semejantes si tienen solo un ángulo igual.

Autoevaluación

Construyo figuras simétricas; resuelvo problemas geométricos que impliquen el cálculo de longitudes con la aplicación de conceptos de semejanza y la aplicación del teorema de Tales (I.1)

Justifico procesos aplicando los conceptos de congruencia y semejanza. (I.4.)

Unidad 5 Introducción a la estadística



edub©

Para empezar

- ¿Cuál cree que sería el orden de llegada entre las deportistas?
- ¿Qué tiempo tomaría en llegar a la meta cada una de ellas?
- ¿Cuál sería el promedio de velocidad de cada una de ellas?

Objetivo

Desarrollar la curiosidad y la creatividad a través del uso de herramientas matemáticas para enfrentar y solucionar problemas de realidad nacional.

Introducción

En esta unidad se estudiará acerca de la estadística. Aprenderemos a organizar datos estadísticos y a representarlos por medio de las TIC. También aprenderemos sobre las metodologías usadas en estadística y las variables estadísticas.

Contenidos

1. Introducción a la estadística

- 1.1. Organización y representación de datos estadísticos
- 1.2. Representación de datos estadísticos por medio de las TIC

- 1.3. Estadística usando programas informáticos
- 1.4. Metodologías usadas en estadística
- 1.5. Variables estadísticas
- 1.6. Estadística usando programas informáticos

1. Introducción a la estadística

1.1. Organización y representación de datos estadísticos

D.C.D. M.4.3.1. Organizar datos procesados en tablas de frecuencias para definir la función asociada y representarlos gráficamente con ayuda de las TIC.

Estadística

Muchas veces es interesante conocer algunas características o el comportamiento de un colectivo en cuestiones tan diversas, por ejemplo:

- El color preferido de los estudiantes de una clase.
- El número de goles marcados por cada uno de los equipos de fútbol de primera división en la última jornada.
- La estatura del estudiantado de noveno de Básica de una ciudad.

En estos casos, hemos de recoger datos, organizarlos adecuadamente y analizarlos para extraer conclusiones. Ya sabes que a este tipo de estudio lo denominamos *estudio estadístico*.

Para el estudio estadístico de una situación tenemos que definir, en primer lugar, estos conceptos: *población*, *individuo*, *muestra*, *variable estadística* y *dato*.

La **población** de un estudio estadístico es el conjunto de elementos objeto del estudio. Cada uno de los elementos de la población es un **individuo**.

En ocasiones, no podemos tratar toda la población porque es demasiado grande, porque no disponemos de tiempo ni de recursos para hacerlo, o por otros motivos. En estos casos, solo podemos estudiar una parte de la población.

Normalmente, estudiamos una muestra, porque la población es muy grande o porque es muy costoso estudiar la población entera.

Dado que las conclusiones que extraemos de un estudio estadístico se extrapolan a toda la población, hemos de prestar mucha atención a la hora de seleccionar la muestra.

Una **muestra** es una parte de la población sobre la que se lleva a cabo el estudio.

La propiedad o característica concreta de la población que se quiere estudiar recibe el nombre de *variable estadística*. Cada valor que toma la variable estadística es un **dato**.

Estudio estadístico	Población	Variable estadística
A	Todos los estudiantes de una clase	Color preferido
B	Equipos de fútbol de primera división	Número de goles marcados en la última jornada
C	Estudiantado de una ciudad	Estatura

Existe un proceso a seguir para resolver problemas estadísticos:

- Describir claramente el problema.
- Identificar factores que pueden afectar el problema o solucionarlo.
- Proponer un modelo para el problema.
- Realizar experimentos.
- Refinar el modelo basándose en los datos encontrados.
- Realizar un nuevo experimento para hallar una solución al problema.
- Sacar conclusiones.

Recogida de datos

En un estudio estadístico nos interesa conocer el valor que toma la variable estadística en los diferentes individuos que componen la muestra de la población.

Ramas de la estadística

La estadística se divide en dos importantes ramas:

- La **estadística descriptiva**, que se ocupa únicamente de organizar los datos obtenidos en un estudio estadístico.
- La **estadística inferencial**, cuya finalidad es extraer conclusiones fiables sobre una población a partir de los datos recogidos en un estudio estadístico.

En esta unidad solo nos ocuparemos de la estadística descriptiva.

En ocasiones, para obtenerlos, basta con fijarse en cómo es o cómo se comporta cada individuo; otras veces es necesario hacer mediciones o experimentos científicos. También es frecuente realizar encuestas.

Una **encuesta** es un conjunto de preguntas dirigidas a una muestra significativa con la finalidad de obtener datos para un estudio estadístico.




<http://goo.gl/bG2xPP>

Si llevamos a cabo una encuesta, conviene tener presente que:

- Debe realizarse en un momento adecuado para que la persona encuestada se sienta cómoda y sea sincera.
- Las preguntas deberán ser breves y claras, y deben reducirse a las mínimas para obtener la información necesaria.
- Las preguntas no deben mostrar la opinión del encuestador.

- Es preferible formular preguntas con un número limitado de respuestas posibles que dejar opinar libremente al encuestado. En este caso, las encuestas son mucho más difíciles de tratar.



<https://goo.gl/7d2Y14>

Así, por ejemplo, al realizar una encuesta en una clase sobre la práctica de deporte, podemos plantear distintas preguntas:

- ¿Cuál es tu relación con el deporte? La pregunta puede tener demasiadas respuestas diferentes y puede ser muy complicado extraer alguna conclusión.
- ¿Cuántos días a la semana practicas deporte? Esta sencilla pregunta es más recomendable y tiene un abanico de respuestas más controlado.

Una forma sencilla de conseguir una muestra representativa consiste en escogerla al azar; por ejemplo, efectuando un sorteo entre todos los individuos de la población. En este caso, decimos que la muestra ha sido obtenida mediante un muestreo aleatorio.



Mundo Digital

La Estadística es una rama de la Matemática que surgió apenas el ser humano empezó a utilizar conceptos como el de un censo o el de los juegos de azar.

Investiga en libros e internet sobre la historia de las finanzas, puedes utilizar el siguiente enlace: <https://goo.gl/c9aXgf>.

Toma de muestras

No siempre es posible averiguar el valor que toma la variable estadística en todos y cada uno de los individuos de la población.

Cuando resulta inadecuado o dificultoso obtener información de toda la población, recogemos los datos correspondientes a una muestra representativa de dicha población.

Una manera sencilla de conseguir muestras representativas es elegir las al azar. Esta técnica recibe el nombre de *muestreo aleatorio*. Así, para conocer la opinión de los habitantes de un país sobre cierta decisión política, seleccionaríamos una muestra formada por unos cuantos habitantes elegidos por sorteo en el censo.



En cuanto al tamaño de la muestra, debe ser suficientemente grande para resultar representativa de la población, pero, a la vez, suficientemente pequeña para que sea posible manejarla.

Tablas estadísticas

Una vez recogidos los datos sobre los que basar un estudio estadístico, conviene organizarlos de forma que permitan obtener una primera impresión de la información que se tiene. Para ello, construimos las llamadas tablas estadísticas.



Desde la Matemática

Lenguaje matemático

Para representar la suma de N términos, utilizamos el símbolo sumatorio, Σ :

$$n_1 + n_2 + \dots + n_N = \Sigma n_i \\ (i = 1, 2, \dots, N)$$

Vamos a ilustrar el procedimiento con el estudio estadístico del número de hermanos que tienen los estudiantes de un determinado centro. De una muestra de veinte estudiantes, obtuvimos estos datos:

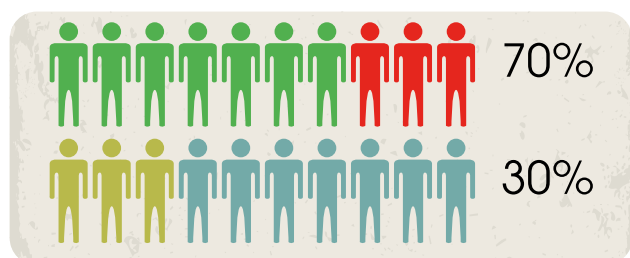
2, 0, 1, 0, 1, 2, 0, 3, 1, 0, 1, 2, 0, 0, 1, 3, 2, 0, 1, 0

A partir de esta serie de datos, construimos la tabla de distribución de frecuencias.

Fijémonos en que, en la primera columna, aparece el valor de la variable estadística, número de hermanos, y en la segunda columna, recuento, anotamos un pequeño segmento cada vez que aparece un dato de ese valor.

Realización de encuestas

Es conveniente formular preguntas de respuesta cerrada (a favor - en contra - no se define; mucho - regular - poco...), ya que ello facilita la clasificación de las respuestas.



Cuando no resulta posible o adecuado obtener los datos de toda la población, recogemos los correspondientes a una muestra representativa de esta; es decir, una muestra que nos pueda dar una idea correcta de los valores de la variable en toda la población.

También es importante el número de elementos de la muestra: cuanto más grande sea, mejor representará toda la población, pero más difícil será obtener los datos (necesitaremos más tiempo, seguramente más dinero).

Además, en la tabla estadística, aparecen:

- **Frecuencia absoluta:** La **frecuencia absoluta** n_i de un valor de la variable estadística es el número de veces que se repite dicho valor. Así, la frecuencia absoluta del primer valor es $n_1 = 8$; la del segundo, $n_2 = 6$...

- **Frecuencia relativa:** La **frecuencia relativa** f_i de un valor de la variable estadística es el resultado de dividir la frecuencia absoluta de dicho valor por el número total de datos, N. Así:

$$f_1 = \frac{n_1}{N} = \frac{8}{20} = 0,4 \quad f_2 = \frac{n_2}{N} = \frac{6}{20} = 0,3$$

- **Frecuencia absoluta acumulada:** La **frecuencia absoluta acumulada** N_i de un valor de la variable estadística es el resultado de sumar a su frecuencia absoluta las frecuencias absolutas de los valores anteriores. Así:

$$N_1 = 8; N_2 = 8 + 6 = 14; N_3 = 8 + 6 + 4 = 18...$$

- **Frecuencia relativa acumulada:** La **frecuencia relativa acumulada** F_i de un valor de la variable estadística es el resultado de sumar a su frecuencia relativa las frecuencias relativas de los valores anteriores. Así:

$$F_1 = 0,4; F_2 = 0,4 + 0,3 = 0,7; F_3 = 0,4 + 0,3 + 0,2 = 0,9...$$

En general, en todas las tablas estadísticas se cumple esto:

- La suma de todas las frecuencias absolutas, $\sum n_i$, coincide con el número total de datos, N.
- La suma de todas las frecuencias relativas, $\sum f_i$, es 1 (si expresamos en forma fraccionaria o decimal) o 100 (si expresamos en forma de porcentaje).
- La frecuencia absoluta acumulada del último valor coincide con el número total de datos, N.
- La frecuencia relativa acumulada del último valor es 1 (si expresamos en forma decimal) o 100 (si expresamos en forma de porcentaje).

Ejemplo 1

En una clase de veintiún estudiantes se hace una encuesta sobre el número de hermanos:

Números hermanos	Recuento	Frecuencia absoluta	Frecuencia relativa
0	☑☐	8	$\frac{8}{21} = 0,381$
1	☑	6	$\frac{6}{21} = 0,286$
2	☐	4	$\frac{4}{21} = 0,190$
3	└	2	$\frac{2}{21} = 0,095$
5		1	$\frac{1}{21} = 0,018$
		21	$\frac{21}{21} = 1$

Números hermanos	Frecuencia absoluta	Frecuencia absoluta acumulada	Frecuencia relativa	Frecuencia relativa acumulada
0	8	+ 8	0,381	+ 0,381
1	6	+ 14	0,286	+ 0,667
2	4	+ 18	0,190	+ 0,857
3	2	+ 20	0,095	+ 0,952
5	1	+ 21	0,048	+ 1

Trabajo colaborativo

1. Realicen una encuesta similar en su clase y encuentren todas las frecuencias.
2. Las respuestas correctas dadas por los estudiantes de una clase en una prueba de Matemática compuesta por diez preguntas han sido: 6, 6, 7, 4, 5, 7, 3, 9, 7, 8, 5, 5, 3, 6, 4, 3, 5, 6, 5, 5, 5, 7, 8, 5, 5, 6, 8, 4, 6 y 10.
 - a. Elaboren una tabla de distribución de frecuencias y di cuántos estudiantes han contestado correctamente:
 - menos de cinco preguntas.
 - cinco o más preguntas.
 - ocho o más preguntas.
3. Elijan un comité de tres personas en tu clase y pidan que decidan entre los tres la comida favorita del curso. Después, elijan un comité de una manera diferente y pidan que decidan el color favorito de la clase. Finalmente, hagan una encuesta levantando manos para averiguar cuál es la respuesta correcta a ambas preguntas. ¿A qué comité le fue mejor? ¿Por qué?

Agrupación de datos

Cuando una serie de datos estadísticos contiene una gran cantidad de valores distintos que apenas se repiten, no resulta práctico empezar una tabla estadística anotando los diferentes valores de la variable, sino que, antes del recuento, agrupamos los datos en intervalos.

Utilizamos los intervalos siempre que se trate de una variable estadística cuantitativa continua, pues, en este caso, solemos tener muchos valores diferentes, o en el caso de una variable estadística cuantitativa discreta si existe una gran cantidad de valores distintos que apenas se repiten.

Consideremos las estaturas de veintiocho estudiantes de una clase expresadas en centímetros.

154 158 162 148 163 153 159 180 165 168

156 148 162 157 153 158 147 165 166 175

172 167 160 155 147 156 161 159

Puesto que hay gran número de valores distintos, los agruparemos en estos intervalos:

(146, 153), (153, 160), (160, 167),
(167, 174), (174, 181).

Hemos elegido intervalos semiabiertos por la derecha, de la misma amplitud y en los que se incluyen todos los datos de la serie. A estos intervalos los denominamos *intervalos de clase*.

Tomamos como representante de cada intervalo de clase su valor central. A este valor lo obtenemos sumando los dos extremos y dividiendo el resultado entre 2. Recibe el nombre de *marca de clase*.

Por ejemplo, la marca de clase del intervalo [146, 153) es:

$$\frac{146 + 153}{2} = 149,5.$$

Una vez realizada la elección de intervalos de clase, construimos la tabla estadística.

Estatura (cm)	Marca de clase	Recuento	n_i	f_i	N_i	F_i
(146, 153)	149,5	<input type="checkbox"/>	4	0,142 9	4	0,142 9
(153, 160)	156,5	<input checked="" type="checkbox"/> <input checked="" type="checkbox"/>	11	0,392 9	15	0,535 8
(160, 167)	163,5	<input checked="" type="checkbox"/> <input type="checkbox"/>	8	0,285 7	23	0,821 5
(167, 174)	170,5	<input type="checkbox"/>	3	0,107 1	26	0,928 6
(174, 181)	177,5	<input type="checkbox"/>	2	0,071 4	28	1
			$\Sigma n_i = 28$	$\Sigma f_i = 1$		

Trabajo individual

1. Las masas en gramos de 33 piezas producidas por una máquina son:

6,8; 6,5; 6,9; 7,0; 6,8; 6,7; 6,9; 6,4; 7,0; 7,1; 6,7;

6,6; 6,4; 6,7; 7,2; 6,8; 6,9; 6,9; 6,5; 7,0; 6,9; 6,7;

6,5; 6,8; 7,0; 6,8; 6,4; 6,9; 7,1; 7,0; 6,6; 6,6; 6,8

Agrupe estos datos en seis intervalos que vayan de 6,35 g a 7,25 g, y confeccione una tabla de distribución de frecuencias.

2. Se dispone de los siguientes datos de una encuesta realizada a veinticinco estudiantes sobre su deporte favorito: la natación es el preferido por diez estudiantes; el 24% juega fútbol; la frecuencia relativa de los que eligen el baloncesto es 0,16; hay estudiantes que seleccionaron el voleibol.

— Confeccione una tabla con la frecuencia absoluta, la frecuencia relativa y el porcentaje de cada uno de los cuatro deportes.

1.2. Representación de datos estadísticos por medio de las TIC.

D.C.D. M.4.3.2. Organizar datos no agrupados (máximo veinte) y datos agrupados (máximo cincuenta) en tablas de distribución de frecuencias: absoluta, relativa, relativa acumulada y acumulada, para analizar el significado de los datos para una comprensión mayor de la información encontrada en varios medios.

Gráficos estadísticos

A la información contenida en las tablas estadísticas, la interpretamos con más facilidad si la representamos mediante gráficos estadísticos.

Si se trata de **datos no agrupados**, los gráficos más empleados son el diagrama de barras y el diagrama de sectores.

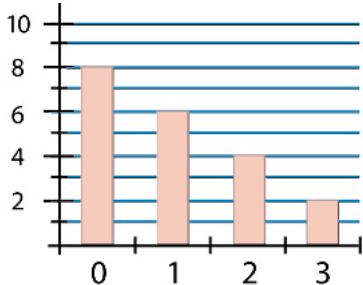
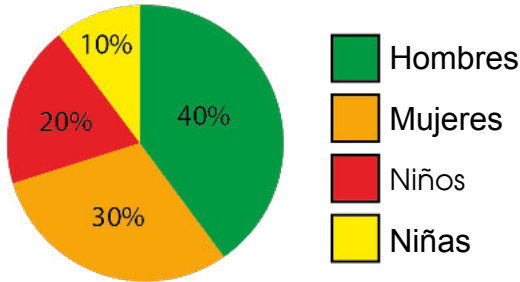
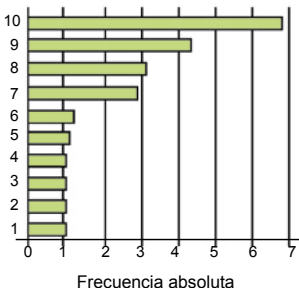
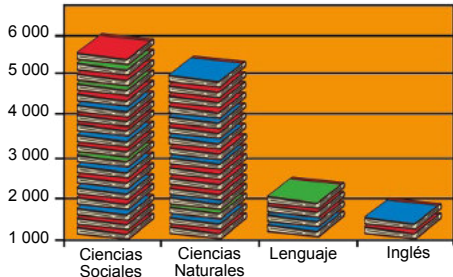
Diagrama de barras	Diagrama de sectores
<p>Trazamos unos ejes de coordenadas y representamos en abscisas los valores de la variable y en ordenadas sus frecuencias.</p> <p>Para cada valor de la variable, levantamos una barra vertical cuya altura sea el valor de su frecuencia.</p> <p>Cuando las barras son sustituidas por dibujos representativos, al gráfico lo denominamos pictograma.</p> 	<p>Consiste en un círculo dividido en sectores de amplitud proporcional a las frecuencias de cada valor de la variable.</p> <p>Suele acompañarse del porcentaje que representa cada sector.</p> 

Diagrama de barras horizontales	Pictograma
<p>Se trata de un diagrama de barras, pero con la posición de los ejes intercambiada.</p> <p>Es decir, representamos en abscisas la frecuencia y en ordenadas los valores de la variable.</p> 	<p>En este gráfico hemos sustituido las barras por dibujos representativos de la variable estudiada.</p> <p>Libros de texto publicados por una editorial</p> 

Si se trata de datos agrupados en intervalos, el gráfico más utilizado es el histograma. Veamos cómo se representan mediante un histograma las frecuencias absolutas del estudio estadístico sobre las estaturas de veintiocho estudiantes.

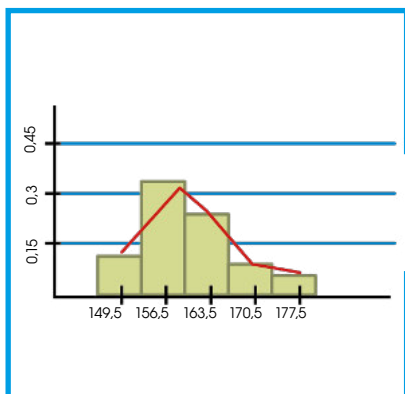
Estatura (cm)	Marca de clase	Recuento	n_i	f_i	N_i	F_i
(146, 153)	149,5		4	0,142 9	4	0,142 9
(153, 160)	156,5		11	0,392 9	15	0,535 8
(160, 167)	163,5		8	0,285 7	23	0,821 5
(167, 174)	170,5		3	0,107 1	26	0,928 6
(174, 181)	177,5		2	0,071 4	28	1
			$\Sigma n_i = 28$	$\Sigma f_i = 1$		

Histograma

Dibujamos unos ejes cartesianos. Sobre el eje de abscisas, representamos los intervalos de clase, uno a continuación del otro, y señalamos la marca de clase de cada uno. Sobre el eje de ordenadas, representamos las frecuencias absolutas.

Sobre cada intervalo de clase, construimos un rectángulo de base dicho intervalo y altura su frecuencia absoluta.

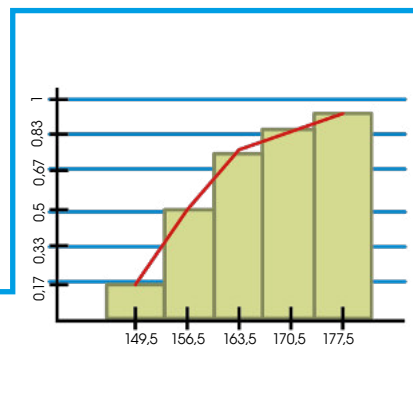
Observa que, al considerar intervalos de clase de igual amplitud, las áreas de los rectángulos son proporcionales a las frecuencias correspondientes.



En ocasiones, los histogramas aparecen acompañados de una línea poligonal que facilita la visualización del perfil de la distribución de datos.

Si el histograma es de frecuencias absolutas o relativas, la línea poligonal se llama polígono de frecuencias.

Si el histograma es de frecuencias absolutas acumuladas o relativas acumuladas, se llama ojiva.



Además de los gráficos estudiados, existen otros tipos de gráficos.

Cartograma

Es un **mapa coloreado** por zonas, según los valores que toma la variable. Va acompañado de un código que indica el significado de cada color.

El siguiente cartograma muestra el PIB (producto interior bruto) por habitante en España (2007).



Pirámide de población

Es la **combinación** de dos **histogramas horizontales** con un eje vertical común que contiene los intervalos de clase.

En uno de ellos, se representan los datos correspondientes a la distribución por edades del sexo masculino; y en el otro, los del sexo femenino.

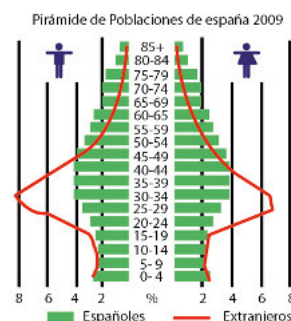
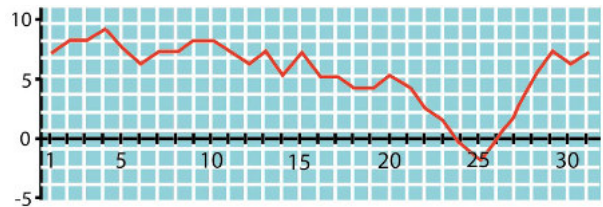


Gráfico evolutivo

Lo utilizamos para representar la evolución en el tiempo de una determinada variable estadística. Los valores de la variable cambian a lo largo del tiempo y constituyen lo que denominamos una *serie temporal*.

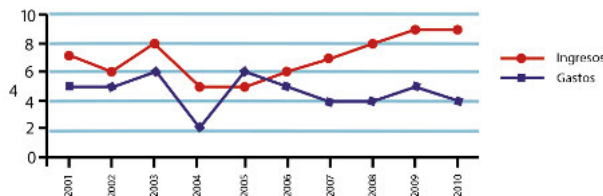
Para construir un gráfico evolutivo, seguimos estos pasos:

- Trazamos unos ejes de coordenadas.
- El eje de abscisas se toma como eje temporal, es decir, sobre él representamos los diferentes períodos. Sobre el eje de ordenadas, representamos los distintos valores de la variable.
- Representamos mediante puntos los pares formados por cada período y el valor correspondiente de la variable, y los unimos mediante una línea poligonal.



Observa que el gráfico evolutivo muestra la variación de las temperaturas de una población a lo largo de un mes.

Gráfico comparativo



Consiste en la superposición de dos o más gráficos en uno solo, de manera que puedan compararse con mayor facilidad que si se hubieran representado por separado.

La figura representa un gráfico comparativo que consiste en la superposición de dos gráficos evolutivos que describen los ingresos y los gastos anuales de una empresa, en millones de euros, entre 2001 y 2010.

Trabajo individual

1. Observe el cartograma de la página anterior y explique cuál es la distribución del PIB por habitante en el territorio español.
2. A partir del gráfico comparativo representado en la página anterior, construya un gráfico evolutivo que represente las ganancias de la empresa a lo largo del tiempo. ¿Cuáles han sido el mejor y el peor momento de la empresa en este período?
3. Describa cada tipo de gráfico estadístico.
 - a. Polígono de frecuencias
 - b. Pictograma
 - c. Cartograma
 - d. Gráfico comparativo
4. Dibuje un cartograma

Tablas y gráficos con computadora

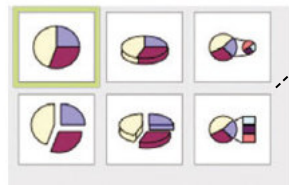
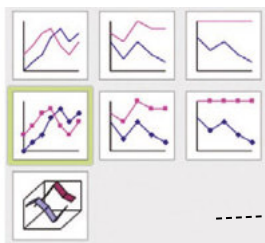
Una hoja de cálculo puede servir para confeccionar distintos tipos de gráficos estadísticos.

Veamos, por ejemplo, el caso de la estadística de los jugadores de un equipo de baloncesto en lo relativo a puntos conseguidos y minutos jugados.

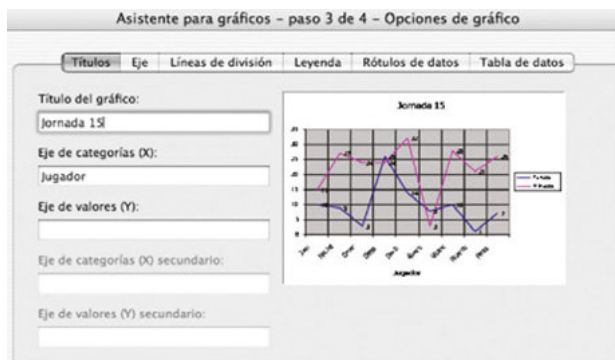
En primer lugar, debemos introducir en las celdas de la hoja de cálculo, en forma de tabla, la información recogida en el estudio.

A continuación, en el menú *Insertar* elegimos la opción *Gráficos*. A lo largo de cuatro pasos podemos definir las distintas características del gráfico.

	A	B	C
1	Jugador	Puntos	Minutos
2	Juan	10	15
3	Nacho	9	27
4	Omar	3	24
5	Diego	26	24
6	David	14	32
7	Álvaro	8	3
8	Vicente	10	28
9	Ricardo	1	21
10	Pedro	7	26



- En el **paso 1** seleccionamos el tipo de gráfico: columnas, líneas, sectores...
- En el **paso 2**, la información que hemos introducido en las columnas, las series de datos y sus títulos, se relacionan con la posición que debe tener en la gráfica.



- En el **paso 3** definimos: las leyendas del título y de los ejes, los tipos de líneas de división, los rótulos de datos (valores y porcentajes) y la tabla de datos.

Parámetros estadísticos

En la prensa, podemos leer titulares como estos:

- Cada ecuatoriano produce en promedio 197 kg de basura al año.
- El número medio de hijos por hogar en Ecuador es 1,6.

Estos valores reflejan las características de una serie de datos y los denominamos *parámetros estadísticos*.

Libros leídos (x_i)	Frecuencia absoluta (n_i)
$x_1 = 0$	$n_1 = 1$
$x_2 = 1$	$n_2 = 3$
$x_3 = 2$	$n_3 = 6$
$x_4 = 3$	$n_4 = 8$
$x_5 = 4$	$n_5 = 6$
$x_6 = 5$	$n_6 = 5$
$x_7 = 6$	$n_7 = 3$
	$N = 32$

Para calcular la media aritmética de un conjunto de datos cuyos valores se repiten, podemos utilizar las frecuencias absolutas (n_i) de cada valor de la variable (x_i). Así, para los datos de la tabla 4:

$$\bar{x} = \frac{0 \cdot 1 + 1 \cdot 3 + 2 \cdot 6 + 3 \cdot 8 + 4 \cdot 6 + 5 \cdot 5 + 6 \cdot 3}{32} = 3,3$$

Si representamos por x_1, x_2, \dots, x_k los diferentes valores de la variable, por n_1, n_2, \dots, n_k sus respectivas frecuencias absolutas y por N el número de datos, expresamos la media aritmética:

$$\bar{x} = \frac{x_1 \cdot n_1 + x_2 \cdot n_2 + \dots + x_k \cdot n_k}{N}$$

Parámetros de centralización

Los **parámetros de centralización** son valores representativos de un conjunto de datos.

Existen diferentes parámetros de centralización. Los más conocidos son: la **moda**, la **media aritmética** y la **mediana**.

Media aritmética


Cuando trabajamos con variables estadísticas cuantitativas, podemos tomar como valor representativo de la serie de datos el que resultaría de repartir la suma de todos los datos en partes iguales entre el número total de ellos.

A la **media aritmética** de una serie de datos la obtenemos sumando todos los datos y dividiendo entre el número total de ellos. La representamos por \bar{x} .

Las calculadoras científicas suelen estar preparadas para efectuar algunos cálculos estadísticos. En general, no proporcionan el valor de todos los parámetros estadísticos que has estudiado en esta unidad, pero sí el de los dos de uso más frecuente: la media aritmética y la desviación típica.

A continuación, te explicamos el funcionamiento de una calculadora estándar, aunque conviene que revises el manual de instrucciones de la tuya, porque no todas funcionan de la misma forma.

Introducción de datos


- Ponemos la calculadora en modo estadístico pulsando la tecla  y seleccionando el modo estadístico (SD).
- Borramos de la memoria cálculos anteriores.
- Introducimos los datos, uno a continuación de otro.

$$x_1 \text{ [M+] } x_2 \text{ [M+] } \dots x_n \text{ [M+]}$$


Si conocemos la frecuencia absoluta de cada x_i , podemos proceder más rápidamente pulsando

$$x_1 \text{ [1/Y] } n_1 \text{ [M+] } x_2 \text{ [1/Y] } n_2 \text{ [M+] } \dots x_k \text{ [1/Y] } n_k \text{ [M+]}$$

Obtención de parámetros estadísticos

- Para la media aritmética o la desviación típica, presionamos  y escogemos la opción correspondiente de la pantalla:



- También es posible obtener otros datos como el número de datos introducidos, la suma de todos los datos o la suma de los cuadrados de todos los datos pulsando  y escogiendo la opción correspondiente:



Ejemplo 2

Las edades, en años, de los participantes en un campeonato de ajedrez son estas: 16, 21, 45, 36, 30, 18, 29, 27, 18, 47, 22 y 40. Calculemos la media aritmética de estos datos.

Para hallar la media aritmética, sumamos la edad de cada uno de los participantes y dividimos el resultado entre el número de participantes.

$$\bar{x} = \frac{16 + 21 + 45 + 36 + 30 + 18 + 29 + 27 + 18 + 47 + 22 + 40}{12} = 29,1$$

La edad media es de 29,1 años.

Un valor importante en cualquier serie de datos, tanto si corresponde a una variable cualitativa como cuantitativa, es el que más veces se repite dentro de la serie. Este valor de la variable recibe el nombre de *moda*.

La *moda* es el valor de la variable que tiene mayor frecuencia absoluta.

Puede ocurrir que existan dos o más valores de la variable con frecuencia absoluta máxima. En este caso decimos que la distribución de datos es bimodal (dos modas), trimodal (tres modas)... o, en general, multimodal (varias modas).

Mediana

En el caso de variables estadísticas cuantitativas, podemos ordenar los datos de una serie de menor a mayor.

Observemos estos datos, ya ordenados, de la variable estadística denominada *horas diarias dedicadas al estudio*.

1, 1, 1, 1, 1, 1, 1, 1, 1, 1, 1, 1, 1, 2,
2, 2, 2, 2, 2, 2, 2, 2, 3, 3, 3, 3

Vemos que el 1 ocupa el lugar central. Diremos que 1 es la mediana. Pero ¿qué ocurre si el número de datos es par? Observémoslo en este ejemplo.

15, 23, 24, 26, 26, 28, 30, 36, 36, 40

Ahora hay dos datos centrales, 26 y 28. Diremos que la mediana es la media aritmética de estos dos datos.

$$\frac{26 + 28}{2} = 27$$

Al ordenar de menor a mayor los datos obtenidos en un estudio estadístico, la mediana es:

- El dato que ocupa el lugar central si el número de datos es impar.
- La media aritmética de los dos datos centrales si el número de datos es par.

Ejemplo 3

Determinemos la moda y la mediana de los datos de esta serie estadística: 5, 7, 4, 12, 8, 12, 14, 10, 7, 13, 6, 6, 12, 9, 11, 4.

- Ordenamos los datos: 4, 4, 5, 6, 6, 7, 7, 8, 9, 10, 11, 12, 12, 12, 13, 14.

La moda es el valor con mayor frecuencia absoluta: 12.

- El número de datos es par; entonces, la mediana será la media aritmética de los dos valores centrales:

$$\frac{8 + 9}{2} = 8,5$$

La mediana es 8,5.

Trabajo individual

1. Determine la moda y la mediana de estos datos estadísticos: 5, 6, 7, 10, 11, 6, 8, 6, 4, 7, 6, 3, 8.
2. Determine media, mediana y moda de la serie estadística: 3, 5, 2, 3, 4, 3, 3, 6, 5, 2, 3, 5, 6, 6.

1.3. Estadística usando programas informáticos

D.C.D. M.4.3.3. Representar de manera gráfica, con el uso de la tecnología, las frecuencias: histograma o gráfico con barras (polígono de frecuencias), gráfico de frecuencias acumuladas (ojiva), diagrama circular, en función de analizar datos mejorando la capacidad de comprensión de la información presentada de forma gráfica por los medios de comunicación.

Una **hoja de cálculo** es un programa que presenta en pantalla una cuadrícula de celdas o celdas identificadas con una letra que indica la columna y un número que indica la fila donde se encuentra.

Una fórmula en la hoja de cálculo

Calculemos el total de la factura de un supermercado. Sabemos que los artículos de clase A tienen un IVA del 4 %; los de clase B, del 7 %; y los de clase C, del 16 %.

	A	B	C
1	Ejemplo supermercado		
2		Importe sin IVA	
3	Tipo A	11,88	
4	Tipo B	51,79	
5	Tipo C	19,52	
6	Cálculo del importe total con IVA		
7		=B3*1,04+B4*1,07+B5*1,16	
8			
9			
10			
11			

- En las celdas adecuadas escribimos el texto que servirá de información. Con lo que, en las celdas B3, B4 y B5, escribimos, respectivamente, tres números que representan los importes sin IVA de los artículos de las clases A, B y C.
- En este caso, en la celda B7, escribimos la fórmula que proporcionará el importe total, sabiendo que, en una hoja de cálculo, escribimos una fórmula empezando con el signo igual (=) y que el símbolo de producto es *.

Recordemos que, para añadir a una cantidad el 4 %, el 7 % o el 16 %, hay que multiplicar, respectivamente, por 1,04, 1,07 y 1,16, luego, la fórmula es:

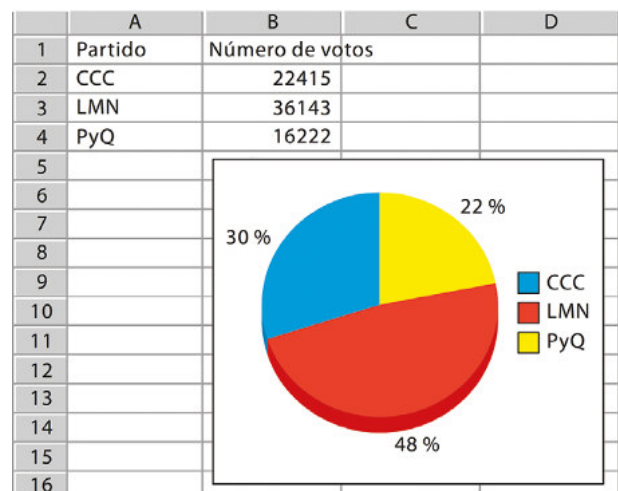
$$= B3*1,04+B4*1,07+B5*1,16$$

Veremos que, al digitar la fórmula, esta «se esconde» y aparece el resultado. Ahora bien, si hacemos doble clic en la celda correspondiente, podremos ver la fórmula como en la figura y corregirla si es necesario.

- Comprobemos que, para el cálculo, no se han usado «los números», sino la identificación de las celdas que los contienen, puesto que, si modificamos los valores de las celdas, el programa actualiza automáticamente el resultado.

Diagrama de sectores

Elaboremos el diagrama de sectores para representar gráficamente los resultados de unas elecciones en las que participaban tres partidos, CCC, LMN y PyQ, que han obtenido, respectivamente, 22 415, 36 143 y 16 222 votos.



- Escribimos la tabla de datos correspondiente en la hoja de cálculo y, a continuación, seleccionamos las celdas donde está la tabla que incluye la fila de rótulos.
- Hacemos clic sobre el ícono de la barra de herramientas para realizar gráficos estadísticos y, del menú que aparece, escogemos como tipo de gráfico *Círculo*. Al hacer clic en el botón de *Finalizar* aparecerá el correspondiente diagrama de sectores que podremos desplazar donde

nos interese y nos proporcionará el tamaño adecuado.

- Para que se vean los porcentajes, hacemos doble clic sobre el gráfico para activarlo; y a continuación, clic sobre el círculo con el botón derecho y, del menú desplegable que aparece, accedemos a *Propiedades del objeto* → *Etiquetas de datos* → *Mostrar valores como porcentaje*.

Cálculo de la media aritmética y elaboración de tablas y diagramas de barras

Calculemos la nota media de las veinticuatro notas que han obtenido los estudiantes de una clase en un examen, construyamos la tabla de frecuencias correspondiente.

- En la primera celda colocamos el título *Notas*, y seguidamente las veinticuatro notas de los estudiantes. Para calcular la

media aritmética de las notas, en la celda B27, escribimos la fórmula:

$$=PROMEDIO(A2:A25)$$

donde, A2:A25 indica «desde la celda A2 hasta la A25».

- Para construir la tabla, colocamos el cursor en una de las celdas que contienen las notas y siguiendo la ruta *Datos* → *Piloto de datos* → *Inicio*, se selecciona automáticamente la lista completa y aparece un cuadro de diálogo de *Selección de fuentes* que conviene aceptar.

Una vez aceptado, aparece otro cuadro de diálogo que esquematiza cómo construir una tabla. En este caso, veremos que aparece un botón *Notas*, que arrastramos a la zona *Campos de filas*.

Ejemplo 4

Hallemos la media aritmética y la desviación típica de los datos de la siguiente tabla, correspondiente al número de llamadas telefónicas que cada abonado de una localidad recibe diariamente, usando la calculadora.

x_i	0	1	2	3	4	5	6	7	8	9
n_i	82	125	323	624	682	448	270	92	47	7

- Ponemos la calculadora en modo SD, borramos de la memoria los cálculos anteriores e introducimos los datos.



- Para obtener la media aritmética, operamos de la siguiente forma:



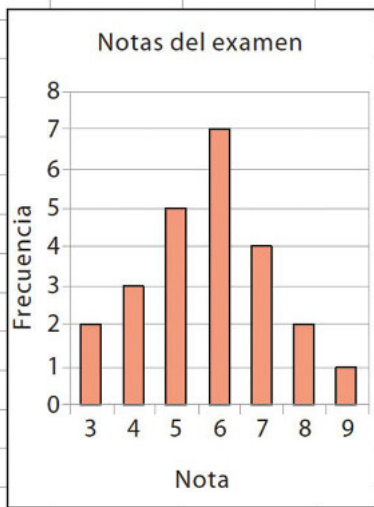
- Para obtener la desviación típica, pulsamos las teclas siguientes:



En cuanto a las computadoras, existen muchos programas informáticos capaces de calcular los diferentes parámetros estadísticos que conocemos. Cada uno funciona de una manera específica, por lo que es conveniente consultar el manual de instrucciones correspondiente.

También debemos moverlo a la zona *Campos de datos*. Sin embargo, en este caso, no interesa lo que aparece, *Total-Notas*, sino que queremos el recuento de frecuencias absolutas. Para ello, hacemos doble clic sobre el botón *Total-Notas* y, del cuadro con las opciones que aparecen, seleccionamos *Contar*. Una vez escogida, aparecerá *Cantidad-Notas*; con lo que ya podemos aceptar y aparecerá la tabla con las frecuencias absolutas de las notas.

	A	B	C	D	E
1	Nota		Filtro		
2	8				
3	3		Nota		
4	5		3	2	
5	4		4	3	
6	5		5	5	
7	6		6	7	
8	5		7	4	
9	6		8	2	
10	8		9	1	
11	7		Total Resultado	24	
12	3				
13	7				
14	7				
15	4				
16	5				
17	7				
18	6				
19	5				
20	6				
21	6				
22	4				
23	6				
24	9				
25	6				
26	Media				
27	5,75				



- Una vez construida la tabla, ya podemos elaborar el gráfico a partir de ella.

Seleccionamos la zona de la tabla donde están las frecuencias observadas, sin la celda del total; y damos clic sobre el ícono para elaborar gráficos escogiendo la opción *Columna*. Inmediatamente, se muestra un gráfico de barras en el que, por defecto, aparecen en el eje de abscisas los valores

1 2 3 4 5 6 7. Para presentar los verdaderos valores de las notas, accedemos a *Series de datos*, y nos situamos en la casilla siguiente:



Damos clic sobre el ícono indicado, con lo que se abrirá un *pop up* que nos permitirá seleccionar con el ratón las celdas que contienen los valores de las notas. En este caso, las celdas *C4:C10*.

Para acabar, podemos acceder a *Elementos de los gráficos* para colocar el título del gráfico y los rótulos en los ejes, y una vez introducidos, ya podemos hacer clic sobre el botón *Finalizar*.

De nuevo, podemos constatar la versatilidad que supone trabajar con una hoja de cálculo, puesto que el hecho de introducir modificaciones implica que se recalculan los resultados.

Así, por ejemplo, observemos cómo varía la media aritmética si cambiamos la primera nota de 8 por un 4. Y, para hacer efectivos los cambios en la tabla y el gráfico, basta dar clic con el botón derecho sobre la tabla y, del menú desplegable que aparece, escoger la opción *Actualizar*.

Desde la Sociología

Los diagramas o gráficos de sectores se utilizan en la sociología para organizar la información de poblaciones, entre otras cosas. De esta manera se puede clasificar, por ejemplo, la cantidad de habitantes de cada región (costa, sierra, oriente e insular) del Ecuador.

Aplicación para la vida

Los diagramas de barra pueden ayudarnos a organizar la información. De esta manera se puede relacionar, por ejemplo, la cantidad de habitantes de cada provincia de Ecuador.

Parámetros de dispersión

Los parámetros de dispersión de un conjunto de datos nos informan sobre la dispersión de los datos considerados, es decir, nos dicen si estos están más o menos separados.

Existen diferentes parámetros de dispersión. Los más utilizados son el recorrido, la desviación media, la varianza y la desviación típica.

Recorrido

Es la diferencia entre el valor máximo y el valor mínimo de la serie de datos. También lo conocemos como *rango* o *amplitud*, y lo representamos por r .

Así, si consideramos la serie de datos de la variable estadística que representa la edad de los dieciséis estudiantes de un curso de Astronomía, tenemos:

12 15 15 16 18 19 19 19

22 23 24 24 25 30 31 49

por lo que el recorrido de esta serie de datos es:

$$r = 49 - 12 = 37$$

El **recorrido** es un parámetro fácil de calcular, pero que ofrece una información muy limitada. Así, nos da una idea de la amplitud del conjunto de datos, pero está muy influenciado por los valores extremos.

Desviación media

Es la media aritmética de las desviaciones de todos los datos respecto a su media aritmética. La representamos por d_m .

En general, escribimos abreviadamente:

$$d_m = \frac{\sum |x_i - \bar{x}| \cdot n_i}{N}$$

x_i : valor de la variable
 \bar{x} : media aritmética
 n_i : frecuencia absoluta de x_i
 N : número total de datos

Ejemplo 5

Calculemos la desviación media de los datos de la tabla, correspondientes al número de huevos diarios que ponen las veinte gallinas de un corral durante un mes.

Cantidad diaria de huevos (x_i)	11	12	13	14	15	16	17	18
Número de días (n_i)	3	4	6	7	4	3	2	1

— Calculamos la media aritmética y aplicamos la fórmula para hallar la desviación media.

$$\bar{x} = \frac{11 \cdot 3 + 12 \cdot 4 + 13 \cdot 6 + 14 \cdot 7 + 15 \cdot 4 + 16 \cdot 3 + 17 \cdot 2 + 18 \cdot 1}{30} = 13,9$$

$$d_m = \frac{|11 - 13,9| \cdot 3 + |12 - 13,9| \cdot 4 + |13 - 13,9| \cdot 6 + |14 - 13,9| \cdot 7}{30}$$

$$+ \frac{|15 - 13,9| \cdot 4 + |16 - 13,9| \cdot 3 + |17 - 13,9| \cdot 2 + |18 - 13,9| \cdot 1}{30} = 1,45$$

Varianza

La **varianza**, σ^2 , es la medida aritmética de los cuadrados de las desviaciones de todos los datos respecto a su media aritmética.

En caso de que los datos estén agrupados en intervalos, tomamos las marcas de clase de los diferentes intervalos como los distintos valores de la variable x , y sus frecuencias absolutas como n_i .

Calculamos mediante estas fórmulas equivalentes:

$$x_i : \text{valor de la variable} \quad \rightarrow \quad \sigma^2 = \frac{\sum |x_i - \bar{x}|^2 \cdot n_i}{N} \quad \text{o} \quad \sigma^2 = \frac{\sum x_i^2 \cdot n_i}{N} - \bar{x}^2 \quad \leftarrow \begin{array}{l} n_i : \text{frecuencia absoluta de } x_i \\ N : \text{número total de datos} \end{array}$$

x : media aritmética

Desviación típica

La **desviación típica**, σ , es la raíz cuadrada positiva de la varianza.

Abreviadamente podemos escribir: $\sigma = \sqrt{\sigma^2}$

Ejemplo 6

Calculemos el recorrido, la desviación media, la varianza y la desviación típica de la distribución de datos que recoge la tabla.

Intervalo de clase	(100, 120)	(120, 140)	(140, 160)	(160, 180)	(180, 200)	(200, 220)
n_i	5	6	15	18	17	5

- En este caso, puesto que los datos están agrupados por intervalos, el recorrido es la diferencia entre el extremo superior del último intervalo de clase y el extremo inferior del primer intervalo de clase. Luego, $r = 220 - 100 = 120$.
- Aplicamos la fórmula correspondiente para calcular la desviación media.

$$d_m = \frac{|110 - 165,45| \cdot 5 + |130 - 165,45| \cdot 6 + |150 - 165,45| \cdot 15 + |170 - 165,45| \cdot 18 + |190 - 165,45| \cdot 17 + |210 - 165,45| \cdot 5}{66} = 21,87$$

- Aplicamos la primera de las fórmulas para calcular la varianza.

$$\sigma^2 = \frac{|110 - 165,45|^2 \cdot 5 + |130 - 165,45|^2 \cdot 6 + |150 - 165,45|^2 \cdot 15 + |170 - 165,45|^2 \cdot 18 + |190 - 165,45|^2 \cdot 17 + |210 - 165,45|^2 \cdot 5}{66} = 712,67$$

- Puesto que $\sigma^2 = 712,67$ tendremos que la desviación típica es $\sigma = \sqrt{712,67} = 26,70$.

Trabajo colaborativo

Junto con un compañero conteten las siguientes preguntas y comparen sus resultados con otros grupos

1. ¿Qué significado tiene un rango de notas 8,4 respecto de las notas de otro alumno cuyo rango es 4,8? ¿Podemos decir que notas están más dispersas? ¿Podemos decir cuáles son mejores?
2. ¿Es posible que la desviación estándar sea negativa? ¿Puede ser cero? En ambos casos expliquen su respuesta.

Cálculo manual de parámetros

Cuando realizamos manualmente el cálculo de parámetros, suele ser útil disponer los datos en tablas como esta:

①	②	③	④	⑤	⑥	⑦	⑧
x_i	n_i	N_i	$x_i \cdot n_i$	$ x_i - \bar{x} $	$ x_i - \bar{x} \cdot n_i$	$ x_i - \bar{x} ^2$	$ x_i - \bar{x} ^2 \cdot n_i$
.....
	$N = \sum n_i$				$\sum x_i - \bar{x} \cdot n_i$		$\sum x_i - \bar{x} ^2 \cdot n_i$

Con los datos dispuestos como se indica, vemos que:

- La moda es el x_i que presenta la n_i más alta (columnas 1 y 2).
- Obtenemos la mediana a partir de las tres primeras columnas.
- Hallamos la media aritmética dividiendo la suma de la columna 4 entre la suma de la 2.
- Calculamos el recorrido restando los valores máximo y mínimo de la columna 1.
- Obtenemos la desviación media dividiendo la suma de la columna 6 entre la suma de la columna 2.
- La **varianza** es la división de la suma de la columna 8 entre la suma de la columna 2.
- La **desviación típica** es la raíz cuadrada positiva de la varianza.

Ejemplo 7

Calculemos la moda, la media aritmética y la mediana de la siguiente distribución de datos, correspondiente al número de hijos de varias familias encuestadas: 2, 3, 1, 0, 2, 1, 2, 3, 0, 2, 1, 4, 0, 2, 2, 1, 3, 1, 1, 3, 2, 0, 1, 2, 1, 0, 2, 1, 1, 2.

Confeccionamos una tabla que recoja los datos que nos interesan:

- La moda es doble, ya que existen dos datos con la frecuencia absoluta máxima (columnas 1 y 2). Así pues, la moda es igual a 1 y a 2.
- La media aritmética es: $\bar{x} = \frac{46}{30} = 13,9$ (columnas 2 y 4).
- Los dos datos centrales son los que ocupan los lugares 15 y 16, que son 1 y 2 respectivamente (columnas 1, 2 y 3). Así:

$$\text{Mediana} = \frac{1 + 2}{2} = 1,5$$

①	②	③	④
x_i	n_i	N_i	$x_i \cdot n_i$
0	5	5	0
1	10	15	10
2	10	25	20
3	4	29	12
4	1	30	4
	30		46

Trabajo individual

- Determine la moda, la mediana, la media aritmética, el recorrido, la desviación media, la varianza y la desviación típica de cada una de estas distribuciones de datos, previa confección de las tablas adecuadas.
- Calcule el coeficiente de variación y opine sobre la dispersión de los datos.

a.

x_i	1	2	3	4	5	6	7	8	9
n_i	12	15	9	18	17	15	11	6	8

b.

x_i	18	19	20	21	22	23	24	25
n_i	3	12	54	66	57	55	18	11

1.4. Metodologías usadas en estadística.

D.C.D. (M.4.3.4). Definir y aplicar la metodología para realizar un estudio estadístico: estadística descriptiva para una interpretación básica de la información presentada en los cuadros estadísticos.

Resolución de problemas

Existe un proceso a seguir para resolver problemas estadísticos:

- Describir claramente el problema.
- Identificar factores que pueden afectar el problema o solucionarlo.
- Proponer un modelo para el problema.
- Realizar experimentos.
- Refinar el modelo basándose en los datos encontrados.
- Realizar un nuevo experimento para hallar una solución al problema.
- Sacar conclusiones.

Descripción del problema

La cafetería de una escuela se está quedando con mucha fruta sin vender y desean saber el motivo por el que los estudiantes no la están consumiendo.

Factores

Un grupo de estudiantes decide analizar el problema e identificar como factores importantes: el precio de cada fruta, la poca variedad por semana y el hecho de que los estudiantes no saben que su cafetería ofrece frutas.

Modelo

Los estudiantes creen que los tres factores afectan por igual a la venta de las frutas y que se debería, entonces, bajar los precios, mejorar la variedad y publicitar la fruta en su escuela.

Experimento

Para averiguar si están en lo correcto, los estudiantes realizan una encuesta afuera de la cafetería.

Desde la Estadística

La estadística es la rama de la matemática que se encarga de extraer significado a partir de datos. Al significado extraído lo utilizamos para mejorar ventas, averiguar tendencias de mercado, perfeccionar un producto o hallar relaciones entre variables.



Resultados del experimento

En esta encuesta encuentran que al 5 % de los estudiantes les parece que la fruta es muy cara, mientras que al 95 % les parece bien su precio. El 80 % opina que hay muy poca variedad en la cafetería y, finalmente, todos los estudiantes sabían que se vende fruta en la cafetería.

Experimento

Decidieron cambiar la oferta de frutas cada día de la semana siguiente y midieron la cantidad de fruta sobrante.

Conclusión

Concluyeron que, debido a que la cantidad de fruta que sobró fue significativamente menor, el problema era la poca variedad.

De la misma manera en que el grupo de estudiantes pudo, mediante un análisis estadístico simple, alterar las ventas y solucionar un problema de mercado; nosotros podemos hacer lo mismo una vez que aprendemos las herramientas necesarias.

Escalas de medición

La elaboración de un estudio estadístico consta de varias fases:

Fase	Tareas
Concepción	<ul style="list-style-type: none"> Definición del objeto de estudio: ¿qué se desea conocer y qué variables estadísticas se eligen? Determinación de la población y valoración de la necesidad de tomar una muestra Previsión del costo económico Diseño de la presentación de resultados
Elaboración del cuestionario	<ul style="list-style-type: none"> Selección de los datos o las preguntas sobre las variables objeto del estudio Redacción de las preguntas de forma adecuada
Trabajo de campo	<ul style="list-style-type: none"> Selección y formación de las personas que llevarán a cabo el estudio Confección del plan de acción: distribución de espacios y tiempo de ejecución Ejecución de la recogida de datos o de la encuesta
Análisis de los datos y presentación de los resultados	<ul style="list-style-type: none"> Tratamiento de los datos obtenidos. Confección de tablas y gráficos Revisión y verificación de su validez Elaboración de informe

La etapa final de un estudio estadístico es el análisis de los datos recogidos, con el fin de extraer conclusiones que puedan ser de interés.

Para realizar un correcto análisis de los datos, es fundamental conocer de antemano el tipo de medida de la variable, ya que, para cada una de ellas, utilizamos diferentes estadísticas. La clasificación más convencional de las escalas de medida las divide en cuatro grupos.

Cálculos estadísticos con calculadora y computadora

Las calculadoras científicas suelen estar preparadas para efectuar algunos cálculos estadísticos. En general, no proporcionan el valor de todos los parámetros estadísticos que hemos estudiado en esta unidad, pero sí el de los dos de uso más frecuentes: la

media aritmética y la desviación típica.

A continuación, explicamos el funcionamiento de una calculadora estándar, aunque conviene que revise el manual de instrucciones de la suya, porque no todas funcionan de la misma forma.

Trabajo colaborativo

1. Trabajen en parejas, busquen en periódicos o revistas, gráficos estadísticos como diagramas de barras, diagramas poligonales o diagramas de sectores circulares.

Construyan una tabla de frecuencias con los datos que se representan en el gráfico.

Introducción de datos	Introducción de datos
<ul style="list-style-type: none"> • Ponemos la calculadora en modo estadístico pulsando la tecla y seleccionando el modo estadístico (SD). • Borramos de la memoria cálculos anteriores. • Introducimos los datos, uno a continuación de otro. <p style="text-align: center;"> x_1 x_2 ... x_n </p> <p>Si conocemos la frecuencia absoluta de cada x_i, podemos proceder más rápidamente pulsando</p> <p style="text-align: center;"> x_1 n_1 x_2 n_2 ... x_k n_k </p>	<ul style="list-style-type: none"> • Para la media aritmética o la desviación típica, presionamos y escogemos la opción correspondiente de la pantalla: <div style="text-align: center;"> </div> <ul style="list-style-type: none"> • También es posible obtener otros datos como el número de datos introducidos, la suma de todos los datos o la suma de los cuadrados de todos los datos pulsando y escogiendo la opción correspondiente: <div style="text-align: center;"> </div>

Una hoja de cálculo ofrece funciones para el cálculo de determinados parámetros estadísticos de forma directa, sin necesidad de crear fórmulas.

Para determinar otros parámetros o en el caso de intervalos de datos, la hoja de cálculo también es útil, pero se debe recurrir a la utilización de las oportunas fórmulas matemáticas.

Veamos, con un ejemplo, cómo utilizar una hoja de cálculo.

Ejemplo 8

Hallemos la media aritmética y la desviación típica de los datos de la siguiente tabla, correspondiente al número de llamadas telefónicas que cada abonado de una localidad recibe diariamente, usando la calculadora.

x_i	0	1	2	3	4	5	6	7	8	9
n_i	82	125	323	624	682	448	270	92	47	7

- Ponemos la calculadora en modo SD, borramos de la memoria los cálculos anteriores e introducimos los datos.

0 82 1 125 ... 9 7

- Para obtener la media aritmética, operamos de la siguiente forma:

3.82

- Para obtener la desviación típica, pulsamos las teclas siguientes:

1.672049087

En cuanto a las computadoras, existen muchos programas informáticos capaces de calcular los diferentes parámetros estadísticos que conocemos. Cada uno funciona de una manera específica, por lo que es conveniente consultar el manual de instrucciones correspondiente.

Las edades, en años, de los participantes de un congreso fueron las siguientes:

35, 21, 44, 56, 37, 23, 58, 62, 33, 52, 23, 29, 45, 38, 54, 19, 37, 48, 26, 35, 43, 58, 60, 41, 22, 20, 58, 55, 47, 26, 27, 30, 37, 34, 25, 26, 49, 50, 35, 41, 45, 33, 31, 34, 19, 23, 39, 24, 28, 42, 61, 32.

Determinemos la media, la moda y la mediana:

- Sin agrupar los datos en intervalos y utilizando las funciones que ofrece la hoja de cálculo.
- Agrupando los datos en intervalos y empleando las fórmulas adecuadas de la hoja de cálculo.
- Introducimos la serie de datos, sin agrupar ni ordenar previamente, en las celdas de la columna A.

Escribimos en la celda B1: =PROMEDIO(A1:A52), y obtenemos el valor de la media, 37,9.

Escribimos en la celda B2: =MODA(A1:A52), y obtenemos la moda, 35.

Escribimos en la celda C3: =MEDIANA(A1:A52), y obtenemos la mediana, 36.

- Confeccionamos la tabla de distribución de frecuencias.

Intervalo de clase	x_i	n_i	N_i
[16, 24)	20	8	8
[24, 32)	28	10	18
[32, 40)	36	13	31
[40, 48)	44	8	39
[48, 56)	52	6	45
[56, 64)	60	7	52

	A	B
1	35	27,9
2	21	35
3	44	36
4	56	
5	37	
6	23	
7	58	
8	62	
9	33	
10	52	
11	23	
12	29	
13	45	
14	38	
15	54	
16	19	
17	37	
18	48	
19	26	
20	35	
21	40	
22	58	
23	60	
24	41	
25	22	
26	20	
27	58	
28	55	
29	47	
30	26	
31	27	
32	30	
33	37	
34	34	
35	25	
36	26	
37	49	
38	50	
39	39	
40	41	
41	45	
42	33	
43	31	
44	34	
45	19	
46	28	
47	39	
48	24	
49	20	
50	42	
51	61	
52	32	

	A	B	C	D
1	20	8	160	
2	28	10	280	
3	36	13	468	
4	44	8	352	
5	52	6	312	
6	60	7	420	
7		52	1992	38,3

Para calcular la media debemos aplicar la fórmula:

Para ello, debemos preparar la hoja de cálculo convenientemente:

- Introducimos las series de datos de x_i y n_i en las columnas A y B.
- En C1 introducimos la fórmula correspondiente al producto de los valores de las columnas A y B: =A1*B1. A esta fórmula la arrastramos de C1 a C6.
- Escribimos en B7 la fórmula de la suma de x_i : =B1:B7 y en C7 la suma de n_i : =C1:C7.
 - Escribimos en la celda D7 la fórmula: =C7/B7, obtenemos el valor de la media: 38,3.
 - El intervalo con mayor frecuencia absoluta es [32, 40) y su marca de clase es la moda: 36.
 - Los datos centrales pertenecen al intervalo [32, 40). Por tanto, la marca de clase del intervalo es su mediana, 36.

Fíjate que el valor de la media obtenido en ambos apartados difiere ligeramente. Esto es así porque, al trabajar con intervalos, calculamos la media de un intervalo a partir de un único valor, su marca de clase, que no deja de ser una aproximación de la media real del intervalo.

1.5. Variables estadísticas

D.C.D. M.4.3.5. Definir y utilizar variables cualitativas y cuantitativas en relación con cada dato a utilizar.

Es interesante conocer qué clase de valor puede tomar una variable estadística. En los casos anteriores, los valores pueden ser estos:

A (color preferido): rojo, azul, verde, amarillo...

B (número de goles marcados en la última jornada): 0, 1, 2, 3...

C (estatura): 1,57 m, 1,63 m, 1,594 m, 1,625 m...

Es fácil darse cuenta de que los valores que pueden tomar las variables estadísticas pueden ser, fundamentalmente, de dos tipos: numéricos (B y C), o no numéricos (A). Por ello, las variables estadísticas se clasifican en cualitativas y cuantitativas.

Las **variables estadísticas cualitativas** son aquellas que no toman valores numéricos.

En el caso A, la variable estadística es cualitativa, porque los valores no son números.

Las **variables estadísticas cuantitativas** son las características de la población que se expresan de forma numérica.

Las variables estadísticas que podemos estudiar a fondo son las cuantitativas, porque es posible efectuar operaciones con sus valores.

En resumen:

Encuesta

Conjunto de preguntas dirigidas a una muestra significativa con la finalidad de obtener datos para un estudio.

Variable estadística cuantitativa

Características de la población que se expresa en forma numérica.

Variable estadística cualitativa

Características de la población que no se expresan con valores numéricos.

Variable estadística cuantitativa continua

Dados dos valores cualesquiera de la variable, siempre podemos hallar un valor que se encuentre entre estos dos.

Variable estadística cuantitativa discreta

Dados dos valores cualesquiera de la variable, no podemos hallar un valor que se encuentre entre estos dos.

Variable estadística cuantitativa es continua.

Una variable estadística cuantitativa es continua si, dados dos valores cualesquiera de la variable, siempre podemos obtener un valor que se encuentre entre estos dos (caso C).

Variable estadística cuantitativa es discreta.

Una variable estadística cuantitativa es discreta si no puede tomar valores intermedios entre dos consecutivos (caso B).

Trabajo individual

1. Razona de qué tipo son las variables de los estudios estadísticos de la actividad anterior.
2. Indica en cada uno de estos casos si la variable estadística es cuantitativa discreta o continua. Justifica la respuesta.
 - a. Una variable estadística que solo puede tomar los valores 1; 1,25; 1,5; 1,75 y 2.
 - b. Una variable estadística que puede tomar todos los valores entre 1 y 4.



Muestras

Imaginemos que deseamos saber cuál es el color favorito de la gente del mundo. Lo obvio sería preguntarle a cada una de las personas del planeta cuál es su color favorito y ver cuál gana en mayoría, pero imagínate realizar una encuesta a cada una de las más de siete mil millones de personas en el planeta. Si utilizamos una hoja de papel bond por persona para realizar la encuesta, únicamente los formularios pesarian alrededor de 127 millones de kg, el equivalente al peso del agua de casi 51 piscinas olímpicas.

Escuchamos a diario, en las noticias, que se realizó una u otra encuesta sobre algún tema y se muestran algunos datos estadísticos a partir de eso. Pero ¿crees que el noticiero entrevista a cada persona en el país para obtener dichas estadísticas?

El obtener datos de toda una población es muy complicado logísticamente. Por esto, un censo total de población se realiza cada varios años, en vez de cada año.

Pero ¿cómo obtener datos significativos si es que no podemos preguntar a todos?

En estadística, resolvemos este problema con algo llamado *muestras estadísticas*.

Una **muestra estadística** es tomar una parte significativa de la población.

Para ilustrar esto, imaginémonos que, en el curso de un colegio, se quiere decidir qué hacer por su paseo de fin de año. Para esto se debe presentar las opciones ante el rector del colegio para que él elija una. ¿Tiene sentido que cada estudiante de


una promoción de cien estudiantes hable personalmente con el rector, y le explique su idea para el paseo? En realidad, es fácil pensar que existe una mejor solución, que ahorre tiempo a todos. Un representante de cada curso irá a hablar con el director, y así se reducirá la cantidad de personas a cuatro en vez de cien.

Estos cuatro pueden verse como una **muestra** de los estudiantes en general.

Obtención de muestras

La forma ideal de obtener los datos para un estudio estadístico sería averiguar el valor que toma la variable estadística en todos y cada uno de los individuos de la población.

Mundo Digital



Puedes conocer más acerca de muestras estadísticas con el uso del internet.

Puedes acceder a la página

<https://goo.gl/h9RSvQ>

Sin embargo, esto no siempre es posible. Por ejemplo, resulta bastante sencillo preguntar el color favorito a cada uno de los estudiantes de una clase, mientras que es muy complicado y costoso medir la estatura de todos los estudiantes de una gran ciudad.

Cuando no resulta posible o adecuado obtener los datos de toda la población, recogemos los correspondientes a una muestra representativa de esta; es decir, una muestra que nos pueda dar una idea correcta de los valores de la variable en toda la población.

También es importante el número de elementos de la muestra: cuanto más grande sea, mejor representará toda la población, pero más difícil será obtener los datos (necesitaremos más tiempo, seguramente más dinero).



Ejemplo 10

En los estudios estadísticos siguientes, expliquemos cómo efectuaríamos la recogida de datos y si conviene tomar una muestra o no. En caso afirmativo, digamos cómo la seleccionaríamos.

- Si un lote de latas de pescado en conserva está en condiciones de salir a la venta o no.
- Si un determinado modelo de auto gusta a la mayoría de ecuatorianos o no.



Respuesta del literal a.

Para saber si una lata en conserva está en buenas condiciones para abrirse. Por tanto, habría que seleccionar una muestra de este lote de latas, abrirlas y comprobar si se encuentran en buen estado. La muestra se podría obtener numerando las latas y efectuando un sorteo.

Respuesta del literal b.

Se debería realizar una encuesta. No se podría aplicar a toda la población porque es demasiado numerosa. La forma más correcta sería tomar una muestra a partir del censo. Otro modo, si no se dispone del censo, podría ser una encuesta en la calle.

Espacio muestral

El **espacio muestral** representa todas las formas posibles de elegir una muestra de entre una población. En el ejemplo anterior, el espacio muestral son todos los grupos de cuatro personas, conformados por una persona de cada paralelo.

Datos

Los **datos** son una colección de hechos que se documentan de manera numérica, con palabras, mediciones, observaciones y hasta descripciones.

Existen dos tipos de datos: datos cualitativos y datos cuantitativos.

Los datos cuantitativos discretos son aquellos que solo pueden tener valores enteros.

- ¿Cuántos limones produce un limonero al año?
- ¿Cuántos estudiantes hay en una clase?
- ¿Cuántas visitas tiene un video?

Los datos cuantitativos continuos se refieren a medidas que no son necesariamente enteras:

- ¿Cuánto pesan los gatitos de una camada?
- ¿Cuál es la altura promedio en un grupo de estudiantes?
- ¿Qué velocidad tiene un auto de carreras?

Los **datos cualitativos** describen alguna información. Algunos ejemplos son estos.

Si una receta resulta dulce, amarga o ácida. Si los gatitos nacidos de una gata blanca son blancos, grises o negros. Si el idioma más popular es español, inglés o francés.

Por otro lado, los **datos cuantitativos** son datos numéricos. Estos se separan a su vez en dos categorías, datos cuantitativos discretos y datos cuantitativos continuos.

Los datos cuantitativos discretos son aquellos que solo pueden tener valores enteros.



El término de Espacio Muestral también es empleado en los experimentos o cálculos de probabilidades, en donde, el espacio muestral de un experimento aleatorio es el conjunto de los posibles resultados que pueden darse y representamos por la letra Ω .

Trabajo individual

1. Responde esta pregunta, analiza lo aprendido.
 - ¿Cuáles de los siguientes datos son cualitativos y cuáles cuantitativos?
Color de ojos, temperatura de la habitación, viscosidad de la mermelada, fuerza de una persona.
2. Nombra cinco situaciones que se puedan resolver mediante una encuesta.
3. Investiga la estatura promedio de tu paralelo o curso, ¿tu estatura está por encima o por debajo del promedio?

1.6. Ordinal, intervalo y razón

D.C.D. M.4.3.6. Definir y aplicar niveles de medición: nominal, ordinal, intervalo y razón.

A las variables de las escalas nominal y ordinal las denominamos también *categorías*; por otra parte, a las variables de escala de intervalo o de razón las denominamos *variables numéricas*.

Con los valores de las variables categóricas no se puede, o no tiene sentido, efectuar operaciones aritméticas. Con las variables numéricas, sí.

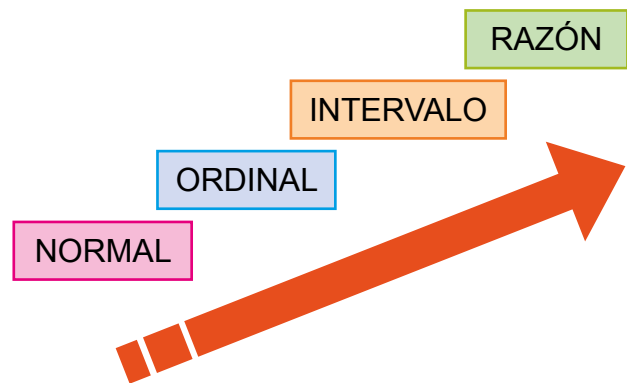
La **escala nominal** solo permite asignar un nombre al elemento medido, como: nacionalidad, número de camiseta en un equipo de fútbol, número de cédula.

La **escala ordinal**, además de las propiedades de la escala nominal, permite establecer un orden entre los elementos medidos. Los datos en escala ordinal pueden ser contados y ordenados, pero no pueden ser medidos, por ejemplo: preferencia a productos de consumo, etapa de desarrollo de un ser vivo, clasificación de películas por una comisión especializada.

A pesar de que algunos valores son formalmente numéricos, solo están siendo usados para identificar a los individuos medidos.

La **escala de intervalo**, además de todas las propiedades de la escala ordinal, hace que tenga sentido calcular diferencias entre las mediciones, por ejemplo: temperatura de una persona, ubicación en una carretera respecto de un punto de referencia, sobrepeso respecto de un patrón de comparación, nivel de aceite en el motor de un automóvil medido con una vara graduada.

Finalmente, la **escala de razón** permite, además de lo de las otras escalas, comparar mediciones mediante un cociente; por ejemplo, con variables como altura de personas, cantidad de litros de agua consumido por una persona en un día, velocidad de un auto en la carretera, número de goles marcados por un jugador de fútbol en un partido.



Medidas de posición

Cuartiles, deciles, percentiles

La descripción de un conjunto de datos incluye, como un elemento de importancia, la ubicación de estos dentro de un contexto de valores posibles.

Cuando separamos un conjunto de datos usando deciles, entre dos deciles consecutivos encontramos el 10% de los datos.

Mundo Digital

Puedes conocer más y resolver ejercicios didácticos acerca de cuartiles, deciles y percentiles ingresando al siguiente enlace

<https://goo.gl/Upp6XJ>

Trabajo individual

1. Al lado de cada oración relaciona el tipo de escala
 - a. Rango de estudio
 - b. Peso de una persona
 - c. Número de Cédula de Identidad
 - d. Nivel socio económico
 - d. Uso de audífonos
 - e. Cantidad de litros de agua consumido por una familia al día
 - f. Nacionalidad.
 - g. Número de camiseta en un equipo de Voley

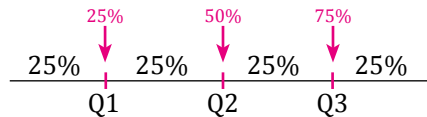
Las medidas de posición dividen un conjunto de datos en grupos con el mismo número de individuos.

Para calcular las medidas de posición, es necesario que los datos estén ordenados de menor a mayor.

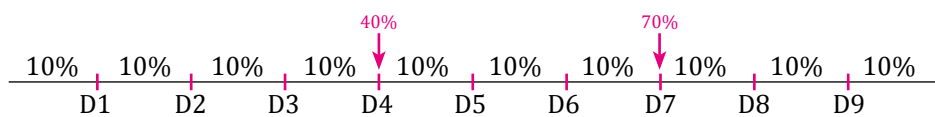
Las medidas de posición son:

Cuartiles: Dividen la serie de datos en cuatro partes iguales. Q1, Q2 y Q3 determinan los valores correspondientes al 25 %, 50 % y 75 % de los datos.

Q2 coincide con la mediana.



Deciles: Los deciles dividen la serie de datos en diez partes iguales.



Percentiles: Los percentiles dividen la serie de datos en cien partes iguales.

Ejemplo 11

En esta distribución de datos:

a. Calculemos la mediana (Me); el primer y tercer cuartil (Q1, Q3).

1° Organicemos los datos de menor a mayor: en este caso, ya están organizados.

Mediana (Me): Lugar que ocupa la mediana \Rightarrow total de datos / 2 = 20/2 = 10. tercer cuartil (Q1, Q3).

xi	ni	Ni
5	3	3
10	7	10
15	5	15
20	3	18
25	2	20
	n = 20	

Pero si vemos en la tabla, el lugar 10 está entre los valores 10 y 15 de x_i .

Como es igual a un valor de la frecuencia absoluta acumulada, realizaremos este cálculo:

$$Me = \frac{x_i + x_{i+1}}{2} = \frac{10 + 15}{2} = 12,5 \qquad Me = 12,5$$

Primer cuartil (Q1): Lugar que ocupa en la distribución (1/4). $20 = 20/4 = 5$.

Como el 5.º lugar está en la 2.ª fila de la tabla, es decir $3 < 5 < 10$, esto implicará que $Q1 = x_i = 10$.

Tercer cuartil (Q3): Lugar que ocupa en la distribución (3/4). $20 = 60/4 = 15$, que coincide con un valor de la frecuencia absoluta acumulada; por tanto, realizaremos el cálculo:

$$Q_3 = \frac{x_i + x_{i-1}}{2} = \frac{15 + 20}{2} = 17,5 \quad , \text{por tanto, } C_3 = 17,5$$

Para los datos del ejemplo anterior, calculemos:

- el 4.o decil (D4)
- el 90 percentil (P90)

Cuarto decil (D4): Lugar que ocupa en la distribución $(\frac{4}{10}) \cdot 20 = \frac{80}{10} = 8$.

Como $N_{i-1} < (\%) \cdot n < N_i$ ya que $3 < 8 < 10$ por tanto $D_4 = 10$.

Nonagésimo percentil (P90): Lugar que ocupa en la distribución $(90/100) \cdot 20 = 1800/100 = 18$, que coincide con un valor de la frecuencia absoluta acumulada; por tanto, realizaremos el cálculo:

$$P_{90} = \frac{x_i + x_{i-1}}{2} = \frac{20 + 25}{2} = 22,5$$

El percentil 90, $P_{90} = 22,5$.

Trabajo colaborativo

- Calculen la mediana, primer y tercer cuartil y el percentil 70 de los estos datos:
6 4 3 3 4 2 2 5 3 6 2 6 2 2 4 2 2 4 3 6 3
- Calculen la mediana, primer y tercer cuartil y el percentil 30 de:
3 1 1 1 4 1 5 3 1 3 3 4 5 5 4 4 2 1 4 4
- Para que una muestra sea representativa es conveniente que incluya entre el 11 % y el 15 % de la población. Si de entre 4 000 personas (2 080 mujeres y 1 920 hombres) se elige una muestra representativa:
 - ¿Qué cantidad máxima y mínima de personas hay que elegir?
 - En cada caso de los anteriores, ¿cuántos hombres y mujeres formarían parte de las dos muestras?
- Marca la respuesta correcta en los siguientes ejercicios:
 - Cuando calculamos los percentiles hay que identificar:
 - un índice.
 - el punto medio.
 - el promedio.
 - el cuartil.
 - la moda.
- Dada una muestra cuyos valores son 27, 25, 20, 15, 30, 34, 28 y 25, el percentil 70 corresponde a:
 - 28.
 - 15.
 - 27.
 - 30.
 - 34.

Indicadores de evaluación

- Interpreta datos agrupados y no agrupados en tablas de distribución de frecuencias y gráficas estadísticas. (J.2)

1 Ponga verdadero (V) o falso (F) en estas aseveraciones:

- La población de un estudio estadístico es el conjunto de elementos objeto del estudio. ()
- El individuo es cada uno de los elementos de la población. ()
- Variable estadística es la propiedad o característica concreta de la población que se quiere estudiar. ()
- Dato es cada uno de los valores que toma la población. ()

2 Relaciona la columna *Nombre* con la columna *Definición*.

Nombre	Definición
Variable estadística cuantitativa	Dados dos valores cualesquiera de la variable, siempre podemos hallar un valor que se encuentre entre estos dos.
Variable estadística cualitativa	Conjunto de preguntas dirigidas a una muestra significativa con la finalidad de obtener datos para un estudio.
Variable estadística cuantitativa continua	Características de la población que se expresa en forma numérica.
Variable estadística cuantitativa discreta	Características de la población que no se expresan con valores numéricos.
Encuesta	Dados dos valores cualesquiera de la variable, no podemos hallar un valor que se encuentre entre estos dos.

3 Completa la tabla:

En una encuesta a los estudiantes de noveno, se determina que prefieren estas películas: *La amenaza fantasma*, 85 alumnos, *Titanic*, 40 alumnos, *Hombres de negro*, 30 alumnos, indiferentes, 5 alumnos

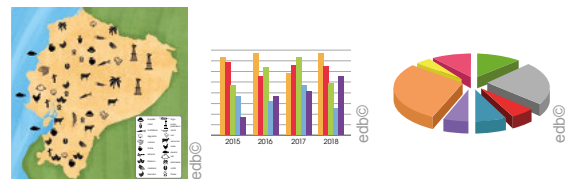
Película	Frecuencia absoluta	Frecuencia relativa
<i>La amenaza fantasma</i>	85	$85/1600 = 0,53$
<i>Titanic</i>		
<i>Hombres de negro</i>		
Indiferentes		

4 Complete.

El número de veces que se repite un valor determinado de la variable estadística es su frecuencia _____.

El resultado de dividir la frecuencia absoluta de un valor entre el número total de datos es la _____ de dicho valor.

5 Observe los gráficos estadísticos y, debajo de cada uno, ponga el nombre correspondiente:



Autoevaluación

- Interpreto datos agrupados y no agrupados en tablas de distribución de frecuencias y gráficas estadísticas. (2)



Para empezar

- ¿Qué elementos pertenecen al ecosistema en forma natural? ¿Y en forma artificial?
- Imaginando como origen del plano cartesiano al hombre en la orilla del mar, indique la posición de la primera sombrilla.

Objetivo

Graficar en un plano cartesiano la función lineal y cuadrática identificando su dominio, recorrido y características principales.

Introducción

En esta unidad trabajaremos los temas de producto cartesiano, diagramas de Venn, sus propiedades y métodos de resolución. Las formas de obtener las soluciones de una ecuación de segundo grado, también las generalidades de una función como imágenes y propiedades de las funciones. Y de manera particular, las funciones lineales, cuadráticas y de tercer grado con sus respectivas características.

Contenidos

1. **Producto cartesiano**
 - 1.1. Propiedades del producto cartesiano
 - 1.2. Diagramas de Venn
 - 1.3. Definición intuitiva de función
 - 1.4. Dominio y recorrido de funciones
2. **Funciones lineales**
 - 2.1. Características de las funciones lineales
 - 2.2. Gráfica de una función lineal
3. **Funciones polinómicas básicas**
 - 3.1. Características de las funciones de segundo grado
 - 3.2. Funciones y problemas de aplicación que voluptat.

1. Producto cartesiano

D.C.D. M.4.1. 42, 43. Calcular el producto cartesiano entre dos conjuntos para definir subconjuntos representándolos con pares ordenados, e identificar relaciones reflexivas, simétricas, transitivas y de equivalencia sobre un subconjunto del producto cartesiano.

Pares ordenados

Hay que recordar que, en operaciones con conjuntos, no existen diferencias entre dos conjuntos que tengan los mismos elementos, por ejemplo, $\{a, b\}$ y $\{b, a\}$. Estos dos conjuntos son iguales porque contienen los mismos elementos. Estos conjuntos en teoría de conjuntos son iguales sin importar el orden en que se encuentren los elementos.

Entonces un **par ordenado** es un conjunto de dos elementos, x y y , que tienen un orden específico; al elemento x lo llamamos *primera componente* y al elemento y lo llamamos *segunda componente*. Por eso lo representamos simbólicamente como: (x, y) .

Como se trata de un par ordenado y requiere su orden específico, aclaramos que no es lo mismo (x, y) que (y, x) .

Si trabajamos con tres elementos ordenados, se trata de una terna ordenada y su representación sería: (x, y, z) . Hay que tomar en cuenta que pueden existir conjuntos ordenados que pueden formarse con más de tres componentes.

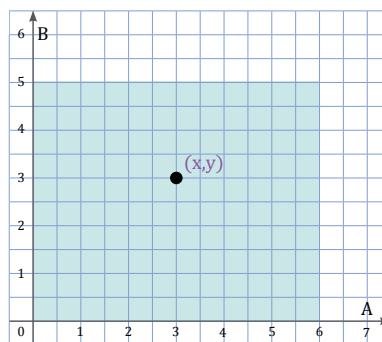
Definición de *producto cartesiano*

El **producto cartesiano de dos conjuntos no vacíos** es una operación en donde se forma un nuevo conjunto de todos los pares ordenados, cuya primera componente pertenece al primer conjunto, y la segunda componente, al segundo conjunto. Lo representamos simbólicamente como $A \times B$.

El producto cartesiano $A \times B$, al representarlo gráficamente, constituye un plano cartesiano, en donde los elementos de la primera componente como los de la segunda componente se alinean en dos segmentos de recta. El primer segmento representa al conjunto A y el segundo segmento al conjunto B .

En esta figura graficaremos un plano cartesiano con la representación de un punto

(x, y) que pertenece al producto cartesiano $A \times B$, donde x es elemento de A y y es elemento de B . Representado simbólicamente podemos decir que $x \in A, y \in B$ y $(x, y) \in A \times B$.



Gráfica de representación de un punto en el producto cartesiano

Producto cartesiano entre dos conjuntos

El producto cartesiano de dos conjuntos A y B es el conjunto de todos los posibles pares ordenados que se forman eligiendo como primera componente a un elemento que pertenezca a A , y como segunda componente, a uno que pertenezca a B . Al producto cartesiano lo denotamos de esta forma: $A \times B$, y leemos « A cruz B ».

$$A \times B = \{(x, y) / x \in A \wedge y \in B\}$$

La definición anterior expresa que el producto cartesiano de los conjuntos A y B son las parejas ordenadas (x, y) , tal que x pertenece al conjunto A e y pertenece al conjunto B .

Ejemplo 1

Dados los conjuntos $A = \{1, 2, 3, 4\}$ y $B = \{a, b\}$, su producto cartesiano es: $A \times B = \{(1, a), (1, b), (2, a), (2, b), (3, a), (3, b), (4, a), (4, b)\}$.

Los elementos de $A \times B$ son pares ordenados. Cada par que se forma con un elemento del conjunto A y uno del conjunto B , en ese orden, recibe el nombre de par ordenado. Sus elementos se colocan entre paréntesis, separados por coma.

Vamos a partir de dos conjuntos para realizar el producto cartesiano, así, por ejemplo.

Dados los conjuntos:

$$A = \{1, 2, 3\}$$

$$B = \{\alpha, \beta, \chi\}$$

Al realizar el producto cartesiano $A \times B$.

En donde el producto cartesiano resulta como:

$$A \times B = \{(1, \alpha)(1, \beta)(1, \chi) (2, \alpha)(2, \beta)(2, \chi)(3, \alpha)(3, \beta)(3, \chi)\}$$

La cantidad de elementos o cardinalidad del conjunto resultante sería: $N(A \times B) = 9$.

Cumpliendo con las propiedades de los conjuntos, la cardinalidad de $A \times B$ es:

$$N(A \times B) = N(A) N(B).$$

Hay que tomar en cuenta que no es igual a , debido a que el par ordenado no es igual al par ordenado , por lo que podemos concluir que el producto cartesiano **no cumple con la propiedad conmutativa**.

Producto cartesiano entre tres conjuntos

Ahora vamos a ver un ejemplo de producto cartesiano con tres conjuntos.

Dados los conjuntos:

$$A = \{\delta, \Delta\}$$

$$B = \{+, -, \zeta\}$$

$$C = \{1, 2\}$$

Vamos a realizar el producto cartesiano $A \times B \times C$.

En donde el producto cartesiano resulta como:

$$A \times B \times C = \left\{ \begin{array}{l} \{\delta, +, 1\}, \{\delta, +, 2\}, \{\delta, -, 1\}, \{\delta, -, 2\} \\ \{\delta, \zeta, 1\}, \{\delta, \zeta, 2\}, \{\Delta, +, 1\}, \{\Delta, +, 2\} \\ \{\Delta, -, 1\}, \{\Delta, -, 2\}, \{\Delta, \zeta, 1\}, \{\Delta, \zeta, 2\} \end{array} \right\}$$

Cumpliendo con las propiedades de los conjuntos, la cardinalidad de $A \times B \times C$ es:

$$N(A \times B \times C) = N(A)N(B)N(C)$$

Así entonces, podemos llegar a la conclusión de que la determinación del número de elementos del producto cartesiano, o también conocido como *cardinalidad del producto cartesiano*, resulta del producto del número de elementos que posee cada conjunto que interviene en la operación.

1.1. Propiedades del producto cartesiano

Como estudiamos en párrafos anteriores, el producto cartesiano no cumple con la propiedad conmutativa, por lo que analizaremos estas propiedades:

Propiedad distributiva con respecto a la **unión**

$$A \times (B \cup C) = (A \times B) \cup (A \times C)$$

$$(B \cup C) \times A = (B \times A) \cup (C \times A)$$

Propiedad distributiva con respecto a la **intersección**

$$A \times (B \cap C) = (A \times B) \cap (A \times C)$$

$$(B \cap C) \times A = (B \times A) \cap (C \times A)$$

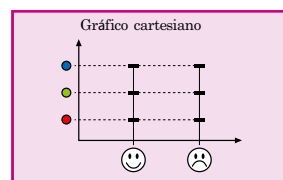
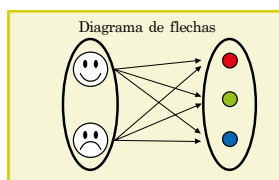
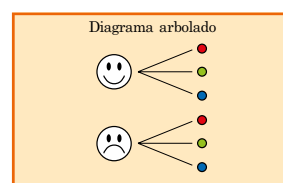
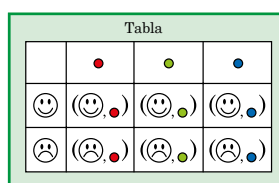
Propiedad distributiva con respecto a la **implicación**

$$A \times (B - C) = (A \times B) - (A \times C)$$

$$(B - C) \times A = (B \times A) - (C \times A)$$

Representación gráfica de un producto cartesiano

Podemos representar el producto cartesiano en forma de tabla de doble entrada, diagrama de árbol, diagrama de flecha o diagrama sagital y gráficos cartesianos.



Relación

Una **relación** es una correspondencia entre dos elementos de dos conjuntos no vacíos que cumplen ciertas propiedades. Generalmente, al primer conjunto lo llamamos *conjunto de partida*, y al segundo conjunto, lo llamamos *conjunto de llegada*. Representamos simbólicamente la relación con la letra R y debe cumplir que R sea subconjunto del producto cartesiano $A \times B$.

El hecho que $R \subseteq A \times B$ significa que todos los subconjuntos de $A \times B$ constituyen una relación.

Tipos de relación

Para poder estudiar los tipos de relación consideramos que los conjuntos $A = B$, de acuerdo con esta igualdad, se clasifican en:

1. Relación reflexiva

Cumple con la propiedad de que todo elemento del conjunto A está relacionado consigo mismo. Esto significa que $(a, a) \in R$.

Veamos este ejemplo, sea $A = \{1, 2, 3\}$.

La relación sería: $R = \{(1, 1), (1, 3), (2, 2), (3, 2), (3, 3)\}$, en donde es reflexiva solo si $R = \{(1, 1), (2, 2), (3, 3)\}$.

2. Relación irreflexiva

Esta relación cumple con la propiedad cuando ningún elemento del conjunto A está relacionado consigo mismo. Esto significa que $(a, a) \notin R$.

Veamos este ejemplo, sea $A = \{1, 2, 3\}$.

La relación sería: $R = \{(1, 3), (3, 2)\}$.

3. Relación simétrica

La relación simétrica cumple con la propiedad cuando para cada par ordenado $(a, b) \in R$, entonces $(b, a) \in R$. En caso de que (a, b) está en la relación pero (b, a) no, entonces la relación no es simétrica.

Veamos este ejemplo, sea $A = \{1, 2, 3\}$.

La relación sería:
 $R = \{(1, 1), (1, 3), (2, 2), (3, 1), (3, 3)\}$

4. Relación asimétrica

La relación asimétrica cumple con la propiedad cuando, para cada par ordenado $(b, a) \notin R$, entonces $(b, a) \in R$. Además de que ningún elemento deberá estar relacionado consigo mismo.

Veamos este ejemplo, sea $A = \{1, 2, 3\}$.

La relación sería:
 $R = \{(1, 3), (3, 2)\}$

5. Relación antisimétrica

La relación antisimétrica cumple con la propiedad cuando, para cada par ordenado, $(a, b) \in R$ y $(b, a) \in R$. Inclusive sí es válido si existen las parejas (a, a) .

Veamos este ejemplo, sea $A = \{1, 2, 3\}$.

La relación sería:
 $R = \{(1, 1), (1, 3), (2, 2), (3, 3)\}$

6. Relación transitiva

La relación transitiva cumple con la propiedad cuando, para cada par ordenado, $(a, b) \in R$ y $(b, c) \in R$. Entonces existe el par $(a, c) \in R$.

Veamos este ejemplo, sea $A = \{1, 2, 3\}$.

La relación sería:
 $R = \{(1, 1), (1, 3), (2, 2), (3, 3)\}$

7. Relación de equivalencia

La relación es de equivalencia cuando es reflexiva, simétrica y transitiva al mismo tiempo.

Veamos este ejemplo, sea $A = \{1, 2, 3, 4\}$.

La relación sería:
 $R = \{(1, 1), (1, 2), (2, 1), (2, 2), (3, 3), (4, 4)\}$

Trabajo colaborativo

1. Hallen el producto cartesiano con los siguientes pares de conjuntos
 - a. $M = \{1, 9, 18\}$ y $N = \{4, 8, 12, 16\}$
 - b. $P = \{0, 2, 4\}$ y $Q = \{3, 6, 9\}$
 - c. $R = \{m, n, o, p\}$ y $S = \{q, r, s\}$
 - d. $T = \{\text{mesa, silla, cocina}\}$ y $U = \{\text{cuadro, espejo}\}$
 - e. $V = \{\text{blanco, amarillo, verde}\}$ y $W = \{\text{azul, rojo}\}$

1.2. Diagramas de Venn

D.C.D. M.4.1. 44, 45. Definir y reconocer funciones de manera algebraica y de manera gráfica con diagramas de Venn, determinando su dominio y recorrido en Z.

Dominio de una relación

En cualquier relación de dos conjuntos, los elementos del primer conjunto que establecen correspondencia forman parte del dominio de la relación. Lo representamos simbólicamente como: .

No es necesario que todos los elementos del primer conjunto o conjunto de partida formen parte del dominio de una relación de conjuntos.

Rango de una relación

En cualquier relación de dos conjuntos, los elementos del segundo conjunto que se relacionan con los elementos del dominio de la relación forman parte del rango. Lo representa simbólicamente como: .

Generalmente, al rango de la relación la podemos llamar *imagen*, *recorrido* o *codominio* de la misma.

Así también, no es necesario que todos los elementos del conjunto de llegada formen parte del rango de la relación.

Dados los conjuntos y la relación, identifiquemos el dominio y rango:

$$A = \{0, 1, 2, 3, 4\}$$

$$B = \{a, b, c, d, e\}$$

$$R = \{(1, a), (1, b), (2, a), (3, e)\}$$

Entonces, el $\text{dom } R = \{1, 2, 3\}$ y $\text{rg } R = \{a, b, e\}$.

Podemos representar las relaciones de distintas maneras, entre ellas las más usadas son: en forma de conjuntos, planos cartesianos o diagramas sagitales o de Venn.

Diagramas de Venn

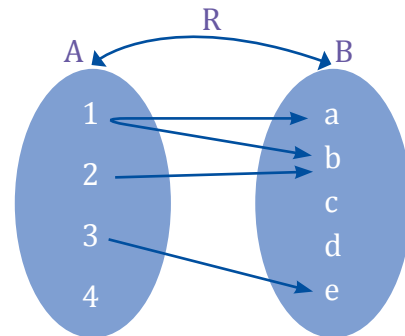
Para la gráfica con diagramas de Venn, partiremos del ejemplo anterior:

Dados los conjuntos y la relación, identifiquemos el dominio y rango:

$$A = \{0, 1, 2, 3, 4\}$$

$$B = \{a, b, c, d, e\}$$

$$R = \{(1, a), (1, b), (2, a), (3, e)\}$$



Mundo Digital

Plantee un ejemplo práctico del diario vivir que muestre las relaciones e investigue de cuántas formas las podemos representar.

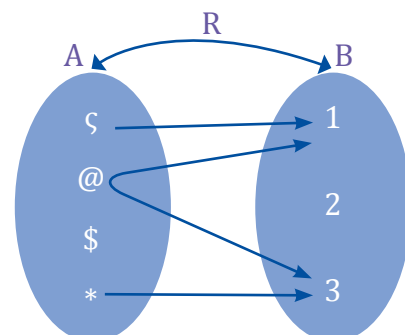
Entonces, el $\text{dom } R = \{1, 2, 3\}$ y $\text{rg } R = \{a, b, e\}$.

Ahora vamos a representar mediante diagrama sagital o de Venn esta relación, identificando el dominio y rango:

$$A = \{\zeta, @, \$, *\}$$

$$B = \{1, 2, 3\}$$

$$R = \{(\zeta, 1), (@, 1), (@, 3), (*, 3)\}$$



Entonces, el $\text{dom } R = \{\zeta, @, *\}$ y $\text{rg } R = \{1, 3\}$.

Funciones

Una vez que conocemos las propiedades de las relaciones, comenzaremos el estudio de las funciones y el papel preponderante que tienen en el estudio matemático. Leibniz fue el primer matemático que utilizó por primera vez la palabra *función*, pero fue al alemán Peter Gustav Lejeune Dirichlet (1805-1859) a quien se le atribuyó la definición formal.

Así, una relación entre dos conjuntos es **una función** solo si el dominio de la relación es todo el conjunto de partida, es decir que todos los elementos del conjunto de partida estén relacionados, y si a cada elemento del dominio le corresponde un único elemento en el rango o conjunto de llegada. Cuando se trata de función, la expresamos con la letra f .

Esto quiere decir que, para que cumpla el concepto de función, no puede haber dos elementos del conjunto de llegada que estén relacionados con un mismo elemento del dominio o conjunto de partida.

Hay que recalcar que toda función es una relación, pero no toda relación puede ser o representa una función.

La expresión algebraica de una función es la fórmula que indica las operaciones que debemos efectuar con cada valor de la variable x , para obtener el valor correspondiente de la variable y .

Con base en los párrafos anteriores, revisaremos este ejemplo e identificaremos si las relaciones planteadas son funciones.

Dados los conjuntos:

$$A = \{1, 2, 3, 4\}$$

$$B = \{a, b, c, d, e\}$$

Y las relaciones, identifiquemos si son funciones.

$$R_1: A \Rightarrow B, R_1 = \{(1, a), (2, b), (3, c), (4, d), (4, e)\}$$

$$R_2: A \Rightarrow A, R_2 = \{(a, b), (b, c), (c, d), (d, e)\}$$

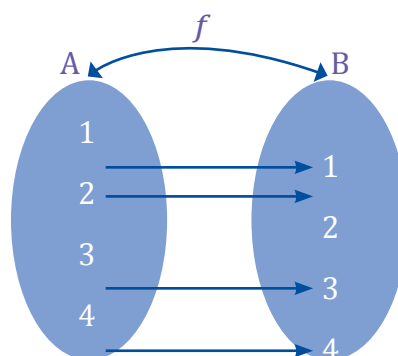
$$R_3: B \Rightarrow B, R_3 = \{(1, 1), (2, 2), (3, 3), (4, 4)\}$$

Analizando R_1 , no es una función, debido a que el elemento 4 del conjunto de partida tiene como correspondencia más de un elemento.

Analizando R_2 , no es una función, debido a que el $R_2 \neq B$.

Analizado R_3 , es una función, debido a que se relacionan todos los elementos del conjunto de partida y le corresponde un único elemento en el conjunto de llegada.

Como la relación 3 es una función, procederemos a la respectiva gráfica en diagramas de Venn.



Aplicación para la vida

Comenzamos los estudios de esta unidad con nociones básicas de conjuntos, plano cartesiano, producto cartesiano y relaciones. Todo este conocimiento previo nos ayuda al estudio y apertura de las funciones, que son utilizadas en la mayoría de los procesos de la vida cotidiana, al comprar frutas, al movilizarnos de nuestros hogares al trabajo, etc.



Trabajo individual

1. Dados los conjuntos no vacíos A , B y la relación R .

$$A = \{1, 2, 3, 4\}$$

$$B = \{a, b, c\}$$

$$C = \{(1, a), (1, b), (2, a), (3, b)\}$$

2. Realice el diagrama sagital, identifique el dominio y rango de la relación.

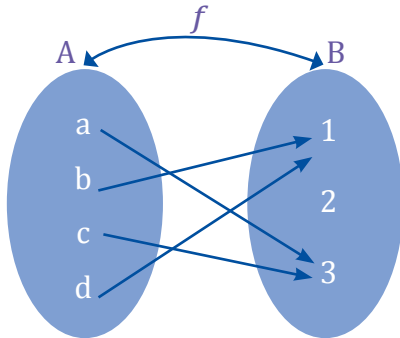
Dados los conjuntos y la función, grafique con diagramas de Venn identificando su dominio y rango.

$$A = \{a, b, c, d\}$$

$$B = \{1, 2, 3\}$$

$$f : A \rightarrow B, f = \{(d, 1), (b, 1), (a, 3), (c, 3)\}$$

De acuerdo con la información proporcionada procederemos a procesar la información en los diagramas de Venn respectivos.



Podemos determinar que el $\text{dom } f = A$ y el rango o recorrido de la función es $\text{rg } f = \{1, 2\}$.



Desde la Ciencia

El concepto de *función* nace precisamente de las relaciones que tienen las distintas magnitudes matemáticas; de esta forma, podemos representar con diagramas Venn que muestran cómo se relacionan entre sí las distintas situaciones.

Ahora identificaremos si las siguientes relaciones constituyen funciones de A en B.

Dados los conjuntos:

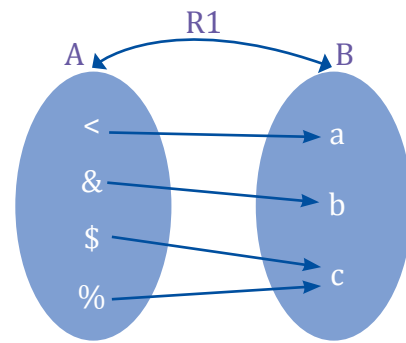
$$A = \{<, \&, \$, \%\}$$

$$B = \{a, b, c\}$$

Y las relaciones:

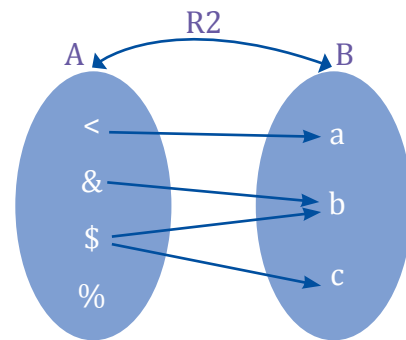
$$R_1: A \Rightarrow B, R_1 = \{(<, a), (\&, b), (\$, c), (\%, d)\}$$

$$R_2: A \Rightarrow A, R_2 = \{(<, a), (\&, b), (\$, b), (\$, c)\}$$



La relación 1 sí corresponde a una función, debido a que el dominio es todo el conjunto de partida A, y a cada elemento del dominio le corresponde un elemento del conjunto de llegada. Entonces, el dominio de la función es $\text{dom } f = A$ y el rango $\text{rg } f = B$.

Ahora procederemos a graficar sagitalmente la relación dos.



La relación 2 no corresponde a una función, debido a que el dominio no es todo el conjunto de partida A. Es suficiente este criterio para que cumpla la condición de función.



Trabajo individual

1. Dados los conjuntos no vacíos A, B y la relación R.

$$A = \{1, 2, 3, 4\}$$

$$B = \{a, b, c, d, e\}$$

$$f: A \Rightarrow B, f = \{(1, a), (2, b), (3, a), (4, d)\}$$

Realice el diagrama sagital, identifique el dominio y rango de la función.

1.3. Definición intuitiva de función

D.C.D. M.4.1.46. Elaborar modelos matemáticos sencillos como funciones en la solución de problemas.

¿Qué es una función?

Seguramente has escuchado el término *función*, pero ¿sabes lo que significa realmente?

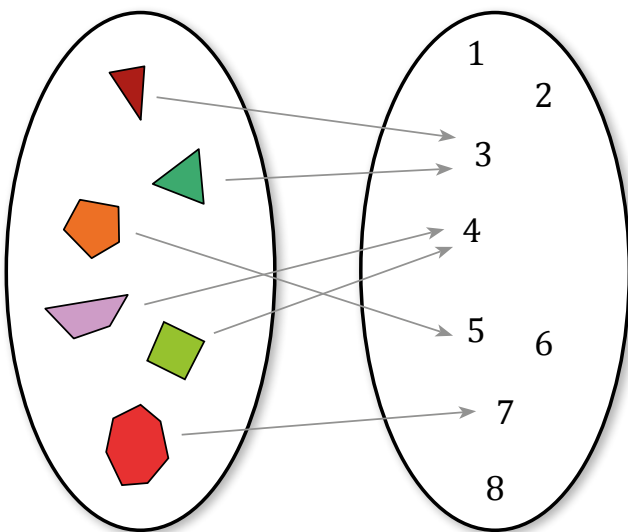
En la vida cotidiana, se dan situaciones en las que obtenemos relaciones de dependencia entre magnitudes.

Una magnitud se encuentra en función de otra si su valor depende de esa magnitud. Un ejemplo es el área de un círculo. Al área de un círculo la calculamos con la fórmula $\text{área} = \pi r^2$. Esta fórmula depende del radio del círculo. Entonces, decimos que el área del círculo se encuentra en función de su radio.

De la misma manera sucede con la cantidad de megabyte (MB) en el saldo de un celular en relación con la cantidad de MB que utilizamos. Si una persona tiene 100 MB y se gasta 50 MB viendo videos, le quedan 50 MB. Este cálculo puede parecer básico, pero en realidad es una función simple.

A una función también la podemos ver como una lista de objetos de un determinado tipo a los cuales les corresponde otro objeto. A esta correspondencia la llamamos *función*.

A continuación, vemos una representación gráfica de esta idea.



La dependencia entre magnitudes puede expresarse mediante un enunciado verbal, una tabla de valores, una gráfica o una fórmula.

Una variable es aquella magnitud cuyo valor puede variar.

- **Variable independiente** es la que puede tomar valores arbitrarios.
- **Variable dependiente** es aquella cuyos valores dependen del valor que toma la variable independiente.

Consideremos, por ejemplo, esta situación:

Una empresa cobra un costo total por cercar cada terreno según el perímetro del mismo. El precio es de doce dólares el metro lineal de cerca.

- Las dos magnitudes que tienen dependencia entre ellas son: costo total y perímetro.

Además, la dependencia cumple estas propiedades:

- La variable perímetro puede tomar valores de forma arbitraria; por eso, la llamaremos *variable independiente* y la representaremos con la letra x .
- En cambio, los valores que toma la variable costo dependen de los valores de la variable x ; por eso, la llamaremos *variable dependiente* y la representaremos con la letra y .

Concepto de función

Antes de dar a conocer el concepto de *función*, partiremos de un ejemplo práctico.

Un médico dispone de tres horas diarias para atender a sus pacientes y el número máximo de pacientes que puede atender en un día es de veinticinco. Por lo tanto, el tiempo que puede dedicar a cada uno depende del número de visitas. Existe una relación de dependencia entre el número de pacientes y el tiempo empleado en atenderlos. Podemos expresarla mediante esta tabla de valores.

Número de pacientes	5	10	15	20	25
Tiempo de visita (min)	36	18	12	9	7,2

Observemos que las magnitudes **número de pacientes** y **tiempo de visita** varían su valor en cada casilla. Por ello, denominamos *variables* a estas magnitudes.

Si llamamos x a la variable **número de pacientes** e y a la variable, vemos que:

1. La variable x puede tomar valores que son los números naturales hasta el 25.
2. Los valores de la variable y dependen de los valores de la variable x .
3. A cada valor de la variable x le corresponde un único valor de la variable y .

Por ello, x se denomina **variable independiente** e y es la **variable dependiente**.

Una **función** es una relación de dependencia entre dos variables, en la que a cada valor de la variable independiente x le corresponde un **único valor** de la variable dependiente y .

Así diremos que y está en función de x . La escribimos: $y = f(x)$.

Decimos que el tiempo de visita (y) en minutos está en función del número de pacientes (x) y lo simbolizamos por: $y = f(x)$.

Retomando el ejemplo de la página anterior de cercar el terreno:

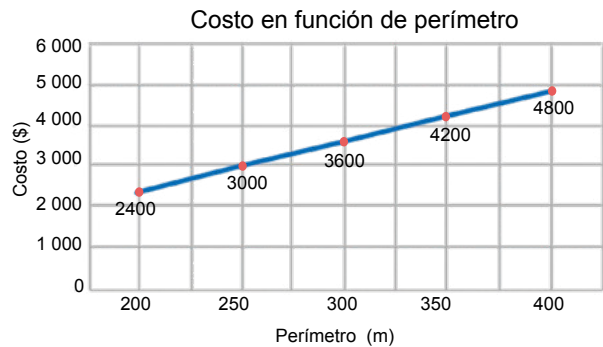
Una empresa cobra un costo total por cercar cada terreno según el perímetro del mismo. El precio es de doce dólares el metro lineal de cerca.

Elaboramos la tabla de valores:

Perímetro del terreno en m (x)	Costo total de la cerca en \$ (y)
200	2 400
250	3 000
300	3 600
350	4 200
400	4 800

Ratificamos que la variable dependiente y es el costo total de la cerca, la variable independiente es el perímetro que está expresado en metros x .

Al ubicar los valores de la tabla en un plano cartesiano, en donde en el eje x se ubica el perímetro expresado en metros y en el eje y se ubican los costos expresado en dólares, resultaría:



En lenguaje matemático, podemos decir que:

y está en función de x .

Escribimos:

$$y = f(x)$$

Variable dependiente = Variable independiente

y es la variable dependiente.

x es la variable independiente.

Acostumbramos a representar las funciones con las letras minúsculas: $f, g, h...$

Presentamos el uso de funciones con variables independientes y dependientes que representan números reales. Tratamos la definición, formas de expresarla, tablas y gráficos.

1. En estos ejemplos vamos a identificar las variables independientes (VI) y las variables dependientes (VD).
 - a. Los litros de gasolina comprados y el precio pagado.

VI: Sería el número de litros de gasolina.

VD: Sería el precio pagado.
 - b. El resultado de asignar a un número su doble y sumarle tres unidades.

c. El área de un círculo y el valor de su radio.

VI: Es el radio del círculo.

VD: Es el área del círculo.

d. La distancia recorrida por un coche y el tiempo empleado.

VI: Es el tiempo empleado.

VD: Es la distancia recorrida.

e. El costo de la mano de obra de un mecánico y las horas trabajadas.

VI: Son las horas trabajadas.

VD: Es el costo de la mano de obra.

f. La distancia de frenado de un carro y la velocidad que lleva.

VI: Es la velocidad.

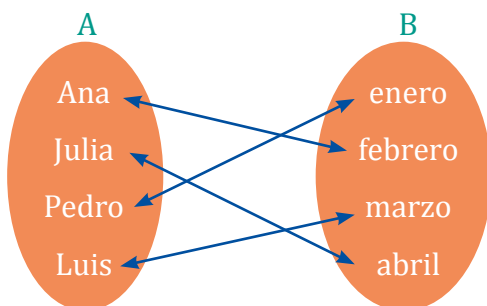
VD: Es la distancia de frenado.

g. El importe de la factura de la luz y el número de kilovatios consumidos.

VI: Son los kilovatios consumidos.

VD: Es el importe de la factura de luz.

2. Haciendo una lista con las personas integrantes de una familia y otra lista con los meses del año, dibujemos un diagrama desde el nombre de cada persona hasta el mes de su cumpleaños.



3. De las siguientes correspondencias identifiquemos cuál corresponde a una función y cuál no.

x	1	2	3	4
y	3	6	9	12

Esta regla de correspondencia corresponde a una función, ya que a cada elemento de la variable x le corresponde un único elemento de la variable y .

x	1	1	2	2
y	5	6	7	8

Esta regla de correspondencia no corresponde a una función, ya que un elemento de la variable x se relaciona con dos elementos de la variable y .

x	-2	-1	0	1	2
y	4	1	0	1	4

Esta regla de correspondencia corresponde a una función, ya que a cada elemento de la variable x le corresponde un elemento de la variable y ; en este caso en particular, los elementos 1 y 4 de la variable y son imágenes de -1 y -2 respectivamente.

x	-2	-1	0	1	2
y	3	3	3	3	3

Trabajo individual

1. Considere la relación de dependencia que asigna a cada libro su número de páginas. ¿Se trata de una función? En caso afirmativo, diga cuál es la variable independiente y cuál la dependiente.
2. Indique cuál es la variable independiente y cuál la variable dependiente del par de variables relacionadas en cada uno de estos apartados:
 - a. El costo de una llamada telefónica y el tiempo de duración.
 - b. El importe de la factura de la luz y el número de kilovatios consumidos.
3. Escriba la expresión algebraica de la función f definida, en cada caso, por el criterio:
 - a. Multiplica un número por 7 y restarle 4.
 - b. Eleva la tercera parte de un número al cuadrado.
 - c. Divide el doble de un número por 3 y sumarle 2.

1.4. Dominio y recorrido de funciones

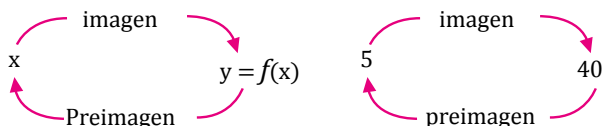
D.C.D. M.4.1. 47, 48. Definir y reconocer funciones lineales en Z crecientes y decrecientes a partir de su representación gráfica, tabla de valores y forma algebraica estableciendo relaciones con situaciones reales como alza de precios, ventas diarias, crecimiento de una planta, etc.

Imágenes y preimágenes

Consideramos de nuevo la función f , que relaciona el consumo de combustible de un automóvil con la distancia recorrida.

Cuando el automóvil ha recorrido 5 km, su consumo es de 40 cl. Decimos que la imagen de 5 por la función f es 40. Simbólicamente escribimos $f(5) = 40$.

También decimos que la antiimagen de 40 por la función f es 5.



La **imagen** de un valor x por una función f es el valor que toma la variable y en relación con el valor que tiene la variable x .

La **preimagen** de un valor y por una función f es el valor o valores de la variable x a los que corresponde el valor tomado por la variable y .

Volvamos a considerar la función f , que relaciona el consumo de combustible de un automóvil con la distancia recorrida.

Imaginamos que el trayecto recorrido por Beatriz es de 20 km. Es decir, la variable independiente distancia recorrida toma valores entre 0 km y 20 km.

Decimos que este intervalo de valores es el dominio de la función f . Lo simbolizamos de la forma:

$$D(f) = \{0, 1, 2, 3, \dots, 19, 20\} = [0, 20]$$

El **dominio** de una función f es el conjunto de valores que puede tomar la variable independiente. Lo representamos por $D(f)$.

La variable dependiente, combustible consumido, varía de 0 cl en el punto de partida a 160 cl en el punto de destino.

Decimos que este intervalo de valores es el recorrido de la función f . Lo simbolizamos de la forma:

$$R(f) = \{0, 1, 2, 3, \dots, 159, 160\} = [0, 160]$$

El **rango** o **recorrido** de una función f es el conjunto de valores que puede tomar la variable dependiente, es decir, es el conjunto formado por todas las imágenes. Lo representamos por $R(f)$.

El dominio y recorrido se representa con intervalos, recuerda su representación gráfica.

		TIPO	REPRESENTACIÓN GRÁFICA
FINITOS	Abiertos		
	Cerrados		
	Semiabiertos		

Trabajo individual

Lee y resuelve la siguiente actividad

- El metro cuadrado de papel que se utiliza para empapelar una habitación de 40 m² cuesta \$ 3.
 - Confeciona una tabla de valores y representa gráficamente la función que relaciona los metros cuadrados de pared con el importe.
 - ¿Cuánto cuesta el papel necesario para empapelar toda la habitación?
- Para ir a esquiar un día festivo con los compañeros y las compañeras de clase, alquilamos unos esquís. El precio del alquiler es de \$ 12 diarios.
 - Representa gráficamente la función que relaciona el importe del alquiler según el número de horas diarias de uso de los esquís.

Expresión de una función

Hay muchas funciones que no se expresan mediante una fórmula algebraica. Una función puede expresarse de diferentes maneras: mediante un enunciado verbal, una tabla de datos, una expresión algebraica, expresiones analíticas o una gráfica.

Mundo Digital

Investigue cuánto recorre el carro que le lleva de su casa al trabajo por galón de gasolina y día. Registre los datos de una semana en una tabla.

Enunciado verbal

Mediante una frase, describimos cuáles son las variables dependiente e independiente, y qué dependencia existe entre ellas, como hemos visto en ejemplos desarrollados anteriormente.

Beatriz se desplaza con su automóvil. En el viaje consume 8 L de combustible por cada 100 km o, lo que es lo mismo, 8 cL por km (en este ejemplo la variable independiente es la distancia recorrida y la variable dependiente la cantidad de combustible consumido).

Expresión algebraica

La forma más habitual de expresar una función real de una variable es mediante una fórmula que relaciona la variable dependiente con la variable independiente.

En la función que tomamos como ejemplo, el automóvil consume 8 cL por cada kilómetro recorrido.

Distancia recorrida en km (x)	Combustible consumido en cL (y)
0	0
2	16
4	32
6	48
8	64
10	80
12	96
14	112
16	128
18	144
20	160

Si representamos por x la distancia recorrida, en kilómetros, y por y la cantidad de combustible consumido en cL, podemos escribir esta fórmula: $y = 8x$, o también, $f(x) = 8x$.

Una función puede expresarse de **forma algebraica** con una fórmula que indica las operaciones que debemos efectuar con cada valor de la variable x para obtener el valor correspondiente de la variable y .

Una función suele expresarse dando, además de la expresión algebraica, su dominio y su recorrido.

Recordamos que el dominio de la función del ejemplo es $D(f) = [0, 20]$ y el recorrido, $R(f) = [0, 160]$.

Así, la función anterior puede simbolizarse de esta manera:

$$\begin{array}{ccc} f: D(f) & \longrightarrow & R(f) \\ x & \longrightarrow & y = f(x) \end{array}$$

$$\begin{array}{ccc} f: [0, 20] & \longrightarrow & [0, 160] \\ x & \longrightarrow & y = f(x) = 8x \end{array}$$

Desde la Ciencia

U, símbolo de unión

El símbolo U entre dos intervalos. Indica que el conjunto resultante es el formado por los números del primer intervalo junto con los del segundo.

Así, el dominio de la función definida a trozos del recuadro anterior, $f(x) = 8x$, es: $D(f) = \mathbb{R}$.

Hay que tomar en cuenta que, en toda función, la imagen y de un valor de x es única, pero puede ocurrir que un valor de y tenga más de una preimagen. Por ejemplo:

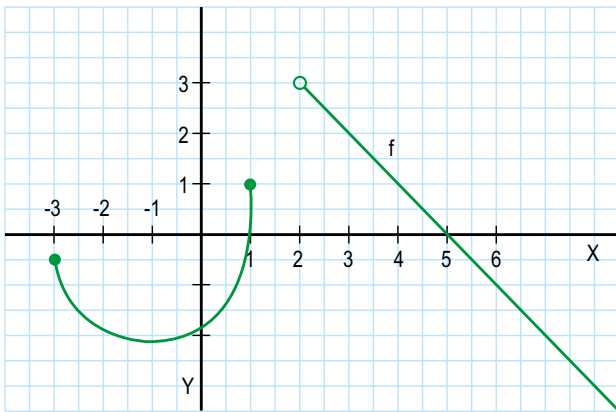
En la función que asigna a cada número su valor elevado al cuadrado, el número 9 tiene dos preimágenes: -3 y 3. Esta corresponde a una función cuadrática.

Determinación gráfica del dominio y del recorrido

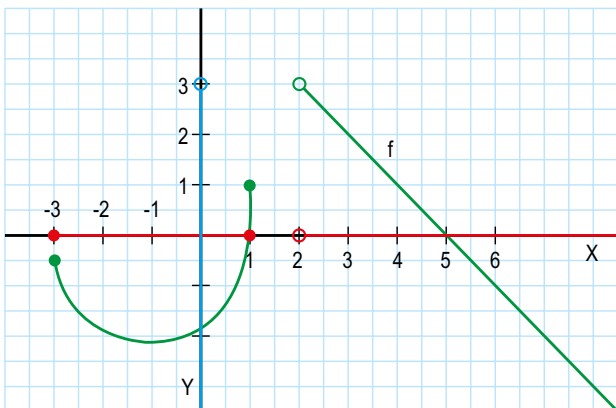
También podemos determinar el dominio y el recorrido de una función a partir de su gráfica.

- El **dominio** es el conjunto de los valores de la variable x obtenidos al proyectar ortogonalmente los puntos de la gráfica sobre el eje de abscisas.
- El **recorrido** es el conjunto de los valores de la variable y obtenidos al proyectar ortogonalmente los puntos de la gráfica sobre el eje de ordenadas.

Determinemos el dominio y el recorrido de esta función:

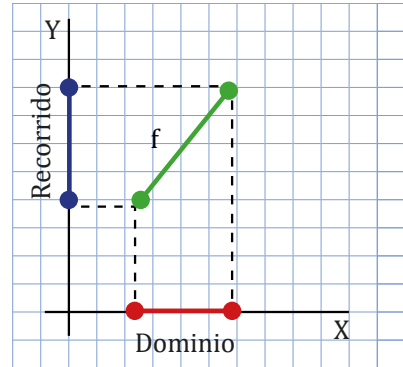


$$D(f) = [-3, 1] \cup (2, +\infty), R(f) = (-\infty, 3].$$



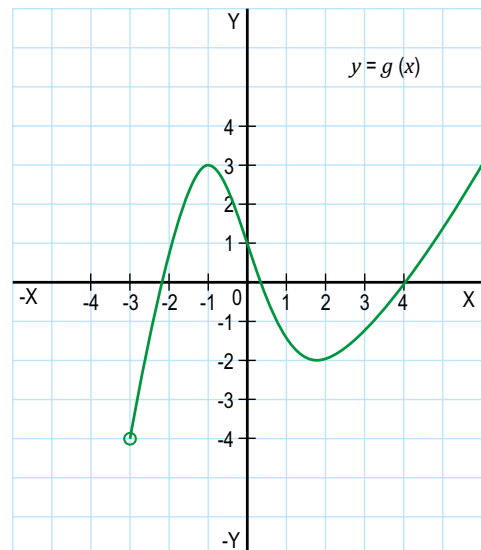
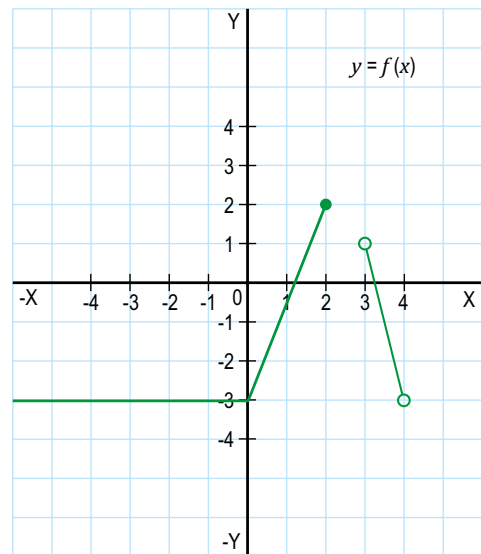
Aplicación para la vida

Las funciones de la variable real son utilizadas en la mayoría de los procesos de la vida cotidiana. Por eso, para proyectar un punto P sobre una recta r , trazamos por P una recta perpendicular a r y hallamos el punto de intersección P' de las dos rectas.



Trabajo individual

1. Determine el dominio y el recorrido de estas funciones:



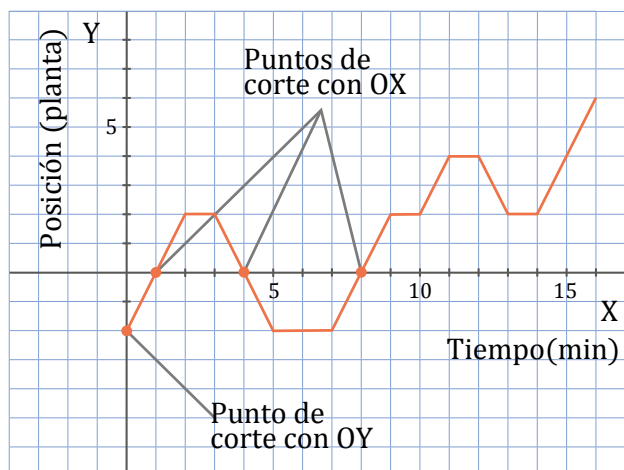
2. Funciones lineales

D.C.D. M.4.1.49. Definir y reconocer una función real identificando sus características: dominio, recorrido, monotonía, cortes con los ejes.

Características de las funciones

La gráfica de una función nos permite observar una serie de características que estudiaremos a continuación. Entre estas son: puntos de corte con los ejes, crecimiento y decrecimiento, máximos y mínimos, continuidad y discontinuidad, tasa de variación media, simetrías y periodicidad.

Así, por ejemplo, tenemos esta gráfica representativa en un plano de coordenadas cartesianas:



Puntos de corte con los ejes

En la gráfica anterior representamos la posición del ascensor de unos grandes almacenes durante dieciséis minutos de funcionamiento. Marcamos cada minuto en el plano cartesiano.

El eje de las X representa el tiempo transcurrido en minutos, mientras que el eje de las Y representa la posición del ascensor de acuerdo con la posición en donde se encontraba durante la observación que, en nuestro caso, fue de dieciséis minutos.

Los puntos donde la gráfica corta a los ejes de coordenadas son puntos destacados que se analizan por sus características. Observamos que la gráfica corta el eje OY en el punto (0, -2). Esta es la posición del ascensor cuando empezamos a contar el tiempo por lo que se supone se encontra-

ba en el subterráneo 2. También hay tres puntos donde corta el eje OX: (1, 0), (4, 0) y (8, 0). Esto corresponde a los momentos en que el ascensor pasa por la planta baja en los tiempos determinados.

Cuando queremos encontrar los puntos de corte de las funciones de variable real, realizamos este proceso. En caso de conocer la expresión algebraica de una función, podemos determinar analíticamente los puntos de corte con los ejes. Como el eje OY es una recta de ecuación $x = 0$ y el eje OX es una recta de ecuación $y = 0$, a los puntos de corte de la función con los ejes los hallamos resolviendo estos sistemas:

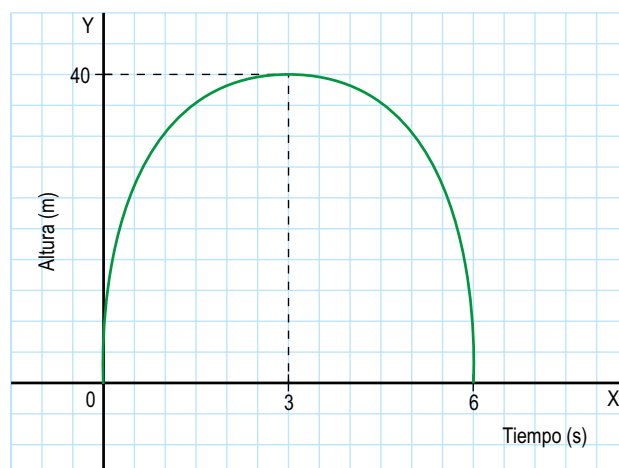
Punto de corte con el eje Y	Punto de corte con el eje X
$\left. \begin{array}{l} x = 0 \\ y = f(x) \end{array} \right\}$	$\left. \begin{array}{l} y = 0 \\ y = f(x) \end{array} \right\}$

Se forman los puntos: (1, 0), (4, 0) y (8, 0).

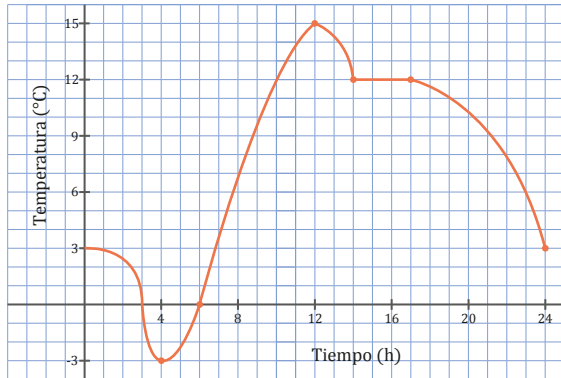
Crecimiento y decrecimiento

Consideremos la altura de un balón lanzado en tiro parabólico en función del tiempo. Fijémonos en que en el intervalo de 0 a 3 s, a medida que aumenta el valor de la variable x (el tiempo), el valor de la variable y (la altura) también aumenta. Decimos que la función es creciente en este intervalo.

Lanzamiento de balón



Entender las características de las funciones es muy importante en la vida cotidiana, por lo que la gráfica muestra la evolución de la temperatura ambiente registrada en un observatorio de montaña a lo largo de un día soleado de primavera.



Observamos que:

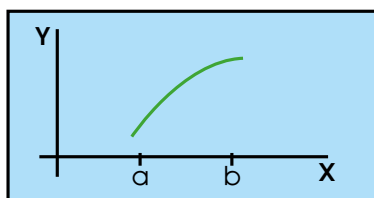
- La temperatura **aumentó** entre las 4 h y las 13 h.
- La temperatura **disminuyó** entre las 0 h y las 4 h, entre las 13 h y las 16 h, y entre las 19 h y las 24 h.
- La temperatura se **mantuvo** constante entre las 16 h y las 19 h.
- Los puntos de la gráfica (0, 3), (3, 0) y (6, 0) están sobre los ejes de coordenadas.

Intervalos de crecimiento y decrecimiento

Si leemos la gráfica de la temperatura ambiente de izquierda a derecha, vemos que, en el período en que la temperatura aumenta, la gráfica es ascendente.

Decimos que la función es **creciente** en este período.

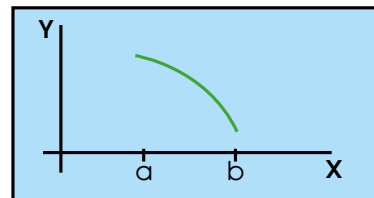
Una **función** es creciente en un intervalo si, al aumentar el valor de la variable x dentro de este intervalo, aumenta el valor de la variable y .



En cambio, en los períodos en que la temperatura disminuye, la gráfica es descendente.

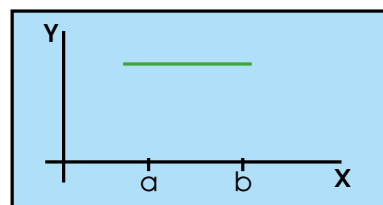
Decimos que la función es **decreciente** en estos períodos.

Una **función** es decreciente en un intervalo si, al aumentar el valor de la variable x dentro de este intervalo, disminuye el valor de la variable y .



Hay un período (de 16 h a 19 h) en que la temperatura ni aumenta, ni disminuye; la gráfica es una recta paralela al eje de abscisas. Decimos que la función es **constante** en este período.

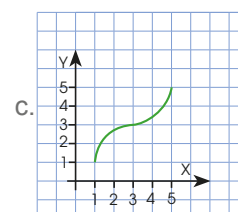
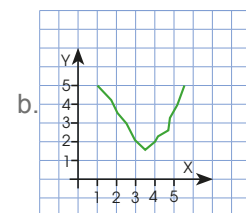
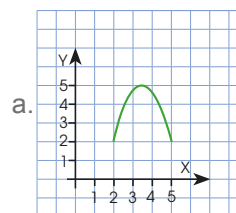
Una función es **constante** en un intervalo si, para todo valor de la variable x dentro de este intervalo, la variable y no varía.



La función constante puede darse por una tabla de valores o por su gráfica como se vio en la figura anterior.

Trabajo individual

1. Indica los intervalos de crecimiento y decrecimiento de las funciones siguientes:



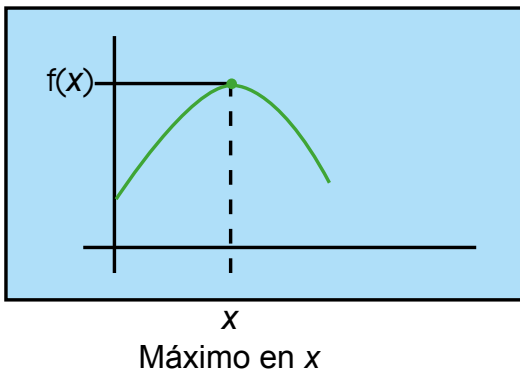
Máximos y mínimos

En la gráfica de la temperatura registrada en el observatorio, también observamos que:

- La temperatura más alta fue de 15 °C, que se alcanzó a las 13 h.
- La temperatura más baja fue de -3 °C, que se alcanzó a las 4 h.

La ordenada del punto correspondiente a la temperatura más alta es mayor que la ordenada de cualquier otro punto, y la función pasa de ser creciente a ser decreciente.

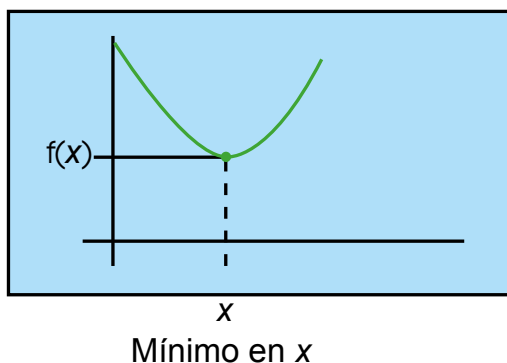
Diremos que la función tiene un **máximo** en este punto.



Una función de gráfica continua tiene un **máximo** en un valor de la variable x si la imagen de este valor es mayor o igual que la de cualquier otro valor de la variable independiente de la función.

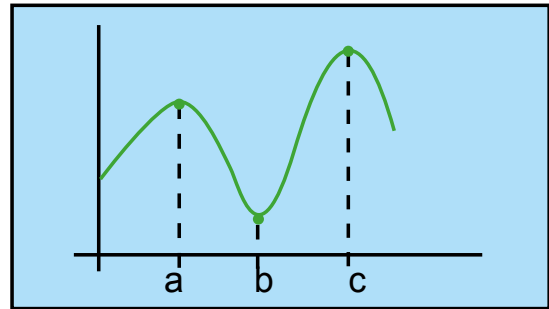
La ordenada del punto correspondiente a la temperatura más baja es menor que la de cualquier otro punto, y la función pasa de ser decreciente a ser creciente.

Decimos que la función tiene un **mínimo** en este punto.



Una función de gráfica continua tiene un **mínimo** en un valor de la variable x si la imagen de este valor es menor o igual que la de cualquier otro valor de la variable independiente de la función.

Cuando la función alcanza en un punto los valores máximos o mínimos con relación a puntos próximos, diremos que los máximos o mínimos son relativos o locales.



Máximo relativo en a. Mínimo relativo en b. Máximo en c

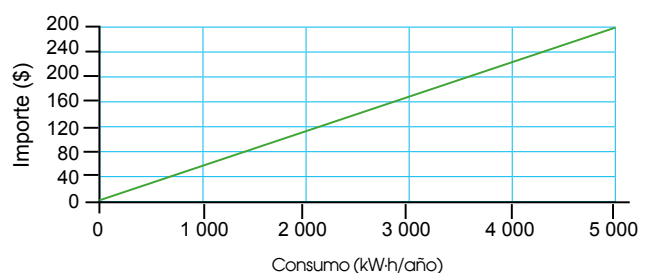
Continuidad

Las tarifas de luz eléctrica constan de un importe fijo mensual más un importe variable que depende de los kW·h consumidos por año.

La tabla muestra a continuación las tarifas variables correspondientes al consumo por año.

Consumo (kW·h/año)	Importe variable (/kW·h)
Inferior o igual a 5 000	0,054
Superior a 5 000 e inferior o igual a 50 000	0,048
Superior a 50 000 e inferior o igual a 100 000	0,043
Superior a 100 000	0,040

Consideremos la función que relaciona el importe variable en dólares con el consumo anual en kW·h para los usuarios con un consumo anual menor de 5 000 kW·h.



Funciones lineales

Para poder entender a las funciones lineales, partiremos de un ejemplo práctico:

El espacio que recorrerá un atleta que se desplaza a una velocidad constante de 15 km/h estará en función del tiempo que invierta corriendo. Expresamos esta dependencia en esta tabla de valores.

Tiempo en horas (x)	1	2	3	4
Espacio recorrido en kilómetros (y)	15	30	45	60

Observamos que se trata de dos magnitudes directamente proporcionales, es decir que existe entre ellas una proporcionalidad directa. La constante de proporcionalidad viene dada por el cociente entre el valor del espacio recorrido y el valor del tiempo correspondiente. Lo que quiere decir que:

$$\frac{15}{1} = \frac{30}{2} = \frac{45}{3} = \frac{60}{4} = 15$$

En general, se cumple que $\frac{y}{x} = 15$, si $x \neq 0$, es decir, la expresión algebraica de esta función es $y = 15x$. Diremos que es una función lineal o proporcionalmente directa.

Si consideramos ahora un ciclista que se desplaza a una velocidad constante de 40 km/h, la función que relaciona el espacio recorrido y el tiempo transcurrido viene dada en esta tabla de valores.

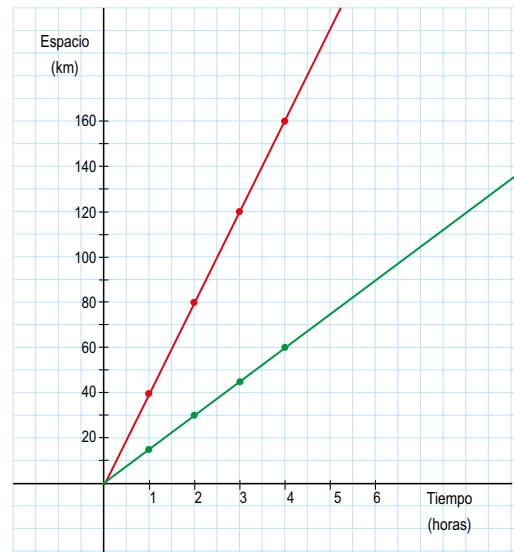
Tiempo en horas (x)	1	2	3	4
Espacio recorrido en kilómetros (y)	40	80	120	160

En este caso, la constante de proporcionalidad es igual a 40:

Por lo que, la expresión algebraica de la función es $y = 40x$.

Al representar en el mismo sistema de coordenadas cartesianas las gráficas de estas dos funciones, observamos en la figura que ambas son semirrectas cuyo punto inicial es el origen de coordenadas.

Además, la inclinación de la semirrecta dada por $y = 40x$ respecto al semieje positivo de abscisas es mayor que la de la semirrecta dada por $y = 15x$.



Esta inclinación depende de la constante de proporcionalidad, de manera que, cuanto mayor sea dicha constante, mayor será la inclinación de la recta respecto al semieje positivo de abscisas.

Así pues, la constante de proporcionalidad es igual a la pendiente de la recta, que representaremos con la letra m .

Para calcular el valor de la pendiente, efectuamos el cociente entre un valor de la variable y en relación con el valor correspondiente de la variable x , siempre que $x \neq 0$.

$$\frac{y}{x} = m$$

Una función **lineal** o **de proporcionalidad** directa es una función cuya expresión algebraica es de la forma $y = mx$ ($m \neq 0$), siendo m la constante de proporcionalidad.

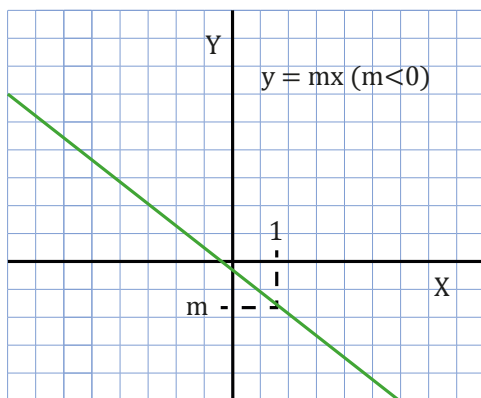
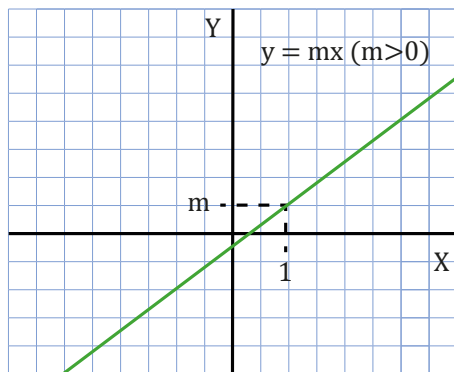
Su gráfica es una recta que pasa por el **origen de coordenadas** y que tiene **pendiente** m .

2.1. Características de las funciones lineales

Una función lineal o de proporcionalidad directa tiene dos características fundamentales:

- Es creciente si la constante de proporcionalidad es positiva ($m > 0$).
- Es decreciente si la constante de proporcionalidad es negativa ($m < 0$).

Gráficamente tienen esta forma.

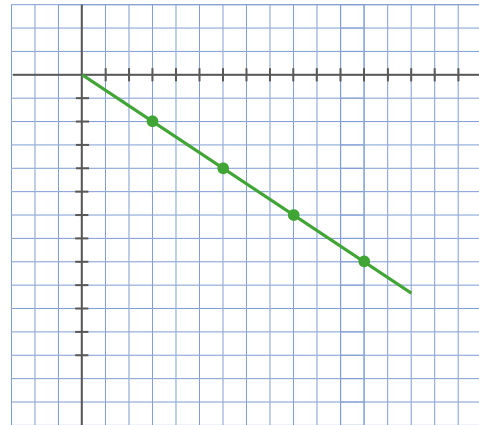


Veamos ahora la función que relaciona la longitud que recorre un submarinista con el tiempo de inmersión, sabiendo que tarda un minuto y medio en descender un metro.

Expresamos la función mediante una tabla de valores.

x: Tiempo de inmersión (min)	3	6	9	12
y: Profundidad (m)	-2	-4	-6	-8

La gráfica de acuerdo con la información proporcionada sería:



La constante de proporcionalidad es:

$$\frac{-2}{3} = \frac{-4}{6} = \frac{-6}{9} = \frac{-8}{12} = \frac{-2}{3}$$

Y la expresión algebraica de la función es:

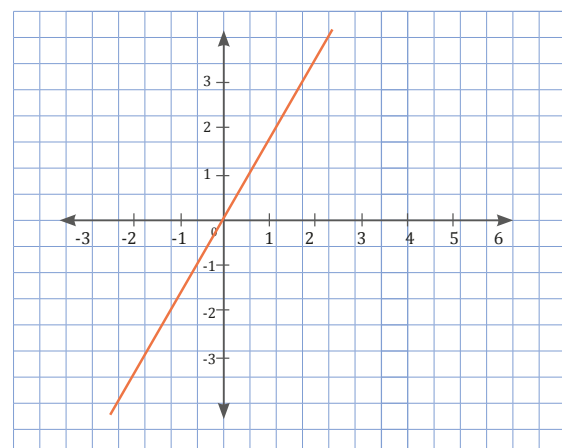
$$f(x) = \frac{-2}{3} x$$

La gráfica de esta función también es una recta que pasa por el origen de coordenadas, pero su pendiente es negativa, por lo que se hace una función decreciente.

Ahora vamos a determinar mediante su gráfico y pendiente si la función es creciente o decreciente. La tabla viene dada de esta forma.

Masa (kg)	1	2	3	4
y: Precio	1,75	3,50	5,25	7

La gráfica de acuerdo con la información proporcionada sería.



2.2. Gráfica de una función lineal

D.C.D. M.4.1.50. Definir y reconocer una función lineal de manera algebraica y gráfica (con o sin el empleo de la tecnología) e identificar su monotonía a partir de la gráfica o su pendiente.

Expresión algebraica de una función lineal

En este ejemplo, vamos a aprender el procedimiento para obtener la expresión algebraica de una función lineal a partir de una tabla de valores.

Escribimos la expresión algebraica de la función dada por esta tabla de valores.

x	2	4	6	8
y	-1	-2	-3	-4

Veamos si las variables son directamente proporcionales o no. Para ello, calculamos los cocientes entre cada valor de la variable y el valor correspondiente de la variable x.

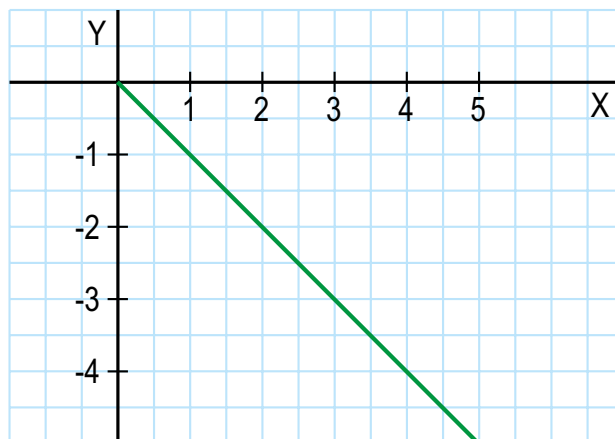
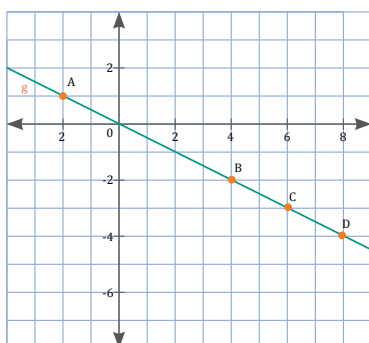
$$\frac{-1}{2} = \frac{-2}{4} = \frac{-3}{6} = \frac{-4}{8}$$

Observamos que hemos tenido en todos los casos el mismo valor.

Así, las variables x e y son directamente proporcionales con constante de proporcionalidad $-\frac{1}{2}$. Se trata, pues, de una función lineal cuya expresión algebraica es de la forma $y = mx$, siendo m la constante de proporcionalidad.

Por lo tanto, la expresión algebraica de la función es $y = -\frac{1}{2}x$. Su pendiente negativa hace que sea una función creciente.

La gráfica respectiva que corresponde a la función $y = -\frac{1}{2}x$ sería:



Observamos que la gráfica de la función es una recta que pasa por el origen de coordenadas.

Se trata, por tanto, de una función lineal o de proporcionalidad directa cuya expresión algebraica es de la forma $y = mx$, siendo m la pendiente de la recta.

Para hallar la pendiente consideramos un punto cualquiera de la gráfica, por ejemplo, el punto de coordenadas (1, -1).

La pendiente de la recta es el cociente entre $y = -1$ y $x = 1$. Por tanto, la pendiente es $m = -1$. Así, la expresión algebraica de la función es $y = -x$.

Trabajo individual

- La velocidad de impresión de una impresora es de ocho páginas cada minuto.
 - Si hasta este momento había impreso 32 páginas, ¿cuántas habrá impreso transcurridos dos minutos? ¿Y cuántas páginas había impreso hasta hace un minuto?
 - ¿Cuál es la expresión algebraica de la función que permite hallar el número de páginas impresas en función del tiempo?
 - Realice la tabla de valores correspondiente a la función.
 - Grafique la función en el plano cartesiano.

Función afín

Para definir la función afín, vamos a estudiar dos situaciones.

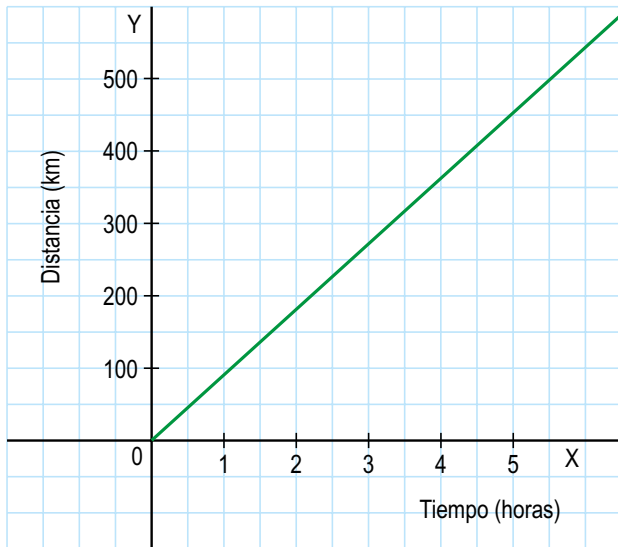
A las 0 horas un piloto que circula a una velocidad constante de 90 km/h pasa por el punto de control de una carrera de autos.

La función que relaciona la distancia a la que se encuentra el auto del punto de control con el tiempo transcurrido viene dada por esta tabla de valores.

Tiempo transcurrido en horas (x)	0	1	2	3	4	5
Distancia al control en km (y)	0	90	180	270	360	450

Podemos observar que es una función de proporcionalidad directa cuya expresión algebraica es $y = 90x$. Observamos su gráfica en esta figura.

Piloto A



Veamos a continuación la segunda situación.

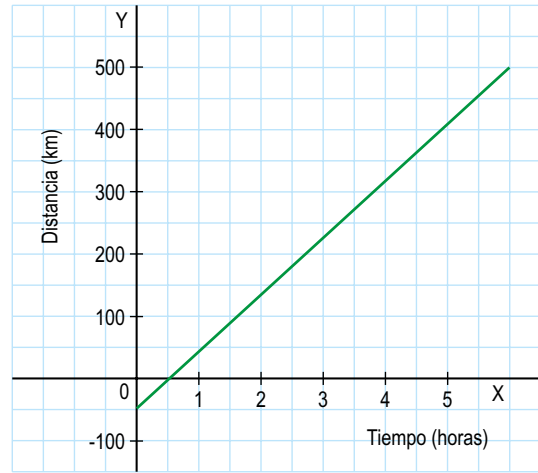
En ese momento a otro piloto que también circula a 90 km/h le faltan 50 km para llegar al control.

En este caso tendremos la siguiente tabla.

Tiempo transcurrido en horas (x)	0	1	2	3	4	5
Distancia al control en km (y)	-50	40	130	220	310	400

La gráfica de esta función es una semirrecta cuyo punto inicial tiene coordenadas (0, -50). El valor de la ordenada de este punto, -50, es la ordenada en el origen.

Piloto B



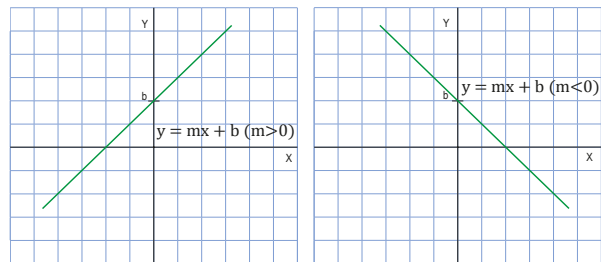
Observamos que, cuando la variable x incrementa su valor en 1, 2, 3... unidades, se produce un incremento de la variable y de 90, 180, 270... unidades, respectivamente.

El cociente entre la variación de la variable y con relación al incremento de la variable x es un valor constante igual a 90:

$$\frac{90}{1} = \frac{180}{2} = \frac{270}{3} = 90.$$

Este valor constante que se representa por m es la pendiente y mide la inclinación de la semirrecta respecto al semieje positivo de abscisas.

La expresión algebraica de la función que nos da la distancia al control del segundo auto es $y = 90x - 50$. Diremos que es una «función afín».



Una **función afín** es una función cuya expresión algebraica es de la forma $y = mx + b$ ($m \neq 0$), siendo b la ordenada en el origen.

Su gráfica es una recta que pasa por el punto (0, b) y tiene pendiente m .

Expresión algebraica de una función afín

Para poder expresar algebraicamente una función afín, partiremos de algunos ejemplos prácticos con una tabla de valores.

Escribimos la expresión algebraica de la función dada por esta tabla de valores.

x	1	2	3	4
y	-1	1	3	5

Con la tabla de valores procedemos a calcular las variaciones tanto en y como en x , y obtenemos así la pendiente.

$$m = \frac{\Delta y}{\Delta x} = \frac{1 - (-1)}{2 - 1} = \frac{3 - (-1)}{3 - 1} = \frac{5 - (-1)}{4 - 1} = 2$$

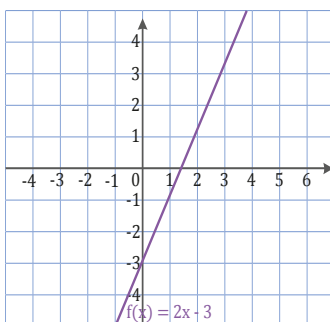
Observamos que el cociente entre la variación de la y , Δy , con relación al incremento de la variable x , Δx , es un valor constante igual a 2. Este valor constante es el valor de la pendiente m . Se trata, por tanto, de una función afín.

Sustituimos el valor de la pendiente en la expresión algebraica $y = mx + b$. Así, la expresión algebraica de la función es $y = 2x + b$.

Calculamos la ordenada en el origen. Para ello, consideramos cualquier punto de la tabla de valores, por ejemplo, el de coordenadas $(1, -1)$.

Al sustituir sus coordenadas en la expresión algebraica de la función $y = 2x + b$, tendremos que verificar la igualdad obtenida:

$$\begin{aligned} -1 &= 2 \cdot 1 + b \\ -1 &= 2b \\ b &= -3 \end{aligned}$$



Por lo tanto, la expresión algebraica de la función es $y = 2x - 3$, su pendiente negativa lo hace una función creciente y la gráfica respectiva sería.

Como la recta no es paralela al eje de abscisas, no se trata de una función constante. También observamos que la recta no pasa por el origen de coordenadas; por tanto, no se trata de una función lineal.

Así pues se trata de una función afín.

Para obtener su expresión algebraica, tenemos que calcular la pendiente y la ordenada en el origen.

- Calculamos la ordenada en el origen b . Como la gráfica corta al eje de ordenadas en el punto $(0, -2)$, la ordenada en el origen es $b = -2$. Así pues, la expresión algebraica de la función es $y = mx - 2$.
- Calculamos la pendiente m . Para ello, nos fijamos en la gráfica y consideramos un punto de la recta cuyas coordenadas sean fáciles de determinar, por ejemplo, el punto de coordenadas $(3, -1)$. Como es un punto de la recta, tendremos que verificar la ecuación de la recta:

$$\begin{aligned} -1 &= m \cdot 3 - 2 \\ 3m &= 1 \\ m &= \frac{1}{3} \end{aligned}$$

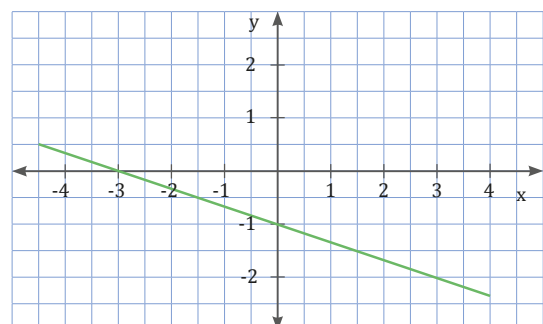
- Así, la expresión algebraica de la función es: $y = \left(\frac{1}{3}\right)x - 2$, y sería una función creciente.

Trabajo individual

1. Escriba la expresión algebraica de la función dada por la tabla de valores.

x	1	2	3	4
y	3	1	-1	-3

2. Escriba la expresión algebraica de la función dada por la gráfica.



3. Funciones polinómicas básicas

3.1. Características de las funciones de segundo grado

D.C.D. M.4.1.51. Definir y reconocer funciones potencia con $n = 1, 2, 3$, representarlas de manera gráfica e identificar su monotonía.

Las **funciones de segundo grado**, o **funciones cuadráticas**, son aquellas cuya expresión

algebraica es un polinomio de segundo grado en la variable x .

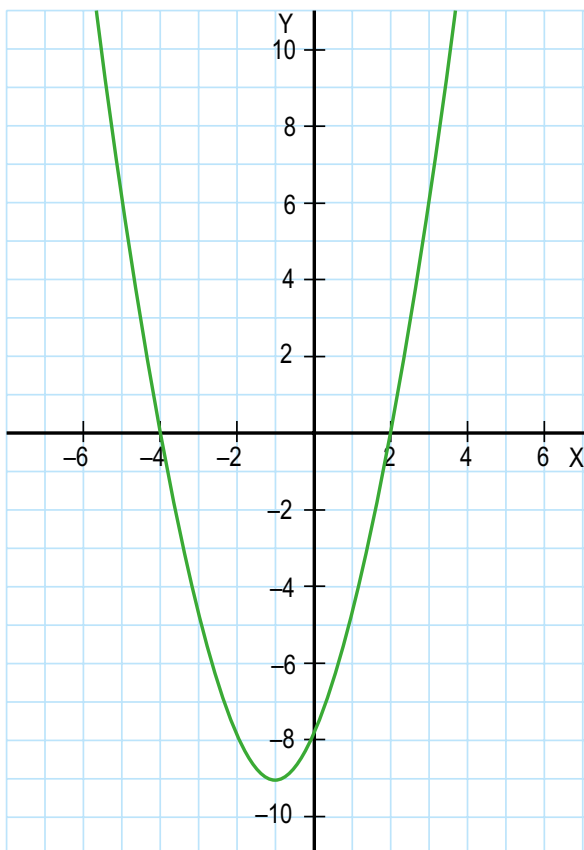
$$y = ax^2 + bx + c \quad (a \neq 0)$$

La representación gráfica de estas funciones es una curva que recibe el nombre de *parábola*.

Consideremos la función $y = x^2 + 2x - 8$, y construyamos una tabla de valores.

x	0	1	2	3	-1	-2	-3
y	-8	-5	0	7	-9	-8	-5

Si la representamos gráficamente, obtenemos la parábola de esta figura, en la que podemos observar algunas características.



- Tiene sus ramas orientadas hacia arriba.
- Corta al eje OX en los puntos $(-4, 0)$ y $(2, 0)$, y al eje OY en el punto $(0, -8)$.
- Es simétrica respecto a un eje paralelo al eje OY, la recta $x = -1$.
- Presenta un punto o vértice que se corresponde con un mínimo o máximo valor absoluto, por el que pasa el eje de simetría. En este caso, las coordenadas del vértice son $(-1, -9)$.

En general diremos que:

Para dibujar la parábola que representa una función cuadrática, es útil seguir este procedimiento:

- **Orientación de las ramas:** Si $a > 0$, se abre hacia arriba y, si $a < 0$, se abre hacia abajo.
- **Eje de simetría:** Es la recta $x = -\frac{b}{2a}$.
- **Vértice:** El valor de su abscisa viene dado por la ecuación del eje $x = -\frac{b}{2a}$. Una vez tenemos el valor de la abscisa, sustituimos este en la ecuación de la parábola y obtenemos el valor de la ordenada del vértice.
- **Puntos de intersección con los ejes**

Eje OY, $(0, c)$: Obtenemos para $x = 0$.

Eje OX, $(x, 0)$: Obtenemos para $y = 0$, al resolver la ecuación $ax^2 + bx + c = 0$.

Si igualamos a 0 una función cuadrática, obtenemos una ecuación de segundo grado.

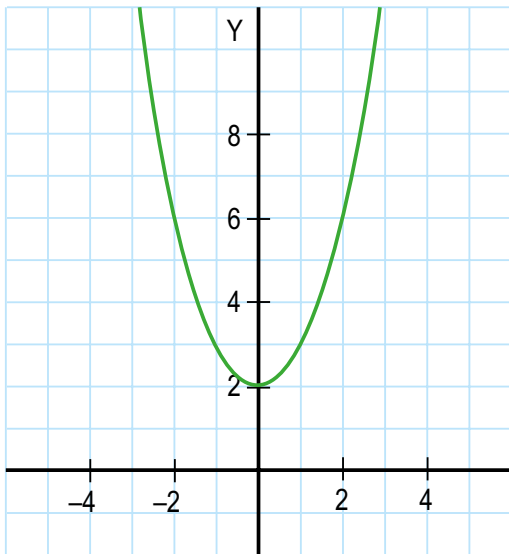
Hemos visto que las raíces o soluciones de dicha ecuación coinciden con los puntos de corte de la parábola que describe la función cuadrática con el eje OX.

Esto nos proporciona un método gráfico de resolución de ecuaciones de segundo grado, representando la parábola correspondiente y observando si corta al eje OX o no. Los valores donde se corta el gráfico con el eje x son las raíces de la ecuación de segundo grado.

Ahora veremos cuatro casos de distintas parábolas.

La parábola no corta al eje OX.

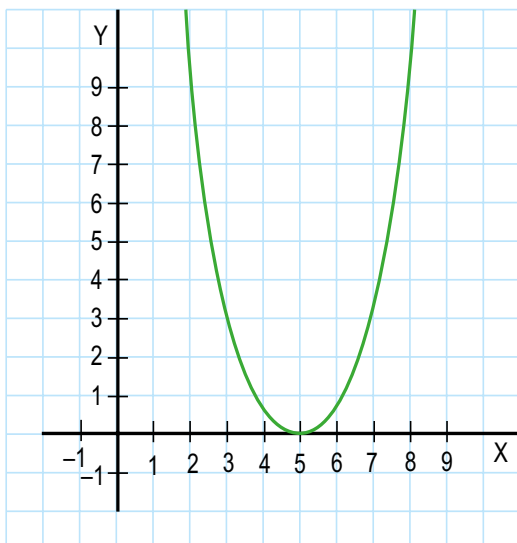
$$y = x^2 + 2$$



La ecuación de segundo grado $x^2 + 2 = 0$ no tiene solución.

La parábola corta el eje OX en un punto.

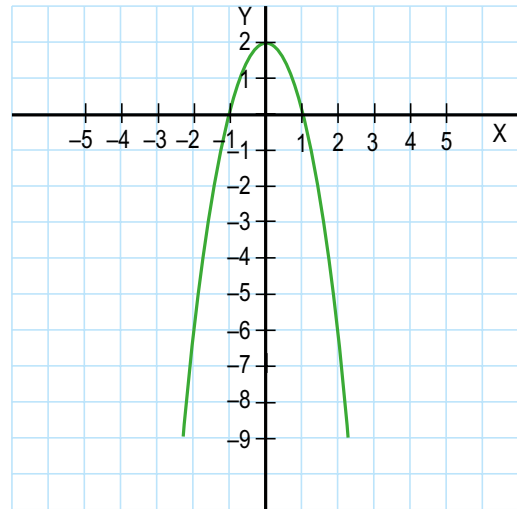
$$y = x^2 - 10x + 25$$



La ecuación de segundo grado $x^2 - 10x + 25 = 0$ solo tiene una solución: $x = 5$.

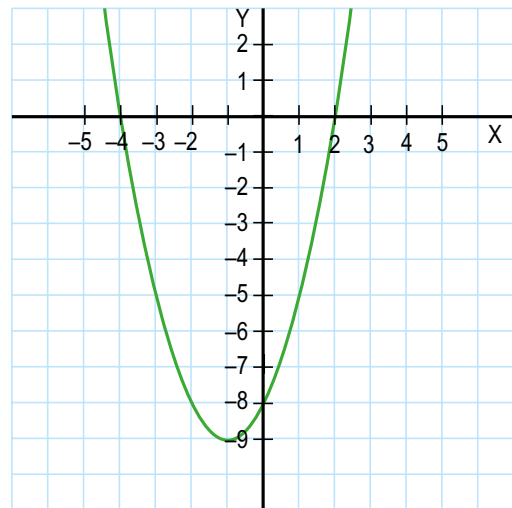
La parábola corta el eje OX en dos puntos.

$$y = -2x^2 + 2$$



La ecuación de segundo grado $-2x^2 + 2 = 0$ tiene dos soluciones: $x = -1$ y $x = 1$.

$$y = x^2 + 2x - 8$$



La ecuación de segundo grado $x^2 + 2x - 8 = 0$ tiene dos soluciones: $x = -4$ y $x = 2$.



Razone si la gráfica de la función cuadrática tiene siempre puntos de corte con los ejes OX y OY.

Función cúbica.

Características

Hasta el momento hemos revisado funciones de variable real lineales y cuadráticas, que representadas como potencia corresponden a $n = 1$ y $n = 2$ respectivamente.

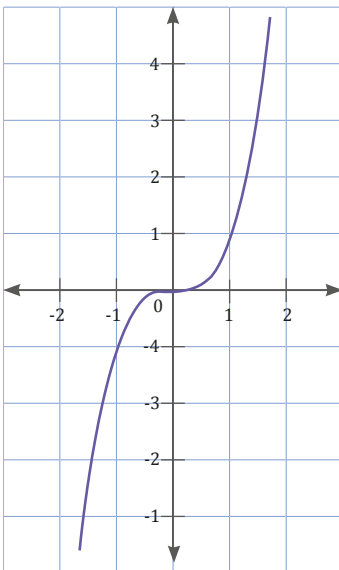
Una función de variable real de grado $n = 3$ corresponde a una función cúbica. Por lo general, es utilizada para relacionar los volúmenes en determinados espacios o tiempos.

La función cúbica es un polinomio de tercer grado, que se expresa como $f(x) = ax^3 + bx^2 + cx + d$, donde los valores de y $a, b, c, d \in \mathbb{R}$ y $a \neq 0$.

Para nombrar las características principales vamos a graficar la función $f(x) = x^3$.

Realizamos la respectiva tabla de valores:

x	0	1	2	-1	-2
y	0	1	4	-1	-4



Si la representamos gráficamente en el plano cartesiano, obtenemos esta figura, en la que podemos observar algunas características.

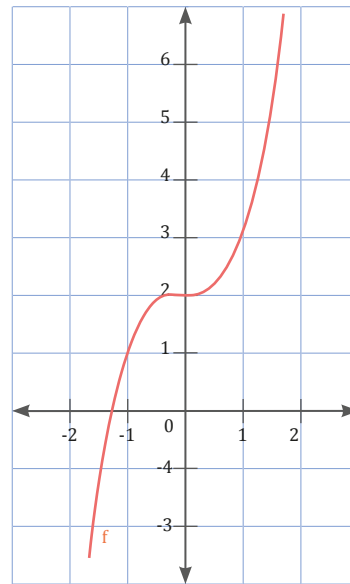
Entre las características principales que tiene la función cúbica son:

- La función es simétrica con respecto del origen, debe cumplirse que $f(-x) = -f(x)$.
- La función no tiene asíntotas.
- La función tiene un punto de corte con el eje Y.

- La función puede tener hasta tres puntos máximo de intersección con el eje X.
- La función es continua en todo su dominio.
- El dominio de la función es la recta real.
- El recorrido o rango de la función es la recta real.

Ahora vamos a realizar la gráfica y analizar las propiedades de esta función $f(x) = x^3 + 2$ Realizamos la respectiva tabla de valores:

x	0	1	2	-1	-2
y	2	3	10	1	6



Si la representamos gráficamente en el plano cartesiano, obtenemos esta figura, en la que podemos observar algunas características.

Entre las características principales que tiene la función $f(x) = x^3 + 2$ son:

- La función no es simétrica con respecto del origen, debe cumplirse que $f(-x) \neq -f(x)$.
- La función no tiene asíntotas.
- La función tiene un punto de corte con el eje $y = 2$.
- La función tiene un punto de intersección con el eje X.
- La función es continua en todo su dominio.
- El dominio de la función es la recta real.
- El recorrido o rango de la función es la recta real.

3.2. Funciones y problemas de aplicación

D.C.D. M.4.1.52. Representar e interpretar modelos matemáticos con funciones lineales y resolver problemas.

Método general de resolución de problemas

Antes de abordar la resolución de un problema, debemos **entender el enunciado** y ser capaz de reescribirlo con nuestras propias palabras. Una vez que hayamos analizado el problema, tendremos que **elaborar un plan de resolución** y **resolverlo**.

Como último paso y antes de dar el problema por terminado, debemos **comprobar** que el resultado responde la pregunta inicial planteada y que el proceso de resolución elegido es correcto.

Ahora revisemos este problema:

Daniela corre a una velocidad constante de 12 km/h. Su vecino Carlos ha salido a correr 1 h antes, a una velocidad constante de 8 km/h en la misma dirección que Daniela.

Determinemos el tiempo de ejercicio que lleva Daniela cuando se encuentra con Carlos y el espacio recorrido por ambos hasta ese momento.

1. Comprender

- Volvamos a leer el problema y enunciémoslo con nuestras propias palabras.
- Anotemos los datos que nos proporcionan y los que nos piden.

2. Planificar

Representamos por S_1 y S_2 las funciones que nos dan el espacio recorrido por Daniela y por Carlos en función del tiempo transcurrido, variable t , desde la salida de Daniela.

Daremos valores del tiempo expresados en horas a la variable t , puesto que la velocidad viene expresada en km/h.

Así, el tiempo de ejercicio que lleva Daniela cuando se encuentra con Carlos será la abscisa del punto de intersección de las gráficas de las funciones S_1 y S_2 , y el espacio recorrido por ambos en el momento del encuentro será la ordenada de este punto.

3. Ejecutar el plan

Si tomamos la salida de Daniela en el instante $t = 0$, la expresión algebraica de la función.

Elaboramos la tabla de valores de la función S_1 para representarla posteriormente.

Tiempo en horas (t)	0	1	2	3
Espacio en kilómetros (S_1)	0	12	24	36

Cuando Daniela empieza el ejercicio, en el instante $t = 0$, Carlos lleva recorridos 8 km, por lo que la expresión algebraica de la función S_2 es $S_2 = 8t + 8$.

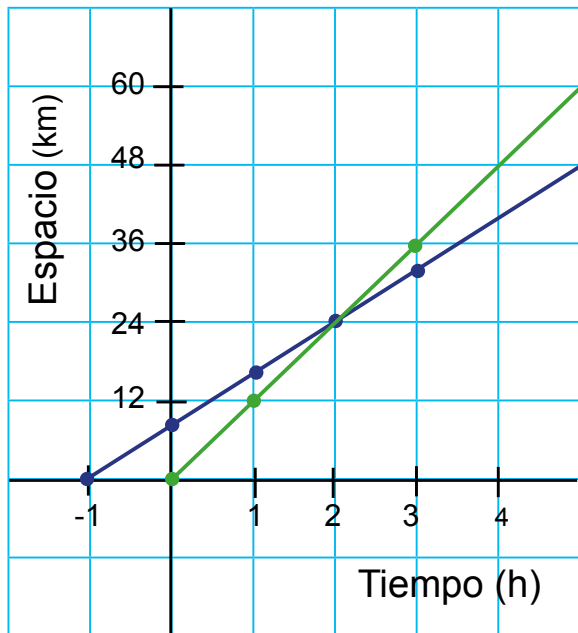
Carlos empezó a correr 1 h antes que Daniela, por lo que ha salido en el instante $t = -1$. Partiendo de este valor, elaboramos una tabla de valores de la función S_2 .

Tiempo en horas (t)	-1	0	1	2	3
Espacio en kilómetros (S_2)	0	8	16	24	32

Trabajo individual

1. Descompón en producto de factores los siguientes polinomios:
a. $x^2 - 4$ c. $x^2 - x - 12$ e. $x^2 - 8x - 9$
b. $x^2 - 9x$ d. $x^2 + 4x + 3$ f. $2x^2 + 15x + 25$
2. ¿Puede descomponerse en factores el polinomio $x^2 - 2x + 5$? ¿Por qué?
3. Expresa, en forma ordenada y reducida:
a. Un polinomio de segundo grado que tenga como raíces los valores $x = -5$ y $x = -2$.
b. Un polinomio de segundo grado que tenga como raíz doble $x = 7$.
4. Indica, sin resolverlas, el número de soluciones de cada una de estas ecuaciones.
a. $2x^2 - x - 3 = 0$ c. $x^2 + 2x + 3 = 0$
b. $x^2 + 6x + 1 = 0$ d. $x^2 + 3x + 2 = 0$
5. ¿Qué le ocurre a la función de segundo grado $y = ax^2 + bx + c$ si el coeficiente a es 0?

Continuando con el problema, ahora representamos gráficamente ambas funciones sobre el mismo sistema de coordenadas cartesianas.



Observamos en la gráfica que el punto donde se cortan las dos rectas es $P(2, 24)$.

Por tanto, Daniela encuentra a Carlos cuando lleva dos horas de ejercicio, y ambos han recorrido 24 km.

4. Revisar

Revisemos los cálculos realizados tanto en las operaciones como en la elaboración de las tablas.

Comprobemos que las coordenadas del punto $P(2, 24)$ verifican las expresiones algebraicas de las funciones S_1 y S_2 .

Con todo el proceso revisado de resolución de problemas vamos a resolver este ejercicio:

Un fabricante vende celulares a un precio medio de \$175,35 la unidad. El costo de fabricar los celulares es de \$125,60 por unidad, más un costo fijo, independiente de la cantidad de celulares vendidos, de \$5 200 000, correspondiente a la inversión inicial.

Determinemos:

a. La función del valor total de las ventas (en dólares) en función del número de unidades vendidas.

- b. La función del costo total en función del número de unidades vendidas.
- c. La función del beneficio total en función del número de unidades vendidas.
- d. El número de unidades vendidas a partir de que el fabricante empezará a tener beneficios.

1. Comprender

- Volvamos a leer el problema y enunciémoslo con nuestras propias palabras.
- Anotemos los datos que nos proporcionan y los que nos piden.

2. Planificar

Hay que reconocer los datos proporcionados por el problema, se trata de una función de ventas de celulares, en donde tiene un precio de venta, costo de fabricación por unidad y un costo fijo.

Representamos con la variable x a la cantidad de celulares producidos y vendidos, determinamos los ingresos, costos y la utilidad.

El ingreso es igual a la cantidad producida y vendida x por el precio medio de venta.

El costo total es igual al costo por unidad multiplicado por la cantidad producida y vendida más los costos fijos.

Mientras que la utilidad sería la diferencia de los ingresos menos los costos totales.

3. Ejecutar el plan

Al ejecutar el plan tenemos que responder cada una de los literales planteados.

a. El valor total de las ventas que no es otra cosa que los ingresos totales estaría expresado como:

$$f(x) = 175,35x$$

b. El valor de los costos totales de acuerdo con lo planteado y planificado quedaría expresado como:

$$C(x) = 125,60x + 5\,200\,000$$

- c. La utilidad expresada resulta de la diferencia de los ingresos menos los costos:

$$U(x) = 175,35x - (125,60x + 5\,200\,000)$$

$$U(x) = 175,35x - 125,60x - 5\,200\,000$$

$$U(x) = 49,75x - 5\,200\,000$$

- d. Para encontrar el número de unidades vendidas a partir de que el fabricante empezará a tener beneficios, deberemos plantear que la utilidad al menos sea mayor o igual a cero. Siendo así la expresión quedaría como:

$$49,75x - 5\,200\,000 = 0$$

$$49,75x = 5\,200\,000$$

$$x = 104,52$$

Entonces el fabricante deberá vender 105 unidades al menos para que comience a tener beneficios.

5. Revisar

Revisemos los cálculos realizados tanto en las operaciones efectuadas al momento de despejar la variable número de unidades.

Comprobemos que las 105 unidades efectivamente comiencen a generar ganancias en la función utilidad.

Ahora realizamos otro problema de la vida cotidiana.

El costo de obtener copias de CD interactivo es de \$ 0,50 la unidad, más \$ 3 000 fijos de producción, el precio de venta es de \$ 2 al público por cada CD.

Determinar

- La función del valor total de las ventas (en dólares) en función del número de unidades vendidas.
- La función del costo total en función del número de unidades vendidas.
- La función del beneficio total en función del número de unidades vendidas.

Al ejecutar el plan respectivo tenemos que responder cada uno de los literales planteado:

- a. El valor total de las ventas que no es otra cosa que los ingresos totales estaría expresado como:

$$f(x) = 2x$$

- b. El valor de los costos totales de acuerdo con lo planteado y planificado quedaría expresado como:

$$C(x) = 0,50x + 3000$$

- c. La utilidad expresada resulta de la diferencia de los ingresos menos los costos:

$$U(x) = 2x - (0,50x + 3000)$$

$$U(x) = 2x - 0,50x - 3000$$

$$U(x) = 1,50x - 3000$$

Trabajo colaborativo

- Existen varios tipos de funciones cuya gráfica es una recta.
Cada una de ellas se caracteriza por la correspondiente expresión algebraica y por una gráfica determinada. Con la ayuda de Internet respondan las cuestiones planteadas a continuación:
 - ¿Qué función polinómica tiene por gráfica una recta?
 - Escriban la expresión algebraica de estos tipos de funciones:
 - función constante
 - función afín
 - función lineal
 - función identidad
- Describe tres situaciones cotidianas en las que se establezcan relaciones entre diferentes variables e indica, en cada caso, cuáles son las variables dependientes y cuáles las variables independientes.
- En estos pares de magnitudes relacionadas, indica cuál es la variable independiente y cuál es la variable dependiente:
 - El alargamiento que experimenta un muelle cuando se cuelga un peso de su extremo y dicho peso.
 - El tiempo que circula un auto a velocidad constante y la distancia recorrida.
 - El peso de una barra de pan y el de la harina usada en su elaboración.
 - La edad de un niño y su estatura.
 - El importe del recibo del gas y el tiempo de funcionamiento de la calefacción.

Indicadores de evaluación

- Representa como pares ordenados el producto cartesiano de dos conjuntos e identifica las relaciones reflexivas, simétricas, transitivas y de equivalencia de un subconjunto de dicho producto. (I.4.)
- Resuelve problemas mediante la elaboración de modelos matemáticos sencillos como funciones, emplea gráficas de barras, bastones, diagramas circulares para representar funciones y analizar e interpretar la solución en el contexto del problema. (I.2.)
- Determina el comportamiento (función creciente o decreciente) de las funciones lineales en Z , con base en su formulación algebraica, tabla de valores o en gráficas, valora el empleo de la tecnología, y calcula funciones compuestas gráficamente. (I.4.)

- Indica si estos enunciados son verdaderos (V) o falsos (F):
 - Una función es la relación de dependencia entre dos variables en la que a cada valor de la variable independiente x le corresponde uno o más valores de la variable dependiente y . ()
 - El recorrido de una función es el conjunto de valores que puede tomar la variable dependiente y se representa por R . ()
 - Una función es decreciente en un intervalo si, al aumentar el valor de la variable x dentro de este intervalo, disminuye o permanece constante la variable y . ()
 - Una función de gráfica continua tiene un máximo en un valor de la variable x si la imagen de este valor es menor o igual que la de cualquier otro valor de la variable independiente de la función. ()
 - Una función es discontinua cuando no se puede dibujar de un solo trazo o cuando la gráfica presenta alguna interrupción. ()
 - Una ecuación de segundo grado es de la forma $ax^2 + bx + c; a \neq 0$. ()
 - En la gráfica de una función cuadrática la orientación de las ramas depende del valor de a . Si $a > 0$, se abre hacia arriba, y, si $a < 0$, se abre hacia abajo. ()
 - Ecuación es una igualdad que se verifica para algunos valores numéricos de las letras que en ella aparecen. ()
- Por alquilar un automóvil cobran \$ 100 diarios más \$ 0,30 por kilómetro recorrido. Si en un día se ha recorrido un total de 300 km, ¿cuál es el valor que se debe pagar?
 - \$90
 - \$100
 - \$130
 - \$190
- El vértice de la parábola $f(x) = x^2 - 8x + 5$ corresponde al par ordenado.
 - (4, 11)
 - (4, -11)
 - (-8, 5)
 - (8, 5)
- Encuentra el valor de k en la expresión $x^2 + (k + 2)x + 2k = 0$ para que tenga dos raíces reales iguales.
- En una librería venden un determinado modelo de esfera a \$ 1,20 la unidad.
 - Completa, en tu cuaderno, la siguiente tabla de valores:

Número de esfera (x)	1	2	3	4
Importe en dólares (y)				
 - Representa la gráfica de la función e indica si se trata de una gráfica continua o no.
 - ¿Qué valor tiene la variable dependiente si el valor de la variable independiente es 15?

Autoevaluación

- Represento como pares ordenados el producto cartesiano de dos conjuntos. (I.4)
- Resuelvo problemas mediante la elaboración de modelos matemáticos sencillos como funciones. (I.2)
- Determino el comportamiento de las funciones lineales en los números enteros, utilizando la tabla de valores o gráficas. (I.4)



Para empezar

- Tomando en cuenta las figuras del estadio, ¿qué ecuaciones relacionaría con cada una?
- ¿Cómo estimaría el número de fans que se encuentran en el estadio mediante el uso de ecuaciones?

Objetivo

Representar y resolver de manera gráfica y analítica sistemas de dos ecuaciones lineales con dos incógnitas, para aplicarlos en la solución de situaciones concretas.

Introducción

En esta unidad estudiaremos los temas relacionados con los sistemas de ecuaciones, las diversas formas de obtener las soluciones de un sistema de dos ecuaciones con dos incógnitas, sus aplicaciones a la vida cotidiana; dejando una base para resolver ecuaciones con más incógnitas de forma analítica y gráfica para poder comprobarlo de manera tecnológica (TIC).

Contenidos

1. **Sistemas con ecuaciones lineales**
 - 1.1. Características de los sistemas de ecuaciones lineales
 - 1.2. Método de Cramer
 - 1.3. Problemas de sistemas de ecuaciones
 - 1.4. Aplicaciones de los sistemas de ecuaciones lineales
2. **Funciones cuadráticas**
 - 2.1. Características de las funciones cuadráticas
 - 2.2. Completación de cuadrados
 - 2.3. Raíces de las funciones cuadráticas
 - 2.4. Aplicaciones de las funciones cuadráticas

1. Sistemas con ecuaciones lineales

1.1. Características de los sistemas de ecuaciones lineales

D.C.D. M.4.1. 53,54. Reconocer a la recta y la intersección de dos rectas como la solución gráfica de una ecuación lineal con dos incógnitas y de un sistema de ecuaciones lineales con dos incógnitas respectivamente.

Ecuaciones de primer grado con dos incógnitas

Observemos la ecuación $4x + 4 = 2y$. Tiene dos incógnitas (x e y) con exponente 1. Es una ecuación de primer grado con dos incógnitas.

Una ecuación es de primer grado con dos incógnitas si, una vez efectuadas las operaciones y reducidos sus términos semejantes, aparecen dos incógnitas cuyo máximo exponente es 1.

Las ecuaciones de primer grado con dos incógnitas pueden expresarse de la forma: $ax + by + c = 0$, donde a y b son números reales, con $a \neq 0$ y $b \neq 0$.

Una solución de la ecuación es cada par de valores (x, y) que verifica la ecuación.

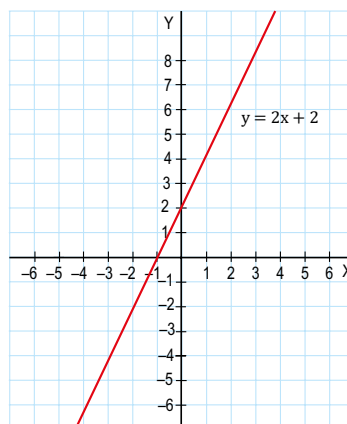
Ahora encuentre la solución de la ecuación $4x + 4 = 2y$.

Ejemplo 1	Procedimiento	Ejemplo: $4x + 4 = 2y$							
	Despejamos una de las incógnitas, por ejemplo, la y .	$\frac{4x + 4}{2} = \frac{2y}{2}$							
	Asignamos valores arbitrarios a la otra incógnita, x , para calcular a continuación los valores correspondientes a la y .	<table border="1"> <thead> <tr> <th>x</th> <th>$y = 2x + 2$</th> </tr> </thead> <tbody> <tr> <td>-3</td> <td>$2 \cdot (-3) + 2 = -4$</td> </tr> <tr> <td>0</td> <td>$2 \cdot 0 + 2 = 2$</td> </tr> <tr> <td>2</td> <td>$2 \cdot 2 + 2 = 6$</td> </tr> </tbody> </table>	x	$y = 2x + 2$	-3	$2 \cdot (-3) + 2 = -4$	0	$2 \cdot 0 + 2 = 2$	2
x	$y = 2x + 2$								
-3	$2 \cdot (-3) + 2 = -4$								
0	$2 \cdot 0 + 2 = 2$								
2	$2 \cdot 2 + 2 = 6$								

Así, los pares de valores $x = -3; y = -4$; $x = 0; y = 2$; $x = 2; y = 6$ son soluciones de la ecuación.

Puesto que x puede tomar cualquier valor, la ecuación de primer grado con dos incógnitas tiene infinitas soluciones.

Para visualizar las soluciones, procedemos a su representación gráfica en un sistema de coordenadas cartesianas. Asignamos a cada par de valores x e y , que sea solución de la ecuación el punto del plano que tiene estos valores por coordenadas: (x, y) .



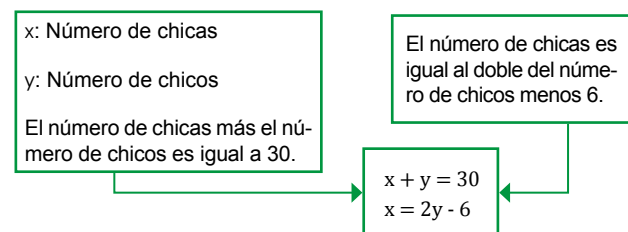
Así, todas las soluciones de la ecuación vendrán representadas por un punto de la recta de la figura. A su vez, todos los puntos de la recta son soluciones de la ecuación.

Sistemas de ecuaciones lineales con dos incógnitas. Resolución gráfica

En ocasiones, puede ocurrir que dos ecuaciones deban cumplirse al mismo tiempo. Leamos este enunciado:

En la clase de 3.º A hay treinta estudiantes, entre chicas y chicos. Además, el número de chicas es igual al doble del número de chicos menos 6.

Para traducirlo al lenguaje algebraico, necesitaremos dos ecuaciones.



Estas dos ecuaciones que deben cumplirse a la vez constituyen un sistema de ecuaciones.

Un **sistema de ecuaciones** es un conjunto de ecuaciones que deben verificarse simultáneamente.

Como hemos visto en grados anteriores, una ecuación de primer grado con dos incógnitas tiene infinitas soluciones, pero no sabemos cuántos valores de las incógnitas verifican simultáneamente las dos ecuaciones.

Una solución del sistema es cada par de valores x e y , que verifica simultáneamente todas las ecuaciones del sistema.

Una **solución del sistema** es cada par de valores x e y , que verifica simultáneamente todas las ecuaciones del sistema.

Dos sistemas de ecuaciones son equivalentes si tienen las mismas soluciones.

Los métodos algebraicos se basan en obtener una ecuación de primer grado con una incógnita a partir del sistema de ecuaciones.

Mundo Digital

Existen aplicaciones matemáticas para los celulares inteligentes, que solo con una foto nos dan la solución a los sistemas de ecuaciones lineales.

Desde la Ciencia

Escribimos un sistema de ecuaciones agrupando las ecuaciones que lo forman con una llave.

Para resolver un sistema de ecuaciones, debemos encontrar los valores de las incógnitas que verifiquen a la vez todas las ecuaciones.

Trabajo individual

- Contesta: ¿Cuál es el valor de la ecuación $3y = 6x + 9$ si $y = 3$? ¿Y si $x = -2$?
- Representa gráficamente las soluciones de cada una de las ecuaciones siguientes.
 - $y = x + 2$
 - $50y - 150x = 200$

Ejemplo 2

Ahora hallamos gráficamente la solución de este sistema:

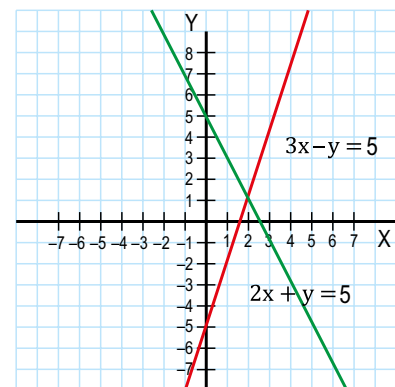
$$\begin{cases} 3x - y = 5 \\ 2x + y = 5 \end{cases}$$

- Despejamos la variable y , de cada una de las ecuaciones, construimos una tabla de soluciones de cada ecuación asignando valores arbitrarios a x , y calculamos los correspondientes a y .

x	$y = 3x - 5$
-3	$3 \cdot (-3) - 5 = -14$
0	$3 \cdot (0) - 5 = -5$
2	$3 \cdot (2) - 5 = 1$

x	$y = -2x + 5$
-3	$-2 \cdot (-3) + 5 = 11$
0	$-2 \cdot (0) + 5 = 5$
2	$-2 \cdot (2) + 5 = 1$

- Representamos gráficamente las soluciones de cada una de las ecuaciones en un sistema de coordenadas cartesianas.



- Las dos rectas se cortan en el punto $(2, 1)$, por lo que $x = 2$, $y = 1$ es la solución del sistema.

Tipos de sistemas de ecuaciones lineales según sus soluciones

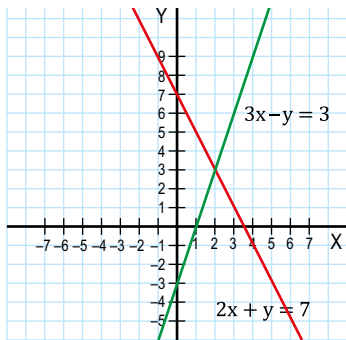
Como hemos visto anteriormente, las soluciones o raíces de un sistema de dos ecuaciones de primer grado con dos incógnitas están determinadas por los puntos que tengan en común las rectas que obtenemos al representar gráficamente las soluciones de cada ecuación.

Según las soluciones, clasificamos a los sistemas en:

Compatibles determinados

Planteamos este sistema de ecuaciones:

$$\begin{cases} 2x + y = 3 \\ 3x - y = 6 \end{cases}$$



Representamos gráficamente las soluciones de cada una de las ecuaciones en un sistema de coordenadas cartesianas.

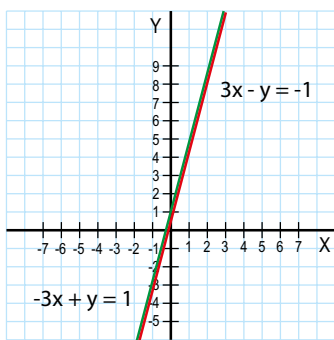
Las dos rectas son secantes: tienen un único punto en común.

El sistema tiene solución única, el par de valores formado por $x = 2$ e $y = 1$.

Compatibles indeterminados

Planteamos este sistema de ecuaciones:

$$\begin{cases} 3x - y = -1 \\ -3x + y = 1 \end{cases}$$



Representamos gráficamente las soluciones de cada una de las ecuaciones en un sistema de coordenadas cartesianas.

Las dos rectas son coincidentes: tienen todos los puntos comunes.

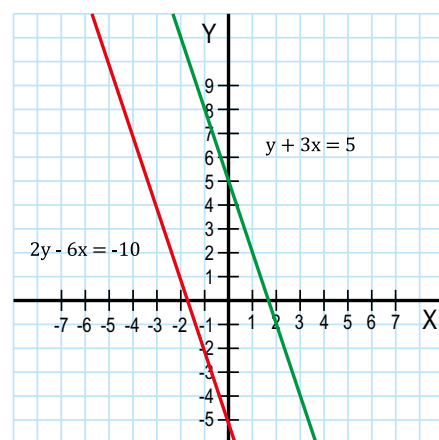
Todas las soluciones de una ecuación lo son también de la otra.

Incompatibles

Planteamos este sistema de ecuaciones:

$$\begin{cases} 2x - 6y = -10 \\ y + 3x = 5 \end{cases}$$

Representamos gráficamente las soluciones de cada una de las ecuaciones en un sistema de coordenadas cartesianas.



Las dos rectas son paralelas: no tienen ningún punto en común.

No existe, pues, **ninguna solución** común a las dos ecuaciones.

Trabajo individual

3. Represente gráficamente las soluciones de las ecuaciones de estos sistemas.

a.
$$\begin{cases} y = 5 - x \\ y = 2x - 4 \end{cases}$$

b.
$$\begin{cases} y = 8 - 2x \\ y = 3x - 7 \end{cases}$$

c.
$$\begin{cases} 3x + y = -8 \\ x = -7 \end{cases}$$

4. Escriba la solución de cada sistema y compruebe que son soluciones sustituyéndolas en ambas ecuaciones.

1.2. Método de Cramer

D.C.D. M.4.1.55. Resolver un sistema de dos ecuaciones lineales con dos incógnitas de manera algebraica utilizando los métodos de determinantes (Cramer), de igualación y de eliminación gaussiana.

Métodos de resolución de sistemas de ecuaciones lineales con dos incógnitas

El método gráfico para la resolución de sistemas puede ser impreciso en caso de que las soluciones no sean números enteros.

Por ello, para la resolución de sistemas, utilizaremos preferentemente los llamados *métodos algebraicos*: método de sustitución, método de igualación y método de reducción.

Método de sustitución

El *método de sustitución* se basa en despejar una de las incógnitas en una de las ecuaciones y sustituir en la otra ecuación la incógnita despejada por su expresión equivalente.

Ejemplo 3

Así resolvemos este sistema por el método de sustitución:

$$\left. \begin{array}{l} 3x + 2y = -11 \\ x - 3y = -33 \end{array} \right\}$$

Despejamos x en la segunda ecuación.

$$x = -33 + 3y$$

Sustituimos la x de la primera ecuación por la expresión obtenida.

$$3(-33 + 3y) + 2y = -11$$

Resolvamos la ecuación resultante, que es una ecuación de primer grado con una incógnita.

$$-99 + 9y + 2y = -11$$

$$9y + 2y = 99 - 11$$

$$11y = 88$$

$$y = 8$$

Sustituimos el valor de y hallado en la expresión en la que aparece despejada x .

$$x = -33 + 3y = -33 + 24 = -9$$

Escribimos la solución al sistema.

$$x = -9, y = 8$$

Método de igualación

El *método de igualación* se basa en despejar la misma incógnita en las dos ecuaciones e igualar las expresiones obtenidas.

Ejemplo 4

Así resolvemos este sistema por el método de sustitución:

$$\left. \begin{array}{l} 3x + 2y = -11 \\ x - 3y = -33 \end{array} \right\}$$

Despejamos x en las dos ecuaciones.

$$3x + 2y = -11 \longrightarrow x = \frac{-11 - 2y}{3}$$

$$x - 3y = -33 \longrightarrow x = -33 + 3y$$

Resolvemos la ecuación resultante, que es una ecuación de primer grado con una incógnita.

$$-11 - 2y = 3(-33 + 3y)$$

$$-11 - 2y = -99 + 9y$$

$$-2 - 9y = -99 + 11$$

$$-11y = -88$$

$$y = 8$$

Sustituimos el valor de y hallado en cualquiera de las expresiones en que aparece despejada x .

$$x = -33 + 3 \cdot 8 = -9$$

Escribimos la solución al sistema.

$$x = -9, y = 8$$

Mundo Digital

Para profundizar sobre el método de Cramer en la resolución de un sistema de ecuaciones lineales con dos incógnitas podemos encontrar diferentes vídeos, o también puede visitar <https://goo.gl/c8A5mC>

Método de reducción

El **método de reducción** se basa en multiplicar cada ecuación por el número adecuado para que, al sumar o restar las dos ecuaciones resultantes, obtengamos una ecuación con una sola incógnita.

No olvidemos que, si aplicamos el método de reducción a un sistema compatible indeterminado, obtendremos:

$$0x + 0y = 0$$

Y en el caso de un sistema incompatible:

$$0x + 0y = a \text{ siendo } a \neq 0$$

Ejemplo 5

Resolvamos este sistema por el método de reducción:

$$\begin{aligned} 3x + 2y &= -11 \\ x - 3y &= -33 \end{aligned}$$

- Multiplicamos la primera ecuación por 1 y la segunda ecuación por -3. De este modo, los coeficientes de la x en las dos ecuaciones serán números opuestos.

$$\begin{aligned} 3x + 2y &= -11 \xrightarrow{\cdot(1)} 3x + 2y = -11 \\ x - 3y &= -33 \xrightarrow{\cdot(-3)} -3x + 9y = 99 \end{aligned}$$

- Sumamos miembro a miembro las dos ecuaciones y despejamos la y.

$$\begin{array}{r} 3x + 2y = -11 \\ -3x + 9y = 99 \\ \hline 11y = 88 \rightarrow y = 8 \end{array}$$

- Para hallar el valor de x, podemos sustituir en cualquiera de las ecuaciones iniciales el valor de y hallado y, a continuación, despejar x.

También podemos hallar el valor de x utilizando de nuevo el mismo método para eliminar la variable y en las dos ecuaciones.

Para ello, multiplicamos la primera ecuación por 3 y la segunda por 2.

$$\begin{aligned} 3x + 2y &= -11 \xrightarrow{\cdot 3} 9x + 6y = -33 \\ x - 3y &= -33 \xrightarrow{\cdot 2} +2x - 6y = -66 \end{aligned}$$

- Sumamos miembro a miembro las dos ecuaciones y despejamos la x

$$\begin{array}{r} 9x + 6y = -33 \\ 2x - 6y = -66 \\ \hline 11x - 0 = -99 \rightarrow x = -9 \end{array}$$

- Escribimos la solución del sistema: $x = -9$, $y = 8$.



Aplicación para la vida

¿Has visto o consumido alguna vez embutidos?

Hay una fábrica de estos alimentos que se encuentra en Cuenca, y que está altamente comprometida con los consumidores. Esta fábrica es consciente de la importancia de la calidad en la alimentación y, por eso, sus productos son elaborados a base de una estricta selección de los ingredientes, todos ellos naturales, lo que garantiza el sabor y la frescura al momento de su consumo.

La tecnología alemana empleada en cada uno de los procesos involucrados es de primera línea, lo que permite el riguroso cumplimiento de todas las normas y especificaciones del mercado.

Este constante desarrollo en la industria ha facultado el incremento de nuestra oferta de productos, no solo a nivel de cárnicos y embutidos, sino también a la elaboración de conservas, enlatados y salsas, en las que nuestras expectativas de crecimiento aspiran a cubrir el mercado nacional e internacional.

Determinante y método de Cramer

El método de Cramer sirve para resolver sistemas de ecuaciones lineales. Lo aplicamos a sistemas que cumplan estas dos condiciones:

- El número de ecuaciones es igual al número de incógnitas.
- El determinante de la matriz de los coeficientes es distinto de cero.

Tales sistemas son sistemas compatibles determinados y los denominamos *sistemas de Cramer*.

$$\begin{cases} a_{11}x_1 + a_{12}x_2 + a_{13}x_3 + \dots + a_{1n}x_n = b_1 \\ a_{21}x_1 + a_{22}x_2 + a_{23}x_3 + \dots + a_{2n}x_n = b_2 \\ a_{31}x_1 + a_{32}x_2 + a_{33}x_3 + \dots + a_{3n}x_n = b_3 \\ \dots \\ a_{n1}x_1 + a_{n2}x_2 + a_{n3}x_3 + \dots + a_{nn}x_n = b_n \end{cases}$$

Sea Δ el determinante de la matriz de coeficientes:

$$\Delta = \begin{vmatrix} a_{11} & a_{12} & a_{13} & \dots & a_{1n} \\ a_{21} & a_{22} & a_{23} & \dots & a_{2n} \\ a_{n1} & a_{n2} & a_{n3} & \dots & a_{nn} \end{vmatrix}$$

Todo sistema de Cramer tiene una sola solución (es decir, es un sistema compatible determinado) que viene dada por estas expresiones:

$$x_1 = \frac{\Delta_1}{\Delta} \quad x_2 = \frac{\Delta_2}{\Delta} \quad x_3 = \frac{\Delta_3}{\Delta} \quad \dots \quad x_n = \frac{\Delta_n}{\Delta}$$

Ejemplo 6

Consideremos ahora este sistema de ecuaciones.

$$\begin{cases} x + y = 2 \\ x - y = 0 \end{cases}$$

Para poder resolverlo por el método de Cramer, hay que calcular el determinante del sistema. Como se trata de un sistema de dos ecuaciones con dos variables, calculamos su determinante así:

$$|A| = \begin{vmatrix} a_{11} & a_{12} \\ a_{21} & a_{22} \end{vmatrix} = a_{11} \cdot a_{22} - a_{21} \cdot a_{12}$$

Entonces, para este sistema de ecuaciones lineales, la matriz de los coeficientes es una matriz cuadrada.

$$|A| = \begin{vmatrix} 1 & 1 \\ 1 & -1 \end{vmatrix} = 1 \cdot (-1) - 1 \cdot (1) = -2$$

Como $-2 \neq 0$, por lo tanto, podemos aplicar la regla de Cramer para resolverlo.

Reemplazamos x por los valores independientes:

$$x = \frac{\begin{vmatrix} 1 & 1 \\ 1 & -1 \end{vmatrix}}{|A|} = \frac{2 \cdot (-1) - 0 \cdot 1}{-2} = \frac{-2}{-2} = 1$$

Reemplazamos y por los valores independientes:

$$y = \frac{\begin{vmatrix} 1 & 2 \\ 1 & 0 \end{vmatrix}}{|A|} = \frac{1 \cdot (0) - 1 \cdot 2}{-2} = \frac{-2}{-2} = 1$$

Por lo que, la solución al sistema planteado es: $x = 1$ y $y = 1$.

Trabajo individual

1. Resuelva por el método de Cramer y encuentre las soluciones de estos sistemas.

a. $\begin{cases} 5x - 6y = 3y - 4 \\ 4x - 2 + 3y = 5y - x + 1 \end{cases}$

b. $\begin{cases} y = 8 - 2x \\ y = 3x - 7 \end{cases}$

c. $\begin{cases} 3x + y = -8 \\ x = -7 \end{cases}$

2. Escriba la solución de cada sistema y compruebe que son soluciones sustituyéndolas en ambas ecuaciones.

1.3. Problemas de sistemas de ecuaciones

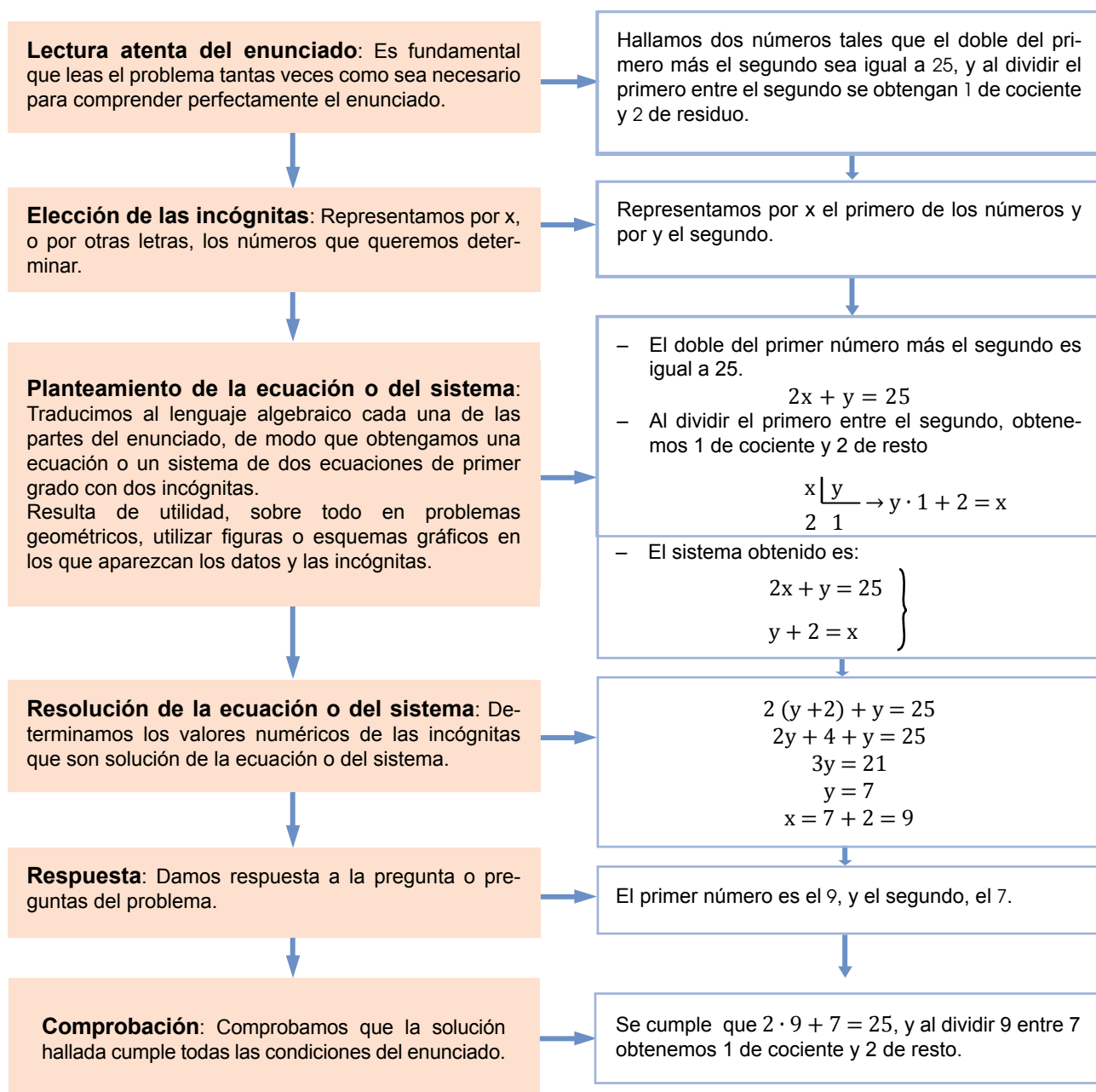
D.C.D. M.4.1.56. Resolver y plantear problemas de texto con enunciados que involucren funciones lineales y sistemas de dos ecuaciones lineales con dos incógnitas e interpretar y juzgar la validez de las soluciones obtenidas dentro del contexto del problema.

Problemas que se resuelven con sistemas de ecuaciones

Algunas veces, la resolución de un problema por métodos aritméticos puede resultar difícil. En estos casos, solemos utilizar letras para designar los datos desconocidos y traducir el enunciado al lenguaje algebraico, con lo que resolver el problema se reduce a encontrar la solución de una o dos ecuaciones.

En esta unidad, trataremos problemas que pueden resolverse mediante una ecuación de primer grado con una o dos incógnitas, o con un sistema de dos ecuaciones con dos incógnitas.

La resolución de estos problemas requiere seguir una serie de pasos. Observémoslos en este ejemplo y fijémonos en su relación con el método general de resolución de problemas que recordamos en el cuadro del margen.



Método general de resolución de problemas

Antes de abordar la resolución de un problema, debemos **entender el enunciado** y ser capaz de reescribirlo con nuestras propias palabras. Una vez que hayamos analizado el problema, tendremos que **elaborar un plan de resolución** y **resolverlo**.

Como último paso y antes de dar el problema por terminado, debemos **comprobar** que el resultado responde la pregunta inicial planteada, y que el proceso de resolución elegido es correcto.

Resolvamos este sistema.

$$\left. \begin{aligned} \frac{x-3}{4} + \frac{y-2}{5} &= 2x - 4 - y \\ \frac{x}{3} + \frac{y}{2} &= x - y + 1 \end{aligned} \right\}$$

Comprender

- Al leer el enunciado, advertimos que se trata de un sistema de dos ecuaciones de primer grado con dos incógnitas.

Planificar

Para resolver el sistema:

- Primero, aplicaremos las propiedades de las ecuaciones para transformar el sistema dado en otro equivalente que tenga la forma:

$$\left. \begin{aligned} ax + by &= c \\ a'x + b'y &= c' \end{aligned} \right\}$$

Siendo a, b, c, a', b' y c' números reales.

- A continuación, utilizaremos uno de los métodos algebraicos que hemos estudiado.

Ejecutar el plan

- Transformamos la primera ecuación. Empezamos por eliminar los paréntesis y los denominadores. Para ello, multiplicamos ambos miembros por el mcm.

$$\begin{aligned} \frac{x-3}{4} + \frac{y-2}{5} &= 2x - 4 - y \\ 20\left(\frac{x-3}{4} + \frac{y-2}{5}\right) &= 20(2x - 4 - y) \\ 5(x-3) + 4(y-2) &= 40x - 80 - 20y \\ 5x - 15 + 4y - 8 &= 40x - 80 - 20y \end{aligned}$$

- Transponemos términos.

$$5x - 40x + 4y + 20y = -80 + 15 + 8$$

- Reducimos términos semejantes.

$$-35x + 24y = -57$$

- Transformamos la segunda ecuación. En primer lugar, eliminamos los denominadores multiplicando por el mcm.

$$\begin{aligned} 6\left(\frac{x}{3} + \frac{y}{2}\right) &= 6(x - y + 1) \\ 2x + 3y &= 6x - 6y + 6 \end{aligned}$$

- Transponemos términos y reducimos términos semejantes.

$$= 2x - 6x + 3y + 6y = 6 \Leftrightarrow -4x + 9y = 6$$

- Escribimos el sistema obtenido, equivalente al del enunciado.

$$\left. \begin{aligned} -35x + 24y &= -57 \\ -4x + 9y &= 6 \end{aligned} \right\}$$

- Resolvemos el sistema aplicando el método de igualación. Despejamos y en cada una de las ecuaciones.

$$-35x + 24y = -57 \Rightarrow y = \frac{-57 + 35x}{24}$$

$$-4x + 9y = 6 \Rightarrow y = \frac{6 + 4x}{9}$$

- Igualamos las expresiones obtenidas y resolvemos la ecuación de primer grado resultante.

$$\begin{aligned} \frac{-57 + 35x}{24} &= \frac{6 + 4x}{9} && 73x = 219 \\ 72\left(\frac{-57 + 35x}{24}\right) &= 72\left(\frac{6 + 4x}{9}\right) && x = \frac{219}{73} \\ -171 + 105x &= 48 + 32x && x = 3 \\ 105x - 32x &= 48 + 171 && \end{aligned}$$

- Sustituimos el valor de x en la primera expresión en la que aparece despejada y :

$$y = \frac{-57 + 35 \cdot 3}{24} = \frac{-57 + 105}{24} = \frac{48}{24} = 2$$

- La solución del sistema es $x = 3$ y $y = 2$:

Revisión del resultado

Para comprobar que la solución obtenida es correcta, debemos sustituir los valores hallados de las incógnitas en cada una de las ecuaciones del sistema inicial y verificar que se cumplen.

1.4. Aplicaciones de los sistemas de inecuaciones lineales

D.C.D. M.4.1. 40,41. Resolver de manera geométrica una inecuación lineal con dos incógnitas y un sistema de inecuaciones lineales con dos incógnitas, estableciendo la relación e interpretación de los resultados obtenidos en el plano cartesiano para cada caso en relación con problemas prácticos.

Inecuaciones lineales con dos incógnitas

Observamos la desigualdad $x + y \leq 7$.

En este caso tenemos dos incógnitas x e y cuyo exponente máximo es 1. Se trata pues de una inecuación de primer grado con dos incógnitas.

Una inecuación de primer grado con dos incógnitas es equivalente a una inecuación de la forma:

$$ax + by < c$$

$$ax + by > c$$

$$ax + by \leq c$$

$$ax + by \geq c$$

Asignamos valores a x e y , y obtenemos esta tabla.

x	y	$\text{¿}x + y \leq 7\text{?}$
1	3	$1 + 3 \leq 7$
2	4	$2 + 4 \leq 7$
5	6	$5 + 6 \leq 7$

Fijémonos en que los pares de valores $x = 1, y = 3$ y $x = 2, y = 4$ verifican la desigualdad, mientras que el par $x = 5, y = 6$ no la cumple.

Así, los pares de valores $x = 1, y = 3$ y $x = 2, y = 4$ son soluciones de la inecuación planteada.

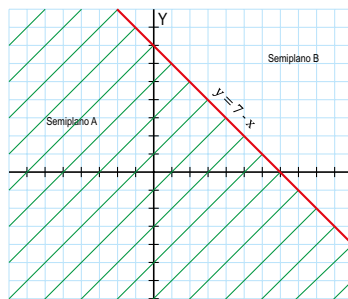
Representación gráfica de las soluciones

Consideramos la ecuación que resulta de sustituir el signo \leq en la inecuación $x + y \leq 7$ por el signo $=$.

$$x + y = 7$$

Se trata de una ecuación de primer grado con dos incógnitas.

La representación gráfica de las soluciones de esta ecuación es la recta de ecuación $x + y = 7$ o, lo que es lo mismo, $y = 7 - x$.



Esta recta divide el plano en dos semiplanos A y B, y los puntos contenidos en los semiplanos y la recta cumplirán estas propiedades:

- Las coordenadas (x, y) de los puntos del semiplano A cumplen:

$$y < 7 - x \Rightarrow x + y < 7$$

- Las coordenadas (x, y) de los puntos de la recta cumplen:

$$y = 7 - x \Rightarrow x + y = 7$$

- Las coordenadas (x, y) de los puntos del semiplano B cumplen:

$$y > 7 - x \Rightarrow x + y > 7$$

Por lo tanto, podemos afirmar que los puntos del semiplano A y los puntos de la recta representan gráficamente las soluciones de la inecuación $x + y \leq 7$. Así, las coordenadas de estos puntos permiten obtener las soluciones de la inecuación.

La representación gráfica de las soluciones de una inecuación de primer grado con dos incógnitas es un **semiplano**.

Para determinar el semiplano solución, tomamos un punto situado en uno de los semiplanos y comprobamos si sus coordenadas verifican la inecuación propuesta o no.

Si la verifican, las coordenadas de todos los puntos situados en el semiplano elegido serán los valores x e y , solución de la inecuación.

Si no la verifican, las soluciones serán los valores de x e y dados por las coordenadas de los puntos del otro semiplano.

Sistemas de inecuaciones lineales con dos incógnitas

Consideremos este sistema de inecuaciones:

$$\left. \begin{array}{l} 2x + y < 12 \\ x - y \geq 10 \end{array} \right\}$$

En él aparecen dos inecuaciones lineales con dos incógnitas.

Denominamos *sistema de inecuaciones lineales con dos incógnitas* a un conjunto de inecuaciones lineales con dos incógnitas cuyo conjunto solución debe verificarse en las inecuaciones simultáneamente.

De nuevo, para solucionar estos sistemas, resolveremos las inecuaciones que los constituyen por separado para, a continuación, buscar los puntos en común de las soluciones que hayamos encontrado.

Ejemplo 7

Resolvamos el siguiente sistema:

$$\left. \begin{array}{l} x + 2y < 2 \\ 2x - y > 4 \end{array} \right\}$$

Comprensión

Debemos determinar la intersección de los semiplanos que son solución de las inecuaciones del sistema.

Resolución

Para hallar las soluciones, en la primera inecuación:

Buscamos dos puntos que verifiquen la ecuación, por ejemplo, $[0, 1]$ y $[2, 0]$, y dibujamos la recta que pasa por ellos.

Escogemos un punto de uno de los semiplanos que determina la recta, por ejemplo, el $(0, 0)$, y lo sustituimos en la inecuación.

Como este punto verifica la inecuación, este semiplano será la solución de la primera inecuación.

Para hallar las soluciones, en la segunda inecuación:

Buscamos dos puntos que verifiquen la ecuación, por ejemplo, $[2, 0]$ y $[0, -4]$, y dibujamos la recta que pasa por ellos.

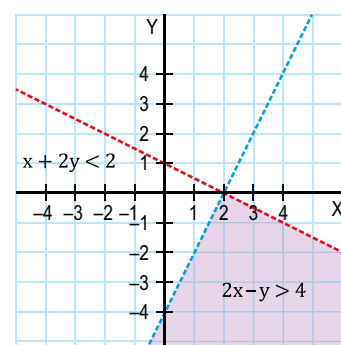
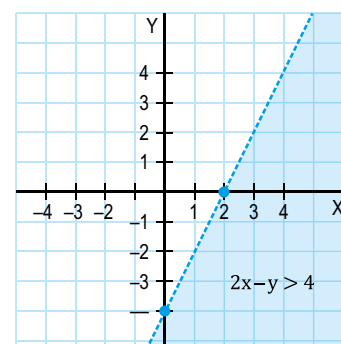
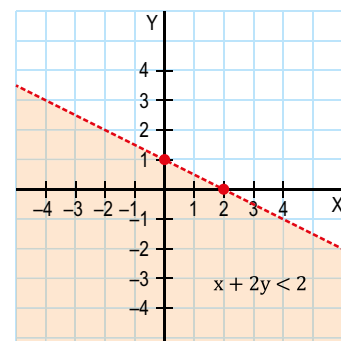
Escogemos un punto de uno de los semiplanos que determina la recta, por ejemplo, el $(0, 0)$, y lo sustituimos en la inecuación.

Como este punto no verifica la inecuación, la solución de esta será el otro semiplano.

La solución del sistema son los puntos que pertenecen a los dos semiplanos solución.

Comprobación

Sustituimos x e y en las inecuaciones por las coordenadas de puntos de la región solución, y veremos que verifican las desigualdades.



Mundo Digital

Las soluciones de estos sistemas serán las intersecciones entre los semiplanos solución de las inecuaciones con dos incógnitas que los constituyen.

Trabajo individual

- Una biblioteca tiene un presupuesto de \$600 para adquirir ejemplares de dos nuevas novelas que se han editado. Cada ejemplar de la primera cuesta \$25 y cada ejemplar de la segunda, \$30. ¿Cuántos ejemplares de cada novela podrá adquirir? Resuelva el problema en forma de sistema de inecuaciones, representélo gráficamente y escriba algunas soluciones enteras.

2. Funciones cuadráticas

2.1. Características de las funciones cuadráticas

D.C.D. M.4.1.57. Definir y reconocer una función cuadrática de manera algebraica y gráfica, determinando sus características: dominio, recorrido, monotonía, máximos, mínimos, paridad.

Función cuadrática y ecuación de segundo grado

Expondremos la noción de las ecuaciones de segundo grado o funciones cuadráticas. En general diremos que:

Una **ecuación de segundo grado** es aquella que tiene por expresión algebraica.

$$y = ax^2 + bx + c \quad (a \neq 0)$$

Su gráfica es una parábola cuyas características son:

- Es simétrica respecto de un eje, una recta paralela al eje OY que pasa por su vértice.
- Las ramas de la parábola están orientadas hacia arriba y su vértice es el punto cuya abscisa es el mínimo absoluto, si $a > 0$.
- Las ramas de la parábola están orientadas hacia abajo y su vértice es el punto cuya abscisa es el máximo absoluto, si $a < 0$.
- El dominio de la función cuadrática es la recta real.
- La función es continua en todo su dominio.
- El recorrido o rango de la función va desde su vértice hasta el infinito si $a > 0$, o desde el infinito negativo hasta el vértice si $a < 0$.

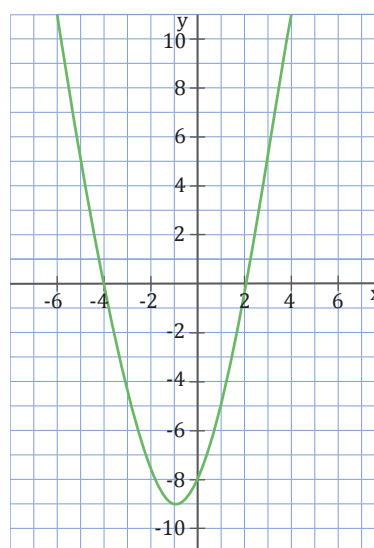
La representación gráfica de estas funciones es una curva que recibe el nombre de *parábola*.

Para dibujar la parábola que representa una ecuación cuadrática, es útil seguir este procedimiento:

- **Orientación de las ramas:** Si, $a > 0$, se abre hacia arriba; y, si $a < 0$, se abre hacia abajo.

- **Eje de simetría:** Es la recta $x = -\frac{b}{2a}$.
- **Vértice:** El valor de su abscisa viene dado por la ecuación del eje $x = -\frac{b}{2a}$.

Una vez que tenemos el valor de la abscisa, sustituimos este en la ecuación de la parábola y obtenemos el valor de la ordenada del vértice.



- Puntos de intersección con los ejes

Eje OY, $(0, c)$: Lo obtenemos para $x = 0$.

Eje OX, $(x, 0)$: Lo obtenemos para $y = 0$ al resolver la ecuación $ax^2 + bx + c = 0$.

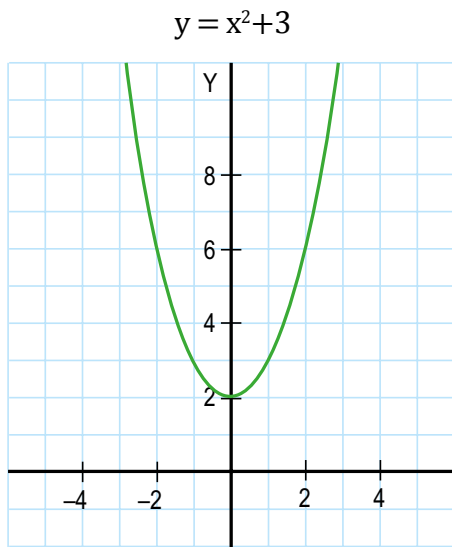
Si igualamos a 0 una función cuadrática, obtenemos una ecuación de segundo grado.

Hemos visto que las raíces o soluciones de dicha ecuación coinciden con los puntos de corte de la parábola que describe la función cuadrática con el eje OX.

Esto nos proporciona un método gráfico de resolución de ecuaciones de segundo grado, representando la parábola correspondiente y observando si corta al eje OX o no. Los valores donde se corta el gráfico con el eje x son las raíces de la ecuación de segundo grado.

Ahora analizaremos tres casos de distintas parábolas con su respectiva monotonía.

1. La parábola no corta al eje OX.



- La ecuación de segundo grado $y = x^2 + 3$ no tiene solución.
- Es simétrica respecto de un eje, es la recta $x = 0$ paralela al eje OY que pasa por su vértice.
- Las ramas de la parábola están orientadas hacia arriba y su vértice es el punto cuya abscisa es el mínimo absoluto .
- El dominio de la función cuadrática es la recta real.
- La función es continua en todo su dominio.
- El recorrido o rango de la función sería $(3, +\infty)$.
- La parábola cumple el criterio de paridad $f(-x) = f(x)$ para todo su dominio.

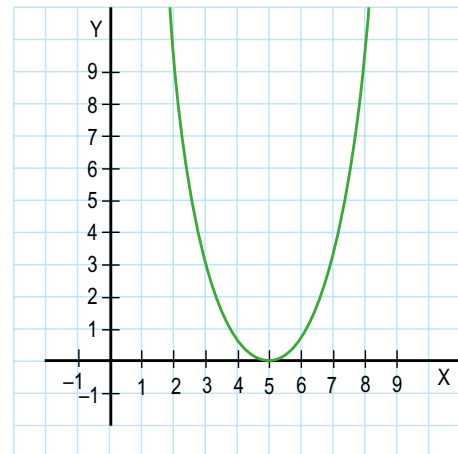
Desde la Ciencia

El movimiento parabólico gobierna sobre todos los objetos lanzados dentro del campo de gravedad de la Tierra.

Básicamente, en el campo del deporte, podremos notar los movimientos parabólicos, por ejemplo, un jugador de fútbol realiza un pase de largo.

2. La parábola corta el eje OX en un punto

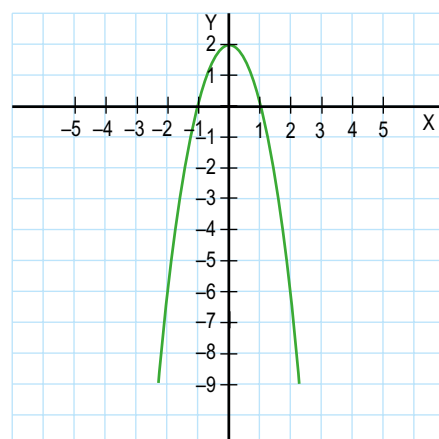
$$y = x^2 - 10x + 25$$



- La ecuación de segundo grado $y = x^2 - 10x + 25$ solo tiene una solución: $x = 5$.
- Es simétrica respecto de un eje, es la recta paralela al eje OY que pasa por su vértice.
- Las ramas de la parábola están orientadas hacia arriba y su vértice es el punto cuya abscisa es el mínimo absoluto $(5, 0)$.
- El dominio de la función cuadrática es la recta real.
- La función es continua en todo su dominio.
- El recorrido o rango de la función sería $(3, +\infty)$.
- La parábola no cumple el criterio de paridad $f(-x) = -f(x)$ para todo su dominio.

3. La parábola corta el eje OX en dos puntos.

$$y = -x^2 + 4$$



Ejemplo 8

Representamos la gráfica de la función cuadrática cuya expresión algebraica es $y = x^2 - 4x - 12$.

Los coeficientes de la función de segundo grado son: $a = 1$, $b = -4$ y $c = -12$.

- **Orientación de las ramas:** $a = 1 > 0$, las ramas de la parábola están orientadas hacia arriba.
- **Eje de simetría:** $x = -\frac{b}{2a} = -\frac{-4}{2} = 2$, luego es la recta $x = 2$.
- **Vértice:** Una vez tenemos el valor de su abscisa $x = 2$, dada por la ecuación del eje de simetría, lo sustituimos en la ecuación de la parábola y obtenemos el valor de la ordenada: $y = x^2 - 4x - 12$.
 $= 2^2 - 4 \cdot 2 - 12 = -16$
 Por tanto, las coordenadas del vértice son: $(2, -16)$.

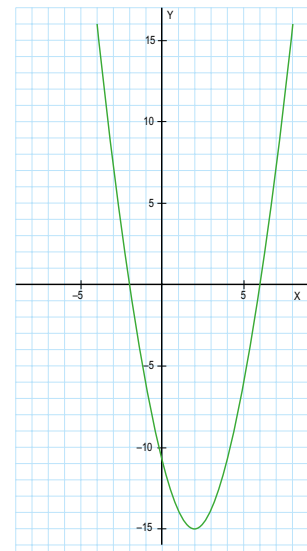
- **Puntos de corte**

Con el eje OY: Tomando $x = 0$ en la ecuación de la parábola, tenemos que: $y = -12$. Luego, el punto de corte con el eje OY es $(0, -12)$.

Con el eje OX: Considerando $y = 0$, y resolviendo la ecuación $x^2 - 4x - 12 = 0$, tenemos que

$x = 6$ y $x = -2$. Luego, los puntos de corte con OX son $(6, 0)$ y $(-2, 0)$.

Situamos el vértice y los puntos de corte y, a partir de ellos, podemos representar la gráfica.



$$\in \mathbb{R} f = -+ \neq (x)$$

Ejemplo 9

Posee estas características:

- El dominio de la función cuadrática es la recta real.
- La función es continua en todo su dominio.
- El recorrido o rango de la función sería $(-16, +\infty)$.
- La parábola no cumple el criterio de paridad $f(-x) = -f(x)$ para todo su dominio.

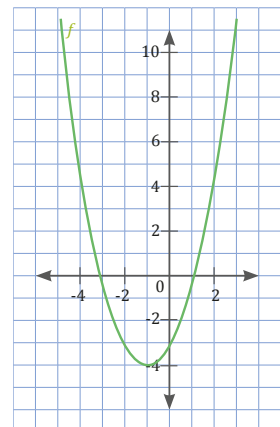
Representamos la gráfica y principales características de monotonía de la función cuadrática cuya representación algebraica es $y = x^2 + 2x - 3$.

Trabajando la función algebraicamente tenemos:

Los coeficientes de la función de segundo grado son: $a = 1$, $b = 2$ y $c = -3$.

- **Orientación de las ramas:** $a = 1 > 0$, las ramas de la parábola están orientadas hacia arriba.
- **Eje de simetría:** $y = -\frac{b}{2a} = -\frac{2}{2 \cdot 1} = -1$, luego es la recta $x = -1$.
- **Vértice:** Una vez tenemos el valor de su abscisa $x = -1$, dada por la ecuación del eje de simetría, lo sustituimos en la ecuación de la parábola y obtenemos el valor de la ordenada: $y = x^2 + 2x - 3$.
 $= (-1)^2 + 2 \cdot (-1) - 3 = 1 - 2 - 3 = -4$
 Por tanto, las coordenadas del vértice son: $(-1, -4)$.

Situamos el vértice y los puntos de corte $x = -3$ y $x = 1$, a partir de ellos, podemos representar la gráfica, las características de monotonía las analiza el lector.



Trabajo individual

1. Representar la gráfica y principales características de monotonía de estas funciones cuadráticas cuya representación algebraica es:

$$f(x) = x^2 + 3$$

$$g(x) = -x^2 - 5$$

$$h(x) = x^2 - 7x + 6$$

2.2. Completación de cuadrados

D.C.D. M.4.1.59. Resolver la ecuación de segundo grado con una incógnita de manera analítica (por factoro, completación de cuadrados, fórmula binomial) en la solución de problemas.

Para poder resolver ecuaciones de segundo grado con una incógnita de manera analítica, podemos emplear algunos métodos de resolución, entre ellos tenemos la factorización, completación de cuadrados y fórmula binomial. En esta sección nos centraremos en la completación de cuadrados.

El método de completar el cuadrado es utilizado cuando tenemos una ecuación que es difícil o imposible de factorizar. Lo que hace la completación de cuadrados es convertir un polinomio en un trinomio cuadrado perfecto, el mismo que sería más fácil de graficar y resolver.

Para completar el cuadrado partimos de la estrategia de ir creando un cuadrado, es decir tomamos algo que probablemente no sea un cuadrado y, a partir de eso, convertirlo en uno. Es decir, transformamos primero en un trinomio cuadrado perfecto, con el fin de «completar» la ecuación para crear un cuadrado de binomio y, de esa manera, poder despejar la incógnita X y obtener las raíces o soluciones de la ecuación.

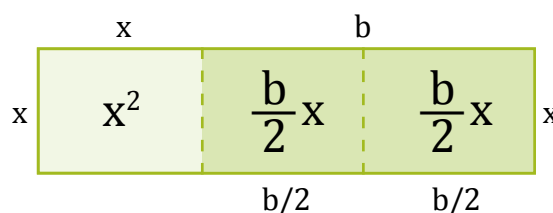
Siguiendo con el método expresado de la ecuación $x^2 + bx + c = 0$, la misma que, si enviamos al término c al lado derecho de la ecuación, nos quedaría como $x^2 + bx = -c$.

Entonces, a partir de ese principio, al lado izquierdo de la expresión $x^2 + bx = -c$ le está faltando un término para poder completar el trinomio cuadrado perfecto. El término faltante debe cumplir el requisito al extraer la raíz al primer y tercer términos. El producto de los dos términos obtenidos multiplicado por 2 nos da el trinomio cuadrado perfecto.

Para que cumpla el requisito expuesto, el término deberemos dividir para 2 y elevarlo al cuadrado, es decir $\left(\frac{b}{2}\right)^2$. Resolviendo el cuadrado obtendríamos $\frac{b^2}{4}$.

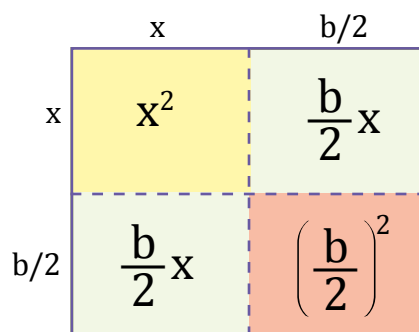
Siguiendo con el esquema de la explica-

ción, podemos tener cualquier expresión y completar el cuadrado que falta para la resolución. Gráficamente vamos a ilustrar la expresión $x^2 + bx$, representada por un rectángulo cuyo lado menor tiene de medida x y el lado mayor es igual a $x + b$. Obtenemos este gráfico:



La expresión $x^2 + bx$ claramente expresada en la página anterior no representa un cuadrado perfecto, más bien corresponde a un rectángulo, la estrategia de completar el trinomio cuadrado perfecto parte de ese gráfico.

Reubicamos o cambiamos de posición cada parte del rectángulo de modo que se logre realizar un cuadrado perfecto; entonces, obtenemos este gráfico:



Los rectángulos de la figura de la página anterior ahora forman un cuadrado más un cuadrado adicional de color rojo para que sea un cuadrado perfecto, ese correspondería al cuadrado cuya área es $\left(\frac{b}{2}\right)^2$. Por lo tanto, hemos completado el cuadrado.

Al sumar $\left(\frac{b}{2}\right)^2$ al binomio original planteado $x^2 + bx$, hemos creado un cuadrado con lados $x + \frac{b}{2}$.

Hay que tomar en cuenta que al área del cuadrado que hemos creado la podemos expresar como la suma de todas las áreas obtenidas de sus cuadrados interiores. Así tenemos:

$$\begin{aligned}
 &= x^2 + \frac{b}{2}x + \frac{b}{2}x + \left(\frac{b}{2}\right)^2 \\
 &= x^2 + 2\left(\frac{b}{2}x\right) + \left(\frac{b}{2}\right)^2 = \left(x + \frac{b}{2}\right)^2
 \end{aligned}$$

Ahora apliquemos a un ejemplo práctico la completación de cuadrados.

Dada la función cuadrática, encontremos las raíces de la ecuación, la gráfica y las características principales:

$$f(x) = x^2 - 4x + 4$$

Como el ejemplo nos pide las raíces de la ecuación, lo que nos está pidiendo no es otra cosa que las intersecciones con eje X, donde la gráfica cruza con el eje X. Esto es el valor de y para cualquier punto en el eje X sea cero. Entonces, lo que debemos hacer es igualar la función a cero $f(x) = 0$.

$$\begin{aligned}
 f(x) &= 0 \\
 x^2 - 4x + 4 &= 0
 \end{aligned}$$

Ahora, procedemos a reescribir la ecuación de lado izquierdo de modo que obtenga la forma $x^2 + bx$, para proceder a prepararla para completar el cuadrado.

$$x^2 - 4x = -4$$

Como lo demostramos anteriormente, lo que vamos a sumar para completar el cuadrado es la expresión $\left(\frac{b}{2}\right)^2$. Como se trata de una ecuación por criterio de igualdad, lo que hacemos de un lado de la expresión, también debemos hacer al otro lado de la expresión. Entonces nos quedaría:

$$x^2 - 4x + \left(\frac{b}{2}\right)^2 = -4 + \left(\frac{b}{2}\right)^2$$

Conocemos que el valor de b de la expresión es igual a -4 , por lo que nos resulta:

$$x^2 - 4x + \left(\frac{-4}{2}\right)^2 = -4 + \left(\frac{-4}{2}\right)^2$$

$$x^2 - 4x + 4 = -4 + 4$$

$$x^2 - 4x + 4 = 0$$

Factorizamos el lado izquierdo de la ecuación como un binomio elevado al cuadrado.

$$(x - 2)^2 = 0$$

A partir de esta igualdad, despejamos la variable x. Para eso, debemos sacar la raíz cuadrada de ambos lados. Trabajamos con las dos raíces: la positiva y la negativa

$$x - 2 = \sqrt{0} \quad \text{o} \quad x - 2 = -\sqrt{0}$$

$$x_1 = 2 + \sqrt{0} \quad x_2 = 2 - \sqrt{0}$$

$$\sqrt{(x-2)^2} = \sqrt{0}$$

$$x - 2 = \pm \sqrt{0}$$

Hemos encontrado las raíces de la función cuadrática por medio de completación de cuadrados. A su vez, estas raíces son solución de la ecuación. Ahora debemos graficar y encontrar las características principales.

Para graficar, debemos encontrar el vértice de la función y su concavidad; así, el valor de a , por lo que le hace cóncava hacia arriba. Su vértice sería:

$$\text{SI } f(x) = x^2 - 4x + 4$$

$$V_x = -\frac{b}{2a}$$

$$a = 1, b = -4, c = 4$$

$$V_x = -\frac{-4}{2(1)} = 2$$

Encontramos la coordenada del vértice Y evaluando el vértice de coordenada en X en la respectiva función, es decir: $V_y = f\left(-\frac{b}{2a}\right)$.

Así, tenemos:

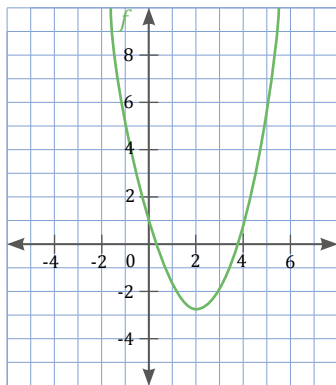
$$f(2) = (2)^2 - 4(2) + 4$$

$$= 4 - 8 + 4$$

$$= 0$$

Entonces, su vértice sería: $V: (2, 0)$.

La gráfica con toda la información obtenida es:



De acuerdo con la gráfica, tenemos que su dominio y rango respectivamente serían:

$$\text{dom} f = \mathbb{R}$$

$$\text{rg } f = (-5 + \infty)$$

En el ejemplo anterior trabajamos con una ecuación cuyo coeficiente en el término cuadrático es la unidad. El proceso es similar cuando trabajamos con un número distinto de la 1. Debemos tener en cuenta que hay que dividir a toda la ecuación para este término antes de completar el cuadrado. Trabajaremos un ejemplo para mejor explicación:

Dada la función cuadrática, encontremos las raíces de la ecuación, la gráfica y las características principales:

$$f(x) = 2x^2 + 12x - 16$$

Tomando en cuenta que se trata de un coeficiente del término cuadrático, procedemos a dividir para dicho término la ecuación.

$$\frac{(2x^2 + 12x - 16 = 0)}{2}$$

$$\frac{2(x^2 + 6x - 8 = 0)}{2}$$

$$x^2 + 6x - 8 = 0$$

Ahora procedemos a reescribir la ecuación de lado izquierdo de modo que obtenga la forma $x^2 + bx$, para proceder a prepararla para completar el cuadrado.

$$x^2 + 6x = 8$$

El término para completar el cuadrado sería:

$$\left(\frac{b}{2}\right)^2 = 3^2 = 9$$

Sumamos a ambos lados de la ecuación el valor a completar.

$$x^2 + 6x + (3)^2 = 8 + 9$$

Escribimos el lado izquierdo como un binomio cuadrado y tenemos:

$$(x + 3)^2 = 17$$

Sacamos las raíces cuadradas tomando en cuenta las alternativas positivas y negativas:

$$\sqrt{(x + 3)^2} = \sqrt{17}$$

$$x + 3 = \pm \sqrt{17}$$

$$x + 3 = \sqrt{17} \quad \text{o} \quad x + 3 = -\sqrt{17}$$

$$x_1 = -2 + \sqrt{17} \quad \text{o} \quad x_2 = -2 - \sqrt{17}$$

Una vez que encontramos las raíces, procedemos a graficar la función, tomando en cuenta su vértice y concavidad, así el valor de a por lo que le hace cóncava hacia arriba. Su vértice sería:

$$\text{Si } f(x) = 2x^2 + 12x - 16$$

$$V_x = -\frac{b}{2(1)}$$

$$a = 2, b = 12, c = -16$$

$$V_x = -\frac{12}{2(2)} = -3$$

Encontramos la coordenada del vértice Y evaluando el vértice de coordenada en X en la respectiva función, es decir: $V_y = f\left(-\frac{b}{2a}\right)$

Así, tenemos:

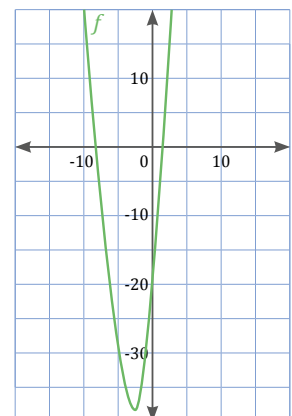
$$f(-3) = 2(-3)^2 + 12(-3) - 16$$

$$= 2(9) - 36 - 16$$

$$= -38$$

Entonces, su vértice sería: $V: (-3, -38)$.

La gráfica con toda la información obtenida es:



De acuerdo con la gráfica tenemos que su dominio y rango respectivamente serían:

$$\text{dom} f = \mathbb{R}$$

$$\text{rg } f = (-38, +\infty)$$

Dada la función cuadrática, hallemos las raíces de la ecuación, la gráfica y las características principales:

$$f(x) = 2x^2 - 8x + 2$$

Tomando en cuenta de que se trata de un coeficiente del término cuadrático, procedemos a dividir para dicho término la ecuación.

$$\frac{(2x^2 - 8x + 2 = 0)}{2}$$

$$\frac{2(x^2 - 4x + 1 = 0)}{2}$$

$$x^2 - 4x + 1 = 0$$

Ahora procedemos a reescribir la ecuación del lado izquierdo, de modo que obtenga la forma $x^2 + bx$, para proceder a prepararla para completar el cuadrado.

$$x^2 - 4x = -1$$

El término para completar el cuadrado sería:

$$\left(\frac{4}{2}\right)^2 = 2^2 = 4$$

Sumamos a ambos lados de la ecuación el valor a completar.

$$x^2 - 4x + (2)^2 = -1 + 4$$

Escribimos el lado izquierdo como un binomio cuadrado y tenemos:

$$(x - 2)^2 = 3$$

Sacamos las raíces cuadradas tomando en cuenta las alternativas positivas y negativas:

$$\sqrt{(x - 2)^2} = \sqrt{3}$$

$$x - 2 = \pm \sqrt{3}$$

$$x - 2 = \sqrt{3} \quad \text{o} \quad x - 2 = -\sqrt{3}$$

$$x_1 = -2 + \sqrt{3} \quad \text{o} \quad x_2 = -2 - \sqrt{3}$$

Una vez que encontramos las raíces, procedemos a graficar la función, tomando en cuenta su vértice y concavidad, así, el valor de $a > 0$, por lo que le hace cóncava hacia arriba. Su vértice sería:

$$\text{Si } f(x) = 2x^2 - 8x + 2$$

$$V_x = -\frac{b}{2(a)}$$

$$a = 2, b = -8, c = 2$$

$$V_x = -\frac{-8}{2(2)} = 2$$

La coordenada del vértice Y la encontramos evaluando el vértice de coordenada en X en la respectiva función, es decir: $V_y = f\left(-\frac{b}{2a}\right)$

Así, tenemos:

$$f(2) = 2(2)^2 - 8(2) + 2$$

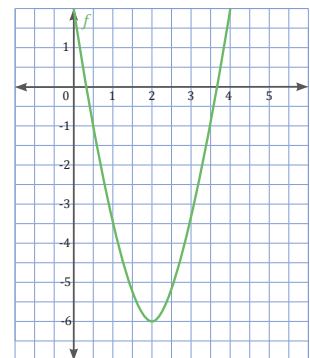
$$= 2(4) - 16 + 2$$

$$= -6$$

Entonces su vértice sería: $V: (2, -6)$.

La gráfica con toda la información obtenida es:

De acuerdo con la gráfica tenemos que su dominio y rango respectivamente sería.



$$\text{dom } f = \mathbb{R}$$

$$\text{rg } f = [-6, +\infty)$$

Dada la función cuadrática, hallemos las raíces de la ecuación, la gráfica y las características principales:

$$f(x) = -2x^2 - 4x - 1$$

Tomando en cuenta de que se trata de un coeficiente del término cuadrático, procedemos a dividir para dicho término la ecuación.

$$\frac{(-2x^2 - 4x - 1 = 0)}{2}$$

$$\frac{-2\left(x^2 + 2x + \frac{1}{2} = 0\right)}{2}$$

$$x^2 + 2x + \frac{1}{2} = 0$$

Ahora procedemos a reescribir la ecuación de lado izquierdo de modo que obtenga la forma $x^2 + bx$, para proceder a prepararla para completar el cuadrado.

$$x^2 + 2x - \frac{1}{2}$$

El término para completar el cuadrado sería:

$$\left(\frac{2}{2}\right)^2 = 1^2 = 1$$

Sumamos a ambos lados de la ecuación el valor a completar.

$$x^2 - 4x + (1)^2 = -\frac{1}{2} + 1$$

Escribimos el lado izquierdo como un binomio cuadrado y tenemos:

$$(x - 1)^2 = \frac{1}{2}$$

Sacamos las raíces cuadradas tomando en cuenta las alternativas positivas y negativas:

$$\sqrt{(x-1)^2} = \sqrt{\frac{1}{2}}$$

$$x - 1 = \pm \sqrt{\frac{1}{2}}$$

$$x - 1 = \sqrt{\frac{1}{2}} \quad \text{o} \quad x - 2 = -\sqrt{\frac{1}{2}}$$

$$x_1 = 1 + \sqrt{\frac{1}{2}} \quad \text{o} \quad x_2 = 1 - \sqrt{\frac{1}{2}}$$

Una vez que encontramos las raíces procedemos a graficar la función, tomando en cuenta su vértice y concavidad, así el valor de a , por lo que le hace cóncava hacia abajo. Su vértice sería:

$$\text{Si } f(x) = -2x^2 - 4x - 1$$

$$V_x = -\frac{b}{2(a)}$$

$$a = -2, b = -4, c = -1$$

$$V_x = -\frac{-4}{2(-2)} = -1$$

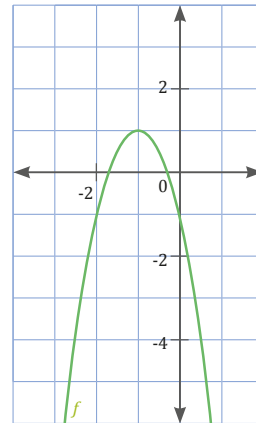
Encontramos la coordenada del vértice Y evaluando el vértice de coordenada en X en la respectiva función, es decir: $V_y = f\left(-\frac{b}{2a}\right)$

Así, tenemos:

$$\begin{aligned} f(2) &= -2(-1)^2 - 4(-1) - 1 \\ &= -2(1) + 4 - 1 \\ &= 1 \end{aligned}$$

Entonces su vértice sería: $V: (-1, 1)$.

La gráfica con toda la información obtenida es:



De acuerdo con la gráfica tenemos que su dominio y rango respectivamente serían:

$$\begin{aligned} \text{dom } f &= \mathbb{R} \\ \text{rg } f &= (-\infty, 1] \end{aligned}$$

Trabajo individual

1. Dada la función cuadrática, encuentre las raíces de la ecuación, la gráfica y las características principales:

a. $f(x) = 3x^2 + 6x$

b. $g(x) = -2x^2 - 7 + 5$

2. Halla las coordenadas del vértice, el eje de simetría y los puntos de corte con los ejes de coordenadas de las siguientes parábolas sin representarlas gráficamente.

a. $y = x^2 - x$

b. $y = x^2 + 3$

c. $y = -x^2 - 2x + 6$

3. Representa gráficamente las siguientes funciones de segundo grado, e indica, si es el caso, las soluciones de las ecuaciones de segundo grado correspondientes.

a. $y = -3x^2 + 6x$

b. $y = x^2$

c. $y = x^2 + 3x + 6$

2.3. Raíces de la función cuadrática

DCD: M.4.1.60. Aplicar las propiedades de las raíces de la ecuación de segundo grado con una incógnita para resolver problemas.

Haremos un breve repaso de la función cuadrática, para ello recordaremos que:

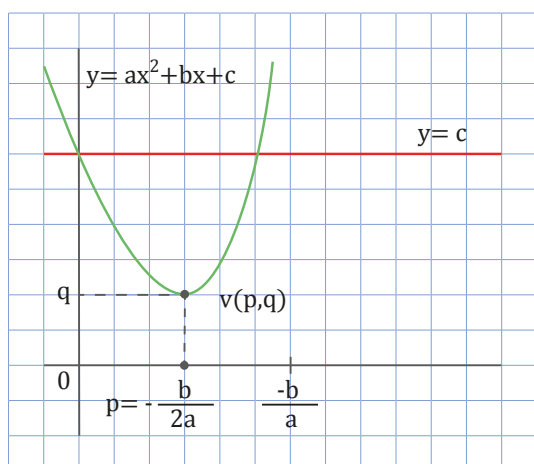
Elementos de la parábola

A continuación, mostraremos cómo podemos obtener analíticamente los elementos más característicos de la parábola, que resulta de representar gráficamente una función cuadrática, cuya expresión algebraica es:

$$y = f(x) = a x^2 + b x + c$$

Coordenadas del vértice

Observa la figura.



Los puntos en que la parábola $y = a x^2 + b x + c$ corta a la recta $y = c$, los obtenemos resolviendo el siguiente sistema.

$$\begin{cases} y = ax^2 + bx + c \\ y = c \end{cases}$$

Podemos simplificar: $ax^2 + bx = 0 \Rightarrow x = 0$, $x = -\frac{b}{a}$.

Por simetría, observamos que la abscisa del vértice es el punto medio p .

$$p = \frac{0 + \left(-\frac{b}{a}\right)}{2} = -\frac{b}{2a}$$

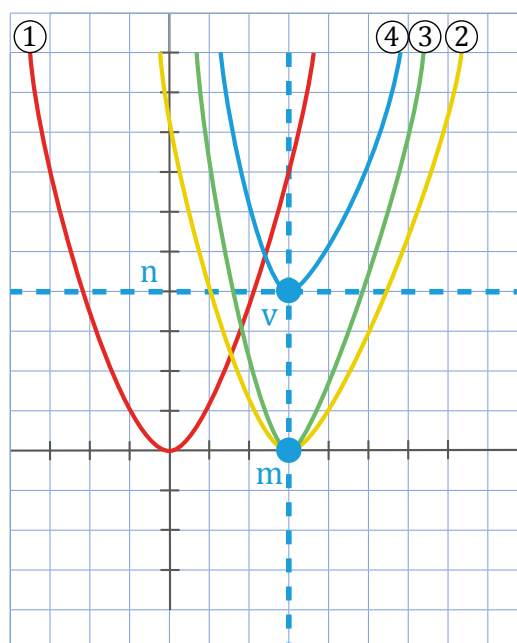
Así pues, la abscisa del vértice, que coincide con la ecuación del eje de la parábola, es:

$$x = -\frac{b}{2a}$$

Una vez obtenido el valor de la abscisa, lo sustituimos en la ecuación de la parábola para hallar el correspondiente valor de la ordenada del vértice; $q = f\left(-\frac{b}{2a}\right)$.

Observa, en la siguiente figura, las transformaciones llevadas a cabo para la parábola

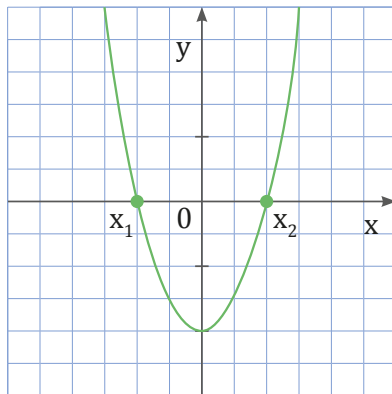
$$y = x^2$$



Ecuación	Vértice
1. $y = x^2$	$(0, 0)$
2. $y = (x - m)^2$	$(m, 0)$
3. $y = a(x - m)^2$	$(m, 0)$
4. $y = a(x - m)^2 + n$	(m, n)
$a = k$	

Puntos de corte con el eje OX

Observa la figura.



Los puntos de corte de la parábola con el eje OX son los puntos de coordenadas

(x, y) cuando $y = 0$. Además, sabemos que:

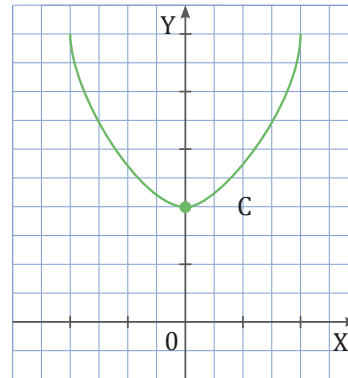
$$y = ax^2 + bx + c = 0 \Rightarrow x = 0 \Leftrightarrow x = \frac{-b \pm \sqrt{b^2 - 4ac}}{2a}$$

Así, las coordenadas de los puntos de corte con el eje OX son de la forma $(x, 0)$, en los que el valor de x viene dado por las soluciones de la ecuación $ax^2 + bx + c = 0$.

Recuerda que si el discriminante ($b^2 - 4ac$) de la ecuación de segundo grado es negativo, la ecuación no tiene solución y, por tanto, la parábola no corta el eje OX.

Punto de corte con el eje OY

Observa la figura.



El punto de corte de la parábola con el eje OY es el punto de coordenadas (x, y) cuando $x = 0$.

$$x = 0 \rightarrow y = a \cdot 0^2 + b \cdot 0 + c = c$$

Por lo tanto, el punto de corte es el de coordenadas $(0, c)$.

Encontremos las coordenadas de los puntos de corte con los ejes de la parábola

$$y = x^2 + 6x - 1.$$

Calculamos los puntos de corte con el eje OX. $y = 0$

$x^2 + 6x - 1 = 0 \Rightarrow$ aplicando la fórmula cuadrática:

$$x = \frac{-b \pm \sqrt{b^2 - 4ac}}{2a} = \frac{-6 \pm \sqrt{36 - 4 \cdot 1 \cdot (-1)}}{2 \cdot 1} = \frac{-6 \pm \sqrt{36 + 4}}{2}$$

$$x_1 = \frac{-6 + \sqrt{40}}{2} = 0,16 \quad x_2 = \frac{-6 - \sqrt{40}}{2} = -6,16$$

$$x_1 = 0,16 \quad ; \quad x_2 = -6,16$$

La parábola corta el eje OX en los puntos $(0,16, 0)$ y $(-6,16, 0)$.

Calculamos los puntos de corte con el eje OY.

Cuando $x = 0 \rightarrow y = -1$

La parábola corta el eje OY en el punto $(0, -1)$.

Ejemplo 10

Representación de la parábola

Veamos cómo podemos representar una parábola a partir de sus elementos característicos.

Para hacerlo, observaremos si las ramas de la parábola están orientadas hacia arriba o hacia abajo, obtendremos las coordenadas del vértice, la ecuación del eje y, en caso de que corte los ejes, calcularemos las coordenadas de estos puntos de corte.

Ejemplo 11

Representemos la gráfica de la función cuadrática cuya expresión algebraica es $y = -x^2 - 2$.

—Escribimos los coeficientes a , b y c :

$$a = -1, b = 0 \text{ y } c = -2.$$

—Observamos la orientación de las ramas de la parábola: como $a = -1 < 0$, las ramas de la parábola están orientadas hacia abajo.

—Calculamos la abscisa del vértice, que coincide con la ecuación del eje.

$$x = \frac{-b}{2a} = \frac{0}{2 \cdot (-1)} = 0$$

—Sustituimos el valor de la abscisa en la ecuación de la parábola para calcular la ordenada del vértice.

$$y = -x^2 - 2 = -0^2 - 2 = -2$$

Así pues, las coordenadas del vértice son: $V(0, -2)$.

Observemos que la recta $x = 0$ es el eje OY . Así, al representar la parábola, hemos de tener presente que es simétrica respecto del eje OY .

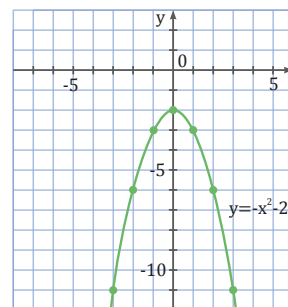
—Calculamos los puntos de corte con el eje OX que son los de la forma (x, y) , tales que $y = 0$:

$y = 0 \Leftrightarrow -x^2 - 2 = 0$. El discriminante de esta ecuación es $b^2 - 4ac = -8 < 0$; por lo tanto, la ecuación no tiene solución. Así, la parábola no corta el eje OX .

—Calculamos el punto de corte con el eje OY , que es el de la forma (x, y) tal que $x = 0$: $x = 0 \Rightarrow y = -0^2 - 2 = -2$. Así, este punto es el $(0, -2)$.

Observemos que solo hemos obtenido el punto $(0, -2)$. Por ello, para representar la gráfica, calculamos las coordenadas de más puntos. Basta con calcular las coordenadas de puntos de abscisa positiva, ya que la gráfica es simétrica respecto al eje OY .

x	1	2	3
y	-3	-6	-11



Ejemplo 12

Representemos la gráfica de la función cuadrática cuya expresión algebraica es $y = x^2 + 2x$.

—Escribimos los coeficientes a , b y c :

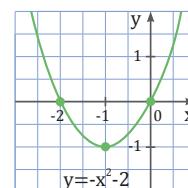
$$a = 1, b = 2 \text{ y } c = 0.$$

—Calculamos los puntos de corte con el eje OX que son los de la forma (x, y) , tales que $y = 0$: $y = 0 \Leftrightarrow x^2 + 2x = 0 \Leftrightarrow x = 0 \vee x = -2$. Así, la parábola corta el eje OX en los puntos $(0, 0)$ y $(-2, 0)$.

—Calculamos el punto de corte con el eje OY , que es el de la forma (x, y) tal que $x = 0$: $x = 0 \Rightarrow y = 0^2 + 2 \cdot 0 = 0$.

Así, este punto es el $(0, 0)$. Hemos obtenido el eje y y tres puntos de la parábola.

A partir de estos datos, representamos la gráfica.



Tipos de funciones cuadráticas

Según su expresión algebraica, existen diferentes tipos de funciones cuadráticas.

Una función cuadrática es una expresión algebraica de la forma $y = ax^2 + bx + c$ donde $a \neq 0$. Observa la siguiente tabla en la que se muestran las distintas expresiones algebraicas obtenidas a partir de los valores de los coeficientes a , b y c .

Valores de los coeficientes		Expresión algebraica
$b = 0$	$c = 0$	$y = ax^2$
	$c \neq 0$	$y = ax^2 + c$
$b \neq 0$	$c = 0$	$y = ax^2 + bx$
	$c \neq 0$	$y = ax^2 + bx + c$

Si consideramos diferentes funciones, como pueden ser:

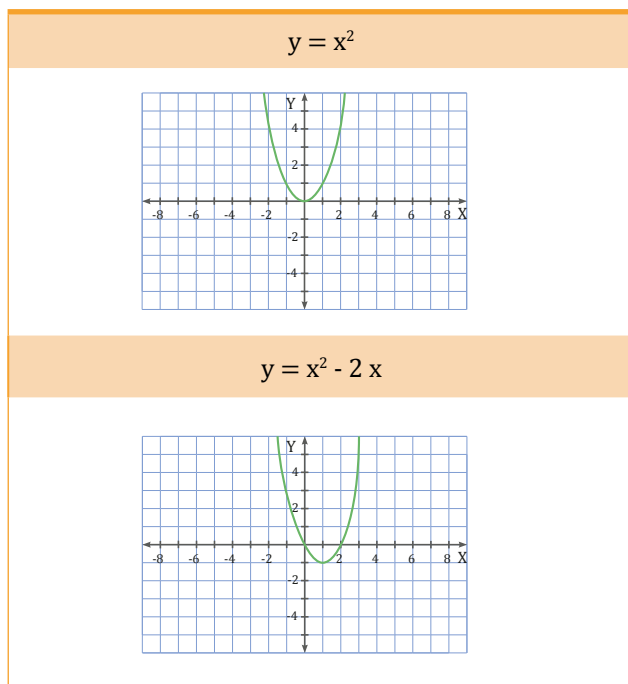
$$y = x^2$$

$$y = x^2 - 4$$

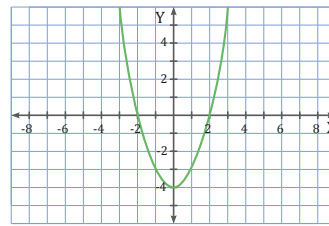
$$y = x^2 - 2x$$

$$y = x^2 - 2x - 3$$

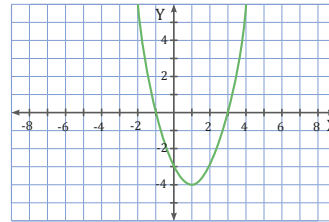
y las representamos gráficamente, observamos que cada expresión algebraica corresponde a una parábola diferente.



$$y = x^2 - 4$$



$$y = x^2 - 2x - 3$$



Trabajo colaborativo

1. Reúnete con tus compañeros y resuelvan el ejercicio.

Queremos enmarcar varias ventanas cuadradas de diferentes dimensiones. El material necesario para construir el marco cuesta \$ 3/dm.

- a. ¿Cuánto costará enmarcar una ventana de 1 m de lado? ¿Y una ventana de 1,5 m de lado?
- b. ¿Existe alguna relación de dependencia entre la longitud del lado y el precio del marco? ¿Se trata de una función?

Trabajo individual

1. Clasifica cada una de estas funciones, según su expresión algebraica, y lleva a cabo su representación gráfica:
 - a. $y = 2x^2$
 - b. $y = -x^2 + 3x - 5$
 - c. $y = -x^2 + 3$
 - d. $y = 3x^2 + 2x$

Cuando hablamos de los ceros reales de una función cuadrática f vienen a ser las soluciones reales en caso que existan, de la ecuación $f(x)=0$, en donde gráficamente vienen a representar las intersecciones de la función cuadrática f con eje x .

Hay que tener en cuenta la importancia que tienen los ceros en una función de una variable real, sobre todo al momento de construir la gráfica una función cuadrática. Para encontrar los ceros, uno de los métodos más utilizados es la factorización.

Efectuamos la factorización completa de la función f , entonces resolvemos la ecuación $f(x)=0$ en donde localizaríamos las intersecciones con el eje x . De manera general estos valores encontrados se denominan *cero* o *raíz de la función cuadrática*. Por lo tanto, los ceros reales de la función cuadrática son las intersecciones de su gráfica con el eje X .

Así, en una función cuadrática, en caso de que existan ceros, son claramente los puntos de corte de la función y a su vez la solución.

Vamos a encontrar los ceros, la gráfica y las características principales de esta función cuadrática:

$$f(x) = x^2 - x - 2$$

En primer lugar igualamos la función a cero: $f(x)=0$.

Una vez igualada a cero, procedemos con la factorización y resolución como si se tratara de una ecuación cuadrática.

$$x^2 - x - 2 = 0$$

$$(x-2)(x+2) = 0$$

$$(x-2) = 0 \text{ o } (x+1) = 0$$

$$x = 2 \text{ o } x = -1$$

Al momento de obtener las raíces de la función que a su vez son solución de la ecuación cuadrática, la función cumple que $f(x)=0$. Conociendo el vértice de la función y la concavidad podemos esbozar la gráfica y describir las características principales.

Así, el valor de $a > 0$, por lo que es cóncava hacia arriba. Entonces, encontraríamos su vértice así:

$$V_x = -\frac{b}{2a}$$

Identificamos los respectivos valores de a, b, c .

$$a = 1, b = -1, c = -2$$

Entonces su vértice en X sería.

$$V_x = -\frac{b}{2a} = -\frac{-1}{2(1)} = -\frac{1}{2}$$

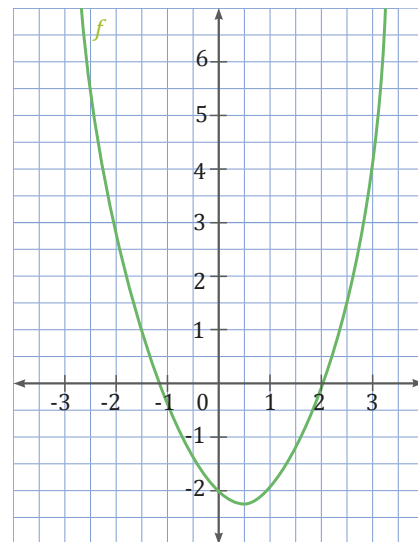
Encontramos la coordenada del vértice Y evaluando el vértice de coordenada en X en la respectiva función, es decir: $V_y = f\left(-\frac{b}{2a}\right)$

Así, tenemos:

$$\begin{aligned} f\left(\frac{1}{2}\right) &= \left(\frac{1}{2}\right)^2 - \frac{1}{2} - 2 = \frac{1-2-8}{4} \\ &= \frac{1}{4} - \frac{1}{2} - 2 = \frac{-9}{4} \end{aligned}$$

Entonces, su vértice sería: $V:\left(\frac{1}{2}, -\frac{9}{4}\right)$.

Y su gráfica con toda la información obtenida es:



De acuerdo con la gráfica presentada, tenemos que su dominio y rango respectivamente serían:

$$\begin{aligned} \text{dom} f &= \mathbb{R} \\ \text{rg } f &= \left[-\frac{9}{4}, +\infty\right) \end{aligned}$$

Ahora vamos a encontrar los ceros, la gráfica y las características principales de esta función cuadrática:

$$f(x) = -x^2 + x + 2$$

Siguiendo con el proceso tenemos que igualar la función a cero: $f(x) = 0$.

Con esa condición procedemos a la resolución de la ecuación cuadrática y la factorización.

$$\begin{aligned} -x^2 + x + 2 &= 0 \\ (-x^2 + x + 2 = 0) \cdot (-1) \\ x^2 - x - 2 &= 0 \\ (x - 2)(x + 1) &= 0 \\ (x - 2) = 0 \text{ o } (x + 1) &= 0 \\ x = 2 \text{ o } x = -1 \end{aligned}$$

Conocemos las raíces de la función y son solución de la ecuación cuadrática, la función cumple que $f(x) = 0$. Conociendo el vértice de la función y la concavidad podemos esbozar la gráfica y describir las características principales.

Así, el valor de a , por lo que es cóncava hacia abajo. Entonces, encontraríamos su vértice así:

$$V_x = -\frac{b}{2a}$$

Identificamos los respectivos valores de a , b , c .

$$a = -1, b = 1, c = 2$$

Entonces su vértice en X sería.

$$V_x = -\frac{b}{2a} = -\frac{1}{2(-1)} = \frac{1}{2}$$

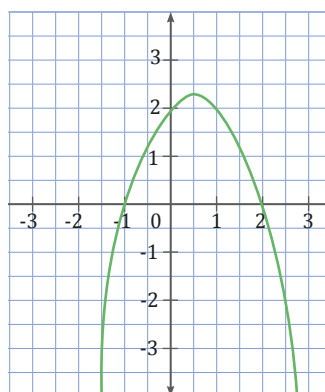
Encontramos la coordenada del vértice Y evaluando el vértice de coordenada en X en la respectiva función, es decir: $V_y = f\left(-\frac{b}{2a}\right)$

Así, tenemos:

$$\begin{aligned} f\left(\frac{1}{2}\right) &= \left(\frac{1}{2}\right)^2 + \frac{1}{2} + 2 = \frac{-1+2+8}{4} \\ &= \frac{1}{4} + \frac{1}{2} + 2 = \frac{9}{4} \end{aligned}$$

Entonces, su vértice sería: $V:\left(\frac{1}{2}, \frac{9}{4}\right)$

Y su gráfica con toda la información obtenida es:



De acuerdo con la gráfica presentada, tenemos que su dominio y rango respectivamente serían:

$$\begin{aligned} \text{dom} f &= \mathbb{R} \\ \text{rg } f &= \left(-\infty, \frac{9}{4}\right) \end{aligned}$$

Ejemplo

Encontremos los ceros, la gráfica, y las características principales de esta función cuadrática:

$$f(x) = -3x^2 + 6x$$

Siguiendo con el proceso, tenemos que igualar la función a cero: $f(x) = 0$.

Con esa condición procedemos a la resolución de la ecuación cuadrática y la factorización.

$$\begin{aligned} -3x^2 + 6x &= 0 \\ (-3x^2 + 6x = 0) \cdot (-1) \\ 3x^2 - 6 &= 0 \\ 3x(x - 2) &= 0 \\ 3x = 0 \text{ o } (x - 2) &= 0 \\ x = 0 \text{ o } x = 2 \end{aligned}$$

Conocemos las raíces de la función y son solución de la ecuación cuadrática, la función cumple que $f(x) = 0$. Conociendo el vértice de la función y la concavidad, podemos esbozar la gráfica y describir las características principales.

Así, el valor de $a < 0$, por lo que es cóncava hacia abajo. Entonces, encontraríamos su vértice así:

$$V_x = -\frac{b}{2a}$$

Identificamos los respectivos valores de a , b , c .

$$a = -3, b = 6, c = 0$$

Entonces, su vértice en X sería.

$$V_x = -\frac{b}{2a} = -\frac{6}{2(-3)} = 1$$

Encontramos la coordenada del vértice Y evaluando el vértice de coordenada en X en la respectiva función, es decir: $V_y = f\left\{\frac{b}{2a}\right\}$

Así, tenemos:

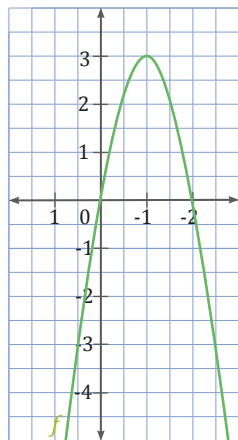
$$\begin{aligned} f\left(\frac{1}{3}\right) &= -3(1)^2 + 6(1) \\ &= -3(1) + 6 \\ &= -2 + 6 \\ &= 3 \end{aligned}$$

Entonces su vértice sería: $V:(1, 3)$.

Y su gráfica con toda la información obtenida es:

De acuerdo con la gráfica presentada, tenemos que su dominio y rango respectivamente serían.

$$\begin{aligned} \text{dom}f &= \mathbb{R} \\ \text{rg } f &= (-\infty, 3] \end{aligned}$$



Ahora vamos a revisar casos en los que la función cuadrática no tiene ceros, esto significa que la ecuación cuadrática no tiene solución real.

Encontremos los ceros en caso que la función tenga la gráfica y las características principales de esta función cuadrática:

$$f(x) = x^2 + 2$$

Siguiendo con el proceso, tenemos que igualar la función a cero: $f(x) = 0$.

Con esa condición, procedemos a la resolución de la ecuación cuadrática y la factorización.

$$\begin{aligned} x^2 + 2 &= 0 \\ x^2 &= -2 \end{aligned} \quad \begin{aligned} &\rightarrow \sqrt{x^2} = \pm \sqrt{-2} \\ &\rightarrow x = \pm \sqrt{-2} \end{aligned}$$

De acuerdo con la resolución de la ecuación cuadrática, nos podemos dar cuenta de que no tiene solución real y no estaría dentro de nuestro campo de estudio que son los números reales. Esta condición que no tenga solución real no impide que se

pueda realizar la gráfica de la función cuadrática. Procedemos a encontrar el vértice y la concavidad para poder esbozar la gráfica y describir las características principales.

Así, el valor de $a > 0$, por lo que es cóncava hacia arriba. Entonces, encontraríamos su vértice así:

$$V_x = -\frac{b}{2a}$$

Identificamos los respectivos valores de a, b, c.

$$a = 1, b = 0, c = 2$$

Entonces, su vértice en X sería.

$$V_x = -\frac{b}{2a} = -\frac{0}{2(1)} = 0$$

Encontramos la coordenada del vértice Y evaluando el vértice de coordenada en X en la respectiva función, es decir: $V_y = f\left\{-\frac{b}{2a}\right\}$

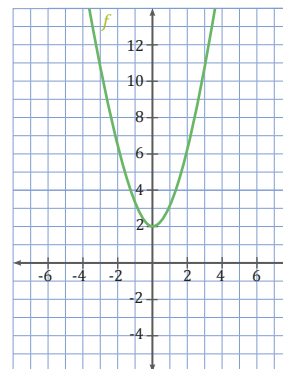
Así, tenemos:

$$\begin{aligned} f(0) &= (0)^2 + 2 \\ &= 0 + 2 \\ &= 2 \end{aligned}$$

Entonces, su vértice sería $V : (0,2)$

Y su gráfica con toda la información obtenida es:

De acuerdo con la gráfica presentada, tenemos que su dominio y rango respectivamente serían:



$$\begin{aligned} \text{dom}f &= \mathbb{R} \\ \text{rg } f &= [2, +\infty) \end{aligned}$$

Trabajo individual

- Encuentre los ceros en caso de que la función tenga la gráfica, y las características principales de estas funciones cuadráticas.

$$f(x) = x^2 + 3$$

$$g(x) = -x^2 - 5$$

$$h(x) = x^2 - 7x + 6$$

2.4 Aplicaciones de las funciones cuadráticas

D.C.D. M.4.1.61. Resolver (con apoyo de las TIC) y plantear problemas con enunciados que involucren modelos con funciones cuadráticas, e interpretar y juzgar la validez de las soluciones obtenidas dentro del contexto del problema.

Resolución de ecuaciones de segundo grado utilizando las TIC

Vamos a ver cómo utilizar una hoja de cálculo para resolver ecuaciones de segundo grado, en el caso de que exista solución.

Abrimos una hoja de cálculo nueva. En ella vamos a escribir los comandos necesarios para resolver la ecuación de segundo grado $7x^2 + 12x - 4 = 0$.

	A	B
1	ECUACIONES DE 2º GRADO	
2		$7x^2 + 12x - 4 = 0$
3	a =	7
4	b =	12
5	c =	-4
6		
7	Discriminante =	256
8	¿Tiene solución?	SI
9		
10	SOLUCIONES	
11	x1 =	0,29
12	x2 =	-2

Escribimos en las primeras celdas los rótulos para el nombre de la hoja de cálculo, la ecuación a resolver...

En las celdas B3, B4 y B5 introducimos, respectivamente, los valores de los coeficientes a, b y c de la ecuación de segundo grado.

En la celda B7 escribiremos la fórmula que nos da el discriminante, $\Delta = b^2 - 4 \cdot a \cdot c$. Recordemos que una ecuación de segundo grado tendrá solución únicamente si el discriminante es mayor o igual que cero. La fórmula que debemos introducir en la celda es: $= B4^2 - 4 \cdot B3 \cdot B5$.

Para saber si la ecuación tiene solución escribiremos en la celda B8 una fórmula que devolverá el valor «SI» si se cumple la condición $B7 \geq 0$ y el valor «NO» en caso contrario.

$$= SI (B7 > = 0; "SI"; "NO")$$

A las soluciones de una ecuación de segundo grado las podemos calcular mediante la fórmula general:

$$x = \frac{-b \pm \sqrt{b^2 - 4ac}}{2a}$$

Escribiremos en las celdas B11 y B12 las expresiones correspondientes al signo + y al signo - respectivamente, y recordaremos que ya hemos calculado el discriminante en la celda B7.

$$\text{Celda B11: } = \frac{(- B4 - \text{RAÍZ} (B7))}{2 \cdot B3}$$

$$\text{Celda B12 : } = \frac{(- B4 + \text{RAÍZ} (B7))}{2 \cdot B3}$$

Ya tenemos una hoja de cálculo para resolver ecuaciones de segundo grado. Operaremos con ella introduciendo los coeficientes de la ecuación en las celdas de entrada. Si existe solución, se nos mostrará en las celdas de resultado.

Mundo Digital

1. Investiga datos numéricos sobre el puente Golden Gate cuyos cables tiene forma de una parábola.
2. Responde: ¿Cuál es la altura de los cables a una distancia de 1 000 pies del centro del puente?
3. realiza un esquema con los datos que investigates. Coloca el origen de los ejes cartesianos en el vértice para que utilices como ecuación de segundo grado $y = ax^2$; $a > 0$.

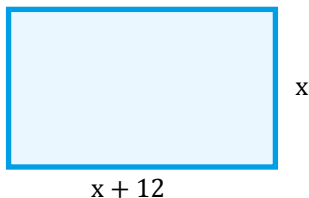
Resolución de problemas

El procedimiento para resolver problemas mediante una ecuación de segundo grado es muy parecido al utilizado para resolver problemas mediante una ecuación de primer grado con una incógnita o un sistema de ecuaciones de primer grado con dos incógnitas.

Ejemplo 13

La base de un rectángulo mide 12 cm más que su altura y su área es de 405 cm². ¿Cuánto mide el perímetro del rectángulo?

1. Lectura atenta del enunciado: Volvemos a leer el problema e interpretamos el enunciado.
2. Elección de la incógnita: Representamos por x la altura del rectángulo.



3. Planteamiento de la ecuación

- **Datos:** Área del rectángulo: 405 cm².
- **Condición:** La base del rectángulo mide 12 cm más que su altura.
- **Traducción:** Base del rectángulo: $x + 12$.
- **Área del rectángulo:** $(x + 12) \cdot x$.
- **El área del rectángulo es de 405 cm²:** $(x + 12) \cdot x = 405$.

Cuando calculamos ecuaciones de segundo grado, debemos prestar especial atención al análisis de las soluciones, ya que algunas de ellas, a pesar de ser solución de la ecuación, no lo son del problema.

Fijémonos en el siguiente ejemplo.

4. Resolución de la ecuación

$$\begin{aligned}(x + 12) \cdot x &= 405 \\ x^2 + 12x &= 405 \\ x^2 + 12x - 405 &= 0 \\ x &= \frac{-12 \pm \sqrt{12^2 - 4 \cdot 1 \cdot (-405)}}{2 \cdot 1} \\ x &= \frac{-12 \pm \sqrt{144 + 1620}}{2} = \frac{-12 \pm \sqrt{1764}}{2} \\ &= \frac{-12 \pm 42}{2} = \begin{cases} \frac{-12 + 42}{2} = 15 \\ \frac{-12 - 42}{2} = -27 \end{cases}\end{aligned}$$

5. Respuesta

Como x representa la altura del rectángulo, tomará valores positivos, por lo que la solución negativa no es válida. Así, la altura del rectángulo es 15 cm y su base:

$$15 + 12 = 27 \text{ cm}$$

Por lo tanto, el perímetro del rectángulo es:

$$P = 2 \cdot 27 + 2 \cdot 15 = 84 \text{ cm}$$

6. Comprobación

Como la altura del rectángulo es 15 cm y su base 27 cm, se cumple que: $27 \cdot 15 = 405 \text{ cm}^2$.

Trabajo individual

1. Calcula las dimensiones de un rectángulo de 24 m² de área sabiendo que su perímetro es 20 m.
2. Calcula los lados de un rectángulo que tiene una diagonal de 5 cm y un perímetro de 14 cm.
3. El cateto mayor de un triángulo rectángulo es 2 cm más corto que la hipotenusa y esta mide 4 cm más que el cateto menor. ¿Cuánto miden los lados del triángulo?
4. La base de un rectángulo es 2 m mayor que la altura. Si a la base le aumentamos 1 m y a la altura 2 m, resulta otro rectángulo cuya área es 24 m² mayor que el primero. Calcula las dimensiones de este.
5. La suma de la base con la altura de un triángulo es 30 m y el área del triángulo es 112 m². Calcula la base y la altura del triángulo.

Ejemplo 14

El número de ciervos de una manada aumenta en cinco cada año. La novena parte del cuadrado del número de ciervos que había hace un año coincide con el número de ciervos que habrá dentro de un año. ¿Cuántos ciervos hay en la actualidad?

1. Lectura atenta del enunciado: Lee-mos de nuevo el enunciado y lo expresamos con otras palabras.
2. Elección de la incógnita
3. Representamos por x el número de ciervos que hay actualmente.

Planteamiento de la ecuación

Traducimos al lenguaje algebraico las condiciones del enunciado.

- Número de ciervos en la actualidad: x
- Número de ciervos el año anterior: $x - 5$
- Número de ciervos el año próximo: $x + 5$
- La novena parte del cuadrado del número de ciervos que había hace un año coincide con el número de ciervos que habrá dentro de un año:

$$\frac{(x - 5)^2}{9} = x + 5$$

4. Resolución de la ecuación

$$(x - 5)^2 = 9x + 45 \rightarrow x^2 - 10x + 25 - 9x - 45 = 0$$

$$\rightarrow x^2 - 19x - 20 = 0$$

$$x = \frac{19 \pm \sqrt{19^2 - 4 \cdot 1 \cdot (-20)}}{2 \cdot 1} = \frac{19 \pm \sqrt{361 + 80}}{2}$$

$$= \frac{19 \pm \sqrt{441}}{2} = \frac{19 \pm 21}{2} = \begin{cases} \frac{19 + 21}{2} = 20 \\ \frac{19 - 21}{2} = -1 \end{cases}$$

Respuesta

Como x representa el número de ciervos, no puede tomar el valor negativo. Por lo tanto, la única solución válida para el número de ciervos es 20.

Comprobación

Se cumple que:

$$\frac{(x - 5)^2}{9} = x - 5$$

$$\frac{(20 - 5)^2}{9} = 20 + 5$$

$$\frac{15^2}{9} = 25$$

$$225 = 225$$

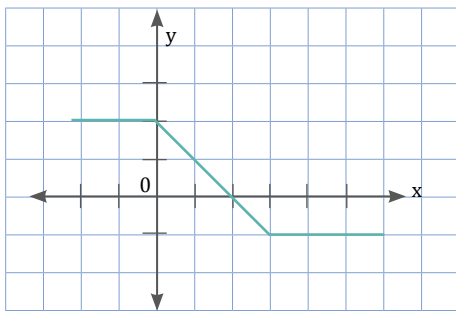
Trabajo colaborativo

24. Halla las longitudes de los tres lados de un triángulo rectángulo si el lado menor mide 4 cm menos que el mediano y este 4 cm menos que el mayor.
25. El producto de un número natural por su consecutivo es igual a seis veces su suma más seis. ¿Cuál es este número?
26. La diferencia entre el cuadrado de un número y el número 2 es 14. Determina de qué número se trata.
27. Obtén la medida de la base de un triángulo cuya altura excede en 2 cm a su base, si su área es de 84 cm^2 .
28. Calcula el lado de un cuadrado cuya diagonal mide 10 cm.
29. La suma de un número y el cuadrado de su anterior da 7. ¿De qué número se trata?
30. Si aumentamos en 3 cm el lado de un cuadrado, su área aumenta 21 cm^2 . ¿Cuánto mide el perímetro del cuadrado?
31. Al dividir 256 para un número natural, obtenemos un cociente dos unidades mayor que el divisor y el resto igual a 1. ¿Por qué número hemos dividido 256?

Indicadores de evaluación

- Utiliza las TIC para graficar funciones lineales, cuadráticas y potencia ($n=1, 2, 3$), analizar las características geométricas de la función lineal (pendiente e intersecciones), función potencia (monotonía) y de la función cuadrática (dominio, recorrido, monotonía, máximos, mínimo, paridad); reconoce cuando un problema puede ser modelado utilizando una función lineal o cuadrática, lo resuelve y plantea otros similares. (J.1., I.4.)
- Plantea y resuelve problemas que involucren sistemas de dos ecuaciones lineales con dos incógnitas, ecuaciones de segundo grado y la aplicación de las propiedades de las raíces de la ecuación de segundo grado, juzga la validez de las soluciones obtenidas en el contexto del problema. (I.4, J.2.)

- 1** La siguiente corresponde a la gráfica de la función $f(x)$. El valor de $f(-1) + f(1) + f(2)$ es:



- a. 0
b. 1
c. 2
d. 3
- 2** La ecuación del eje de simetría de la función cuadrática $y = -x^2 - 2x - 3$ es:
- a. $x = 3$
b. $x = 1$
c. $x = -2$
d. $x = -3$
- 3** Los ceros de la función polinómica $y = 6x^2 + 13x - 15$ son:
- a. 13 y -15
b. y 3

c. -3 y $\frac{5}{6}$

d. -3 y $\frac{6}{5}$

- 4** Por alquilar un automóvil cobran \$ 100 diarios más \$ 0,30 por kilómetro recorrido. Si en un día se ha recorrido un total de 300 km, ¿cuál es el valor que se debe pagar?

- a. \$ 90
b. \$ 100
c. \$ 130
d. \$ 190

- 5** Encuentra el valor de k en la expresión $x^2 + (k + 2x)x + 2k - 0$ para que tenga dos raíces reales iguales.

- a. -2
b. -4
c. 2
d. 4

- 6** El vértice de la parábola corresponde $f(x) = x^2 - 8x + 5$ al par ordenado:

- a. (4, 11)
b. (4, -11)
c. (-8, 5)
d. (8, 5)

Autoevaluación

Resuelvo problemas mediante la elaboración de modelos matemáticos sencillos como funciones. (J.2., I.4.)

Defino funciones elementales (función real, función cuadrática), reconozco sus representaciones, propiedades y fórmulas algebraicas, analizo la importancia de ejes, unidades, dominio y escalas, y resuelvo problemas que pueden ser modelados a través de funciones elementales. (J.1., I.4.)



edbb©

Para empezar

- ¿Qué tipos de figuras geométricas visualiza en el mural de la fotografía?
- ¿Cuál es la figura geométrica predominante?
- ¿En qué dimensiones estima que se encuentran la mayoría de ellas?

Objetivo

Reconocer las relaciones que existen entre las líneas y puntos notables de un triángulo para lograr el trazo, ubicación y comprensión de la función de los mismos en la geometría y en situaciones del entorno.

Introducción

En esta unidad estudiaremos los conceptos de *congruencia* y *semejanza* de figuras planas. Trataremos temas de geometría como los ángulos, su clasificación y operaciones; los triángulos, clasificación e identificación de puntos y rectas notables.

Contenidos

1. Polígonos

- 1.1. Problemas de perímetros y áreas Fracciones a decimales
- 1.2. Aplicaciones de puntos notables y rectas

2. Relaciones trigonométricas

- 2.1. Relaciones trigonométricas básicas
- 2.2. Aplicaciones del Teorema de Pitágoras Multiplicación
- 2.3. Circunferencia goniométrica
- 2.4. Propiedades y relaciones de las razones trigonométricas

3. Cuerpos geométricos

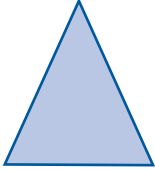


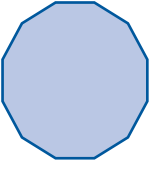
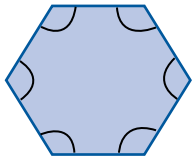
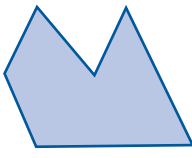
- 3.1. Poliedros
- 3.2. Poliedros regulares
- 3.3. Prismas
- 3.4. Pirámides
- 3.5. Cuerpos de revolución
- 3.6. Áreas de cuerpos geométricos
- 3.7. Volúmenes de cuerpos geométricos

1. Polígonos

M.4.2.10. Aplicar criterios de semejanza para reconocer triángulos rectángulos semejantes y resolver problemas.

Un polígono es una figura geométrica plana compuesta por un número finito de segmentos rectos que encierran una región en el plano.

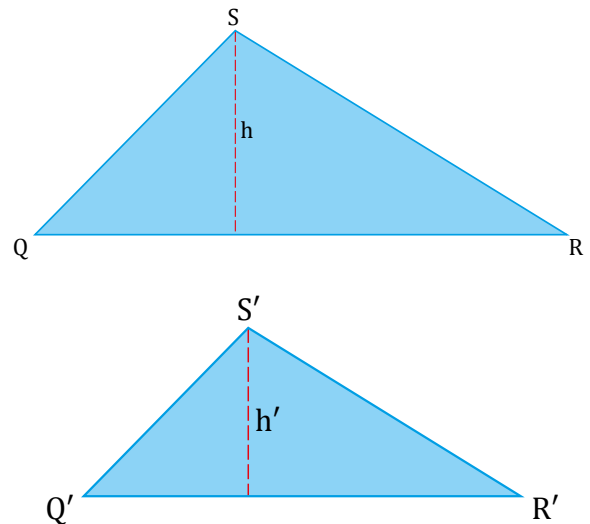
Clasificación

Según el número de lados	
 tres lados Triángulo	 cuatro lados Cuadrilátero
 diez lados Decágono	 doce lados Dodecágono
Según sus ángulos	
 Un polígono es convexo si tiene todos sus ángulos convexos.	 Un polígono es cóncavo si alguno de sus ángulos es cóncavo.

Áreas de polígonos semejantes

Recordemos que dos polígonos del mismo número de lados son semejantes si tienen sus ángulos iguales y sus lados correspondientes proporcionales.

Fijémonos en los triángulos QRS y Q'R'S' de la figura. Ambos son semejantes y con razón de semejanza k.



Al ser semejantes, la relación entre dos longitudes homólogas es igual a la razón de semejanza. Entonces:

La razón entre sus alturas es $\frac{h}{h'} = k$.

La razón entre sus bases es $\frac{QR}{Q'R'} = k$.

Así pues, la razón entre sus áreas será:

$$\frac{A}{A'} = \frac{\frac{1}{2} \cdot QR \cdot h}{\frac{1}{2} \cdot Q'R' \cdot h'} = \frac{\cancel{\frac{1}{2}} \cdot k \cdot \cancel{QR} \cdot k \cdot \cancel{h}}{\cancel{\frac{1}{2}} \cdot \cancel{Q'R'} \cdot \cancel{h}} = k \cdot k = k^2$$

La razón entre las áreas es k^2 , que coincide con el cuadrado de la razón de semejanza.

La **razón** entre las **áreas** de dos **polígonos semejantes** es igual al **cuadrado de la razón de semejanza**.

1.1. Problemas de perímetros y áreas

DCD. M.4.2.11. Calcular el perímetro y el área de triángulos en la resolución de problemas prácticos como terrenos, parques, etc.

Antes de iniciar con los procedimientos para calcular el perímetro y área de otros polígonos, profundicemos sobre los cuadriláteros y su clasificación

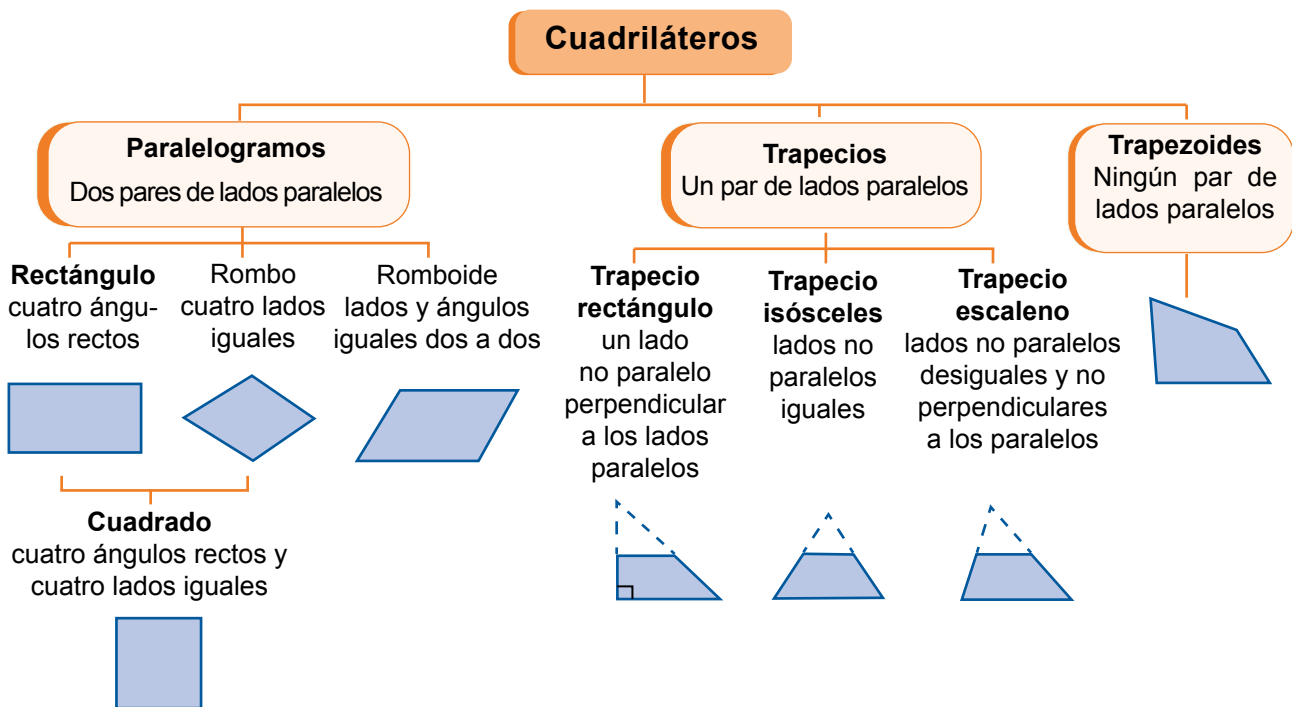
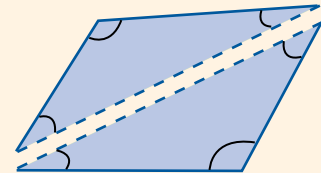
Un cuadrilátero es un polígono de cuatro lados.

Según el paralelismo de sus lados, a los cuadriláteros los clasificamos en: paralelogramos, trapecios y trapezoides.

A su vez, a los paralelogramos y los trapecios los clasificamos según se muestra en el siguiente esquema.

1 cuadrilátero = 2 triángulos

$$2 \times 180^\circ = 360^\circ$$



Propiedades

- Un cuadrilátero tiene dos diagonales. En efecto:

$$\frac{n \cdot (n - 3)}{2} = \frac{4 \cdot (4 - 3)}{2} = \frac{4}{2} = 2$$

- La suma de los ángulos interiores de un cuadrilátero es 360° . En efecto:

$$180^\circ \cdot (n - 2) = 180^\circ \cdot (4 - 2) = 360^\circ$$

Trabajo individual

- Nombra los cuadriláteros que poseen estas características:
 - Tienen los cuatro lados iguales y los ángulos no son rectos, pero son iguales dos a dos.
 - No tienen lados paralelos.
 - Tienen dos lados paralelos y los lados no paralelos son iguales.
 - Tienen los ángulos y los lados iguales dos a dos.

Perímetros

El **perímetro de una figura** plana es la medida de su contorno. Si la figura es un polígono, basta sumar las longitudes de sus lados.

El **perímetro** de un polígono es la suma de las **longitudes** de sus lados.

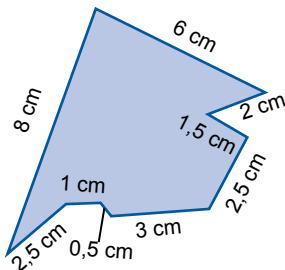
Ejemplo 1

Hallemos el perímetro del polígono.

Para hallar el perímetro, sumamos las longitudes de sus lados:

$$P = 8 + 6 + 2 + 1,5 + 2,5 + 3 + 0,5 + 1 + 2,5 = 27$$

El perímetro del polígono es de 27 cm.



Existen polígonos para los que podemos establecer una fórmula para calcular su perímetro:

Paralelogramo de lados a y b :

$$P = 2a + 2b$$

Polígono regular de n lados de longitud l :

$$P = n \cdot l$$

Áreas

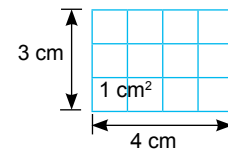
El **área de una figura plana** es la medida de la extensión del plano que ocupa o superficie.

El **área** de un polígono es la medida de su superficie.

Veamos cómo calcular el área de los polígonos estudiados en la unidad.

Área de paralelogramos

Rectángulo



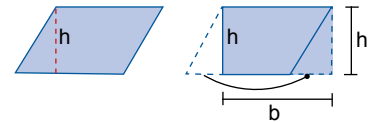
De la figura deducimos que el área del rectángulo coincide con el producto de la longitud de su base por su altura:

$$4 \text{ cm} \cdot 3 \text{ cm} = (4 \cdot 3) (\text{cm} \cdot \text{cm}) = 12 \text{ cm}^2$$

El **área** de un **rectángulo** de base b y altura h es:

$$A = b \cdot h$$

Romboide

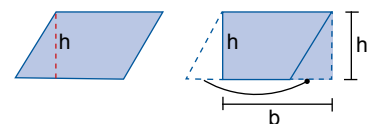


De la figura deducimos que el área del romboide es igual a la del rectángulo correspondiente.

El **área** de un **romboide** de base b y altura h es:

$$A = b \cdot h$$

Rombo



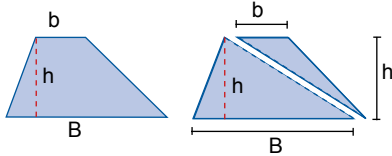
Observa que el área de un rombo cuyas diagonales son D y d es la mitad del área de un rectángulo, de base D , y altura d .

El **área** de un **rombo** de diagonales D y d es:

$$A_{\text{rombo}} = \frac{A_{\text{rectángulo}}}{2} = \frac{b \cdot h}{2} = \frac{D \cdot d}{2}$$

Área de trapecios

Observa que un trapecio de bases B y b , y altura h puede descomponerse en dos triángulos, uno de base B y altura h y otro de base b y altura h .

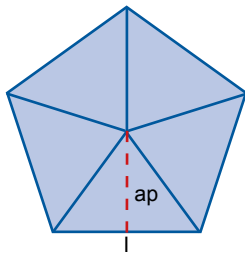


El **área** de un **trapecio** es la suma de las áreas de dos triángulos:

$$A_{\text{trapecio}} = A_{\text{triángulo 1}} + A_{\text{triángulo 2}} = \frac{B \cdot h}{2} + \frac{b \cdot h}{2} = \frac{(B + b) \cdot h}{2}$$

Área de polígonos regulares

Para calcular el área de polígonos, es útil descomponer los polígonos en triángulos.



Polígonos regulares

Un polígono regular puede descomponerse en tantos triángulos iguales como lados tiene el polígono.

Por ejemplo, en el caso de un pentágono de lado l , su área es cinco veces el área de uno de los triángulos.

Cada triángulo tiene la base de longitud l y altura igual a la apotema del pentágono, ap . Por tanto, el área del pentágono es:

$$A = 5 \cdot \frac{l \cdot ap}{2} = \frac{5l \cdot ap}{2} = \frac{P \cdot ap}{2}$$

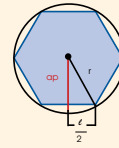
puesto que $5l$ es el perímetro, P , del pentágono.

El **área** de un **polígono regular** de base b y altura h es:

$$A = \frac{P \cdot ap}{2}$$

Cálculo de la apotema

La apotema de un polígono regular corresponde a un cateto de uno cualquiera de los triángulos rectángulos que podemos inscribir en él.



Por lo tanto, podemos calcularla utilizando el teorema de Pitágoras:

$$ap = \sqrt{r^2 - \left(\frac{l}{2}\right)^2}$$

Mundo Digital

Busque en internet información sobre los polígonos irregulares, puede servirle este link > <https://goo.gl/EpDrb7>

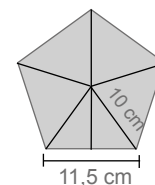
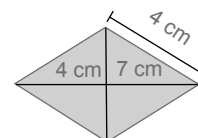
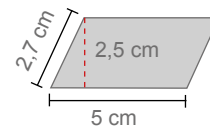
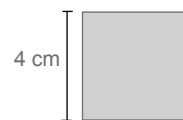
Con base en esta información, conteste

¿Qué entiende por polígono irregular ?

Dibuje un polígono irregular de 8 lados.

Trabajo individual

1. Identifica estos paralelogramos y calcula sus perímetros y sus áreas.



1.2. Aplicaciones de puntos notables y rectas

DCD. M.4.2. 12,13. Plantear y resolver problemas donde se apliquen las rectas y puntos notables de un triángulo (medianas y baricentro, mediatrices y circuncentro, alturas y ortocentro, bisectrices e incentro).

Líneas y puntos notables del triángulo

Antes de iniciar recordemos que un triángulo es una figura constituida por tres segmentos intersecados. Estos segmentos constituyen la frontera del triángulo. A los puntos que se encuentran dentro de la frontera los denominamos puntos interiores; los puntos sobre las líneas, puntos de frontera; y los puntos que están afuera, puntos exteriores.

Existen algunas líneas que podemos construir llamadas líneas notables de un triángulo. Las líneas notables de un triángulo son sus alturas, medianas, mediatrices y bisectrices.

Estas líneas tienen además como característica que, si se trazan las tres del mismo tipo, se intersecan en un solo punto. A estos puntos los llamamos puntos notables del triángulo y son el ortocentro, baricentro, circuncentro e incentro.

Altura y ortocentro

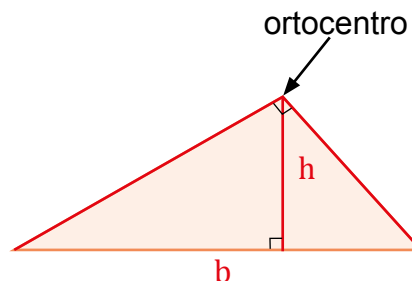
Las **alturas de un triángulo** son las rectas perpendiculares que van desde un vértice al lado opuesto o a su prolongación.

Las tres alturas se cortan en un punto que llamamos ortocentro.

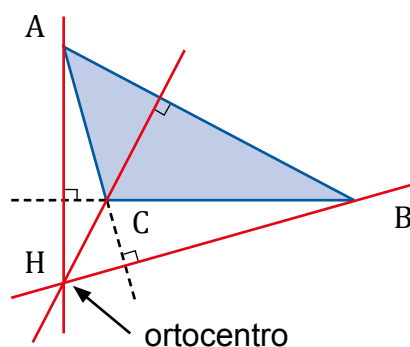
El ortocentro puede estar en:

El interior del triángulo en el caso de los **acutángulos**.

Uno de sus vértices, en los **rectángulos**.

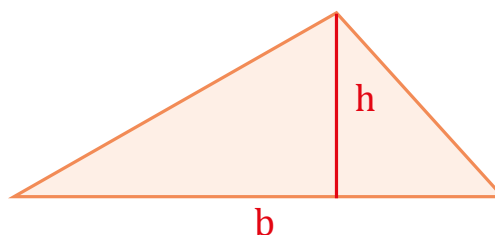
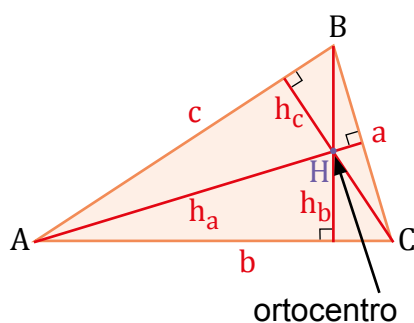


En el exterior, en los **obtusángulos**.



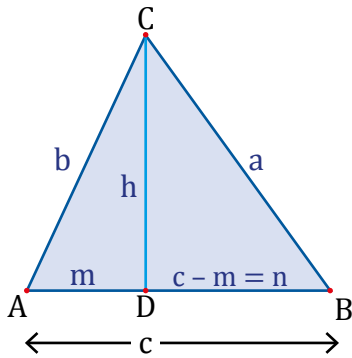
En **triángulos rectángulos**, si tomamos un cateto como la base, entonces el otro es la altura debido a que forman un ángulo de 90° entre ellos. Es decir, son perpendiculares.

Si la base del triángulo rectángulo es su hipotenusa, su altura podemos encontrar trazando una línea perpendicular a la misma, que pase por el vértice que contiene el ángulo recto.



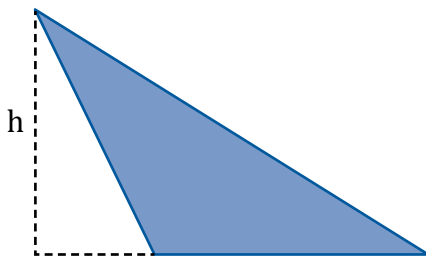
En **triángulos acutángulos** podemos utilizar la misma técnica que cuando tenemos un triángulo recto cuya base es la hipotenusa.

Es importante recordar que la altura puede ser encontrada utilizando el teorema de Pitágoras. Esta corta el triángulo ABC de tal manera que lo deja como la composición de dos triángulos rectos ADC y BCD con hipotenusas b y a respectivamente.



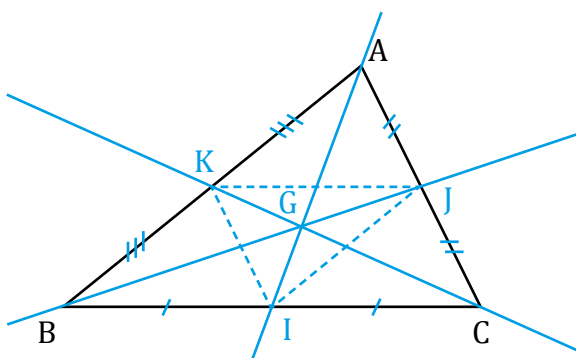
Finalmente, para **triángulos obtusángulos**.

Cuando se encuentra apoyado sobre uno de sus lados más cortos. En este caso debemos alargar la línea de la base para conectarla con el vértice opuesto mediante una perpendicular y la altura del triángulo termina estando afuera del mismo.



Mediana y baricentro

Una **mediana** es un segmento de recta que une a un vértice de un triángulo con el punto medio del lado opuesto a este.



Se puede obtener el punto medio de cualquier lado del triángulo aplicando este procedimiento a cada uno de los lados del triángulo y, finalmente, juntamos el corte en el medio del lado a su vértice opuesto.

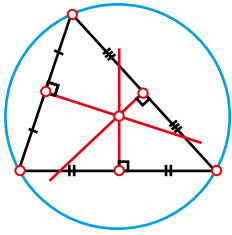
El punto G que mostramos en la imagen es denominado el centroide o baricentro de la figura, este es el centro de gravedad de la figura. Este punto actúa como un punto de equilibrio, en otras palabras, si colocáramos el triángulo balanceándolo sobre una aguja, tendríamos que poner la punta de la aguja sobre este punto para que se quede en equilibrio.

Otras propiedades sobre las medianas es que cada una divide al triángulo en dos triángulos con áreas iguales.

Finalmente, si se juntan los cortes en los puntos medios de cada plano, obtenemos dentro del triángulo original un triángulo semejante al original, pero con un cuarto del área.

Mediatriz y circuncentro

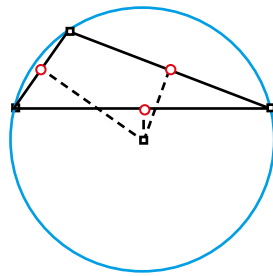
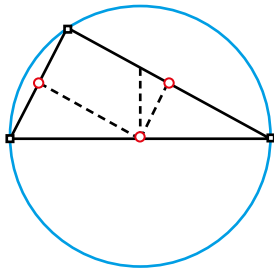
Una mediatriz es distinta a una mediana, las **mediatrices** son líneas que, al igual que las medianas, nacen del punto medio en cada lado del triángulo, pero que, a diferencia de la mediana, **forman un ángulo de 90° grados** con las rectas, es decir, son perpendiculares a los lados del triángulo y no necesariamente pasan por el vértice.



El punto de corte de las mediatrices, que puede encontrarse dentro o fuera del triángulo, es un punto equidistante a todos los vértices, es decir, que tiene la misma distancia con respecto a cada uno. Este punto es también el punto medio del círculo que encierra al triángulo en su totalidad.

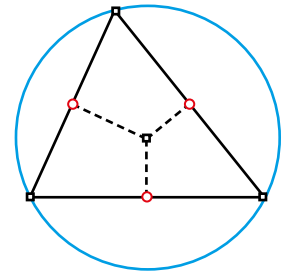
Las mediatrices de un triángulo son las rectas perpendiculares levantadas en el punto medio de sus lados.

En un triángulo rectángulo, el centro coincide con el punto medio de la hipotenusa.



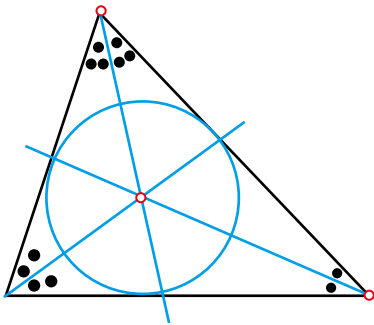
En un triángulo acutángulo, el centro se encuentra dentro del triángulo.

En un triángulo obtusángulo se encuentra fuera del triángulo.



Bisectriz e incentro

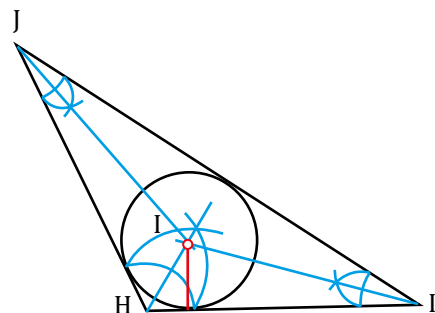
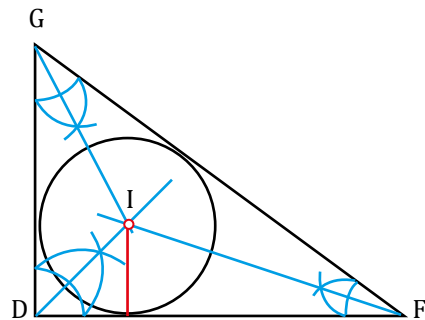
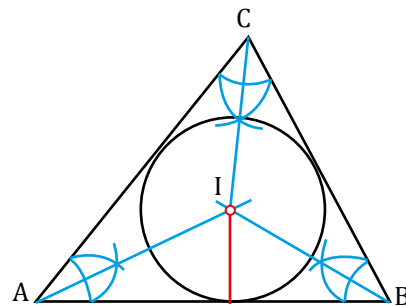
Las bisectrices de un triángulo son aquellas líneas que cortan a cada ángulo del triángulo por la mitad.



Al punto de corte de las bisectrices lo llamamos circuncentro. Este punto tiene la misma distancia a todos los lados del triángulo. Esta propiedad hace que el circuncentro sea el punto medio del círculo de mayor radio que podemos inscribir o dibujar dentro del triángulo.

La circunferencia inscrita en un triángulo es única, esto sucede porque para crear un círculo único, solamente necesitamos tres puntos y porque solamente existe un punto que es equidistante de todos los lados del triángulo.

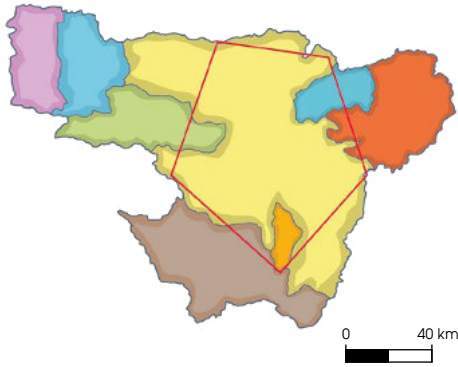
A diferencia del caso del ortocentro, el circuncentro se encuentra siempre en el interior del triángulo.



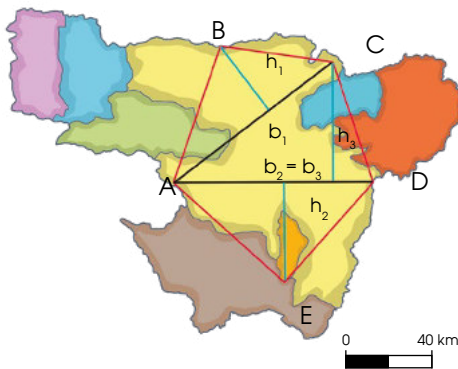
Para calcular el área de polígonos irregulares, es necesario descomponer las figuras en polígonos más simples. Para resolver el área de cualquier polígono podemos realizar la descomposición en triángulos uniendo vertices entre ellos.

Ejemplo 1

Calculemos el área de la zona que marcamos en el siguiente plano.



- Descomponemos el polígono irregular que representa la extensión de terreno en triángulos, tal como indicamos.



Medimos con una regla las bases y las alturas de los triángulos, pasamos las medidas a escala real y calculamos sus áreas.

- Medimos la base y la altura del triángulo ABC, y las pasamos a medidas reales.

$$b_1 = 100 \text{ km} \quad h_1 = 40 \text{ km}$$

Calculamos el área del triángulo ABC.

$$\text{Área}_{ABC} = \frac{100 \cdot 40}{2} = 2\,000 \text{ km}^2$$

- Medimos la base y la altura del triángulo ACD, y las pasamos a medidas reales.

$$b_2 = 100 \text{ km} \quad h_2 = 60 \text{ km}$$

Calculamos el área del triángulo ACD.

$$A_{ACD} = \frac{100 \cdot 60}{2} = 3\,000 \text{ km}^2$$

- Medimos la base y la altura del triángulo ADE, y las pasamos a medidas reales.

$$b_3 = 100 \text{ km} \quad h_3 = 50 \text{ km}$$

Calculamos el área del triángulo ADE.

$$A_{ADE} = \frac{100 \cdot 50}{2} = 2\,500 \text{ km}^2$$

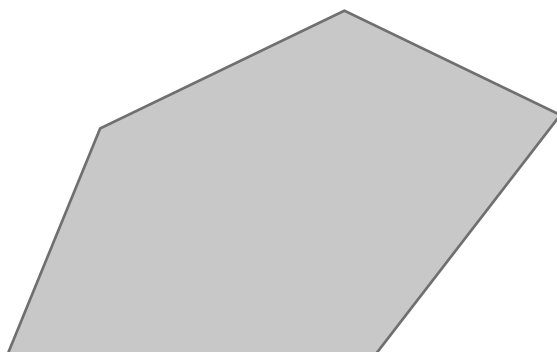
- Finalmente, sumamos las áreas de los tres triángulos.

$$A_{\text{total}} = 2\,000 + 3\,000 + 2\,500 = 7\,500 \text{ km}^2$$

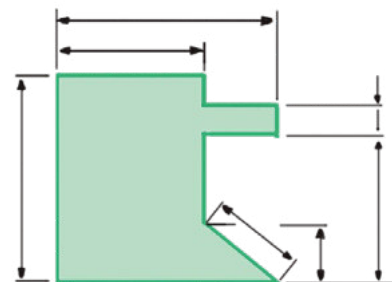
Así, el área de la zona marcada en el plano es de 7 500 km².

Trabajo individual

1. Calcula el perímetro y el área de este polígono irregular tomando las medidas pertinentes.



2. Calcula el perímetro y el área de este polígono irregular.



2. Relaciones trigonométricas

2.1. Relaciones trigonométricas básicas

DCD. M.4.2. 14,15,16. Identificar y aplicar el teorema de Pitágoras y las relaciones trigonométricas en el triángulo rectángulo (seno, coseno, tangente) para resolver numéricamente triángulos rectángulos presentes en situaciones reales, por ejemplo, la altura de un objeto en base a la sombra proyectada.

Razones trigonométricas de un ángulo agudo

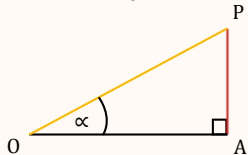
En un triángulo rectángulo, pueden establecerse ciertas relaciones entre un ángulo agudo y sus lados. La trigonometría es la parte de la matemática que trata de la relación entre las longitudes de los lados y las amplitudes de los ángulos de un triángulo.

Fijémonos en el ángulo agudo α que hemos indicado del triángulo rectángulo OAP de la figura que vemos en la parte inferior. Los cocientes entre las longitudes de dos lados cualesquiera de este triángulo se denominan **razones trigonométricas** de α .

Seno

La **razón** entre la longitud del **cateto opuesto** del ángulo α y la de la **hipotenusa** se llama **seno** del ángulo α y se escribe $\text{sen } \alpha$.

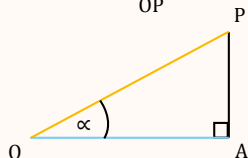
$$\text{sen } \alpha = \frac{AP}{OP}$$



Coseno

La **razón** entre la longitud del **cateto adyacente** al ángulo α y la **hipotenusa** se llama **coseno** del ángulo α y se escribe $\text{cos } \alpha$.

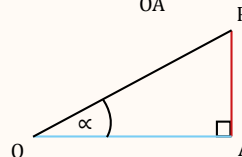
$$\text{cos } \alpha = \frac{OA}{OP}$$



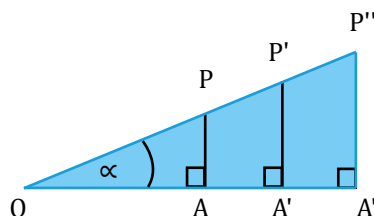
Tangente

La **razón** entre la longitud del **cateto opuesto** al ángulo α y la del cateto adyacente se llama **tangente** del ángulo α y se escribe $\text{tg } \alpha$.

$$\text{tg } \alpha = \frac{AP}{OA}$$



Consideramos ahora los triángulos $OA'P'$ y $OA''P''$ de la figura de la derecha. Ambos son semejantes a OAP por ser triángulos rectángulos y tener el ángulo común.



Entonces, se cumple que la razón entre la longitud del cateto opuesto al ángulo y la de la hipotenusa es la misma para cada uno de los triángulos, es decir:

Luego, el seno del ángulo es independiente del triángulo rectángulo escogido.

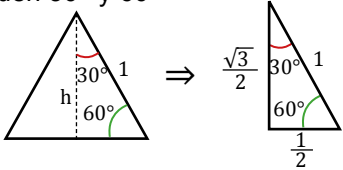
Lo mismo sucede con su coseno y con su tangente.

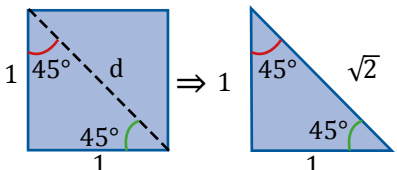
Observamos que las razones trigonométricas de un ángulo son adimensionales, ya que están definidas como el cociente entre dos longitudes.

Además, se pueden definir sus razones trigonométricas inversas.

Razones trigonométricas de los ángulos de 30°, 45° y 60°

Existen tres ángulos agudos cuyas razones trigonométricas pueden obtenerse a partir de construcciones geométricas sencillas. Son los ángulos de 30°, 45° y 60°.

Razones trigonométricas de los ángulos de 30° y 60°		
<p>Consideremos un triángulo equilátero de lado la unidad. La altura lo divide en dos triángulos rectángulos iguales, cuyos ángulos agudos miden 30° y 60°</p>  <p>Aplicamos el teorema de Pitágoras a uno de esos triángulos para hallar el valor de h.</p> $h = \sqrt{1^2 - \left(\frac{1}{2}\right)^2} = \sqrt{\frac{3}{4}} = \frac{\sqrt{3}}{2}$	<p>Las razones trigonométricas del ángulo de 30° son:</p> $\begin{aligned} \operatorname{sen} 30^\circ &= \frac{2}{1} = \frac{1}{2} \\ \operatorname{cos} 30^\circ &= \frac{\sqrt{3}}{1} = \frac{\sqrt{3}}{2} \\ \operatorname{tg} 30^\circ &= \frac{1}{\sqrt{3}} = \frac{1}{\sqrt{3}} = \frac{\sqrt{3}}{3} \end{aligned}$	<p>Las razones trigonométricas del ángulo de 60° son:</p> $\begin{aligned} \operatorname{sen} 60^\circ &= \frac{\sqrt{3}}{1} = \frac{\sqrt{3}}{2} \\ \operatorname{cos} 60^\circ &= \frac{1}{1} = \frac{1}{2} \\ \operatorname{tg} 60^\circ &= \frac{\sqrt{3}}{1} = \sqrt{3} \end{aligned}$

Razones trigonométricas del ángulo de 45°	
<p>Consideremos un cuadrado de lado la unidad. La diagonal del cuadrado lo divide en dos triángulos rectángulos iguales cuyos ángulos agudos miden 45°.</p> 	<p>Aplicamos el teorema de Pitágoras a uno de estos triángulos para hallar el valor de d.</p> $d = \sqrt{1^2 + 1^2} = \sqrt{2}$ <p>Las razones trigonométricas del ángulo de 45° son:</p> $\operatorname{sen} 45^\circ = \frac{1}{\sqrt{2}} = \frac{\sqrt{2}}{2} \quad \operatorname{cos} 45^\circ = \frac{1}{\sqrt{2}} = \frac{\sqrt{2}}{2} \quad \operatorname{tg} 45^\circ = \frac{\sqrt{2}}{\sqrt{2}} = 1$

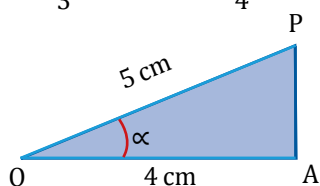
Ejemplo 2

Expresamos las razones trigonométricas del ángulo α de la figura.

Calculamos la medida del lado

$$AP: AP = \sqrt{(5^2 - 4^2)} = \sqrt{25 - 16} = \sqrt{9} = 3$$

$$\begin{aligned} \operatorname{sen} \alpha &= \frac{3}{5} & \operatorname{cos} \alpha &= \frac{4}{5} & \operatorname{tg} \alpha &= \frac{3}{4} \\ \operatorname{cosec} \alpha &= \frac{5}{3} & \operatorname{sec} \alpha &= \frac{5}{4} & \operatorname{cotg} \alpha &= \frac{4}{3} \end{aligned}$$



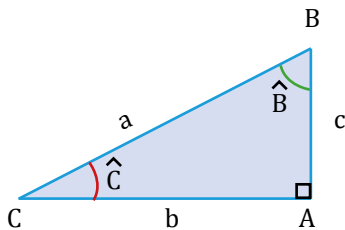
Trabajo individual

- ¿Es posible que el seno de un ángulo agudo sea mayor que 1? Razona tu respuesta.
- Averigua si existe alguna relación entre la cosecante y la secante de dos ángulos complementarios.
- Los catetos de un triángulo rectángulo miden 6 cm y 8 cm. Calcula las razones trigonométricas de sus ángulos agudos.
- Construye un triángulo rectángulo sabiendo que la tangente de uno de sus ángulos agudos es $\frac{3}{2}$.

Resolución de triángulos rectángulos

El teorema de Pitágoras y las razones trigonométricas nos permitirán, una vez conocidos algunos de los lados o los ángulos de un triángulo rectángulo, hallar los restantes, es decir, resolver el triángulo.

A continuación, resumiremos los diferentes casos que pueden presentarse en la resolución de triángulos rectángulos.



a. Dados la hipotenusa y un cateto.

Datos	Incógnitas	Fórmulas
$a = 5 \text{ cm}$	c	$c = \sqrt{a^2 - b^2}$
$b = 4 \text{ cm}$	\hat{B}	$\text{sen } \hat{B} = \frac{b}{a}$
	\hat{C}	$\text{tg } \hat{C} = \frac{c}{b}$

Ejemplo 3

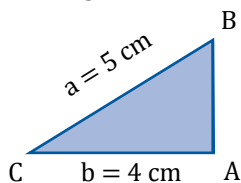
Resolvamos el triángulo rectángulo cuya hipotenusa mide 5 cm y uno de sus catetos, 4 cm.

— Los datos son $a = 5 \text{ cm}$ y $b = 4 \text{ cm}$. Debemos calcular c , \hat{B} , \hat{C} ,

$$c = \sqrt{5^2 - 4^2} = \sqrt{9} = 3 \text{ cm}$$

$$\text{sen } \hat{B} = \frac{4}{5} \quad \hat{B} = 53,13^\circ$$

$$\text{cos } \hat{C} = \frac{4}{5} \quad \hat{C} = 36,87^\circ$$



b. Dados dos catetos

Datos	Incógnitas	Fórmulas
b	a	$a = \sqrt{b^2 + c^2}$
	\hat{B}	$\hat{B} = \frac{b}{c}$
	\hat{C}	$\text{tg } \hat{C} = \frac{c}{b}$

Las calculadoras científicas poseen teclas que permiten obtener las razones trigonométricas de un ángulo. Si queremos calcular, por ejemplo, $\text{sen } 53^\circ 15'$ tecleamos:

sin 5 3 ° ' 1 5 ° ' EXE

En la pantalla aparece:

0.8012538

Así, $\text{sen } 53^\circ 15' = 0,801$.

Para calcular el coseno o la tangente, sustituimos la tecla del seno por las correspondientes del coseno y de la tangente.

También podemos hallar el valor de un ángulo conocida una de sus razones trigonométricas. Así, si $\text{sen } \alpha = 0,75$, tecleamos:

INV sin 0 . 7 5 EXE

En la pantalla aparece:

48.590378

Así, $48,590^\circ$ es un ángulo cuyo seno es 0,75.

Ejemplo 4

Resolvamos el triángulo rectángulo cuyos catetos miden 12 cm y 5 cm.

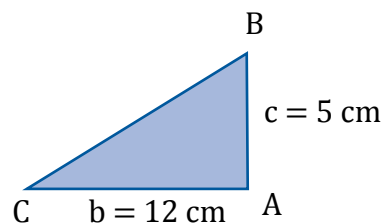
— Los datos son $b = 12 \text{ cm}$ y $c = 5 \text{ cm}$.

Debemos calcular a , \hat{B} , \hat{C} .

$$a = \sqrt{12^2 + 5^2} = \sqrt{169} = 13 \text{ cm}$$

$$\text{tg } \hat{B} = \frac{12}{5} \quad \hat{B} = 67,38^\circ$$

$$\text{tg } \hat{C} = \frac{5}{12} \quad \hat{C} = 22,62^\circ$$



c. Dados la hipotenusa y un ángulo agudo

Datos	Incógnitas	Fórmulas
a	b	$b = a \cdot \cos \hat{C}$
\hat{C}	c	$c = a \cdot \sin \hat{C}$
	\hat{B}	$\hat{B} = 90^\circ - \hat{C}$

Ejemplo 5

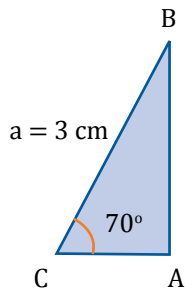
Resolvamos el triángulo rectángulo cuya hipotenusa mide 3 cm y uno de sus ángulos es de 70° .

— Los datos son $a = 3$ cm y $\hat{C} = 70^\circ$. Debemos calcular b, c y \hat{B} .

$$b = 3 \cdot \cos 70^\circ = 1,03 \text{ cm}$$

$$c = 3 \cdot \sin 70^\circ = 2,82 \text{ cm}$$

$$\hat{B} = 90^\circ - 70^\circ = 20^\circ$$



d. Dados un cateto y un ángulo agudo

Datos	Incógnitas	Fórmulas
b	a	$a = \frac{b}{\sin \hat{B}}$
\hat{B}	c	$c = \frac{b}{\text{tg } \hat{B}}$
	\hat{C}	$\text{tg } \hat{C} = 90^\circ - \hat{B}$

Datos	Incógnitas	Fórmulas
b	a	$a = \frac{b}{\cos \hat{C}}$
\hat{C}	c	$c = b \cdot \text{tg } \hat{C}$
	\hat{B}	$\hat{B} = 90^\circ - \hat{C}$

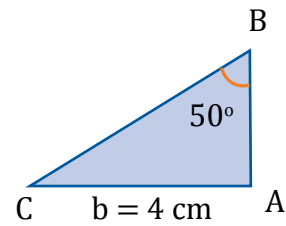
Ejemplo 6

Resolvamos el triángulo rectángulo uno de cuyos catetos mide 4 cm y el ángulo opuesto es de 50° .

— Los datos son $b = 4$ cm y $\hat{B} = 50^\circ$. Debemos calcular a, c y \hat{C}

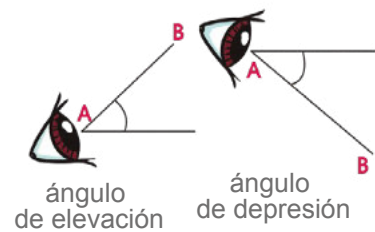
$$a = \frac{4}{\sin 50^\circ} = 5,22 \text{ cm}$$

$$c = \frac{4}{\text{tg } 50^\circ} = 3,36 \text{ cm}$$



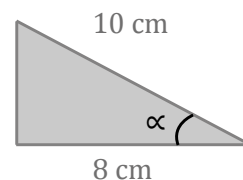
Desde la Ciencia

El ángulo que forma la visual con el plano horizontal que pasa por el ojo del observador se llama ángulo de elevación si el punto observado está por encima de dicho plano, o ángulo de depresión si el punto está por debajo.



Trabajo individual

1. Calcula el seno, el coseno y la tangente del ángulo α de la figura de la derecha.



2. Resuelve el triángulo ABC, rectángulo en A, en los siguientes casos:

- a. $a = 12$ cm, $b = 7,5$ cm
- b. $c = 20$ cm, $b = 7$ cm
- c. $b = 8$ cm, $\hat{C} = 60^\circ$

2.2. Aplicaciones del Teorema de Pitágoras

DCD. M.4.2.17. Resolver y plantear problemas que involucren triángulos rectángulos en contextos reales e interpretar y juzgar la validez de las soluciones obtenidas dentro del contexto del problema.

Determinación de alturas y distancias

A continuación, veremos unos ejemplos de una de las aplicaciones más importantes de la trigonometría, la determinación de alturas y de distancias.

Ejemplo 7

El ángulo de elevación del extremo superior de un obelisco observado desde un punto del suelo situado a 45 m del pie del obelisco es de 30° . Calculemos la altura del obelisco.

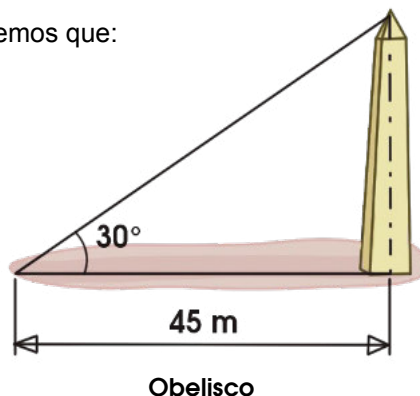
Sea h la altura del obelisco. Si aplicamos trigonometría, tenemos que:

$$\operatorname{tg} 30^\circ = \frac{h}{45}$$

—Sustituimos $\operatorname{tg} 30^\circ$ por su valor $\frac{\sqrt{3}}{3}$ y despejamos h .

$$\frac{\sqrt{3}}{3} = \frac{h}{45} \Rightarrow h = 45 \cdot \frac{\sqrt{3}}{3} = 25,98$$

Así pues, la altura del obelisco es de 25,98 m.



Ejemplo 8

Dos excursionistas que distan entre sí una distancia de 20 km, observan el punto más alto de una montaña, que está en el mismo plano vertical que ellos, bajo ángulos de 35° y de 42° . Hallamos la altura de la montaña y la distancia que separa el punto más alto de la montaña de cada uno de los excursionistas. Sean h la altura de la montaña y x la distancia AD. Resulta evidente que DB es igual a $20 - x$.

—Si aplicamos la trigonometría en los triángulos rectángulos ADC y CDB, tenemos que:

Al sustituir $\operatorname{tg} 35^\circ$ y $\operatorname{tg} 42^\circ$ por sus valores y resolver el sistema, obtenemos el siguiente resultado: $h = 7,88$; $x = 11,25$.

Así pues, la altura de la montaña es de 7,88 km.

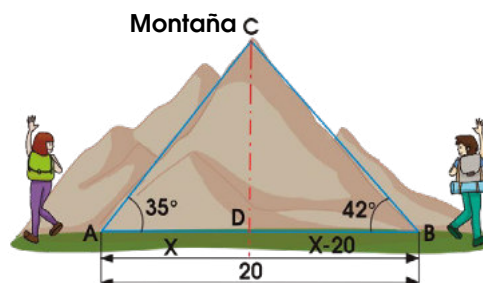
—Si aplicamos el teorema de Pitágoras en los triángulos rectángulos ADC y CDB, podremos hallar AC y BC, que corresponden a las distancias que separan el punto más alto de la montaña de cada uno de los excursionistas.

$$AC = \sqrt{AD^2 + DC^2} \Rightarrow AC = \sqrt{11,25^2 + 7,88^2} = 13,74$$

$$BC = \sqrt{DB^2 + DC^2} \Rightarrow BC = \sqrt{8,75^2 + 7,88^2} = 11,78$$

Por tanto, al excursionista situado en el punto A le faltan 13,74 km para alcanzar el punto más alto de la montaña, mientras que al excursionista situado en el punto B le faltan 11,78 km.

El procedimiento que acabamos de desarrollar recibe el nombre de **método de doble observación**.



$$\left. \begin{aligned} \operatorname{tg} 35^\circ &= \frac{h}{x} \\ \operatorname{tg} 42^\circ &= \frac{h}{20-x} \end{aligned} \right\}$$

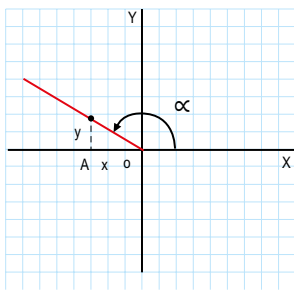
Razones trigonométricas de un ángulo cualquiera

Una vez que hemos definido las razones trigonométricas de un ángulo agudo, veamos cómo podemos definir las razones trigonométricas de otros ángulos.

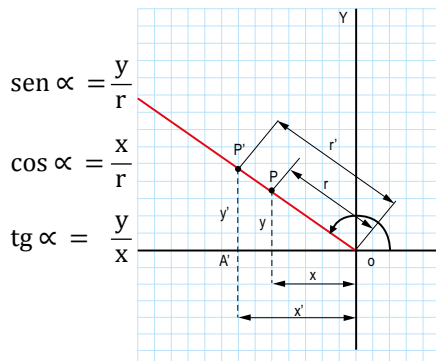
Representamos el ángulo α en un sistema de coordenadas cartesianas y consideramos un punto cualquiera P de su lado extremo.

Si (x, y) son las coordenadas del punto P y r es su distancia al origen de coordenadas, definimos las razones trigonométricas del ángulo α de la siguiente forma:

Ángulos mayores a 90°



Ángulos mayores a 90°



El **seno** de α es la razón entre la ordenada y del punto P y su distancia r al origen de coordenadas.

El **coseno** de α es la razón entre la abscisa x del punto P y su distancia r al origen de coordenadas.

La **tangente** de α es la razón entre la ordenada y y la abscisa x del punto P.

Vemos que estas definiciones no dependen del punto P escogido.

En efecto, si consideramos otro punto P'

del lado extremo del ángulo α , obtenemos el triángulo $OP'A'$ semejante al OPA (fig. 4); entonces verificamos:

$$\frac{y'}{r'} = \frac{y}{r} = \text{sen } \alpha \quad \frac{x'}{r'} = \frac{x}{r} = \text{cos } \alpha \quad \frac{y'}{x'} = \frac{y}{x} = \text{tg } \alpha$$

Es decir, el valor de las razones trigonométricas no varía.

Ángulo	Sen	Cos	Tg
0°	0	1	0
30°	$\frac{1}{2}$	$\frac{\sqrt{3}}{2}$	$\frac{\sqrt{3}}{3}$
45°	$\frac{\sqrt{2}}{2}$	$\frac{\sqrt{2}}{2}$	1
60°	$\frac{\sqrt{3}}{2}$	$\frac{1}{2}$	$\sqrt{3}$
90°	1	0	-

Ejemplo 9

Calculemos el valor de las razones trigonométricas del ángulo α cuyo lado extremo pasa por el punto P (4, 3).

Aplicamos el teorema de Pitágoras en el triángulo rectángulo OAP para calcular r .

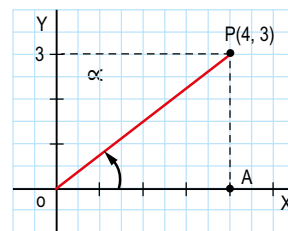
$$r = \sqrt{4^2 + 3^2} = 5$$

Entonces, se tiene que:

$$\text{sen } \alpha = \frac{3}{5}$$

$$\text{cos } \alpha = \frac{4}{5}$$

$$\text{tg } \alpha = \frac{3}{4}$$



Trabajo individual

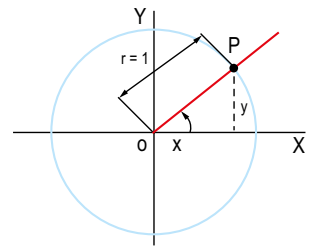
1. Sabiendo que las coordenadas de un punto P del lado extremo de un ángulo son $P(-4, -6)$, calcula el valor de las razones trigonométricas de dicho ángulo.

2.3. Circunferencia goniométrica

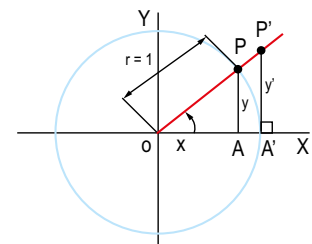
Como hemos visto, el valor de las razones trigonométricas de un ángulo α no depende del punto que tomemos sobre su lado extremo.

En particular, podemos considerar un punto P de su lado extremo situado sobre una circunferencia de radio 1 centrada en el origen de coordenadas. Esta circunferencia recibe el nombre de **circunferencia goniométrica**.

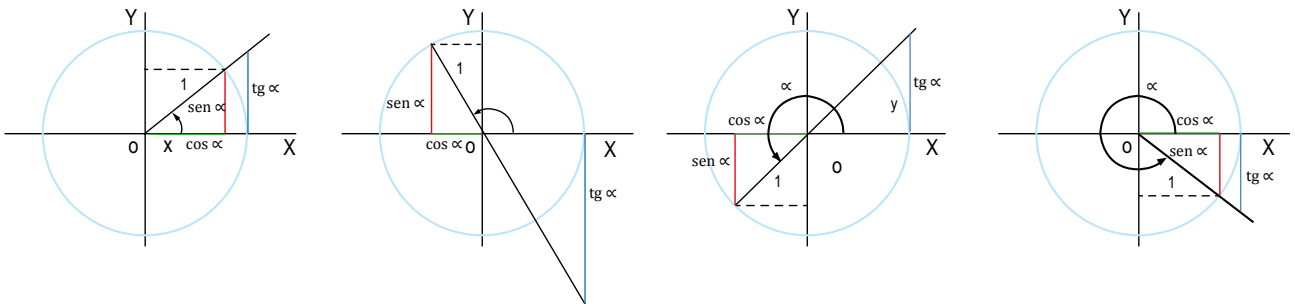
Vamos a ver cómo la circunferencia goniométrica nos permite obtener gráficamente de forma sencilla las razones trigonométricas de cualquier ángulo.



Seno	Coseno	Tangente
$\text{sen } \alpha = \frac{y}{r} = \frac{y}{1} = y$	$\text{cos } \alpha = \frac{x}{r} = \frac{x}{1} = x$	$\text{tg } \alpha = \frac{y'}{x'} = \frac{y'}{1} = y'$
El seno del ángulo coincide con la ordenada del punto del lado extremo del ángulo cuya distancia al origen vale 1.	El coseno del ángulo coincide con la abscisa del punto del lado extremo del ángulo cuya distancia al origen vale 1.	La tangente del ángulo coincide con la ordenada del punto del lado extremo del ángulo cuya abscisa vale 1.



Muestra cómo podemos obtener segmentos representativos del seno, del coseno y de la tangente de ángulos de cualquier cuadrante.



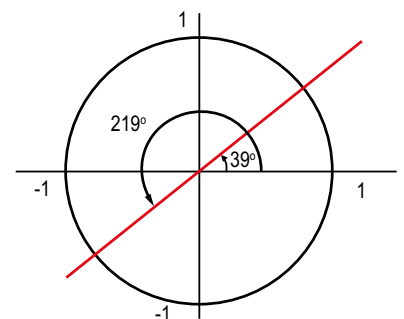
Ejemplo 10

Dibujemos en una circunferencia goniométrica, todos los ángulos cuya tangente sea 0,8.

Sobre una cuadrícula, trazamos una circunferencia de radio 10 cuadraditos, y que consideramos que representa la unidad.

Contamos 8 cuadraditos hacia arriba sobre la recta tangente que pasa por A', que representan el valor de 0,8, y dibujamos los lados extremos.

Medimos los ángulos con un transportador y obtenemos: 39° y 219°.



Trabajo individual

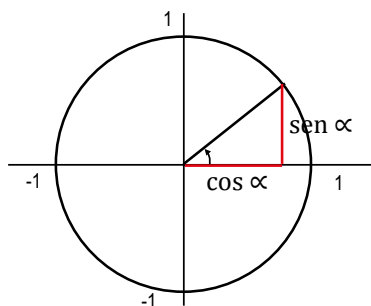
- Indica sobre una circunferencia goniométrica los segmentos representativos del seno, del coseno y de la tangente del ángulo de 150°.

2.4. Propiedades y relaciones de las razones trigonométricas

Veamos algunas propiedades de las razones trigonométricas, así como las relaciones que existen entre las razones trigonométricas de un mismo ángulo o de ángulos distintos.

Valor y signo de las razones trigonométricas

Si representamos un ángulo α cualquiera sobre un sistema de coordenadas, el valor del seno y el del coseno coinciden respectivamente con la ordenada y la abscisa del punto P del lado extremo cuya distancia al origen vale 1.



Y puesto que las coordenadas de dicho punto están comprendidas entre -1 y 1 , podemos afirmar que:

$$-1 \leq \text{sen } \alpha \leq 1$$

$$-1 \leq \text{cos } \alpha \leq 1$$

Cuadrante	Sen	Cos	Tg
	+	+	+
	+	-	-
	-	-	+
	-	+	-

Además, el signo de las razones trigonométricas del ángulo α depende únicamente del signo que tengan las coordenadas de P, es decir, del cuadrante al que pertenezca el ángulo α (tabla 2).

Relaciones entre las razones trigonométricas de un ángulo

Consideremos la circunferencia goniométrica y, por ejemplo, un ángulo α del primer cuadrante. Los catetos del triángulo rectángulo coloreado miden $y = \text{sen } \alpha$ y $x = \text{cos } \alpha$. Si aplicamos el teorema de Pitágoras a este triángulo, se tiene:

$$\text{sen}^2 \alpha + \text{cos}^2 \alpha = 1$$

Puesto que obtendríamos el mismo resultado si el ángulo perteneciera al segundo, tercero o cuarto cuadrantes, podemos entonces afirmar que para cualquier ángulo α verificamos:

$$\text{sen}^2 \alpha + \text{cos}^2 \alpha = 1$$

Esta expresión se conoce como **fórmula fundamental de la trigonometría**.

Por otro lado, se tiene que:

$$\left. \begin{array}{l} \text{sen } \alpha = y \\ \text{cos } \alpha = x \\ \text{tg } \alpha = \frac{y}{x} \end{array} \right\} \Rightarrow \text{tg } \alpha = \frac{\text{sen } \alpha}{\text{cos } \alpha}$$

Las expresiones:

$$\text{sen}^2 \alpha + \text{cos}^2 \alpha = 1 \text{ y } \text{tg } \alpha = \frac{\text{sen } \alpha}{\text{cos } \alpha}$$

Permiten calcular las razones trigonométricas de cualquier ángulo, en valor absoluto, una vez conocida una de ellas. Para determinar su signo, es necesario considerar el cuadrante al que pertenece dicho ángulo.

Escribimos $\text{sen}^2 \alpha$ para indicar $(\text{sen } \alpha)^2$.

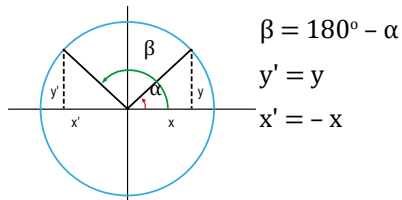
Trabajo individual

- Queremos medir la anchura del río en un tramo donde las orillas son paralelas. Para ello, marcamos en una de ellas dos puntos separados 100 m y desde dichos puntos, observamos otro punto de la orilla opuesta bajo dos visuales de 54° y 65° . ¿Qué anchura tiene el río?

Reducción al primer cuadrante

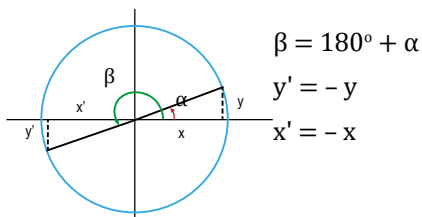
La siguiente tabla nos muestra cómo las razones trigonométricas de cualquier ángulo siempre coinciden, excepto en el signo, con las de algún ángulo del primer cuadrante.

Reducción del segundo cuadrante al primer cuadrante



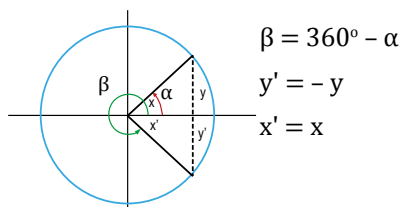
$$\begin{aligned}\beta &= 180^\circ - \alpha \\ y' &= y \\ x' &= -x \\ \text{sen}(180^\circ - \alpha) &= \text{sen } \alpha \\ \text{cos}(180^\circ - \alpha) &= -\text{cos } \alpha \\ \text{tg}(180^\circ - \alpha) &= -\text{tg } \alpha\end{aligned}$$

Reducción del tercer cuadrante al primer cuadrante



$$\begin{aligned}\beta &= 180^\circ + \alpha \\ y' &= -y \\ x' &= -x \\ \text{sen}(180^\circ + \alpha) &= -\text{sen } \alpha \\ \text{cos}(180^\circ + \alpha) &= -\text{cos } \alpha \\ \text{tg}(180^\circ + \alpha) &= \text{tg } \alpha\end{aligned}$$

Reducción del cuarto cuadrante al primer cuadrante



$$\begin{aligned}\beta &= 360^\circ - \alpha \\ y' &= -y \\ x' &= x \\ \text{sen}(360^\circ - \alpha) &= -\text{sen } \alpha \\ \text{cos}(360^\circ - \alpha) &= \text{cos } \alpha \\ \text{tg}(360^\circ - \alpha) &= -\text{tg } \alpha\end{aligned}$$

Estas relaciones permiten calcular las razones trigonométricas de cualquier ángulo, conociendo las de los ángulos del primer cuadrante.

Ejemplo 11

Calculemos las razones trigonométricas de un ángulo de 150° .

Se trata de un ángulo del segundo cuadrante. Por tanto:

$$\begin{aligned}\text{sen } 150^\circ &= \text{sen}(180^\circ - 30^\circ) \Rightarrow \text{sen } 30^\circ = \frac{1}{2} \\ \text{cos } 150^\circ &= \text{cos}(180^\circ - 30^\circ) \Rightarrow -\text{cos } 30^\circ = -\frac{\sqrt{3}}{2} \\ \text{tg } 150^\circ &= \text{tg}(180^\circ - 30^\circ) \Rightarrow -\text{tg } 30^\circ = -\frac{\sqrt{3}}{3}\end{aligned}$$

Ejemplo 12

Calculemos las razones trigonométricas de un ángulo de 315° .

Se trata de un ángulo del cuarto cuadrante. Por tanto:

$$\begin{aligned}\text{sen } 315^\circ &= \text{sen}(360^\circ - 45^\circ) \Rightarrow -\text{sen } 45^\circ = -\frac{\sqrt{2}}{2} \\ \text{cos } 315^\circ &= \text{cos}(360^\circ - 45^\circ) \Rightarrow \text{cos } 45^\circ = \frac{\sqrt{2}}{2} \\ \text{tg } 315^\circ &= \text{tg}(360^\circ - 45^\circ) \Rightarrow -\text{tg } 45^\circ = -1\end{aligned}$$

Ejemplo 13

Calculemos las razones trigonométricas de un ángulo de 240° .

Se trata de un ángulo del tercer cuadrante. Por tanto:

$$\begin{aligned}\text{tg } \alpha &= \frac{\text{sen } \alpha}{\text{cos } \alpha} = \frac{-0,6}{-0,8} = 0,75 \\ \text{sen } 240^\circ &= \text{sen}(180^\circ + 60^\circ) \Rightarrow -\text{sen } 60^\circ = -\frac{\sqrt{3}}{2} \\ \text{cos } 240^\circ &= \text{cos}(180^\circ + 60^\circ) \Rightarrow -\text{cos } 60^\circ = -\frac{1}{2} \\ \text{tg } 240^\circ &= \text{tg}(180^\circ + 60^\circ) \Rightarrow \text{tg } 60^\circ = \sqrt{3}\end{aligned}$$

Trabajo individual

- Sabiendo que el $\cos \theta = -\frac{3}{5}$ y que $180^\circ \leq \theta \leq 270^\circ$, calcula el seno y la tangente.
- Calcula, utilizando siempre un ángulo del primer cuadrante, las razones trigonométricas de estos ángulos.

a. 135°	d. 960°	c. 300°
b. 225°	e. -60°	
- Halla todos los ángulos comprendidos entre 0° y 360° que verifican $\cos \alpha = -\frac{1}{2}$.

3. Cuerpos geométricos

3.1. Poliedros

DCD. M.4.2.20. Construir pirámides, prismas, conos y cilindros a partir de patrones en dos dimensiones (redes) para calcular el área lateral y total de estos cuerpos geométricos.

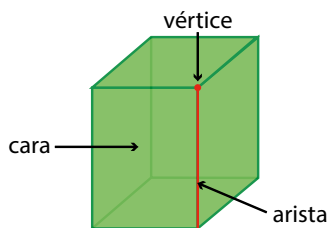
M.4.2.21. Calcular el volumen de pirámides, prismas, conos y cilindros aplicando las fórmulas respectivas.

En muchos objetos de la vida cotidiana, podemos observar formas poligonales.

Decimos que estos objetos tienen formas poliédricas o de poliedro.

Un **poliedro** es una región del espacio limitada por polígonos.

Los elementos característicos de un poliedro son los siguientes:



Cara: Cada uno de los polígonos de un poliedro.

Arista: Cada uno de los lados de los polígonos.

Vértice: Cada uno de los puntos de corte de las aristas.

Fijémonos en que las caras que concurren en un mismo vértice forman un ángulo poliedro.

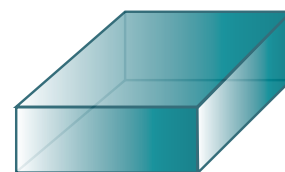
Así pues, podremos clasificar los poliedros en cóncavos o convexos.

Poliedro convexo	Poliedro cóncavo
<p>Un poliedro es convexo si tiene todos los ángulos convexos.</p>	<p>Un poliedro es cóncavo si alguno de sus lados es cóncavo.</p>

Observa el poliedro de la derecha. La suma del número de caras (6) y el número de vértices (8) es igual al número de aristas (12) más 2.

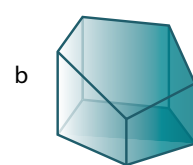
$$C + V = A + 2$$

Esta propiedad se cumple en todos los poliedros convexos y la llamamos **relación de Euler**.



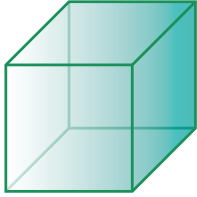
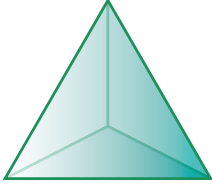
Trabajo individual

1. Cuenta el número de caras, vértices y aristas de los poliedros de la derecha, y comprueba que se cumple la relación de Euler.



3.2. Poliedros regulares

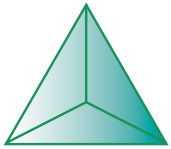


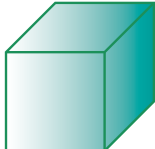






Observa estos poliedros:

	
<ul style="list-style-type: none"> • Sus caras son cuadrados. • En cada vértice concurren tres aristas. 	<ul style="list-style-type: none"> • Sus caras son triángulos equiláteros. • En cada vértice concurren tres aristas.

Estos dos poliedros son ejemplos de poliedros regulares.

Un **poliedro** es **regular** si todas sus caras son polígonos regulares y en cada uno de sus vértices concurre el mismo número de aristas.

Solo hay cinco poliedros regulares, cuyas propiedades puedes observar en la tabla siguiente:

Poliedro	 Tetraedro	 Octaedro	 Icosaedro	 Hexaedro o cubo	 Dodecaedro
Desarrollo plano					
Polígonos de las caras	Triángulo equilátero	Triángulo equilátero	Triángulo equilátero	Cuadrado	Pentágono
Número de aristas por vértice	3	4	5	3	3

Observa que el desarrollo plano se obtiene cortando el poliedro por las aristas hasta hacer coincidir todas las caras en un mismo plano.

Es fácil deducir que no pueden existir más poliedros regulares. Solo es preciso tener en cuenta que:

- Las caras que concurren en un mismo vértice tienen que formar un ángulo poliedro.
- La suma de los ángulos que concurren en el vértice del desarrollo plano de un ángulo poliedro es menor que 360° .




Consideremos, por ejemplo, el caso en que las caras son triángulos equiláteros.

Fijémonos en que la suma de los ángulos que concurren en el vértice del desarrollo

plano del ángulo poliedro correspondiente es menor de 360° .

Con esto, podemos ver que no puede existir un poliedro con seis o más triángulos equiláteros concurrentes. Si fuese así, la suma de los ángulos de las caras que concurrirían en un vértice sería 360° o más, lo cual es imposible.

Del mismo modo, podemos comprobar que el único poliedro cuyas caras son cuadradas es el cubo; el único cuyas caras son pentágonos regulares es el dodecaedro, y que no puede haber poliedros regulares cuyas caras sean polígonos regulares de seis o más lados.

Triángulos que concurren en un vértice	tres triángulos	cuatro triángulos	cinco triángulos
Desarrollo plano	Tetraedro	Octaedro	Icosaedro
Polígonos de las caras			
Número de aristas por vértice	$3 \cdot 60^\circ = 180^\circ < 360^\circ$	$4 \cdot 60^\circ = 240^\circ < 360^\circ$	$5 \cdot 60^\circ = 300^\circ < 360^\circ$

Trabajo individual

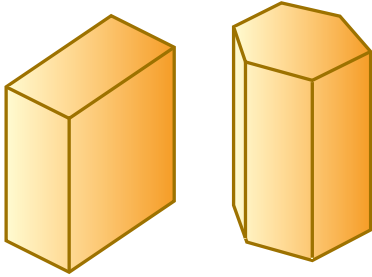
1. Dibuja un el desarrollo plano de un cubo, distinto al de la página anterior.
2. ¿Existe algún poliedro regular de caras triangulares que tenga el mismo número de aristas que el dodecaedro?
3. Explica por qué no es posible construir un poliedro regular en el que concurren cuatro caras cuadradas en cada vértice.
4. ¿Existe algún poliedro regular en el que concurren cuatro pentágonos regulares en cada vértice? Explica por qué.
5. Comprueba, para cada uno de los cinco poliedros regulares, que se cumple la relación de Euler:

$$C + V = A + 2$$

(C: número de caras; V: número de vértices; A: número de aristas)

3.3. Prismas

Observa los poliedros.

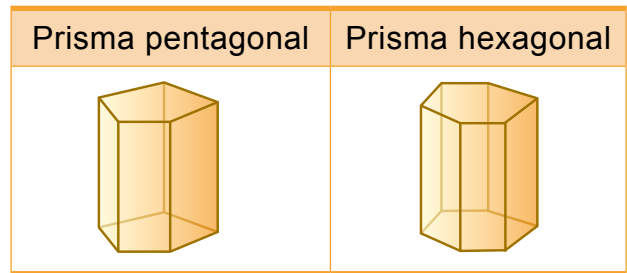
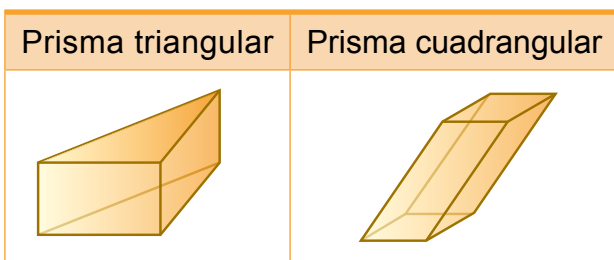
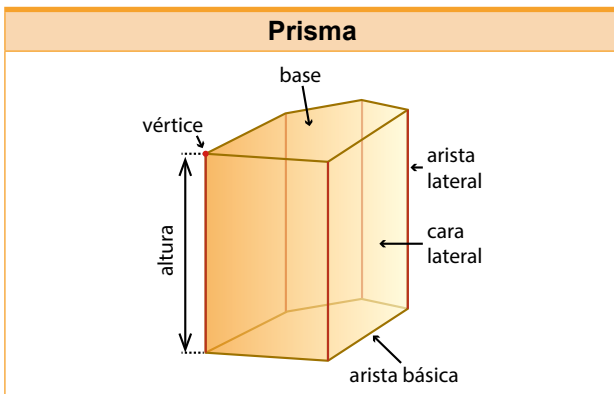


- Dos de sus caras son polígonos iguales y paralelos.
- El resto son paralelogramos.

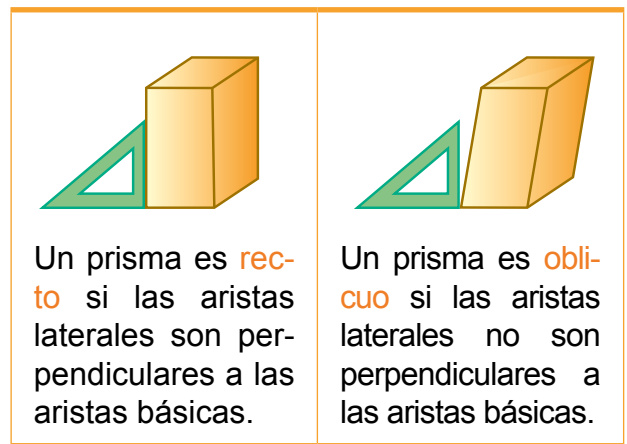
Un **prisma** es un poliedro en el que dos de sus caras son polígonos iguales y paralelos, y el resto son paralelogramos.

En la siguiente figura podemos observar cuáles son los elementos característicos de un prisma. La distancia entre los planos que contiene las bases es la **altura**.

Los prismas reciben el nombre de triangulares, cuadrangulares, pentagonales... según sus bases sean triángulos, cuadriláteros, pentágonos...



Además, los prismas pueden clasificarse en rectos y oblicuos.



Un prisma es **regular** si es recto y los polígonos de las bases son polígonos regulares.

A los prismas cuyas caras son todas **paralelogramos** los llamamos **paralelepípedos**.

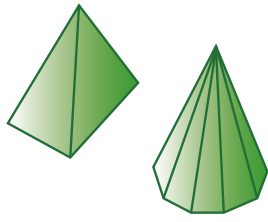
El más conocido es el **ortopedro** que está formado por seis caras rectangulares iguales dos a dos.



3.4. Pirámides

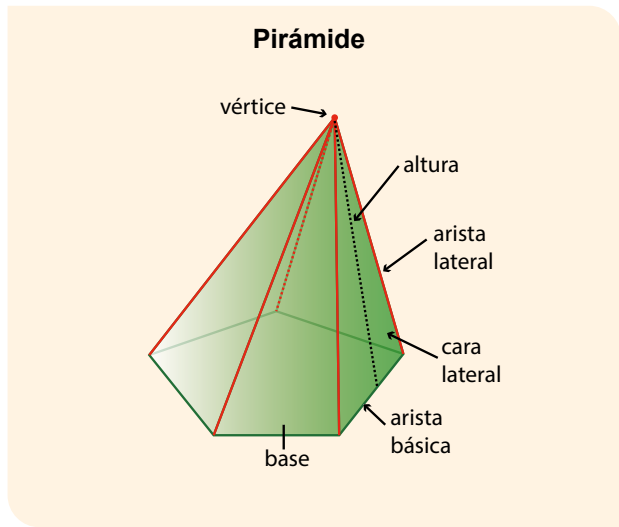
Fíjate en los poliedros.

- Una de sus caras es un polígono cualquiera.
- Las otras caras son triángulos que tienen un vértice común.



Una **pirámide** es un poliedro en el que una de sus caras es un polígono cualquiera y las otras son triángulos que tienen un vértice común.

Sus elementos característicos se muestran en la figura 4. La distancia entre el vértice y el plano que contiene la base es la **altura**. Como en el caso de los prismas, las pirámides reciben el nombre de: *triangulares, cuadrangulares, pentagonales...*, según sea la base.



Pirámide pentagonal	Pirámide hexagonal

Igual que los prismas, a las pirámides las podemos clasificar en rectas y oblicuas.

Una pirámide es recta si todas las caras laterales forman el mismo ángulo diedro con la base.	Una pirámide es oblicua si las caras laterales no forman el mismo ángulo diedro con la base.

Tronco de pirámide

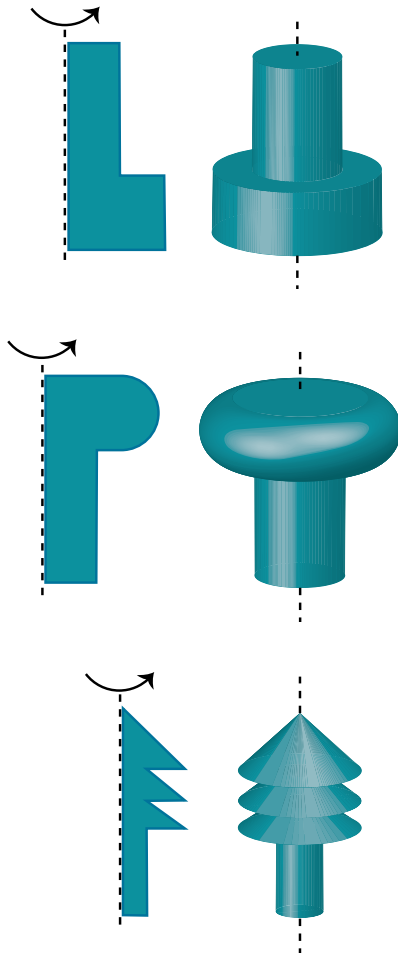
Si seccionamos una pirámide por un plano paralelo a su base, obtenemos otro cuerpo que llamamos **tronco de pirámide**.

Pirámide triangular	Pirámide cuadrangular

3.5. Cuerpos de revolución

Hasta ahora hemos estudiado cuerpos cuyas caras son polígonos, pero no todos los objetos cumplen esta característica.

Observa la formación de los siguientes objetos:



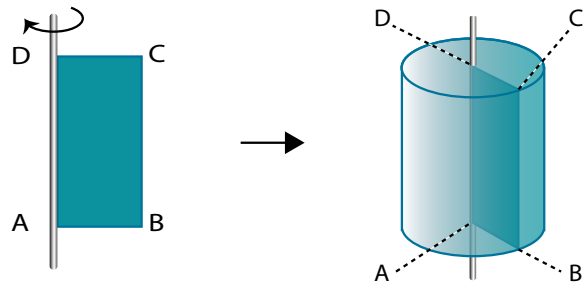
A estos cuerpos los denominamos *cuerpos de revolución*.

Los **cuerpos de revolución** son cuerpos que obtenemos al girar una figura plana 360° alrededor de un eje.

Cilindro

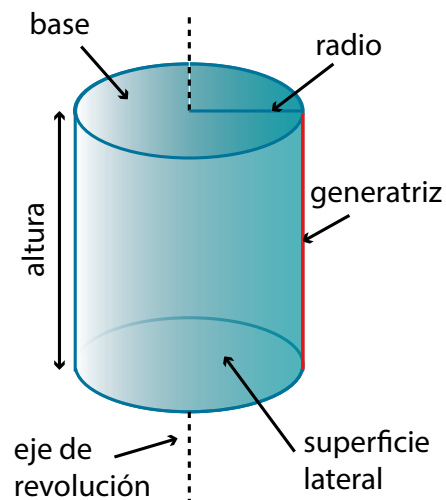
Observa la figura de la derecha.

Al girar 360° un rectángulo alrededor de uno de sus lados, obtenemos un cuerpo geométrico que se llama *cilindro de revolución* o, simplemente, *cilindro*.



Un **cilindro** es el cuerpo que obtenemos al girar 360° un rectángulo alrededor de uno de sus lados.

Sus elementos característicos son los siguientes:



Eje de revolución: Recta que contiene el lado alrededor del cual gira el rectángulo.

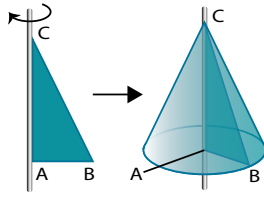
Generatriz: Lado paralelo al eje de revolución que genera la **superficie lateral**.

Bases: Círculos generados por los lados perpendiculares al eje de revolución. La longitud de estos lados son los **radios** de dichos círculos.

Altura: Distancia entre los planos que contienen las bases del cilindro.

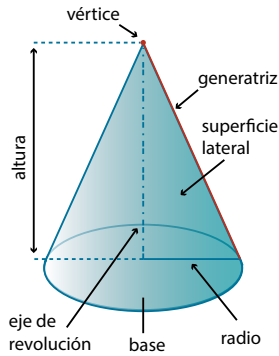
Cono

Observa la figura.



En este caso consideramos un triángulo rectángulo que gira 360° alrededor de uno de sus catetos, y obtenemos así un cuerpo geométrico denominado *cono*.

Un **cono** es el cuerpo que obtenemos al hacer girar 360° un triángulo rectángulo alrededor de uno de sus catetos.



Eje de revolución: Recta que contiene el cateto alrededor del cual gira el triángulo.

Generatriz: Hipotenusa del triángulo que genera la **superficie lateral**.

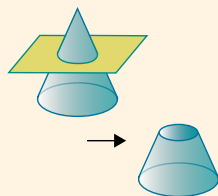
Base: Círculo generado por el cateto perpendicular al eje de revolución. La longitud de dicho cateto es el **radio** del círculo.

Vértice: Punto donde se cortan la generatriz y el eje de revolución.

Altura: Distancia entre el vértice y el plano que contiene la base.

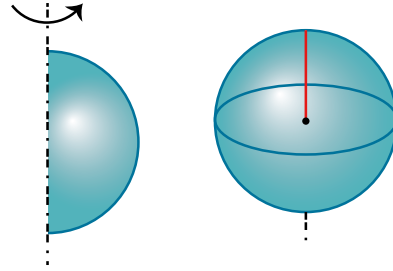
Tronco de cono

Si seccionamos un cono por un plano paralelo a su base, obtenemos otro cuerpo que llamamos **tronco de cono**.



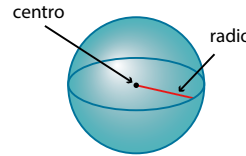
Esfera

Observa en la figura de cómo obtenemos una esfera a partir de un semicírculo.



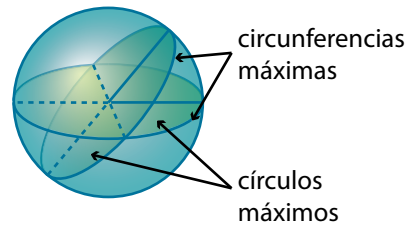
La **esfera** es el cuerpo que obtenemos al girar 360° un semicírculo alrededor de su diámetro.

Sus elementos característicos son estos:

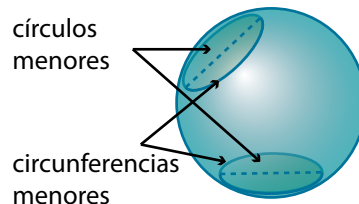


Centro: Punto del que todos los puntos de la superficie esférica distan lo mismo.

Radio: Segmento que une el centro con un punto cualquiera de la superficie esférica.



Las **circunferencias máximas** son circunferencias con el centro y el radio de la esfera. A los círculos que limitan los llamamos círculos máximos.



Las **circunferencias menores** son circunferencias situadas en la superficie de la esfera y que no pasan por el centro de esta. A los círculos que limitan los llamamos círculos menores.

3.6. Áreas de cuerpos geométricos

Aplicar el cálculo de áreas de polígonos y de figuras geométricas compuestas presentes en el entorno. (Ref. M.4.2. (18,19))

Observa los siguientes edificios:

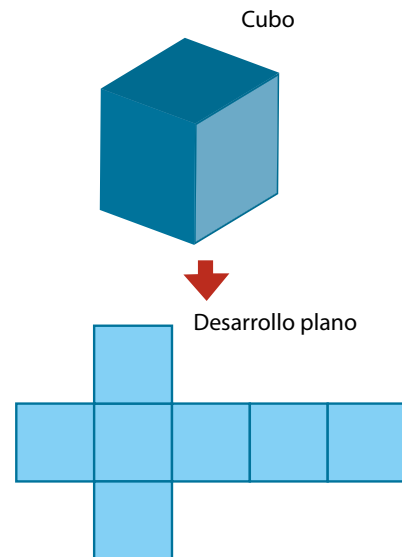


Pie de foto: Cityhall
Londres - Inglaterra



Pie de foto: Casa de la Ópera
Sidney - Australia

Como podemos ver, son cuerpos geométricos. Si quisiéramos construir una maqueta con cartulina, necesitaríamos calcular cuánta nos haría falta. Es decir, necesitaríamos calcular las áreas de los cuerpos geométricos.



La superficie del desarrollo plano del cubo coincide con la superficie de sus caras. Decimos que la medida de esta superficie es el área del cubo.

El **área** de un **poliedro** es la medida de la superficie de las caras que lo forman.

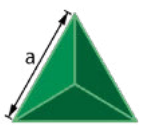

Áreas de poliedros



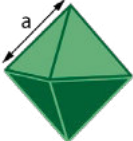

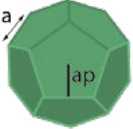

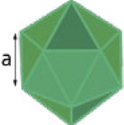

Observa el cubo de la figura y su correspondiente desarrollo plano.

Algunos poliedros, como los prismas y las pirámides, tienen caras laterales. Al área de sus caras laterales las llamamos **área lateral** del poliedro.

Poliedros regulares

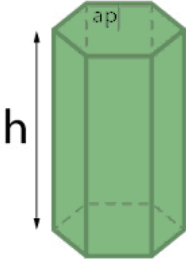
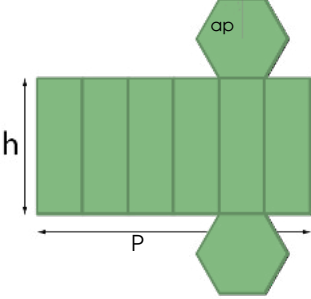
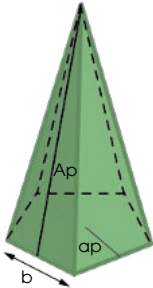
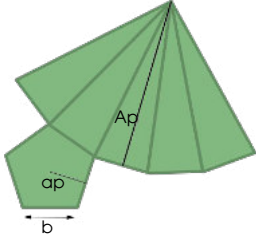
Recuerda que solo hay cinco poliedros regulares. Veamos cuál es el área de cada uno de ellos a partir de su desarrollo plano.

Poliedro regular	Desarrollo plano	Polígonos de las caras	Número de caras	Área
 Tetraedro		Triángulo equilátero	4	$A = 4 \cdot A_{\text{triángulo}}$ \downarrow $A = \sqrt{3} a^2$

 Hexaedro o cubo		Cuadrado	6	$A = 6 \cdot A_{\text{cuadrado}}$ \downarrow $A = 6 a^2$
 Octaedro		Triángulo equilátero	8	$A = 8 \cdot A_{\text{triángulo}}$ \downarrow $A = 2\sqrt{3} a^2$
 Dodecaedro		Pentágono regular	12	$A = 12 \cdot A_{\text{pentágono}}$ \downarrow $A = 30 a \cdot ap$
 Icosaedro		Triángulo equilátero	20	$A = 20 \cdot A_{\text{triángulo}}$ \downarrow $A = 5\sqrt{3} a^2$

Prisma regular y pirámide regular


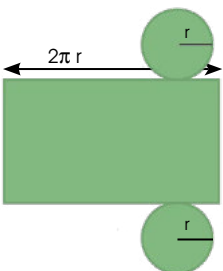
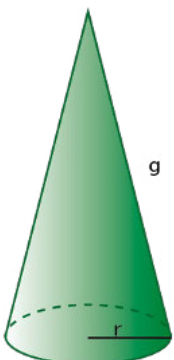
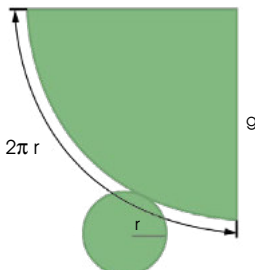
Observa cómo se calculan el área lateral y el área total de un prisma regular y de una pirámide regular a partir de sus desarrollos planos.

Figura	Desarrollo plano	Área lateral y área total
 Prisma		<ul style="list-style-type: none"> Área lateral: La superficie lateral forma un rectángulo de base el perímetro P del polígono de la base y de altura h. $A_{\text{lateral}} = P \cdot h$ Área de la base: Es el área del polígono regular que forma la base del prisma. $A = \frac{P \cdot ap}{2}$ Área total: La obtenemos sumando el área lateral y el área de las dos bases. $A_{\text{total}} = A_{\text{lateral}} + 2 \cdot A_{\text{base}}$
 Pirámide		<ul style="list-style-type: none"> Área lateral: Las caras son n triángulos ($n = \text{lados del polígono de la base}$) de base b y de altura Ap. Entonces el área lateral es: $A_{\text{lateral}} = n \cdot \frac{b \cdot Ap}{2} = \frac{P \cdot ap}{2}$ Área de la base: Es el área del polígono regular que forma la base de la pirámide. $A_{\text{base}} = \frac{P \cdot ap}{2}$ Área total: La obtenemos sumando el área lateral y el área de la base. $A_{\text{total}} = A_{\text{lateral}} + A_{\text{base}}$

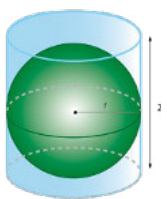
Áreas de cuerpos de revolución

Cilindro y cono

Veamos cómo podemos calcular el área lateral y el área total de un cilindro y de un cono, de generatriz g y radio de los círculos de las respectivas bases r , a partir de sus desarrollos planos.

Figura	Desarrollo plano	Área lateral y área total
 <p>Cilindro</p>		<ul style="list-style-type: none"> • Área lateral: La superficie lateral forma un rectángulo. La longitud de la base de este rectángulo es la longitud de la circunferencia de radio r y su altura es g. $A_{\text{lateral}} = 2 \pi r \cdot g$ • Área de la base: Las bases del cilindro son círculos de radio r. El área de cada una es: $A_{\text{base}} = \pi r^2$ • Área total: La obtenemos sumando el área lateral y el área de las dos bases. $A_{\text{total}} = A_{\text{lateral}} + 2 \cdot A_{\text{base}} = 2 \pi r \cdot g + 2 \pi r^2 = 2 \pi r \cdot (g + r)$
 <p>Cono</p>		<ul style="list-style-type: none"> • Área lateral: La superficie lateral es un sector circular de longitud de arco $2 \pi r$ y de radio g. Así: $A_{\text{lateral}} = 2 \pi r \cdot \frac{g}{2} = \pi r \cdot g$ • Área de la base: La base del cono es un círculo de radio r. Así, su área es: $A_{\text{base}} = \pi r^2$ • Área total: La obtenemos sumando el área lateral y el área de la base. $A_{\text{total}} = A_{\text{lateral}} + A_{\text{base}} = \pi r \cdot g + \pi r^2 = \pi r \cdot (g + r)$

Superficie de la Esfera



La esfera no tiene desarrollo plano, tendremos que buscar otro método para poder calcular su área.

Arquímedes, en el siglo III a. C., obtuvo que el área de una esfera de radio r y el área de un cilindro de generatriz $2r$ y de radio r satisfacen la relación siguiente:

$$A_{\text{esfera}} = \frac{2}{3} A_{\text{cilindro}}$$

Como el área de este cilindro es $A_{\text{cilindro}} = 6 \pi r^2$, obtenemos la siguiente fórmula: $A_{\text{esfera}} = 4 \pi r^2$.

El área de una esfera de radio r es: $A_{\text{esfera}} = 4 \pi r^2$

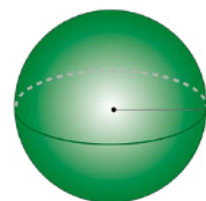
Ejemplo 14

Calculemos el área de esta esfera.

Aplicamos la expresión anterior.

$$A_{\text{esfera}} = 4 \pi r^2 = 4 \pi \cdot 16 = 64 \pi \approx 200,96$$

El área de una esfera de 4 cm de radio es 200,96 cm².

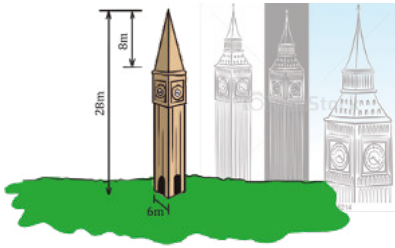


Áreas de cuerpos compuestos

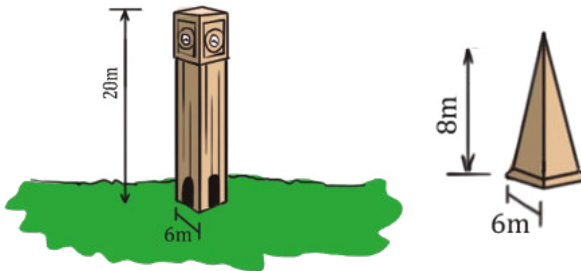
Como en las figuras planas, para calcular el área de un cuerpo geométrico, podemos descomponerlo en cuerpos geométricos cuyas áreas sepamos calcular y, a partir de estas, obtener la del cuerpo geométrico inicial.

Ejemplo 15

Calculemos la cantidad de cartulina que se ha de utilizar para construir la maqueta de un campanario como este (sin tener en cuenta las pestañas) si consideramos la razón de semejanza $k = \frac{1}{20}$.



- Calculamos el área del campanario. Para ello, observamos que está formada por la superficie lateral de un prisma de base cuadrada y por la de una pirámide.



Calculamos las áreas de estas superficies:

- Área lateral del prisma. La altura es de 20 m y su base es un cuadrado cuyo perímetro mide 24 m. Así, su área lateral es:

$$A_1 = P \cdot h = 24 \cdot 20 = 480 \text{ m}^2$$

- Área lateral de la pirámide. Para calcularla necesitamos conocer la apotema. Así, hemos de aplicar el teorema de Pitágoras al triángulo de la figura.

$$ap^2 = h^2 + l^2$$

$$ap^2 = 8^2 + 3^2 = 73 \Rightarrow ap = \sqrt{73} \approx 8,5$$



Entonces, el área lateral de la pirámide es:

$$A_2 = \frac{P \cdot ap}{2} \approx \frac{24 \cdot 8,5}{2} = 102 \text{ m}^2$$

- Después, obtenemos el área del campanario.

$$A_{\text{campanario}} = A_1 + A_2 \approx 480 + 102 = 582 \text{ m}^2$$

- Finalmente, obtenemos el área de la maqueta.

Debemos utilizar la siguiente relación:

$$\frac{A_{\text{maqueta}}}{A_{\text{campanario}}} = k^2$$

Así:

$$A_{\text{maqueta}} = k^2 \cdot A_{\text{campanario}} = \left(\frac{1}{20}\right)^2 \cdot 582 = 1,46 \text{ m}^2$$

Por lo tanto, necesitaremos $1,46 \text{ m}^2$ de cartulina para construir la maqueta.

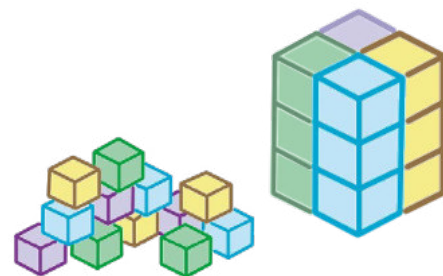
3.7. Volúmenes de cuerpos geométricos

M.4.2.21. Calcular el volumen de pirámides, prismas, conos y cilindros aplicando las fórmulas respectivas. Resolver problemas que impliquen el cálculo de volúmenes (Ref. M.4.2.22.).

Todo cuerpo ocupa una determinada región del espacio. Fijémonos en estas dos pilas de cajas.

Todas las cajas son iguales y hay el mismo número de cajas. Por lo tanto, aunque la forma de ambas pilas sea diferente, el espacio que ocupan es el mismo.

Decimos que las dos pilas de cajas ocupan el mismo volumen.




El **volumen** de un cuerpo es la medida del espacio que ocupa.

Volúmenes de poliedros

Veamos cómo se calculan los volúmenes de los poliedros más sencillos: el prisma y la pirámide.

Prisma

Consideramos un prisma de altura h como el de la izquierda.



— En el prisma caben veinticuatro cubos de 1 cm de arista.

— Cada cubo tiene un volumen de 1 cm^3 .

Por lo tanto, el volumen del prisma es de 24 cm^3 . Fíjate en que el volumen del prisma coincide con el producto del área de la base por su altura.

$$A_{\text{base}} \cdot h = 6 \cdot 4 = 24 \Rightarrow V_{\text{prisma}} = 24 \text{ cm}^3$$

El volumen de un prisma de altura h es el producto del área de su base por su altura.

$$V_{\text{prisma}} = A_{\text{base}} \cdot h$$

Si el prisma es un cubo de arista a , como el área de la base es a^2 , tenemos:

$$V_{\text{cubo}} = A_{\text{base}} \cdot a = a^2 \cdot a = a^3$$

Ejemplo 16

Calculemos el volumen de este contenedor.

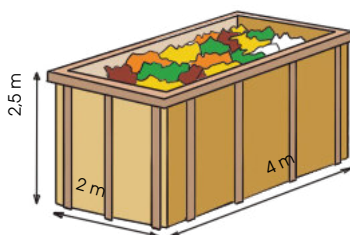
— Calculamos el área de la base.

$$A_{\text{base}} = 4 \cdot 2 = 8$$

— Aplicamos la fórmula anterior para obtener el volumen del prisma.

$$V_{\text{prisma}} = A_{\text{base}} \cdot h = 8 \cdot 2,5 = 20$$

Por lo tanto, el volumen del contenedor es 20 m^3 .



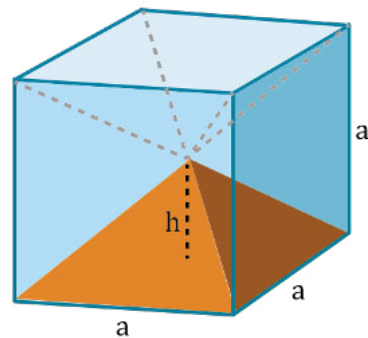
Volumen de la Pirámide

Consideramos una pirámide de altura h dentro de un cubo de arista a , siendo a el doble de h , como muestra la figura. Podemos comprobar que, en este caso, dentro del cubo puedes colocar seis pirámides iguales de altura h .

— El volumen de la pirámide es la sexta parte del volumen del cubo.

— El área de la base de la pirámide, A_{base} , es el área de la base del cubo, a^2 .

Por lo tanto, tenemos:



$$V_{\text{pirámide}} = \frac{1}{6} V_{\text{cubo}} = \frac{a^3}{6} = \frac{a^2 \cdot a}{6} = \frac{a^2 \cdot 2h}{6} = \frac{a^2 \cdot h}{3} = \frac{A_{\text{base}} \cdot h}{3}$$

El volumen de una pirámide de altura h es igual a un tercio del producto del área de su base por su altura.

$$V_{\text{pirámide}} = \frac{A_{\text{base}} \cdot h}{3}$$

Ejemplo 17

Calculemos el volumen de esta pirámide.

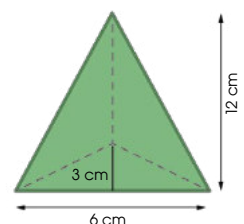
— Calculamos el área de la base:

$$A_{\text{base}} = \frac{6 \cdot 3}{2}$$

— Aplicamos la fórmula anterior para obtener el volumen de la pirámide.

$$V_{\text{pirámide}} = \frac{A_{\text{base}} \cdot h}{3} = \frac{9 \cdot 12}{3} = 36$$

Por lo tanto, el volumen de la pirámide es de 36 cm^3 .

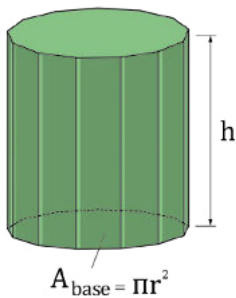


Volúmenes de cuerpos de revolución

Hemos obtenido el volumen de los prismas y el de las pirámides a partir del volumen del cubo. A continuación, calcularemos los volúmenes de los cuerpos de revolución comparándolos con los de prismas y pirámides.

Cilindro

Consideremos un cilindro de altura h y de radio r .



Podemos imaginar el cilindro como un prisma regular de un número elevado de caras, como muestra la figura. Entonces se cumple:

- La altura del prisma h coincide con la altura del cilindro.
- El área de la base del prisma coincide con el área de la base del cilindro.

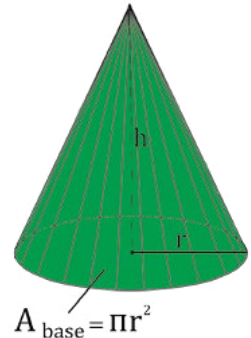
Por lo tanto, tenemos:

$$V_{\text{cilindro}} = V_{\text{prisma}} = A_{\text{base}} \cdot h$$

Cono

Consideremos ahora un cono de altura h y de radio r .

Podemos imaginar el cono como una pirámide regular de un número elevado de caras, como muestra la figura.



Entonces se cumple:

- La altura de la pirámide h coincide con la altura del cono.
- El área de la base de la pirámide coincide con el área de la base del cono.

Por lo tanto, tenemos:

$$V_{\text{cono}} = V_{\text{pirámide}} = \frac{A_{\text{base}} \cdot h}{3}$$

El **volumen** de un **cono** de altura h y de radio r es igual a un tercio del producto del área de su base por su altura.

$$V_{\text{cono}} = V_{\text{pirámide}} = \frac{A_{\text{base}} \cdot h}{3} = \frac{\pi r^2 \cdot h}{3}$$

El **volumen** de un **cilindro** de altura h y de radio r es igual al producto del área de su base por su altura. $V_{\text{cilindro}} = A_{\text{base}} \cdot h = \pi r^2 \cdot h$

Ejemplo 18

Calculemos el volumen de este bidón. ¿Con cuántos litros de agua lo podemos llenar?

Calculamos el volumen del bidón.

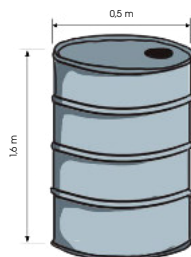
- Calculamos el área de la base:
 $A_{\text{base}} = \pi \cdot 0,5^2 \approx 0,79$
- Aplicamos la fórmula anterior para obtener el volumen del cilindro.

Calculamos ahora la capacidad del bidón en litros: $1,26 \text{ m}^3 = 1,26 \text{ kl} = 1\,260 \text{ l}$.

Podemos llenar el bidón con $1\,260 \text{ l}$ de agua.

$$V_{\text{cilindro}} = A_{\text{base}} \cdot h \approx 0,79 \cdot 1,6 = 1,26$$

El volumen del bidón es de $1,26 \text{ m}^3$.



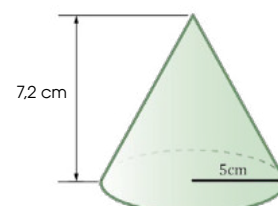
Ejemplo 19

Calculemos el volumen del cono de la derecha.

- Hallamos el área de la base:
 $A_{\text{base}} = \pi \cdot 5^2 \approx 78,5$.
- Aplicamos la fórmula anterior para obtener el volumen del cono.

$$V_{\text{cono}} = \frac{A_{\text{base}} \cdot h}{3} \approx \frac{78,5 \cdot 7,2}{3} = 188,4$$

Por lo tanto, el volumen del cono es de aproximadamente $188,4 \text{ cm}^3$.



Esfera

A continuación, consideraremos una esfera de radio r .

Para determinar el volumen, consideraremos la esfera formada por un gran número de pirámides, con vértice en el centro de la esfera y altura igual al radio de esta. Entonces, se cumple:

— El volumen de cada una de las pirámides es:

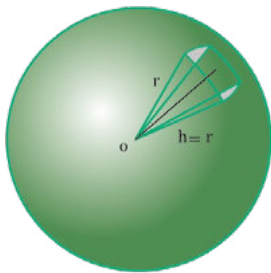
$$V_{\text{pirámide}} = \frac{A_{\text{base}} \cdot r}{3}$$

— El volumen de la esfera es la suma de los volúmenes de las pirámides que la forman.

$$V_{\text{esfera}} = V_1 + V_2 + \dots = \frac{A_{b1} \cdot r}{3} + \frac{A_{b2} \cdot r}{3} + \dots = \frac{(A_{b1} + A_{b2} + \dots) \cdot r}{3}$$

— El área de la esfera es igual a la suma de las bases de todas las pirámides que la forman.

$$V_{\text{esfera}} = \frac{1}{3} \cdot r \cdot (A_{b1} + A_{b2} + \dots) = \frac{1}{3} \cdot r \cdot 4\pi r^2 = \frac{4}{3} \pi r^3$$



El **volumen** de una **esfera** de radio r es igual a cuatro tercios del producto del número π por el radio al cubo.

$$V_{\text{esfera}} = \frac{4}{3} \pi r^3$$

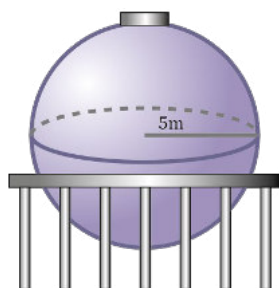
Ejemplo 20

Calculemos el volumen de este depósito.

— Aplicamos la fórmula anterior para obtener el volumen de la esfera.

$$V_{\text{esfera}} = \frac{4}{3} \pi r^3 = \frac{4}{3} \pi 5^3 \approx 523,33$$

Por lo tanto, el volumen del depósito es de $523,33 \text{ m}^3$.

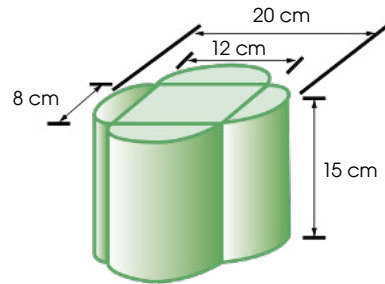


Volúmenes de cuerpos compuestos

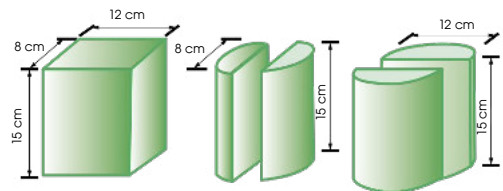
Podemos calcular el volumen de un cuerpo geométrico compuesto dividiéndolo en cuerpos geométricos de los que sepamos calcular sus volúmenes.

Ejemplo 21

Calculemos el volumen del siguiente cuerpo geométrico:



— Esta figura puede descomponerse en un prisma y cuatro semicilindros iguales dos a dos.



— Calculamos las áreas de las bases y el volumen de cada una de las figuras:

- Área de la base del prisma: $A_{\text{base}} = 12 \cdot 8 = 96 \text{ cm}^2$

- Volumen del prisma: $V_p = A_{\text{base}} \cdot h = 96 \cdot 15 = 1\,440 \text{ cm}^3$

- Áreas de las bases de los cilindros. En este ejemplo, tenemos cuatro cilindros partidos por la mitad iguales dos a dos, que es lo mismo que tener dos cilindros cuyas bases son dos círculos de radios 4 cm y 6 cm.

$$A_{\text{base1}} = \pi \cdot r_1^2 = \pi \cdot 4^2 \approx 50,3 \text{ cm}^2$$

$$A_{\text{base2}} = \pi \cdot r_2^2 = \pi \cdot 6^2 \approx 113,1 \text{ cm}^2$$

- Volúmenes de los cilindros.

$$V_{c1} = A_{\text{base1}} \cdot h \approx 50,3 \cdot 15 = 754,5 \text{ cm}^3$$

$$V_{c2} = A_{\text{base2}} \cdot h \approx 113,1 \cdot 15 = 1\,696,5 \text{ cm}^3$$

— Finalmente, obtenemos el volumen de la figura.

$$V = V_p + V_{c1} + V_{c2} \approx 1\,440 + 754,5 + 1\,696,5 = 3\,891$$

El volumen de la figura es de $3\,891 \text{ cm}^3$.



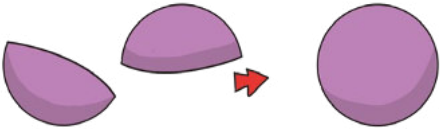
Estimación de volúmenes

Para hallar los volúmenes de los cuerpos geométricos, realizamos mediciones de las dimensiones del objeto y los valores obtenidos los sustituimos en la fórmula con la que podemos calcular el volumen del cuerpo correspondiente.

Es posible que queramos conocer el volumen de un objeto y no dispongamos de instrumentos para tomar sus medidas y poder calcularlo.

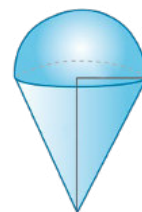
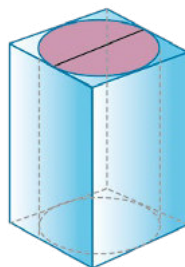
En estos casos llevaremos a cabo una estimación del volumen, que consiste en hallar un valor aproximado del volumen que queremos calcular.

A continuación, te presentamos una serie de estrategias que pueden resultarte útiles a la hora de efectuar una estimación.

Estrategia	Descripción	Ejemplo
Estimación de longitudes y aplicación de fórmulas	Usamos estrategias de longitud para estimar las dimensiones del cuerpo geométrico y aplicamos fórmulas para obtener el volumen.	Para obtener el volumen de una caja, estimamos sus dimensiones y aplicamos la fórmula del volumen de un prisma. 
Adición repetida	Rellenamos mentalmente el volumen que vamos a medir con la unidad de medida elegida y contamos el número de veces que está contenida.	Para medir el volumen de un muro, estimamos el volumen de un ladrillo y contamos el número de ladrillos que lo forman. 
Reestructuración	Separamos una parte del objeto y la unimos en otro lugar para obtener un volumen más fácil de calcular.	Transformamos estas dos semiesferas en una única esfera. 

Trabajo individual

1. Calcula los volúmenes de los siguientes cuerpos geométricos:



Indicadores de evaluación

- Construye figuras simétricas; resuelve problemas geométricos que impliquen el cálculo de longitudes con la aplicación de conceptos de semejanza y la aplicación del teorema de Tales; justifica procesos aplicando los conceptos de *congruencia* y *semejanza*. (I.1., I.4.)
- Resuelve problemas geométricos que requieran del cálculo de áreas de polígonos regulares, áreas y volúmenes de pirámides, prismas, conos y cilindros; aplica como estrategia de solución la descomposición en triángulos y/o la de cuerpos geométricos; explica los procesos de solución empleando la construcción de polígonos regulares y cuerpos geométricos; juzga la validez de resultados. (I.3., I.4.)

1 Escribe V o F según los enunciados sean verdadero o falso.

- Línea poligonal abierta es aquella que no tiene extremos. ()
- Polígonos que tienen nueve lados se llaman eneágonos. ()
- Un polígono es cóncavo si tiene al menos un ángulo interno cóncavo. ()
- Si hay polígonos regulares cóncavos. ()

2 Relaciona la columna Polígono con la columna del área del polígono.

Polígono	Área del Polígono
a. Triángulo	I. $\frac{(b+x) \cdot h}{2}$
b. Rectángulo	II. $\frac{D \cdot h}{2}$
c. Rombo	III. $b \cdot h$
d. Polígono regular	IV. $\frac{b \cdot h}{2}$
e. Trapecio	V. $\frac{P \cdot ap}{2}$

Opciones de respuesta

- aI, bIII, cII, dIV, eV
- aII, bI, cIII, dV, eIV
- aIII, bII, cI, dIV, eV
- aIV, bIII, cII, dV, eI

3 Encuentra la respuesta correcta en los ejercicios.

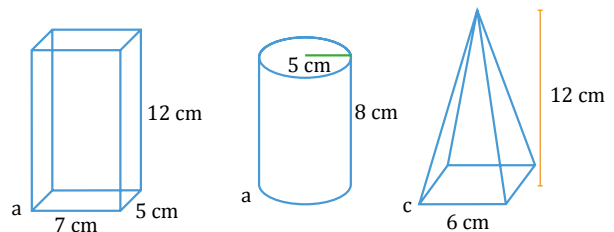
a. Polígono regular de nueve lados, el radio de la circunferencia es de 8m y la apotema de 6m.

- $P = 72m$; $A = 571,32m^2$
- $P = 95,22m$; $A = 285,66m^2$
- $P = 96,22m$; $A = 380,88m^2$

b. Trapecio rectángulo de altura 15m y lados paralelos de 56 y 16m.

- $P = 71,49m$; $A = 615m^2$
- $P = 75,49m$; $A = 187,5m^2$
- $P = 73,49m$; $A = 307,5m^2$

2 Relacione con una línea el nombre de los cuerpos geométricos con su área llena el cuadrado con los datos de los cuerpos geométricos.



Cuerpo Geométrico	Área
a. Prisma cuadrangular recto	408 cm ²
b. Cilindro	148.8 cm ²
c. Pirámide cuadrangular rectangular	358 cm ²

Autoevaluación

- Utilizo estrategias de descomposición en triángulos en el cálculo de áreas de figuras compuestas, y en el cálculo de cuerpos compuestos; aplico el teorema de Pitágoras y las relaciones trigonométricas para el cálculo de longitudes desconocidas de elementos de polígonos o cuerpos geométricos, como requerimiento previo a calcular áreas de polígonos regulares, áreas y volúmenes de cuerpos, en contextos geométricos o en situaciones reales. (I.1, I.3., I.4.)



edbo

Para empezar

- ¿Cuál es la probabilidad de que supere el récord actual?
- ¿Cuál será el promedio de alcance de la deportista?
- ¿Cuál es la probabilidad de que la lanza llegue al rango aceptable?

Objetivo

Reconocer las relaciones que existen entre los conjuntos de números enteros, ordenar estos números y operar con ellos para lograr una mejor comprensión de procesos algebraicos y de las funciones (discretas y continuas); y fomentar el pensamiento lógico y creativo.

Introducción

En esta unidad estudiaremos las medidas de tendencia central y el cálculo de probabilidades de diferentes eventos.

Contenidos

1. Medidas Estadísticas

- 1.1. Medidas de tendencia central
- 1.2. Medidas de dispersión para datos no agrupados
- 1.3. Medidas de dispersión para datos agrupados

2. Medidas de posición estadística

- 2.1. Cuartiles, deciles y percentiles

3. Probabilidad

- 3.1. Definición de *probabilidad*
- 3.2. Números factoriales
- 3.3. Métodos de conteo

1. Medidas estadísticas

1.1. Medidas de tendencia central

DCD. M.4.3.7. Calcular e interpretar las medidas de tendencia central (media, mediana, moda) y medidas de dispersión (rango, varianza y la desviación estándar) de un conjunto de datos en la solución de problemas.

La etapa final de un estudio estadístico es el análisis de los datos recogidos con el fin de **extraer conclusiones** que puedan ser de interés.

En el caso de la estadística unidimensional, la información contenida en tablas y gráficos puede ser descrita mediante ciertos valores, denominados **parámetros** o medidas estadísticas. Estas medidas pueden ser de **centralización**, de **dispersión** o de **posición**.

El objetivo principal de las medidas de tendencia central es poder representar por medio de un solo número al conjunto de datos, es decir, dar valores representativos de la distribución de frecuencias, situados en algún lugar intermedio, alrededor del cual, se encuentran los otros valores. Nos indican dónde tienden a concentrarse los valores.

Las medidas de centralización son valores considerados representativos de la serie de datos. Los más utilizados son: la **moda**, la **media aritmética** y la **mediana**.

Parámetros de centralización en

Los más usuales son la moda, la media aritmética y la mediana. Recordemos sus definiciones y cómo se calculan según se trate de datos agrupados o no.

— **Moda**: Es el valor de la variable con mayor frecuencia absoluta. Se representa por **Mo**.

Si los datos están agrupados en intervalos, se toma como valor aproximado de la moda la marca de clase del intervalo con mayor frecuencia absoluta, que se llama **clase modal**.

Puede ocurrir que la moda no sea única, es decir, que haya más de un valor con la frecuencia máxima. Se habla entonces de distribuciones **bimodales**, **trimodales**.

Para obtener el valor de la moda, basta observar en la tabla de frecuencias co-

respondiente el valor de la variable (o el intervalo de clase si los datos están agrupados) con mayor frecuencia absoluta.

Así, para los datos de la primera tabla 3, la moda es **2**.

Número de hijos de las familias de cuarenta estudiantes de 1.º de Bachillerato

Número de hijos (x_i)	Frecuencia absoluta (n_i)
1	7
2	14
3	9
4	8
5	2

Duración (en horas) de treinta focos

Número de horas	Frecuencia absoluta (n_i)
(310, 420)	1
(420, 530)	9
(530, 640)	11
(640, 750)	5
(750, 860)	3
(860, 970)	1

En el caso de la segunda tabla 4, la clase modal es **(530, 640)** y tomaremos como valor aproximado de la moda su marca de clase: **585**.

— **Media aritmética**: Es el valor que se obtiene al dividir la suma de todos los valores de la variable entre el número total de estos. Se representa por \bar{x} .

Calculamos mediante la expresión:

$$\bar{x} = \frac{\sum_{i=1}^N x_i \cdot n_i}{N} = \sum_{i=1}^N x_i \cdot f_i$$

Así, para los datos de la tabla 3:

$$\bar{x} = \frac{1 \cdot 7 + 2 \cdot 14 + 3 \cdot 9 + 4 \cdot 8 + 5 \cdot 2}{40} = \frac{104}{40} = 2,6$$

Análogamente obtenemos, para los datos de la tabla 4, $\bar{x} = 596$.

Donde: x_i : Variable (marca de clase); n_i : Frecuencia absoluta; N : Número de datos.

— **Mediana:** Es el valor que ocupa el lugar central en un conjunto ordenado de datos. Se representa por **Me**.

El cálculo de la mediana solo tiene sentido para variables cuantitativas.

Cuando el número de datos es impar, la mediana es el valor central de la serie ordenada de datos. Si es par, no existe un valor que ocupe el lugar central de la lista, sino dos. En este caso, tomaremos como mediana el valor promedio de ambos.

Así, en la siguiente serie de datos:

20, 20, 23, 23, 25, 25, 25, 26, 29

la mediana es 25, mientras que en la serie:

20, 20, 23, 23, 24, 25, 25, 26, 29

la mediana es:

$$\frac{24 + 25}{2} = 24,5$$

Podemos obtener también la mediana a partir de la tabla de frecuencias.

Para ello, basta observar en la columna de frecuencias absolutas acumuladas si existe un valor igual a $\frac{N}{2}$.

- En este caso, la mediana es el promedio entre dicho valor y el siguiente.
- En caso contrario, la mediana es el primer valor cuya frecuencia absoluta acumulada es mayor que $\frac{N}{2}$.

Busca en Internet videos tutoriales para hallar la mediana de un conjunto de datos usando el programa excel.

Halla la mediana de los siguientes datos (estaturas de personas):

2.03m, 1.56m, 1.48m, 1.72m, 1.67m, 1.57m, 1.83m, 1.76m, 1.55m,

Ejemplo 1

Calculemos la mediana de la distribución de la siguiente tabla.

x_i	n_i	N_i
1	7	7
2	13	20
3	10	30
4	7	37
5	3	40

El número total de individuos es $N = 40$. Luego el valor de $\frac{N}{2} = \frac{40}{2} = 20$.

Existe una frecuencia absoluta acumulada que coincide exactamente con $\frac{N}{2}$.

En este caso, la mediana es el promedio entre el valor de la variable con esta frecuencia y el siguiente:

$$Me = \frac{2 + 3}{2} = 2,5$$

Ejemplo 2

Calculemos la mediana de la distribución de la siguiente tabla.

x_i	n_i	N_i
1	7	7
2	14	21
3	9	30
4	8	38
5	2	40

El número total de individuos es $N = 40$. Luego el valor de $\frac{N}{2}$ es:

$$\frac{N}{2} = \frac{40}{2} = 20$$

La primera frecuencia absoluta acumulada mayor que 20 es 21. La mediana será el valor de la variable con esta frecuencia acumulada, es decir, 2.

$$Me = 2$$

Si los datos están agrupados en intervalos, el intervalo que contiene a la mediana se denomina **clase mediana**. La marca de clase de este intervalo puede tomarse como valor aproximado de la mediana, aunque esta puede determinarse con mayor precisión a partir de la expresión:

$$Me = L_i + h \cdot \frac{\frac{N}{2} - N_{i-1}}{n_i}$$

siendo:

- L_i , el extremo inferior de la clase mediana.
- h , la amplitud de los intervalos de clase.
- N , el número de datos.
- N_{i-1} , la frecuencia absoluta acumulada del intervalo anterior a la clase mediana.
- n_i , la frecuencia absoluta de la clase mediana.

Ejemplo 3

Intervalo	Marca de clase	n_i	N_i
[310, 420)	365	1	1
[420, 530)	475	9	10
[530, 640)	585	11	21
[640, 750)	695	5	26
[750, 860)	805	3	29
[860, 970)	915	1	30

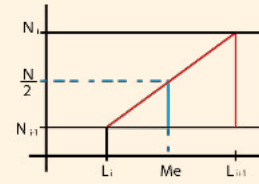
Calculemos la mediana de la distribución de la tabla sobre tiempo de duración de los focos.

En este caso $\frac{N}{2} = \frac{30}{2} = 15$ La primera frecuencia absoluta acumulada mayor que 15 es 21. Luego la clase mediana es [530, 640). Por tanto:

$$\left. \begin{array}{l} L_i = 530 \\ h = 110 \\ N = 30 \\ N_{i-1} = 10 \\ n_i = 11 \end{array} \right\} Me = 530 + 110 \cdot \frac{15 - 10}{11} = 580$$

Esto significa que la mitad de los focos tiene una duración inferior a 580 h.

El valor de la mediana se puede obtener geoméricamente aplicando el teorema de Tales a los triángulos de la figura.



Mundo Digital

Busca en Internet videos tutoriales para hallar la mediana de un conjunto de datos usando el programa excel. Halla la mediana de los siguientes datos (estaturas de personas): 2.03m, 1.56m, 1.48m, 1.72m, 1.67m, 1.57m, 1.83m, 1.76m, 1.55m,

Trabajo individual

1. Calcula la moda, la media aritmética y la mediana para los datos del ejercicio 4, página 209.
2. El número de faltas de ortografía cometidas por cuarenta estudiantes de 1.º de Bachillerato en un dictado se muestra en la siguiente tabla:

Número de faltas	0	1	2	3	4	5	6
Número de estudiantes	7	9	13	6	3	1	1

- Calcula la moda, la media aritmética y la mediana.
3. La siguiente tabla refleja la medida del tórax de un grupo de varones adultos. Calcula la moda, la media aritmética y la mediana.

Medida del tórax (cm)	Número de individuos
[80, 85)	9
[85, 90)	91
[90, 95)	509
[95, 100)	937
[100, 105)	694
[105, 110)	201
[110, 115)	31
[115, 120)	2

1.2. Medidas de dispersión para datos no agrupados

Los **parámetros de dispersión** de un conjunto de datos nos informan sobre la dispersión de los datos considerados, es decir, nos dicen si estos están más o menos separados.

Existen diferentes parámetros de dispersión. Los más utilizados son el recorrido, la desviación media, la varianza y la desviación típica.

Recorrido

Es la diferencia entre el valor máximo y el valor mínimo de la serie de datos. También se conoce como **rango** o **amplitud**, y se representa por r .

Así, si consideramos la serie de datos de la variable estadística que representa la edad de los dieciséis estudiantes de un curso de Astronomía, tenemos:

12 15 15 16 18 19 19 19 22 23 24
24 25 30 31 49

Por lo que el recorrido de esta serie de datos es:

$$r = 49 - 12 = 37$$

El recorrido es un parámetro fácil de calcular, pero que ofrece una información muy limitada. Así, nos da una idea de la amplitud del conjunto de datos, pero está muy influido por los valores extremos.

Desviación media

La desviación media es la media aritmética de las desviaciones de todos los datos respecto a su media. Se representa por D_m .

En general, escribimos abreviadamente:

$$D_m = \frac{\sum_{i=1}^N |x_i - \bar{x}|}{N}, \quad D_m = \frac{\sum |x_i - \bar{x}|}{N} \quad \text{utilizar}$$

Ejemplo 4

Calculemos la desviación media de la distribución: 5, 3, 7, 8, 5, 8, 5, 7, 9, 3, 3.

1. Calculemos la media aritmética del conjunto de datos:

$$\bar{x} = \frac{5 + 3 + 7 + 8 + 5 + 8 + 5 + 7 + 9 + 3 + 3}{11} = \frac{63}{11} = 5,7 \approx 6 \quad (\text{en la práctica no se aproxima la media aritmética})$$

2. Apliquemos la fórmula para calcular la desviación media:

$$D_m = \frac{|5-6| + |3-6| + |7-6| + |8-6| + |5-6| + |8-6| + |5-6| + |7-6| + |9-6| + |3-6| + |3-6|}{11}$$

$$D_m = \frac{1 + 3 + 1 + 2 + 1 + 2 + 1 + 1 + 3 + 3 + 3}{11} = \frac{21}{11} = 1,9$$

Trabajo individual

1. Son encuestados veinte matrimonios respecto a su número de hijos y se obtuvieron los siguientes datos:

2 ; 4 ; 2 ; 3 ; 1 ; 2 ; 4 ; 2 ; 3 ; 0 ; 2 ; 2 ; 2 ; 3 ; 2 ; 6 ; 2 ; 3 ; 2 ; 2.

Halla la desviación media.

2. Los siguientes datos muestran el número de vuelos internacionales recibidos en el aeropuerto de la ciudad de Quito durante un mes, construye una tabla de distribución de frecuencias y halla la desviación media.

10, 15, 10, 16, 15, 12, 12, 10, 15, 12, 12, 16, 10, 13, 12, 11, 10, 11, 15, 15, 16, 14, 14, 14, 10, 11, 10, 15, 15, 16.

Varianza

Nos indica la variabilidad de los datos, es decir que tan alejados están los datos de su media.

Es la media aritmética de los cuadrados de las diferencias o desviaciones de cada dato hasta la media:

Varianza poblacional (para una población):

$$\sigma^2 = \frac{\sum (x_i - \bar{x})^2}{N}$$

Varianza muestral

(para una muestra):

$$s^2 = \frac{\sum_{i=1}^N (x_i - \bar{x})}{N-1} = \frac{\sum_{i=1}^N x_i^2}{N-1} - \bar{x}^2$$

El símbolo σ es la letra griega sigma. Corresponde a la «s» de nuestro alfabeto.

Desviación típica o desviación estándar

Es sin duda la medida de dispersión más importante, ya que sirve como medida previa al cálculo de otros valores estadísticos.

Una fórmula alternativa para el cálculo de la varianza es:

$$\sigma^2 = \frac{\sum_{i=1}^N x_i^2 \cdot n_i}{N} - \bar{x}^2$$

Para obtener la varianza a partir de esta expresión, completamos la tabla de frecuencias con las siguientes columnas:

x_i	n_i	$x_i \cdot n_i$	x_i^2	$x_i^2 \cdot n_i$

La desviación típica se define como la raíz cuadrada de la media de los cuadrados de las desviaciones con respecto a la media de la distribución. Es decir: la raíz cuadrada de la varianza.

Para el caso de una población $\sigma = \sqrt{\frac{\sum |x - \bar{x}|^2}{N}}$

Para el caso de una muestra $s = \sqrt{\frac{\sum (x - \bar{x})^2}{N-1}}$

Analicemos el siguiente ejemplo:

Ejemplo 5

La muestra obtenida de las puntuaciones en un examen por grupo de estudiantes es la siguiente: 6, 8, 10, 12, 14. Hallemos la desviación estándar de la muestra.

1. Hallemos la media del conjunto de datos: $\bar{x} = \frac{6 + 8 + 10 + 12 + 14}{5} = \frac{50}{5} = 10$

2. x	6	8	10	12	14	
$ x - \bar{x} $	4	2	0	2	4	
$ x - \bar{x} ^2$	16	4	0	4	16	= 40

$$\text{Luego } s = \sqrt{\frac{40}{4}}$$

Trabajo individual

1. Las puntuaciones obtenidas por un grupo de estudiantes en un examen han sido las siguientes:

15, 20, 15, 18, 22, 13, 13, 16, 15, 19, 18, 15, 16, 20, 16, 15, 18, 16, 14, 13.

- Construye la tabla de distribución de frecuencias.
- Calcula las medidas de tendencia central de los datos.
- Halla la desviación típica.

2. El número de estrellas de los hoteles de una ciudad viene dado por la siguiente serie:

3, 3, 4, 3, 4, 3, 5, 3, 4, 3, 3, 3, 2, 5, 3, 3, 3, 2, 3, 5, 2, 3, 3, 3, 2, 5, 5, 2, 2, 3, 2, 1, 5, 1, 2, 2, 4, 5.

- Construye la tabla de distribución de frecuencias.
- Halla la calificación promedio de los hoteles según la cantidad de estrellas.
- Calcula la desviación típica.

1.3. Medidas de dispersión para datos agrupados

Cuando los datos aparecen agrupados en intervalos, los parámetros de dispersión se calculan de esta manera.

Recorrido

En caso de que los datos estén agrupados en intervalos, suele considerarse como recorrido la diferencia entre el extremo superior del último intervalo y el extremo inferior del primero.

Desviación media, varianza y desviación típica: Consideramos las marcas de clase de los diferentes intervalos como diferentes valores de la variable x_i y sus frecuencias absolutas como n_i .

Desviación media: Es la media aritmética de las desviaciones de todos los datos respecto a su media aritmética. Se representa por d_m .

En general, escribimos abreviadamente:

$$d_m = \frac{\sum_{i=1}^N |x_i - \bar{x}| \cdot n_i}{N}$$

x_i : valor de la variable n_i : frecuencia absoluta de x_i
 \bar{x} : media aritmética N : número total de datos

Ejemplo 6

Calculemos el recorrido, la desviación media, la varianza y la desviación típica de la distribución de datos que recoge la tabla.

Intervalo de clases	[100, 120)	[120, 140)	[140, 160)	[160, 180)	[180, 200)	[200, 220)
n_i	5	6	15	18	17	5

Solución

Intervalos de clase	Marca de clase x_i	Frecuencia n_i	$ x_i - \bar{x} $	$ x_i - \bar{x} \cdot n_i$
[100, 120]	110	5	55,45	277,25
[120, 140]	130	6	35,45	212,70
[140, 160]	150	15	15,45	231,75
[160, 180]	170	18	4,55	81,90
[180, 200]	190	17	24,55	417,35
[200, 220]	210	5	44,55	222,75
	$N = 66$	$N = 66$		1443,70

$$d_m = \frac{1443,70}{66} = 21,87$$

—En este caso, puesto que los datos están agrupados por intervalos, el recorrido es la diferencia entre el extremo superior de último intervalo de clase y el extremo inferior del primer intervalo de clase. Luego, $r = 220 - 110 = 120$.

—Apliquemos la fórmula correspondiente para calcular la desviación media.

$$d_m = \frac{|110 - 165,45| \cdot 5 + |130 - 165,45| \cdot 6 + |150 - 165,45| \cdot 15 + |170 - 165,45| \cdot 18 + |190 - 165,45| \cdot 17 + |210 - 165,45| \cdot 5}{66} = 21,87$$

—Apliquemos la primera de las fórmulas para calcular la varianza.

$$\sigma^2 = \frac{|110 - 165,45|^2 \cdot 5 + |130 - 165,45|^2 \cdot 6 + |150 - 165,45|^2 \cdot 15 + |170 - 165,45|^2 \cdot 18 + |190 - 165,45|^2 \cdot 17 + |210 - 165,45|^2 \cdot 5}{66} = 712,67$$

—Puesto que $\sigma^2 = 712,67$ tendremos que la desviación típica es $\sigma = \sqrt{712,67} = 26,70$.

Trabajo individual

1. Calcula la moda, la media aritmética y la mediana en la distribución de datos que aparece en esta tabla.

Intervalo de clases	[2, 8)	[8, 14)	[14, 20)	[20, 26)
n_i	6	14	7	3

2. Medidas de posición estadística

2.1. Cuartiles, deciles y percentiles

DCD. M.4.3.8. Determinar las medidas de posición: cuartiles, deciles, percentiles para resolver problemas e interpretar información referente a población presentada en varios medios de comunicación.

Hemos visto que la mediana de una distribución de datos es el valor que ocupa el lugar central (o el promedio de los valores centrales si el número de datos es par). Por tanto, este valor deja por debajo el 50% de los datos y por encima el otro 50%, es decir, divide la distribución en dos mitades iguales.

Podemos generalizar este concepto y considerar aquellos valores que dividen la distribución en cuatro partes iguales. Estos valores se denominan **cuartiles**.

— **Primer cuartil:** Es el valor de la variable que deja por debajo el 25% de los datos. Se representa por Q_1 .

— **Segundo cuartil:** Es el valor de la variable que deja por debajo el 50% de los datos. Se representa por Q_2 .

Es obvio que el segundo cuartil coincide con la mediana.

— **Tercer cuartil:** Es el valor de la variable que deja por debajo el 75% de los datos. Se representa por Q_3 .

Para calcular Q_1 y Q_3 se procede de manera análoga a como se hizo para la mediana. En el caso de datos no agrupados, basta con observar la columna correspondiente a las frecuencias absolutas acumuladas.

Se tiene:

- Si existe un valor cuya frecuencia absoluta acumulada coincide con $\frac{N}{4}$, Q_1 es el promedio entre dicho valor y el siguiente. En caso contrario, Q_1 es el primer valor que tiene una frecuencia absoluta acumulada mayor que $\frac{N}{4}$.
- Si existe un valor cuya frecuencia absoluta acumulada coincide con $\frac{3N}{4}$, Q_3 es el promedio entre dicho valor y el siguiente. En caso contrario, Q_3 es el primer valor

que tiene una frecuencia absoluta acumulada mayor que $\frac{3N}{4}$.

Si los datos están agrupados en intervalos, buscamos primero el intervalo que contiene al cuartil. Este será el primer intervalo con frecuencia absoluta acumulada mayor que $\frac{N}{4}$ en el caso de Q_1 o $\frac{3N}{4}$ en el caso de Q_3 . A continuación, sustituimos en la expresión correspondiente:

Siendo:

— L_i el extremo inferior del intervalo I que contiene a Q_1 (respectivamente a Q_3).

$$Q_1 = L_i + h \cdot \frac{\frac{N}{4} - N_{i-1}}{n_i}$$

$$Q_3 = L_i + h \cdot \frac{\frac{3N}{4} - N_{i-1}}{n_i}$$

— h la amplitud de los intervalos de clase.

— N el número de datos.

— N_{i-1} la frecuencia absoluta acumulada del intervalo anterior a I .

— n_i la frecuencia absoluta del intervalo I .

Los percentiles 10, 20, 30, ... 90 se llaman **deciles** y se representan por D_i .

Así:

$$D_1 = P_{10}, D_2 = P_{20}, \dots, D_9 = P_{90}$$

De la misma manera, podemos dividir la distribución en cien partes iguales y considerar los valores que dejan por debajo de un porcentaje determinado ($k\%$) de datos. Estos valores se denominan **percentiles** y se representan por P_k .

Para calcularlos se procede como en el caso de los cuartiles: buscamos el primer

intervalo con frecuencia absoluta acumulada mayor que $\frac{kN}{100}$ y sustituimos en la expresión:

$$P_k = L_i + h \cdot \frac{\frac{kN}{100} - N_{i-1}}{n_i}$$

Ejemplo 7

Calculemos Q_1 , Q_3 y P_{81} para los datos de la tabla.

Completemos la tabla con la columna de frecuencias absolutas acumuladas como puedes observar en la tabla de la derecha.

x_i	n_i	N_i
1	7	7
2	14	21
3	9	30
4	8	38
5	2	40

- Para calcular Q_1 , hallamos $\frac{N}{4} : \frac{N}{4} = \frac{40}{4} = 10$.

La primera frecuencia absoluta acumulada mayor que 10 es 21, que corresponde al valor 2. Luego: $Q_1 = 2$.

- Para calcular Q_3 , hallamos $\frac{3N}{4} : \frac{3N}{4} = \frac{3 \cdot 40}{4} = 30$.

Existe una frecuencia absoluta acumulada igual a 30. Luego: $Q_3 = \frac{3+4}{2} = 3,5$.

- Para calcular P_{81} , hallamos $\frac{81N}{100} : \frac{81N}{100} = \frac{81 + 40}{100} = 32,4$.

La primera frecuencia absoluta acumulada mayor que 32,4 es 38, que corresponde al valor 4. Luego $P_{81} = 4$.

Ejemplo 8

Calculemos Q_3 y P_{81} para los datos de la tabla.

Completemos la tabla 4, página 217, (que corresponde a la duración en horas) con la columna de frecuencias absolutas acumuladas como puedes observar en la tabla de la derecha.

Intervalo	Marca de clase	n_i	N_i
[310, 420)	365	1	1
[420, 530)	475	9	10
[530, 640)	585	11	21
[640, 750)	695	5	26
[750, 860)	805	3	29
[860, 970)	915	1	30

- Para calcular Q_3 , hallamos $\frac{3N}{4} : \frac{3N}{4} = \frac{3 \cdot 40}{4} = 30$.

La primera frecuencia absoluta acumulada mayor que 22,5 es 26, que corresponde al intervalo [640, 750). Luego:

$$Q_1 = L_i + h \cdot \frac{\frac{N}{4} - N_{i-1}}{n_i} = 640 + 110 \cdot \frac{22,5 - 21}{5} = 673$$

- Para calcular P_{81} , hallamos $\frac{81N}{100} : \frac{81N}{100} = \frac{81 \cdot 30}{100} = 24,3$.

Si ahora procedemos como en el caso anterior, tenemos:

$$P_{81} = 640 + 110 \cdot \frac{24,3 - 21}{5} = 712,6$$

3. Probabilidad

3.1. Definición de probabilidad

DCD. M.4.3.9. Definir la *probabilidad* (empírica) y el azar de un evento o experimento estadístico para determinar eventos o experimentos independientes.

Experimentos deterministas y experimentos aleatorios

Si observamos algunos de los experimentos o fenómenos que ocurren a nuestro alrededor, comprobaremos que, para algunos de ellos, podemos predecir o determinar el resultado.

En cambio, otros son imprevisibles, es decir, resulta prácticamente imposible predecir o determinar su resultado.

Fíjate en los siguientes experimentos y comprueba si es posible predecir el resultado o no.



<http://goo.gl/qsQfwg>

Lanzar un dado y observar la puntuación de la cara superior.



<https://goo.gl/mnlv79>

Averiguar el tiempo que tarda un automóvil en recorrer una distancia si conocemos su velocidad constante.



<http://goo.gl/dMpCGS>

Adivinar el número que saldrá premiado en el próximo sorteo de la lotería de Navidad.



<http://goo.gl/TPtb9g>

Extraer una manzana al coger una fruta de una cesta que solo contiene naranjas.

En los experimentos segundo y cuarto, podemos determinar su resultado antes de realizarlos, mientras que en el primero y en el tercero, no los podemos predecir.

Tenemos así experimentos deterministas y experimentos aleatorios.

Los **experimentos deterministas** son aquellos en los que es posible predecir el resultado antes de que se realicen.

Los **experimentos aleatorios** son aquellos en los que no es posible predecir el resultado antes de que se realicen.

Ejemplo 9

Indiquemos los sucesos elementales y el espacio muestral del experimento Lanzar un dado de seis caras.

Sucesos elementales:

$$\{1\}, \{2\}, \{3\}, \{4\}, \{5\}, \{6\}$$

Espacio muestral:

$$\Omega = \{1, 2, 3, 4, 5, 6\}$$

Trabajo individual

1. Indica cuáles de los experimentos siguientes son aleatorios y cuáles no.
 - a. Extraer una carta de una baraja española y observar de qué palo es.
 - b. Calentar una olla con agua y observar a qué temperatura hierve el agua.
 - c. Extraer una bola de una funda opaca que contiene bolas azules y observar su color.
 - d. Extraer una bola de una funda opaca que contiene bolas rojas, azules y violetas, y mirar su color.
 - e. Lanzar una moneda trucada que siempre sale cara al lanzarla.

Espacio muestral

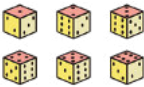


Para estudiar un experimento aleatorio, debemos conocer, en primer lugar, todos los posibles resultados que pueden darse.

Suceso elemental es cada uno de los resultados posibles que podemos obtener en un experimento aleatorio. El espacio muestral, representado por la letra Ω , es el conjunto de todos los resultados posibles de un experimento aleatorio.


Ejemplo 10

Indiquemos el espacio muestral y los sucesos elementales de cada uno de los siguientes experimentos.

- Lanzar un dado.
- Tirar una moneda.
- Elegir un color para jugar al parchís.

Experimento	Sucesos elementales	Espacio muestral
Lanzar un dado		$\Omega = \{1, 2, 3, 4, 5, 6\}$
Tirar una moneda		$\Omega = \{\text{cara, cruz}\}$
Elegir un color para jugar al parchís		$\Omega = \{\text{rojo, verde, amarillo, azul}\}$

Generalmente, al hablar de un dado, nos referimos al dado de seis caras con forma de cubo. Sin embargo, también existen dados con otras formas: tetraedro, octaedro, dodecaedro.



Sucesos

A menudo, lo que nos interesa de un experimento aleatorio es estudiar aspectos particulares de dicho experimento.

Llamamos **suceso** a cada uno de los aspectos que pueden estudiarse de un experimento aleatorio. Corresponde con una parte del espacio muestral Ω .

Ejemplo 11

Señalamos distintos sucesos en el experimento lanzar un dado y observar el resultado.

Algunos aspectos o sucesos que pueden estudiarse de este experimento son:

- Obtener un número impar.
- Obtener un número mayor que 2.
- Obtener un 4.

Los resultados que caracterizan cada uno de los sucesos son:

- Obtener un número impar, $A = \{1, 3, 5\}$.
- Obtener un número mayor que 2, $B = \{3, 4, 5, 6\}$.
- Obtener un 4, $C = \{4\}$.

Al símbolo \emptyset lo leemos «conjunto vacío» y es el conjunto que no tiene ningún elemento.

Decimos que se verifica o que ocurre un suceso cuando, al realizar un experimento, el resultado es uno de los que caracterizan este suceso.

De entre todos los sucesos que podemos definir al realizar un experimento aleatorio, hay algunos que tienen características especiales. A continuación, describiremos los más importantes: suceso seguro, suceso imposible, suceso contrario, sucesos compatibles y sucesos incompatibles.

Suceso seguro y suceso imposible

Puede ocurrir que, sea cual sea el resultado de un experimento, este suceso ocurra con absoluta certeza, o bien, que no ocurra.

Suceso seguro es el suceso que ocurre siempre que se realiza el experimento aleatorio. Coincide con el espacio muestral Ω .

Suceso imposible es el suceso que no ocurre jamás al realizar el experimento aleatorio. Lo representamos con el símbolo \emptyset .

Ejemplo 12

Señalamos un suceso seguro y uno imposible en el experimento de lanzar un dado y observar el resultado.

Consideremos el suceso A: Obtenemos un número menor o igual a 6, y escribimos el conjunto de los resultados favorables a este suceso.

$$A = \{1, 2, 3, 4, 5, 6\} = \Omega$$

Observamos que este suceso contiene todos los resultados posibles del experimento y, por tanto, coincide con el espacio muestral. Es un suceso seguro.

Si consideramos ahora el suceso B: Obtener un 7, este suceso no tiene ningún resultado favorable. Es un suceso imposible. Escribiremos: $B = \emptyset$.

Suceso contrario

En el experimento de lanzar un dado, consideramos los sucesos A: Obtener un número par, y B: Obtener un número impar, y escribimos el conjunto de los resultados favorables a cada uno de los sucesos.

$$A = \{2, 4, 6\} \quad B = \{1, 3, 5\}$$

Observa que el suceso B está formado por todos los resultados del experimento que no están en A, y por lo tanto, estos sucesos no se verifican simultáneamente.

Sea cual sea el resultado en el experimento de lanzar un dado, al suceso B lo verificaremos si no se verifica el suceso A.

El suceso contrario a un suceso A es aquel al que lo verificamos siempre y cuando no se verifica A, y se representa mediante A^c .

Sucesos compatibles y sucesos incompatibles

Si tenemos un experimento aleatorio con varios sucesos definidos, puede ocurrir que, al obtener un resultado, verifiquemos simultáneamente más de uno de los sucesos considerados.

Dos sucesos son **compatibles** si los podemos verificar a la vez. Caso contrario, son **incompatibles**.

Los sucesos compatibles tienen algún resultado en común, y los incompatibles, ninguno.

Ejemplo 13

Señalamos en el ejemplo 9 de la página 233, los sucesos compatibles, incompatibles y el suceso contrario de B.

Los sucesos A y B tienen resultados favorables comunes, 3 y 5, por lo que son sucesos compatibles.

Los sucesos B y C también son compatibles, porque tienen en común el resultado 4.

Los sucesos A y C no tienen ningún resultado en común, por lo que son incompatibles.

El suceso contrario de B es el formado por los resultados que no están en \bar{B} , es decir, $= \{1, 2\}$.

Trabajo individual

1. Escribe el espacio muestral del experimento: Tirar un dado con forma de tetraedro (fig. 1) y anota la puntuación que se obtiene.
2. Determina el espacio muestral del experimento: Sacar una bola de una funda opaca que contiene cinco bolas numeradas del 1 al 5.
3. Determina, para cada uno de los siguientes espacios muestrales, un posible experimento aleatorio realizado.
 - a. $\Omega = \{123, 124, 13, 4, 5, 6\}$
 - b. $\Omega = \{\text{rojo, amarillo, azul}\}$
 - c. $\Omega = \{cc, cx, xc, xx\}$,
 - d. $c = \text{salir cara, } x = \text{salir cruz}$

Simulaciones con computadora

Una hoja de cálculo resulta muy útil para simular experimentos aleatorios cuyos resultados posibles tienen todos ellos la misma probabilidad de ocurrir.

Simulación de quinientas tiradas de un dado

Veamos cómo generar una tabla, análoga a la de la actividad 2, que simulará quinientos lanzamientos de un dado perfectamente equilibrado.

- Abrimos el programa de la hoja de cálculo y escribimos en la celda A1 un título que indicará que en la primera columna se efectuarán las quinientas tiradas.
- En la celda A2 escribimos la fórmula: `=aleatorio.entre(1;6)`

	A	B	C
1	Resultado		
2	=aleatorio.entre(1;6)		

y el programa generará un número entero aleatorio del conjunto de todos los resultados posibles del experimento: {1, 2, 3, 4, 5, 6}, considerando que cada uno de los resultados tiene la misma probabilidad, como sucede en las tiradas de un dado equilibrado.

- De esta forma ya tenemos la primera tirada. Para simular las quinientas tiradas, copiaremos la fórmula de la celda A2, en la celda A3 y hasta la A501.

Para ello, hacemos clic con el botón izquierdo sobre el cuadradito negro de la parte inferior derecha de la celda A2 una vez activada y, manteniendo presionado el botón, arrastramos el ratón hacia abajo. Verás que las celdas que vamos marcando quedan destacadas en rojo.

Al soltar el botón del ratón, se generan números aleatorios. Si hacemos clic en alguna de estas celdas comprobaremos que aparece la fórmula que habíamos escrito en la celda A1.

1	Resultado	
2	2	
3		
4		
5		
6		
7		

	A	
1	Resultado	
2	2	
3	6	
4	4	
5	5	
6	4	
7		

En caso necesario, repetimos el procedimiento desde la última celda escrita hasta la celda 501, y obtendremos una simulación de las quinientas tiradas de un dado.

- Una vez reproducida la simulación del experimento, para construir la tabla repetimos el procedi-

miento explicado en la pág. 227, colocando el cursor en una de las celdas que contienen las notas y siguiendo la ruta Datos → Piloto de datos → Inicio, se selecciona automáticamente la lista completa y aparece un cuadro de diálogo de Selección de fuentes que aceptamos.

	A	C	D
1	Resultado	Filtro	
2	2		
3	6	Resultado	
4	4	3	80
5	5	4	82
6	4	5	94
7	3	6	77
8	1	7	87
9	3	8	100
10	1	Total Resultado	500
11	2		
12	5		
13	1		
14	5		
15	6		
16	1		
17	4		
18	1		
19	5		
20	2		
21	6		
22	5		
23	4		
	:		
	:		
495	2		
496	3		
497	6		

Al aceptar, aparece otro cuadro de diálogo que esquematiza cómo construir una tabla. En este caso, veremos que aparece un botón Resultado, que arrastramos a la zona Campos de filas.

También debemos moverlo a la zona Campos de datos. Sin embargo, en este caso, no interesa lo que aparece, Total-Resultado, sino que queremos el recuento de frecuencias absolutas. Para ello hacemos doble clic sobre el botón Total-Resultado y del cuadro con las opciones que aparecen seleccionamos Contar. Una vez escogida aparecerá Cantidad-Resultado.

Para que la tabla aparezca en la parte superior de la pantalla debemos hacer clic el botón Opciones, con lo que se abrirá un desplegable complementario del pop up, y a continuación hacemos clic con el cursor sobre la celda que queremos que aparezca pegada la tabla, y seguidamente ya podemos hacer clic Aceptar.

De nuevo podemos comprobar la versatilidad de una hoja de cálculo haciendo de forma muy sencilla nuevas simulaciones de quinientas tiradas.

En efecto, si hacemos clic Ctrl + May + F9, generaremos una nueva simulación. Y para actualizar la tabla, basta hacer clic con el botón derecho del ratón sobre la tabla y escoger, del menú desplegable que aparece, la opción Actualiza.



Operaciones con eventos: unión, intersección, diferencia

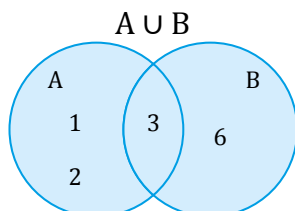
Con los sucesos de un experimento aleatorio, podemos efectuar diferentes operaciones.

Consideremos en el experimento aleatorio de lanzar un dado, los sucesos A: Obtener un número menor que 4, $A = \{1, 2, 3\}$, y B: Obtener un múltiplo de 3, $B = \{3, 6\}$.

Unión

Denominamos *unión de los sucesos A y B* al suceso formado por todos los resultados que están en A o en B. Lo representamos por $A \cup B$.

El suceso $A \cup B$ lo verificamos si se verifican A o B.

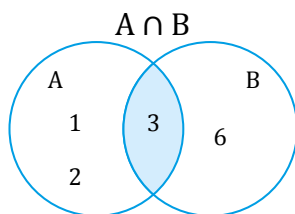


$$A \cup B = \{1, 2, 3\} \cup \{3, 6\} = \{1, 2, 3, 6\}$$

Intersección

Llamamos *intersección de los sucesos A y B* al suceso formado por todos los resultados que están en A y en B a la vez. La representamos por $A \cap B$.

Al suceso $A \cap B$ lo verificamos si se verifican simultáneamente A y B.

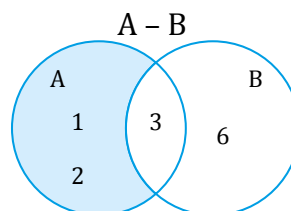


$$A \cap B = \{1, 2, 3\} \cap \{3, 6\} = \{3\}$$

Diferencia

Llamamos *diferencia entre el suceso A y el suceso B* al suceso formado por todos los resultados que están en A, pero no en B. La representamos por $A - B$.

Al suceso $A - B$ lo verificamos si se verifica A pero no se verifica B.



$$A - B = \{1, 2, 3\} - \{3, 6\} = \{1, 2\}$$

$$A \cup B = \{x \in \Omega / x \in A \vee x \in B\}$$

$$A \cap B = \{x \in \Omega / x \in A \wedge x \in B\}$$


$$A - B = \{x \in \Omega / x \in A \wedge x \notin B\}$$


$$A^c = \{x \in \Omega / x \notin A\}$$



Mundo Digital

Puedes usar tu calculadora científica para calcular la media aritmética. Para ello debes seguir estos pasos:



a. Con la tecla  deberás activar el modo de trabajo SD (de Standard Deviation o Desviación estándar).

b. Para entrar un dato lo escribirás en la pantalla y le darás a la función .

(sin él ; el modo SD ya lo activa). La calculadora te indicará con la letra n cuantos datos tienes entrados.

c. Finalmente, pulsa   y escoge $A \subset \Omega$ $\sigma P = \frac{1}{2} = 0,5$

d. x que es la forma simbólica de representar la media.

e. Para pasar a otro conjunto de datos   y escoge Scl (Stat Clear o Limpiar datos estadísticos).

Trabajo individual

1. Lanzamos un dado con forma de dodecaedro.

— Considera los sucesos A: obtener un número par; B: obtener un múltiplo de 3; y C: obtener un número mayor o igual a 7, y describe los siguientes sucesos:

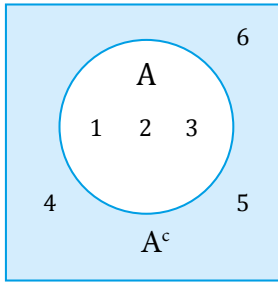
- $A \cup B$
- $B \cap C$
- $C - A$
- $A - B$

Operaciones con eventos: complemento

Complementario o contrario

Denominamos **complemento** o **contrario** del suceso A , y lo representamos con A^c , al suceso formado por todos los resultados del experimento que no están en A , es decir, la diferencia $\Omega - A$.

$$A^c = \Omega - A = \{1, 2, 3, 4, 5, 6\} - \{1, 2, 3\} = \{4, 5, 6\}$$



Al suceso A^c lo verificamos si no se verifica A .

Ejemplo 14

Extraigamos una carta de una baraja y observemos su palo. Efectuemos las siguientes operaciones con los sucesos P : sacar diamantes o corazones negros; Q : Sacar tréboles o corazones rojos; y R : Sacar corazones negros o corazones rojos.

- a. $Q \cup R$ c. $Q - P$
b. $Q \cap R$ d. \bar{R}

Si designamos los cuatro palos de la baraja por O (diamantes), C (tréboles), E (corazones rojos) y B (corazones negros), tenemos que el espacio muestral es:

$$\Omega = \{O, C, E, B\}$$

Los sucesos definidos son:

$$P = \{O, C\}; \quad Q = \{O, E, B\}; \quad R = \{C, B\}$$

De esta forma:

- a. $Q \cup R = \{O, E, B\} \cup \{C, B\} = \{O, C, E, B\}$
b. $Q \cap R = \{O, E, B\} \cap \{C, B\} = \{B\}$
c. $Q - P = \{O, E, B\} - \{O, C\} = \{E, B\}$
d. $R^c = \Omega - R = \{O, C, E, B\} - \{C, B\} = \{O, E\}$

Trabajo individual

1. Extraemos una carta de una baraja española y miramos el palo.

Considera los sucesos A : obtener una copa; B : Obtener una figura, y describe los siguientes sucesos:

- a. $A \cup B^c$
b. A^c
c. $A \cup B$
d. $A^c \cap B^c$

2. Extraemos una papeleta de una urna donde hay veinticinco papeletas numeradas del 1 al 25.

Considerando los sucesos A : obtener un número primo; y B : Obtener un número tal que la suma de sus cifras sea par, describe los siguientes sucesos:

- a. $A \cup B^c$
b. $A^c \cap B^c$
c. $A^c \cup B^c$
d. $A \cup B$

3. Indica los sucesos elementales y el espacio muestral de cada uno de los experimentos y determina de las respuestas dadas, ¿cuál es la correcta?.

Tirar una moneda y un dado simultáneamente.

- a. Moneda: $\{C, C\}$ Dado: $\{1, 2, 3, 4, 5, 6\}$
Moneda/Dado: $\Omega = \{(C, 1), (C, 2), (C, 3), (C, 4), (C, 5), (C, 6)\}$
b. Moneda: $\{+, +\}$ Dado: $\{1, 2, 3, 4, 5, 6\}$
Moneda/Dado: $\Omega = \{(+, 1), (+, 2), (+, 3), (+, 4), (+, 5), (+, 6)\}$
c. Moneda: $\{C, +\}$ Dado: $\{1, 2, 3, 4, 5, 6\}$
Moneda/Dado: $\Omega = \{(C, 1), (C, 2), (C, 3), (C, 4), (C, 5), (C, 6), (+, 1), (+, 2), (+, 3), (+, 4), (+, 5), (+, 6)\}$

4. Calcula la probabilidad del experimento aleatorio, extraer una baraja del naipes y calcula la probabilidad de los siguientes sucesos. Encuentra la respuesta correcta

- a. Obtener brillos.
b. Obtener una figura.
c. Obtener una carta menor que 5.

1. $P(A) = \frac{13}{52} = \frac{1}{4} = 0,25 = 25\%$ 2. $P(A) = \frac{13}{52} = \frac{1}{4} = 0,25 = 25\%$
 $P(B) = \frac{12}{52} = \frac{3}{13} = 0,23 = 23\%$ $P(B) = \frac{13}{52} = \frac{1}{4} = 0,25 = 25\%$
 $P(C) = \frac{16}{52} = \frac{4}{13} = 0,307 = 30,7\%$ $P(C) = \frac{16}{52} = \frac{4}{13} = 0,307 = 30,7\%$

3.2. Métodos de conteo

DCD. M.4.3.10. Aplicar métodos de conteo (combinaciones y permutaciones) en el cálculo de probabilidades.

Combinatoria

Hasta ahora, hemos efectuado el recuento de posibilidades a partir del diagrama en árbol, y hemos aplicado el principio multiplicativo en los casos en los que ha sido posible.

Sin embargo, estas técnicas no resultan prácticas cuando el número de configuraciones es elevado y, sobre todo, cuando el diagrama no es regular.

Existen técnicas de recuento de posibilidades alternativas al diagrama en árbol, no tan

intuitivas, pero mucho más prácticas. La combinatoria se ocupa de su estudio.

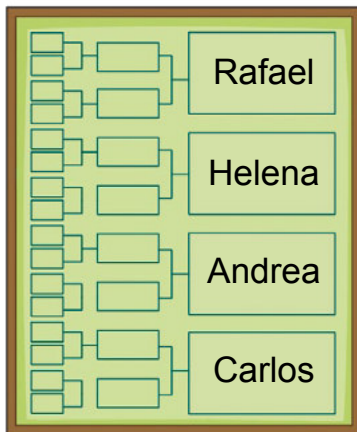
La **combinatoria** es la parte de la matemática cuyo objetivo es estudiar las configuraciones posibles en los problemas de contar, así como las técnicas necesarias para poder contarlas.

Estudiemos, a continuación, algunas de las técnicas para contar más usuales:

Variaciones, permutaciones y combinaciones.

Ejemplo 15

En un campeonato de tenis, los cuatro jugadores que han llegado a las semifinales son: Rafael, Carlos, Helena y Andrea. Si solo los finalistas reciben trofeo, ¿de cuántas maneras pueden repartirse los dos premios? Confeccionamos el diagrama en árbol para obtener el número de configuraciones posibles.



Campeón	Subcampeón	Configuración
Rafael	Carlos	Rafael - Carlos
	Helena	Rafael - Helena
	Andrea	Rafael - Andrea
Carlos	Rafael	Carlos - Rafael
	Helena	Carlos - Helena
	Andrea	Carlos - Andrea
Helena	Rafael	Helena - Rafael
	Carlos	Helena - Carlos
	Andrea	Helena - Andrea
Andrea	Rafael	Andrea - Rafael
	Carlos	Andrea - Carlos
	Helena	Andrea - Helena

Obtenemos 12 configuraciones posibles.

Fíjate en que cada configuración está formada por dos jugadores de los cuatro posibles. Importa el orden de colocación, ya que no es lo mismo quedar primero que segundo y, además, no hay repetición de premios, puesto que no puede quedar primero y segundo un mismo jugador.

Decimos que estas configuraciones son variaciones ordinarias o sin repetición de cuatro elementos tomados de dos en dos.

Trabajo individual

- Queremos pintar una bandera formada por tres franjas verticales de tres colores diferentes. Si disponemos de pintura roja, azul, gris, verde y negra, ¿cuántas banderas podemos crear?



Variaciones

En general, diremos que:

Las **variaciones ordinarias** de n elementos tomados de k en k son las diferentes configuraciones que pueden formarse eligiendo k elementos entre n disponibles, de modo que:

- Importa el orden de colocación de los elementos.
- No aparecen elementos repetidos en una misma configuración.

A partir del principio multiplicativo, obtenemos, en la situación descrita anteriormente, que el número de configuraciones es de $4 \cdot 3 = 12$.

De forma general, tendremos que el número de variaciones ordinarias de n elementos tomados de k en k , V_n, k , es el producto de los k primeros números naturales consecutivos, en orden decreciente, comenzando por n :

Observa, en el siguiente ejemplo, el cálculo del número total de variaciones ordinarias a partir de la fórmula planteada.

Solo es posible considerar variaciones ordinarias de n elementos tomados de k en k para $k \leq n$. Esto se debe a que no podemos formar configuraciones de más elementos de los que tenemos disponibles.

Trabajo individual

1. En una comunidad de 18 vecinos, ¿de cuántas maneras pueden elegirse al presidente, al tesorero y al vocal, si un vecino no puede tener más de un cargo?
2. ¿Cuántos números de cuatro cifras distintas pueden formarse con los números del conjunto $\{2, 4, 6, 8\}$?
— ¿Cuántos son menores que 6 000?

Ejemplo 16

¿Cuántos números de tres cifras distintas pueden formarse con los números del conjunto $\{0, 1, 2, 3\}$?
¿Cuántos de estos números son mayores que 230?

Importa el orden de colocación de los elementos, no intervienen todos los elementos en todas las configuraciones y no pueden repetirse los elementos. Son variaciones ordinarias de cuatro elementos tomados de 3 en 3.

$$V_{4,3} = 4 \cdot 3 \cdot 2 = 24$$

Pueden obtenerse veinticuatro números, entre los cuales hemos considerado los que empiezan por 0.

Hallamos cuántos números empiezan por 0.

$$V_{3,2} = 3 \cdot 2 = 6$$

Así, el total de números que pueden formarse es:

$$V_{4,3} - V_{3,2} = 24 - 6 = 18$$

Pueden formarse 18 números.

– Puesto que empieza por 23, son menores todas las configuraciones que:

$$\text{Empiezan por 1: } 1 _ _ \quad V_{3,2} = 3 \cdot 2 = 6$$

$$\text{Empiezan por 20: } 2 \ 0 _ \quad V_{2,1} = 2 \cdot 1 = 2$$

$$\text{Empiezan por 21: } 2 \ 1 _ \quad V_{2,1} = 2 \cdot 1 = 2$$

Por tanto, números menores que 230 hay: $6 + 2 + 2 = 10$.

Así, 230 ocupa el lugar 11. Hallamos cuántos números son mayores que 230.

$$18 - 11 = 7$$

Hay 7 números mayores que 230.

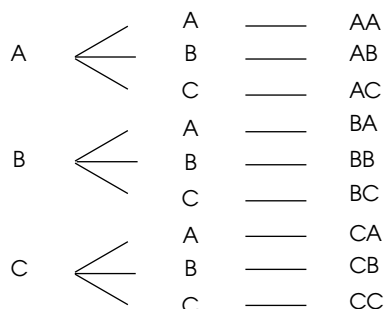
Variaciones con repetición

Es posible que, alguna vez, te hayas encontrado en una situación como la que se plantea en el siguiente ejemplo.

Ejemplo 17

En un concurso de fotografía al que se presentan tres personas, se reparten dos premios. ¿De cuántas formas diferentes pueden entregarse los trofeos si es posible que un mismo autor reciba los dos premios?

Confeccionemos el diagrama en árbol.



La clasificación de las tres personas, A, B y C, puede ser AA, AB, AC... de manera que importa el orden de colocación, porque el resultado AB es diferente al BA, y existe repetición de elementos, ya que el resultado puede ser, por ejemplo, AA.

Así, las posibles configuraciones son 9, porque para cada 3 opciones del primer premio hay 3 opciones para el segundo.

Las **variaciones con repetición** de n elementos tomados de k en k son las diferentes configuraciones que pueden formarse eligiendo k elementos entre n disponibles, de modo que:

- Importa el orden de colocación de los elementos.
- Pueden aparecer elementos repetidos en una misma configuración.

En el ejemplo anterior, a partir del principio multiplicativo, obtenemos que pueden formarse $3 \cdot 3 = 9$ configuraciones.

De forma general, tendremos que el número de variaciones con repetición de n elementos tomados de k en k , $VR_{n,k}$, es el resultado de multiplicar k veces n .

$$VR_{n,k} = n^k$$

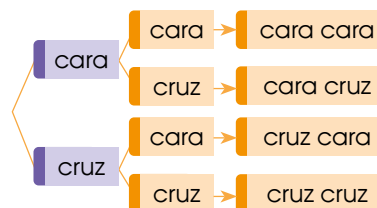
Así, aplicando la fórmula al ejemplo anterior, $VR_{3,2} = 3^2$, obtenemos las nueve posibilidades indicadas.

Mundo Digital

- Investiga en Internet sobre el espacio muestral. Puedes utilizar este enlace:
- <https://goo.gl/GrDnIR>
- <https://goo.gl/v4Qrf9>
- Responde: ¿Qué significa $AC\Omega$?

Se lanza una moneda tres veces al aire.

- Elabora un diagrama en árbol del experimento.



Cuatro sucesos elementales, $E = \{ \text{cara cara, cara cruz, cruz cara, cruz cruz} \}$

Trabajo individual

1. Cuántos números de tres cifras hay de modo que las tres cifras sean impares?
2. ¿Cuántas palabras de tres letras (con o sin sentido) pueden formarse con las letras A, B, C, D, E, F y G? ¿Cuántas comienzan por B?
3. En una fábrica se solicitan a 6 personas para trabajar en el departamento de Producción y ocho personas solicitan las vacantes. ¿De cuántas formas pueden ser llenadas las vacantes si la primera persona recibe mayor salario que la segunda?
4. En una jornada futbolística, ¿cuántas quinielas diferentes es posible rellenar? Considera que la quiniela tiene catorce partidos.
5. Una bolsa contiene cinco bolas numeradas del 1 al 5. Se extraen tres 7. bolas sucesivamente con reposición (devolviendo cada vez la bola a la bolsa). ¿Cuántos resultados distintos es posible obtener?

Permutaciones

Un caso especial de variaciones son aquellas en las que intervienen todos los n elementos disponibles, se llaman *permutaciones*. Por lo tanto:

$$P_n = V_{n, n}$$

Las **permutaciones ordinarias** de n elementos son las diferentes configuraciones que pueden formarse de manera que:

- Importa el orden de colocación de los elementos.
- No aparecen elementos repetidos en una misma configuración.
- En cada configuración intervienen todos los elementos.

Ejemplo 18

En el festival de fin de curso, los estudiantes de una clase han preparado seis canciones. ¿De cuántas maneras diferentes puede programarse el orden de actuación?

Si analizamos la situación, se observa que, en primer lugar, puede presentarse cualquiera de las seis canciones, es decir, hay 6 opciones; la segunda canción puede ser cualquiera de las cinco restantes, es decir, hay cinco opciones, y así consecutivamente hasta llegar a la sexta canción, en la que solo queda una opción.

La siguiente tabla recoge el análisis planteado anteriormente:

Primera actuación	Segunda actuación	Tercera actuación	Cuarta actuación	Quinta actuación	Sexta actuación
6 canciones	5 canciones	4 canciones	3 canciones	2 canciones	1 canción

La única diferencia entre una presentación y otra es el orden en que se disponen las canciones.

Si aplicamos el principio multiplicativo, se obtiene que las seis canciones pueden ordenarse de $6 \cdot 5 \cdot 4 \cdot 3 \cdot 2 \cdot 1 = 720$ maneras diferentes.

$$P_6 = 720$$

El producto obtenido se acostumbra a escribir, abreviadamente, $6!$, y se lee como 6 factorial o factorial de 6.

$$P_6 = 6 \cdot 5 \cdot 4 \cdot 3 \cdot 2 \cdot 1 = 6! = 720$$

En general, diremos que el número de permutaciones ordinarias de n elementos, P_n , es n factorial.

$$P_n = n! = n \cdot (n - 1) \cdot (n - 2) \cdot \dots \cdot 1$$

Trabajo individual

1. ¿De cuántas maneras pueden ordenarse 10 libros en una estantería?
2. ¿Cuántos códigos de cuatro cifras pueden formarse con los números 1, 3, 5 y 7?

Se han de colocar 5 libros distintos en la estantería de una librería. Dos libros pertenecen a la asignatura de Matemática, y los otros tres, a la de Francés. Si queremos que los libros de una misma asignatura estén juntos, ¿de cuántas maneras podemos colocarlos?

Los 2 libros de Matemática pueden ordenarse así:

$$P_2 = 2! = 2 \text{ maneras posibles}$$

Los 3 libros de Francés pueden ordenarse así:

$$P_3 = 3! = 6 \text{ maneras posibles}$$

Para cada agrupación de Matemática existen 6 posibles de Francés. Por lo tanto, si aplicamos el principio multiplicativo, tenemos:

$$P_2 \cdot P_3 = 12$$

Pero observemos la figura.



Los dos libros de Matemática pueden estar colocados delante o detrás de los de Francés, por lo que el número de posibilidades es: $2 \cdot P_3 \cdot P_2 = 24$

Por lo tanto, hay 24 maneras posibles de colocarlos.

En el caso de las permutaciones, también podemos encontrar la situación de que los elementos se repitan.

La permutación con repetición $PR_n^{n_1, \dots, n_k}$

se representa por ... , donde n_1, \dots, n_k son el número de elementos repetidos, y su fórmula es:

$$PR_n^{n_1, \dots, n_k} = \frac{n!}{n_1! \dots n_k!}$$

Su estudio se hará en cursos superiores.

Trabajo individual

1. ¿Cuántas palabras de nueve letras (con o sin sentido) pueden formarse utilizando todas las letras de la palabra universal?
2. Supongamos todos los números posibles con las cifras 2, 4, 6, 7 y 8 de manera que en cada número entren las cinco y sin repetir ninguna. ¿Cuántos de esos números tendrán la terminación impar?
3. Deben colgarse cinco vestidos distintos en un armario, de los cuales tres son cortos y dos son largos.
 - a. ¿De cuántas formas distintas pueden colgarse?
 - b. ¿De cuántas formas diferentes pueden colgarse si se quiere que los vestidos largos ocupen el primer y el último lugar?
4. Un grupo de ocho amigos está realizando un viaje en una buseta de ocho plazas. Todos disponen de carnet de conducir. ¿De cuántas maneras diferentes pueden situarse en el vehículo?

Combinaciones

Hasta ahora, en las diferentes configuraciones estudiadas, importaba el orden de colocación de los elementos, pero esto no siempre es así.

Fíjate en el siguiente ejemplo.

Ejemplo 20

Disponemos de cuatro jugos de diferentes frutas (tomate de árbol, limón, piña y mora). ¿Cuántos combinados de tres jugos se pueden hacer si entran todos en la misma proporción?

Designemos por A, L, P y M los zumos de los que disponemos.

Ingr. 1	A	L	P	M										
Ingr. 2	L	P	M	A	P	M	A	L	M	A	L	P		
Ingr. 3	P	M	L	M	L	P	P	M	A	M	A	P	L	M
Zumo	ALP	ALM	APL	APM	AML	AMP	LAP	LAM	LPA	LPM	LMA	LMP	PAL	PAM

El árbol muestra los diferentes combinados obtenidos con estos zumos. Algunos de estos combinados son idénticos, ya que la mezcla, es decir, el sabor, es el mismo porque están compuestos por los mismos zumos, pero colocados en diferente orden.

Así pues, el número de combinados con diferente sabor es de 4, que corresponden a las configuraciones ALP, ALM, APM y LPM.

Observa, en el ejemplo anterior, que el hecho de que no importe el orden de los elementos implica que el diagrama en árbol que se obtiene no sea regular.

En general:

Las **combinaciones ordinarias** de n elementos tomados de k en k son las diferentes configuraciones que pueden formarse eligiendo k elementos entre n disponibles, de modo que:

- No importa el orden de colocación de los elementos.
- No aparecen elementos repetidos en una misma configuración.

En el ejemplo anterior se han obtenido cuatro configuraciones distintas, pero, a diferencia de las variaciones y las permutaciones, en este caso, no es posible aplicar el principio multiplicativo.

Observa que las configuraciones con los mismos tres elementos en diferente orden

son una única configuración, y que hay tantas como permutaciones de tres elementos.

Esto nos permite razonar que en una combinación no tenemos que considerar la ordenación de los elementos agrupados.

Por ello, nos planteamos que:

$$CR_{4,3} = \frac{V_{4,3}}{P_3} = \frac{4 \cdot 3 \cdot 2}{3!} = 4$$

Así, podemos concluir que el número de combinaciones ordinarias de n elementos tomados de k en k , $C_{n,k}$, se obtiene dividiendo el número de variaciones ordinarias de n elementos tomados de k en k entre el número de permutaciones de k elementos:

$$C_{n,k} = \frac{V_{n,k}}{P_k}$$

Una vez definida la combinación ordinaria, veamos algunos ejemplos de aplicación.

Ejemplo 21

¿De cuántas maneras pueden extraerse simultáneamente cuatro cartas de una baraja de 48?

Las configuraciones son listas de 4 cartas elegidas entre las 48 posibles, de manera que no importa el orden de colocación, ni pueden aparecer repetidas.

Son, por lo tanto, combinaciones ordinarias de 48 elementos tomados de 4 en 4.

$$\text{Así: } CR_{48,4} = \frac{V_{48,4}}{P_4} = \frac{48 \cdot 47 \cdot 46 \cdot 45}{4!} = 194\,580 \quad \text{Hay 194 580 maneras diferentes.}$$

Ejemplo 22

¿Cuántas diagonales tiene un hexágono regular?

Una diagonal une dos vértices no adyacentes. No importa el orden de colocación de los vértices y estos no pueden repetirse. Se trata de combinaciones ordinarias.

De este resultado, tenemos que descontar las configuraciones correspondientes a los lados que unen dos vértices adyacentes.

Por lo tanto, debemos descontar 6. $15 - 6 = 9$.

$$CR_{6,2} = \frac{V_{6,2}}{P_2} = \frac{6 \cdot 5}{2!} = 15 \quad \text{Un hexágono regular tiene nueve diagonales.}$$

Ejemplo 23

Se convoca a un encuentro de médicos para tratar los avances en el trasplante de órganos. Veinte médicos son ingleses, diez franceses y quince españoles. ¿Cuántas posibles conversaciones entre dos médicos pueden producirse sin que sea necesario un cambio de idioma o de traductor?

Observamos que este problema no presenta una aplicación directa de la fórmula de combinación.

Las conversaciones posibles entre médicos ingleses son:

$$CR_{20,2} = \frac{V_{20,2}}{P_2} = \frac{20 \cdot 19}{2!} = 190$$

Las conversaciones posibles entre médicos franceses son:

$$CR_{10,2} = \frac{V_{10,2}}{P_2} = \frac{10 \cdot 9}{2!} = 45$$

Las conversaciones posibles entre médicos españoles son:

$$CR_{15,2} = \frac{V_{15,2}}{P_2} = \frac{15 \cdot 14}{2!} = 105$$

En total, obtenemos como número de conversaciones posibles la suma de todas las conversaciones, ya que cada una es independiente:

$$C_{20,2} + C_{10,2} + C_{15,2} = 340. \quad \text{Hay 340 conversaciones posibles.}$$

Trabajo individual

1. ¿De cuántas formas pueden elegirse cinco sabores de helados, sin pedir el mismo sabor más de una vez, en una cafetería que oferta diez sabores distintos?
2. Calcula el número de diagonales que tiene un dodecágono regular.

Números combinatorios. Propiedades

Tal y como acabamos de ver, $C_{n,k} = \frac{V_{n,k}}{P_k}$. Fíjate en que:

$$\begin{aligned}\frac{V_{n,k}}{P_k} &= \frac{n \cdot (n-1) \cdot \dots \cdot (n-k+1)}{k!} = \\ &= \frac{n \cdot (n-1) \cdot \dots \cdot (n-k+1) \cdot (n-k)}{k! \cdot (n-k)!} = \frac{n!}{k! \cdot (n-k)!}\end{aligned}$$

En matemática, un cociente del tipo $\frac{n!}{k! \cdot (n-k)!}$, con $k \leq n$, se representa abreviadamente por $\binom{n}{k}$, y se llama número combinatorio de n sobre k .

Así, a partir de ahora podemos escribir: $C_{n,k} = \binom{n}{k}$

Entre las propiedades de los números combinatorios, destacamos las siguientes:

- Para cualquier número natural, n , se cumple:

$$\binom{n}{1} = n \quad \binom{n}{0} = 1 \quad \binom{n}{n} = 1$$

- Para cualesquiera números naturales n y k o para $k = 0$, tales que $k \leq n$, se cumple:

$$\binom{n}{k} = \binom{n}{n-k}$$

- Para cualesquiera números naturales n y k o para $k = 0$, tales que $k \geq n$, se cumple:

$$\binom{n}{k} + \binom{n}{k+n} = \binom{n+1}{k+1}$$

Calcula: $\binom{6}{3}$

$$\binom{6}{3} = \frac{6!}{3! \cdot (6-3)!} = \frac{6 \cdot 5 \cdot 4 \cdot \cancel{3} \cdot \cancel{2} \cdot \cancel{1}}{\cancel{3} \cdot \cancel{2} \cdot \cancel{1} \cdot 3 \cdot 2 \cdot 1} = \frac{120}{6} = 20$$

Trabajo individual

1. Calcula el valor de x :

a. $\binom{x}{3} + \binom{x}{4} = \binom{6}{4}$ b. $\binom{x}{3} = 35$

2. ¿Cuántos triángulos determinan los vértices de un polígono regular de nueve lados?
3. Diana le quiere regalar a su amiga Daniela, por su cumpleaños, tres libros: uno de aventuras, otro de ciencia ficción y otro de poesía. Pero ha escogido seis que le gustan más. ¿De cuántas formas posibles puede escoger los libros?

Indicadores de evaluación

- Calcula probabilidades de eventos aleatorios empleando combinaciones y permutaciones, el cálculo del factorial de un número y el coeficiente binomial; operaciones con eventos (unión, intersección, diferencia y complemento) y las leyes de De Morgan. Valora las diferentes estrategias y explica con claridad el proceso lógico seguido en la resolución de problemas. (I.2.)(I.4.)

- 1 Con las letras de la palabra MISSISSIPPI, el número de agrupaciones tomadas entre todas sus letras son:
- 83 160
 - 191 600 640
 - 479 001 600
 - 166 320
- 2 El valor de ${}_{a+2}C_a = ?$ es?:
- $a^2 + 3a + 2$
 - $\frac{a(a+2)}{2!}$
 - $\frac{a(a+1)}{2!}$
 - $\frac{(a+2)(a+1)}{2!}$
- 3 El valor de n en $3 \cdot {}_n P_4 = {}_{n-1} P_5$ es:
- 5
 - 2
 - 10
 - 12
- 4 ¿cuántos grupos de letras de tres elementos pueden formarse, sin repetir con las letras de la palabra cartón?
- 25
 - 20
 - 18
 - 120
- 5 ¿Cuántos números de cuatro cifras distintas pueden escribirse con las cifras 0, 2, 4, 6?
- 4
 - 6
 - 18
 - 24
- 6 Si lanzamos una moneda al aire dos veces, entonces la probabilidad de obtener al menos una cara es:
- $\frac{3}{5}$
 - $\frac{6}{35}$
 - $\frac{2}{7}$
 - $\frac{3}{7}$

Autoevaluación

- Calculo probabilidades de eventos aleatorios empleando combinaciones y permutaciones, el cálculo del factorial de un número y el coeficiente binomial; operaciones con eventos (unión, intersección, diferencia y complemento) y las leyes de De Morgan. (I.2.)(I.4.)
- Valoro las diferentes estrategias y explico con claridad el proceso lógico seguido en la resolución de problemas. (I.2.)(I.4.)

Glosario

- **Aleatorio:** Depende de algún suceso fortuito, casual.
- **Dispersión:** En estadística, es la distribución de un conjunto de valores.
- **Encuesta:** Es un conjunto de preguntas dirigidas a una muestra significativa con la finalidad de obtener datos para un estudio estadístico.
- **Error:** Incertidumbre en una medida o estimación de una cantidad.
- **Experimento:** Hecho inducido o natural que provoca un resultado.
- **Fracción:** Es un número que se obtiene de dividir un entero en partes iguales. Por ejemplo, cuando decimos «una cuarta parte de la torta», estamos dividiendo la torta en cuatro partes y consideramos una de ellas.
- **Intersección:** Cruce, punto común de dos o más rectas o planos.
- **Intersección de conjuntos:** Conjunto de los elementos comunes a dos o más conjuntos.
- **Intervalo:** Porción de tiempo o de espacio que hay entre dos hechos o dos cosas, generalmente, de la misma naturaleza.
- **Lógico-matemática:** Es una rama más de la matemática que nos permite comprender sobre la validez o no de razonamientos y demostraciones que realizamos.
- **Mediatriz:** Es la perpendicular trazada desde el punto medio de un lado del triángulo. El triángulo tiene tres mediatrices.
- **Muestra:** Es una parte de la población sobre la que llevamos a cabo el estudio.
- **Notación científica:** Utiliza potencias de 10 para representar los ceros que contiene un número, ya sea antes o después de la coma.
- **Número opuesto:** Es el que sumado al número original da un valor de cero.
- **Población de un estudio estadístico:** Es el conjunto de elementos objeto del estudio. Cada uno de los elementos de la población es un individuo.
- **Probabilidad:** Razón entre el número de casos favorables en la realización de un suceso y los casos posibles, cuando todos los casos son igualmente posibles.
- **Razón:** Es la relación entre dos números o cantidades de la misma especie e indica el número de veces que la una contiene a la otra.
- **Sucesión:** Conjunto ordenado de números según cierta ley, dichos números son los términos de la sucesión.
- **Suceso:** Resultado de un experimento.
- **Tabla de verdad:** Nos permite visualizar bajo qué condiciones de las variables proposicionales una fórmula lógica toma un valor verdadero y bajo qué condiciones toma un valor falso.
- **Teorema de Tales:** Sirve para determinar si dos rectas que cortan dos rectas secantes son paralelas o no.
- **Trigonometría:** Estudio de los elementos del triángulo y el cálculo de los mismos.

Bibliografía

- Matemática 8. Serie Estrategias. Quito: Editorial Don Bosco.
- Matemática de 8.º a 1.º de Bachillerato. Serie Ingenios. Quito: Editorial Don Bosco.
- Vitutor. Disponible en: <https://www.vitutor.com>.